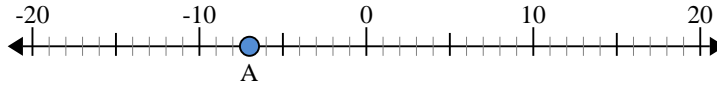


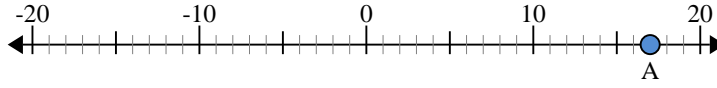


Usa la linea numerata per trovare il valore assoluto.

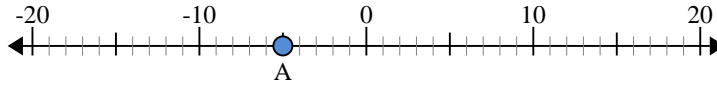
- 1) a. Qual'è il valore di 'A'?
- b. Quanto è distante 'A' dallo 0 (valore assoluto)?



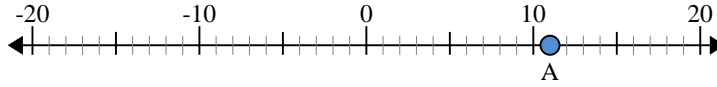
- 2) a. Qual'è il valore di 'A'?
- b. Quanto è distante 'A' dallo 0 (valore assoluto)?



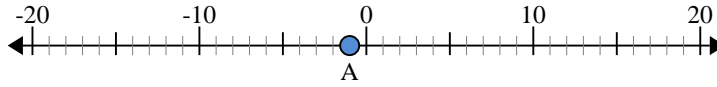
- 3) a. Qual'è il valore di 'A'?
- b. Quanto è distante 'A' dallo 0 (valore assoluto)?



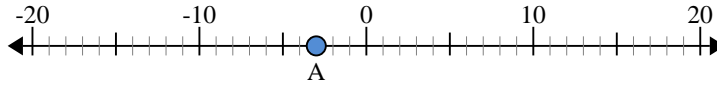
- 4) a. Qual'è il valore di 'A'?
- b. Quanto è distante 'A' dallo 0 (valore assoluto)?



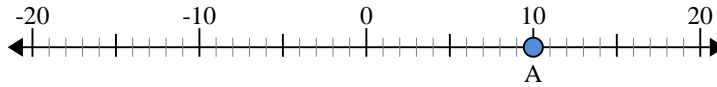
- 5) a. Qual'è il valore di 'A'?
- b. Quanto è distante 'A' dallo 0 (valore assoluto)?



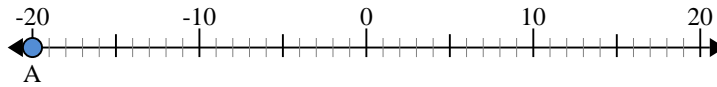
- 6) a. Qual'è il valore di 'A'?
- b. Quanto è distante 'A' dallo 0 (valore assoluto)?



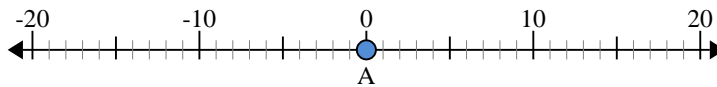
- 7) a. Qual'è il valore di 'A'?
- b. Quanto è distante 'A' dallo 0 (valore assoluto)?



- 8) a. Qual'è il valore di 'A'?
- b. Quanto è distante 'A' dallo 0 (valore assoluto)?



- 9) a. Qual'è il valore di 'A'?
- b. Quanto è distante 'A' dallo 0 (valore assoluto)?



- 10) a. Qual'è il valore di 'A'?
- b. Quanto è distante 'A' dallo 0 (valore assoluto)?



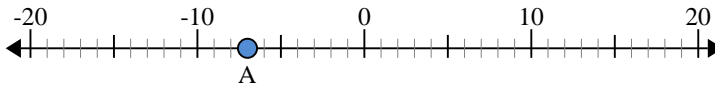
**Risposte**

1. \_\_\_\_\_
2. \_\_\_\_\_
3. \_\_\_\_\_
4. \_\_\_\_\_
5. \_\_\_\_\_
6. \_\_\_\_\_
7. \_\_\_\_\_
8. \_\_\_\_\_
9. \_\_\_\_\_
10. \_\_\_\_\_

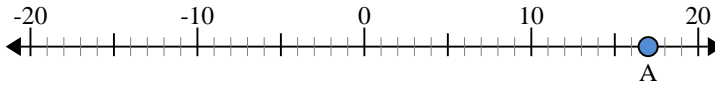


Usa la linea numerata per trovare il valore assoluto.

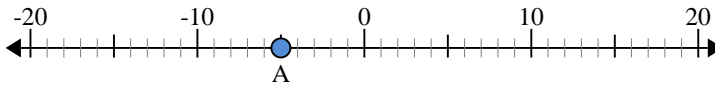
- 1) a. Qual'è il valore di 'A'?  
b. Quanto è distante 'A' dallo 0 (valore assoluto)?



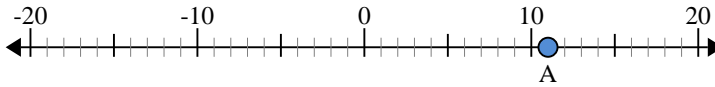
- 2) a. Qual'è il valore di 'A'?  
b. Quanto è distante 'A' dallo 0 (valore assoluto)?



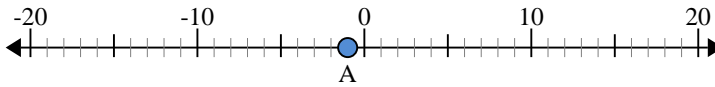
- 3) a. Qual'è il valore di 'A'?  
b. Quanto è distante 'A' dallo 0 (valore assoluto)?



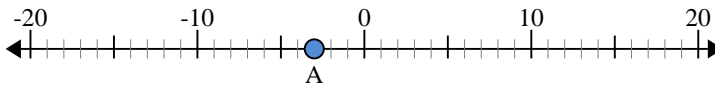
- 4) a. Qual'è il valore di 'A'?  
b. Quanto è distante 'A' dallo 0 (valore assoluto)?



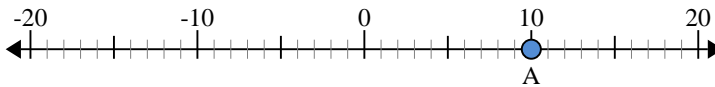
- 5) a. Qual'è il valore di 'A'?  
b. Quanto è distante 'A' dallo 0 (valore assoluto)?



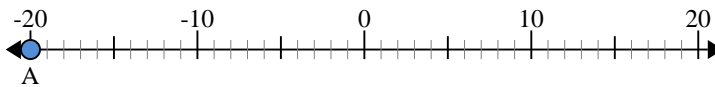
- 6) a. Qual'è il valore di 'A'?  
b. Quanto è distante 'A' dallo 0 (valore assoluto)?



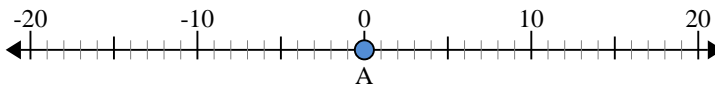
- 7) a. Qual'è il valore di 'A'?  
b. Quanto è distante 'A' dallo 0 (valore assoluto)?



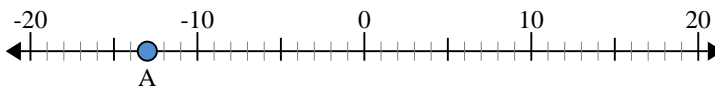
- 8) a. Qual'è il valore di 'A'?  
b. Quanto è distante 'A' dallo 0 (valore assoluto)?



- 9) a. Qual'è il valore di 'A'?  
b. Quanto è distante 'A' dallo 0 (valore assoluto)?



- 10) a. Qual'è il valore di 'A'?  
b. Quanto è distante 'A' dallo 0 (valore assoluto)?



**Risposte**

- |     |            |           |
|-----|------------|-----------|
| 1.  | <u>-7</u>  | <u>7</u>  |
| 2.  | <u>17</u>  | <u>17</u> |
| 3.  | <u>-5</u>  | <u>5</u>  |
| 4.  | <u>11</u>  | <u>11</u> |
| 5.  | <u>-1</u>  | <u>1</u>  |
| 6.  | <u>-3</u>  | <u>3</u>  |
| 7.  | <u>10</u>  | <u>10</u> |
| 8.  | <u>-20</u> | <u>20</u> |
| 9.  | <u>0</u>   | <u>0</u>  |
| 10. | <u>-13</u> | <u>13</u> |