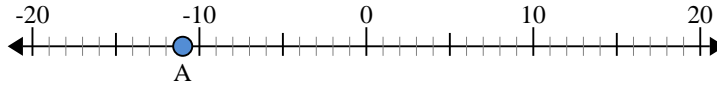


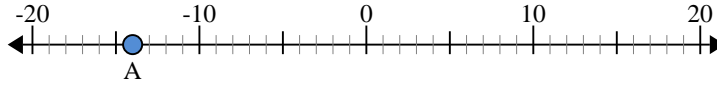


Usa la linea numerata per trovare il valore assoluto.

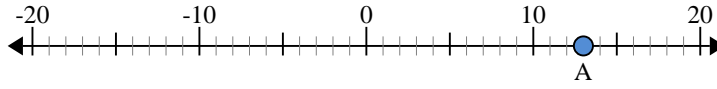
- 1) a. Qual'è il valore di 'A'?
- b. Quanto è distante 'A' dallo 0 (valore assoluto)?



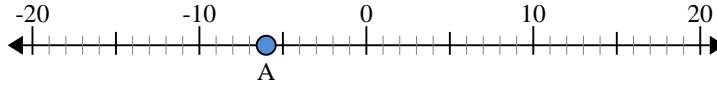
- 2) a. Qual'è il valore di 'A'?
- b. Quanto è distante 'A' dallo 0 (valore assoluto)?



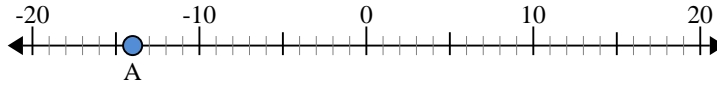
- 3) a. Qual'è il valore di 'A'?
- b. Quanto è distante 'A' dallo 0 (valore assoluto)?



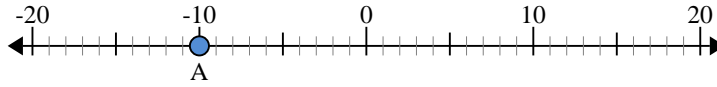
- 4) a. Qual'è il valore di 'A'?
- b. Quanto è distante 'A' dallo 0 (valore assoluto)?



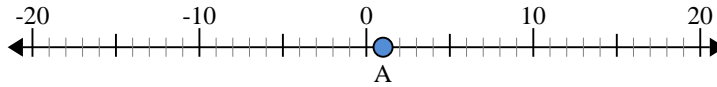
- 5) a. Qual'è il valore di 'A'?
- b. Quanto è distante 'A' dallo 0 (valore assoluto)?



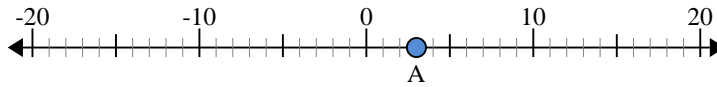
- 6) a. Qual'è il valore di 'A'?
- b. Quanto è distante 'A' dallo 0 (valore assoluto)?



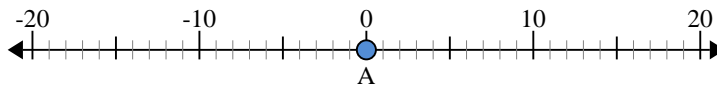
- 7) a. Qual'è il valore di 'A'?
- b. Quanto è distante 'A' dallo 0 (valore assoluto)?



- 8) a. Qual'è il valore di 'A'?
- b. Quanto è distante 'A' dallo 0 (valore assoluto)?



- 9) a. Qual'è il valore di 'A'?
- b. Quanto è distante 'A' dallo 0 (valore assoluto)?



- 10) a. Qual'è il valore di 'A'?
- b. Quanto è distante 'A' dallo 0 (valore assoluto)?



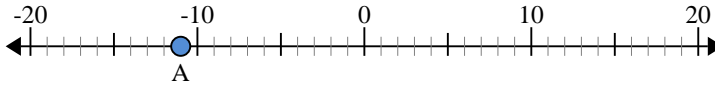
**Risposte**

1. \_\_\_\_\_
2. \_\_\_\_\_
3. \_\_\_\_\_
4. \_\_\_\_\_
5. \_\_\_\_\_
6. \_\_\_\_\_
7. \_\_\_\_\_
8. \_\_\_\_\_
9. \_\_\_\_\_
10. \_\_\_\_\_

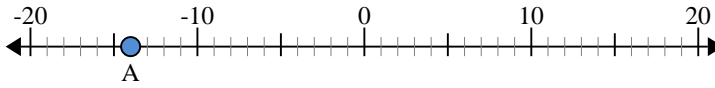


Usa la linea numerata per trovare il valore assoluto.

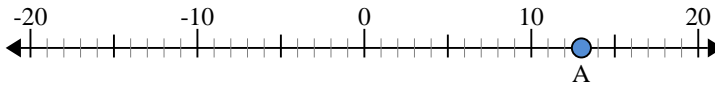
- 1) a. Qual'è il valore di 'A'?  
b. Quanto è distante 'A' dallo 0 (valore assoluto)?



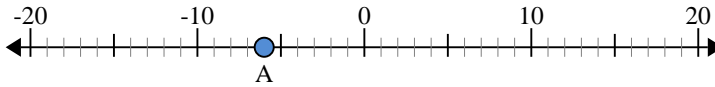
- 2) a. Qual'è il valore di 'A'?  
b. Quanto è distante 'A' dallo 0 (valore assoluto)?



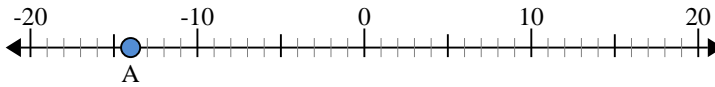
- 3) a. Qual'è il valore di 'A'?  
b. Quanto è distante 'A' dallo 0 (valore assoluto)?



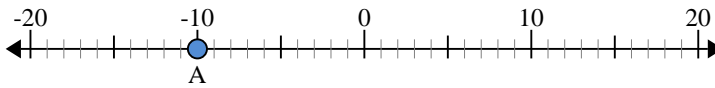
- 4) a. Qual'è il valore di 'A'?  
b. Quanto è distante 'A' dallo 0 (valore assoluto)?



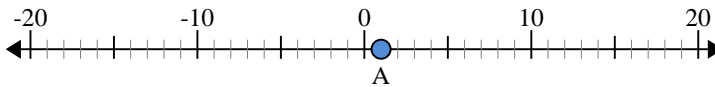
- 5) a. Qual'è il valore di 'A'?  
b. Quanto è distante 'A' dallo 0 (valore assoluto)?



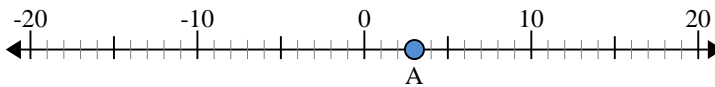
- 6) a. Qual'è il valore di 'A'?  
b. Quanto è distante 'A' dallo 0 (valore assoluto)?



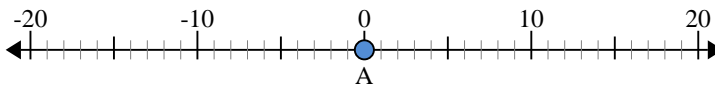
- 7) a. Qual'è il valore di 'A'?  
b. Quanto è distante 'A' dallo 0 (valore assoluto)?



- 8) a. Qual'è il valore di 'A'?  
b. Quanto è distante 'A' dallo 0 (valore assoluto)?



- 9) a. Qual'è il valore di 'A'?  
b. Quanto è distante 'A' dallo 0 (valore assoluto)?



- 10) a. Qual'è il valore di 'A'?  
b. Quanto è distante 'A' dallo 0 (valore assoluto)?



**Risposte**

1.	<u>-11</u>	<u>11</u>
2.	<u>-14</u>	<u>14</u>
3.	<u>13</u>	<u>13</u>
4.	<u>-6</u>	<u>6</u>
5.	<u>-14</u>	<u>14</u>
6.	<u>-10</u>	<u>10</u>
7.	<u>1</u>	<u>1</u>
8.	<u>3</u>	<u>3</u>
9.	<u>0</u>	<u>0</u>
10.	<u>8</u>	<u>8</u>