



confronta la lunghezza delle coppie.

1) Quanto è più lungo A di B (in pollici)?



2) Quanto è più lungo B di A (in pollici)?



3) Quanto è più lungo A di B (in pollici)?



4) Quanto è più lungo B di A (in pollici)?



5) Quanto è più lungo A di B (in pollici)?



6) Quanto è più lungo A di B (in centimetri)?



7) Quanto è più lungo A di B (in centimetri)?



8) Quanto è più lungo B di A (in centimetri)?



9) Quanto è più lungo B di A (in centimetri)?



10) Quanto è più lungo B di A (in centimetri)?



Risposte

1. _____

2. _____

3. _____

4. _____

5. _____

6. _____

7. _____

8. _____

9. _____

10. _____

In		1		2		3		4		5		6		7				
Cm	1	2	3	4	5	6	7	8	9	10	11	12	13	14	15	16	17	18
In		1		2		3		4		5		6		7				
Cm	1	2	3	4	5	6	7	8	9	10	11	12	13	14	15	16	17	18
In		1		2		3		4		5		6		7				
Cm	1	2	3	4	5	6	7	8	9	10	11	12	13	14	15	16	17	18
In		1		2		3		4		5		6		7				
Cm	1	2	3	4	5	6	7	8	9	10	11	12	13	14	15	16	17	18
In		1		2		3		4		5		6		7				
Cm	1	2	3	4	5	6	7	8	9	10	11	12	13	14	15	16	17	18
In		1		2		3		4		5		6		7				
Cm	1	2	3	4	5	6	7	8	9	10	11	12	13	14	15	16	17	18
In		1		2		3		4		5		6		7				
Cm	1	2	3	4	5	6	7	8	9	10	11	12	13	14	15	16	17	18
In		1		2		3		4		5		6		7				
Cm	1	2	3	4	5	6	7	8	9	10	11	12	13	14	15	16	17	18
In		1		2		3		4		5		6		7				
Cm	1	2	3	4	5	6	7	8	9	10	11	12	13	14	15	16	17	18



confronta la lunghezza delle coppie.

1) Quanto è più lungo A di B (in pollici)?



2) Quanto è più lungo B di A (in pollici)?



3) Quanto è più lungo A di B (in pollici)?




4) Quanto è più lungo B di A (in pollici)?





5) Quanto è più lungo A di B (in pollici)?



6) Quanto è più lungo A di B (in centimetri)?



7) Quanto è più lungo A di B (in centimetri)?



8) Quanto è più lungo B di A (in centimetri)?



9) Quanto è più lungo B di A (in centimetri)?



10) Quanto è più lungo B di A (in centimetri)?



Risposte

1. 4

2. 2

3. 2

4. 4

5. 1

6. 5

7. 3

8. 8

9. 4

10. 11