



confronta la lunghezza delle coppie.

Risposte

1) Quanto è più lungo B di A (in pollici)?

A. 

B. 

1. _____

2) Quanto è più lungo B di A (in pollici)?

A. 

B. 

2. _____

3) Quanto è più lungo A di B (in pollici)?

A. 

B. 

3. _____


4) Quanto è più lungo A di B (in pollici)?


A. 

B. 

4. _____

5) Quanto è più lungo A di B (in pollici)?

A. 

B. 

5. _____

6) Quanto è più lungo A di B (in centimetri)?

A. 

B. 

6. _____

7) Quanto è più lungo A di B (in centimetri)?

A. 

B. 

7. _____

8) Quanto è più lungo A di B (in centimetri)?

A. 

B. 

8. _____

9) Quanto è più lungo A di B (in centimetri)?

A. 

B. 

9. _____

10) Quanto è più lungo A di B (in centimetri)?

A. 

B. 

10. _____


10. _____


In		1		2		3		4		5		6		7				
Cm	1	2	3	4	5	6	7	8	9	10	11	12	13	14	15	16	17	18
In		1		2		3		4		5		6		7				
Cm	1	2	3	4	5	6	7	8	9	10	11	12	13	14	15	16	17	18
In		1		2		3		4		5		6		7				
Cm	1	2	3	4	5	6	7	8	9	10	11	12	13	14	15	16	17	18
In		1		2		3		4		5		6		7				
Cm	1	2	3	4	5	6	7	8	9	10	11	12	13	14	15	16	17	18
In		1		2		3		4		5		6		7				
Cm	1	2	3	4	5	6	7	8	9	10	11	12	13	14	15	16	17	18
In		1		2		3		4		5		6		7				
Cm	1	2	3	4	5	6	7	8	9	10	11	12	13	14	15	16	17	18
In		1		2		3		4		5		6		7				
Cm	1	2	3	4	5	6	7	8	9	10	11	12	13	14	15	16	17	18
In		1		2		3		4		5		6		7				
Cm	1	2	3	4	5	6	7	8	9	10	11	12	13	14	15	16	17	18
In		1		2		3		4		5		6		7				
Cm	1	2	3	4	5	6	7	8	9	10	11	12	13	14	15	16	17	18



confronta la lunghezza delle coppie.


1) Quanto è più lungo B di A (in pollici)?

A. 

B. 

2) Quanto è più lungo B di A (in pollici)?

A. 

B. 

3) Quanto è più lungo A di B (in pollici)?

A. 


B. 


4) Quanto è più lungo A di B (in pollici)?

A. 


B. 


5) Quanto è più lungo A di B (in pollici)?

A. 

B. 

6) Quanto è più lungo A di B (in centimetri)?

A. 

B. 

7) Quanto è più lungo A di B (in centimetri)?

A. 

B. 

8) Quanto è più lungo A di B (in centimetri)?

A. 

B. 

9) Quanto è più lungo A di B (in centimetri)?

A. 

B. 

10) Quanto è più lungo A di B (in centimetri)?

A. 

B. 

Risposte

1. 1

2. 3

3. 1

4. 3

5. 1

6. 10

7. 3

8. 1

9. 3

10. 7