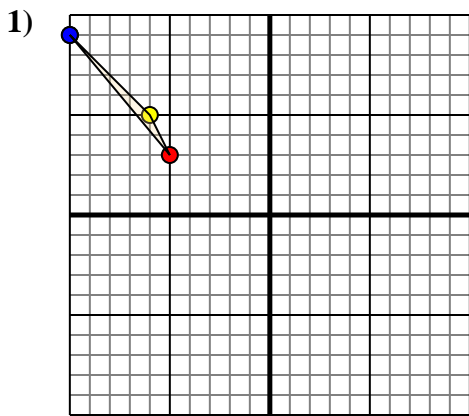




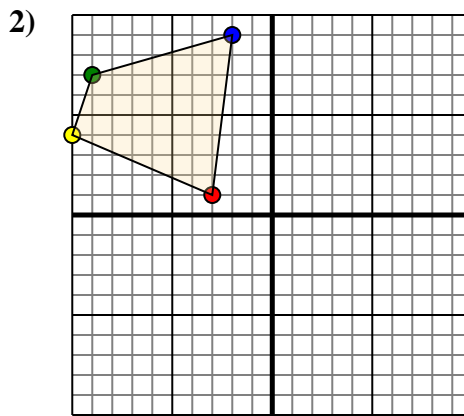
Trasla ogni forma come richiesto.



La figura qui sopra ha le seguenti coordinate:

- A. (-5;3)
- B. (-6;5)
- C. (-10;9)

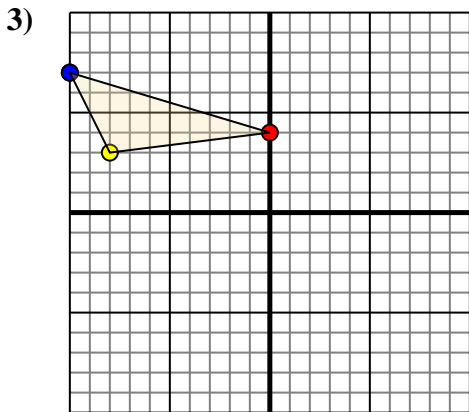
Sposta la figura di 7 unità verso destra e 8 unità verso su.



La figura qui sopra ha le seguenti coordinate:

- A. (-3;1)
- B. (-10;4)
- C. (-9;7)
- D. (-2;9)

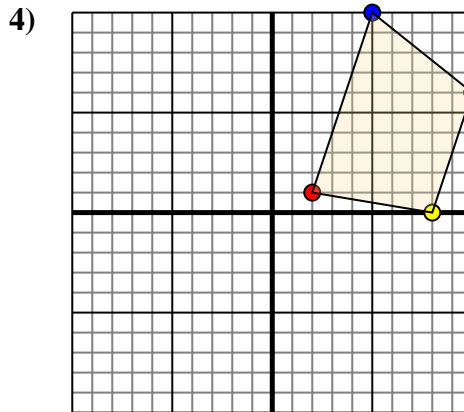
Sposta la figura di 3 unità verso destra e 8 unità verso su.



La figura qui sopra ha le seguenti coordinate:

- A. (0;4)
- B. (-8;3)
- C. (-10;7)

Sposta la figura di 3 unità verso destra e 7 unità verso su.



La figura qui sopra ha le seguenti coordinate:

- A. (2;1)
- B. (8;0)
- C. (10;6)
- D. (5;10)

Sposta la figura di 9 unità verso sinistra e 5 unità verso su.

Risposte

1a. _____

1b. _____

1c. _____

Grafico

1. _____

2a. _____

2b. _____

2c. _____

2d. _____

Grafico

2. _____

3a. _____

3b. _____

3c. _____

Grafico

3. _____

4a. _____

4b. _____

4c. _____

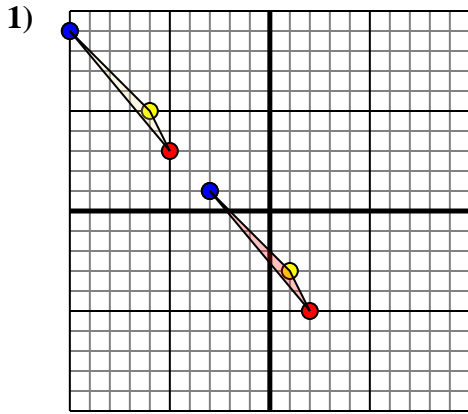
4d. _____

Grafico

4. _____



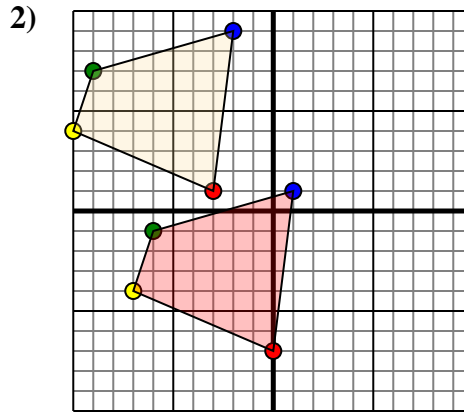
Trasla ogni forma come richiesto.



La figura qui sopra ha le seguenti coordinate:

- A. (-5;3)
- B. (-6;5)
- C. (-10;9)

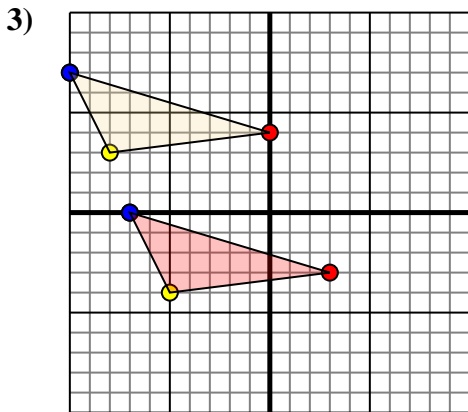
Sposta la figura di 7 unità verso destra e 8 unità verso su.



La figura qui sopra ha le seguenti coordinate:

- A. (-3;1)
- B. (-10;4)
- C. (-9;7)
- D. (-2;9)

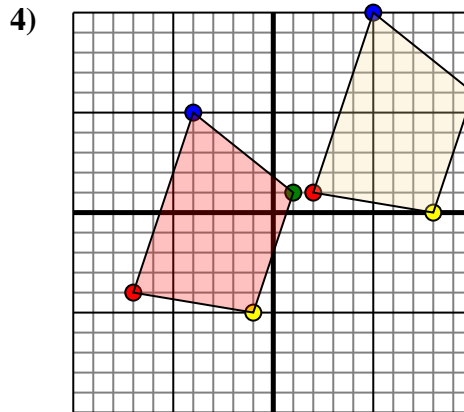
Sposta la figura di 3 unità verso destra e 8 unità verso su.



La figura qui sopra ha le seguenti coordinate:

- A. (0;4)
- B. (-8;3)
- C. (-10;7)

Sposta la figura di 3 unità verso destra e 7 unità verso su.



La figura qui sopra ha le seguenti coordinate:

- A. (2;1)
- B. (8;0)
- C. (10;6)
- D. (5;10)

Sposta la figura di 9 unità verso sinistra e 5 unità verso su.

Risposte

1a. (2;-5)

1b. (1;-3)

1c. (-3;1)

1. Grafico

2a. (0;-7)

2b. (-7;-4)

2c. (-6;-1)

2d. (1;1)

2. Grafico

3a. (3;-3)

3b. (-5;-4)

3c. (-7;0)

3. Grafico

4a. (-7;-4)

4b. (-1;-5)

4c. (1;1)

4d. (-4;5)

4. Grafico