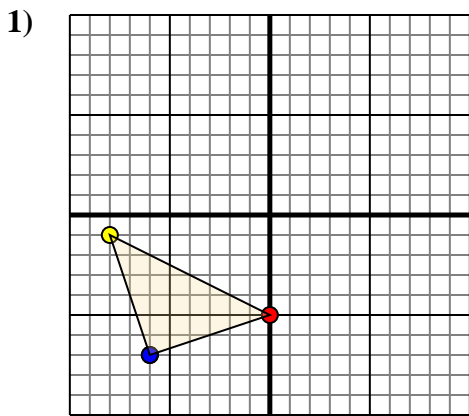




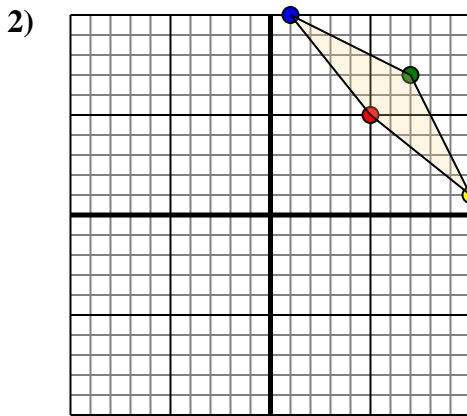
Trasla ogni forma come richiesto.



La figura qui sopra ha le seguenti coordinate:

- A. (0;-5)
- B. (-8;-1)
- C. (-6;-7)

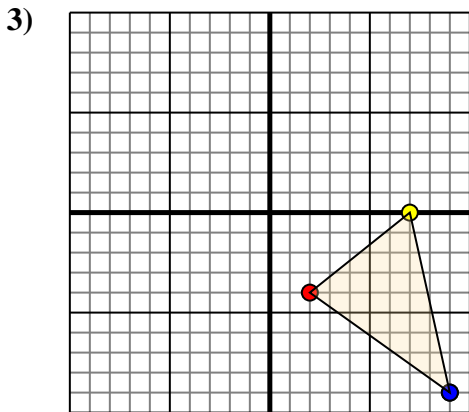
Sposta la figura di 6 unità verso destra e 4 unità verso giù.



La figura qui sopra ha le seguenti coordinate:

- A. (5;5)
- B. (10;1)
- C. (7;7)
- D. (1;10)

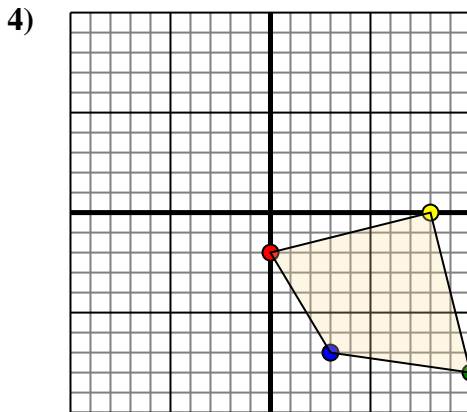
Sposta la figura di 3 unità verso sinistra e 6 unità verso su.



La figura qui sopra ha le seguenti coordinate:

- A. (2;-4)
- B. (7;0)
- C. (9;-9)

Sposta la figura di 9 unità verso sinistra e 8 unità verso giù.



La figura qui sopra ha le seguenti coordinate:

- A. (0;-2)
- B. (8;0)
- C. (10;-8)
- D. (3;-7)

Sposta la figura di 8 unità verso sinistra e 9 unità verso giù.

Risposte

1a. _____

1b. _____

1c. _____

Grafico

1. _____

2a. _____

2b. _____

2c. _____

2d. _____

Grafico

2. _____

3a. _____

3b. _____

3c. _____

Grafico

3. _____

4a. _____

4b. _____

4c. _____

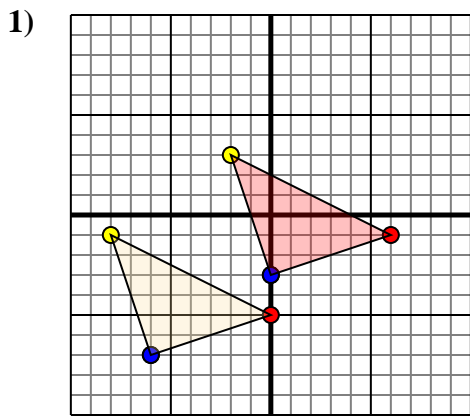
4d. _____

Grafico

4. _____



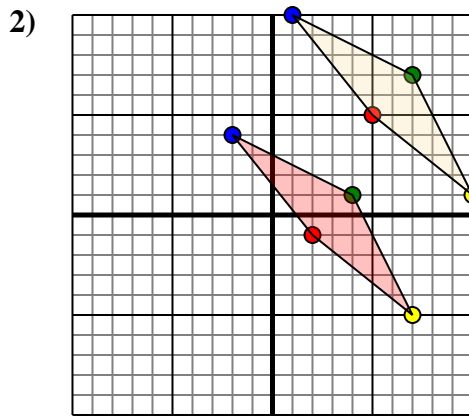
Trasla ogni forma come richiesto.



La figura qui sopra ha le seguenti coordinate:

- A. (0;-5)
- B. (-8;-1)
- C. (-6;-7)

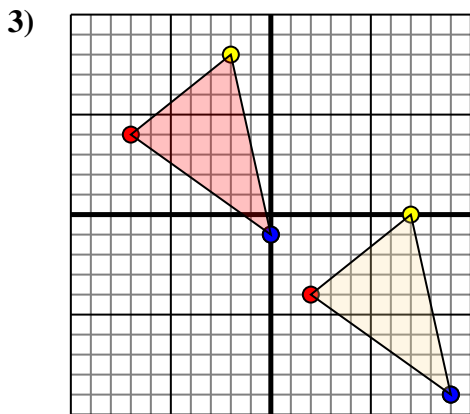
Sposta la figura di 6 unità verso destra e 4 unità verso giù.



La figura qui sopra ha le seguenti coordinate:

- A. (5;5)
- B. (10;1)
- C. (7;7)
- D. (1;10)

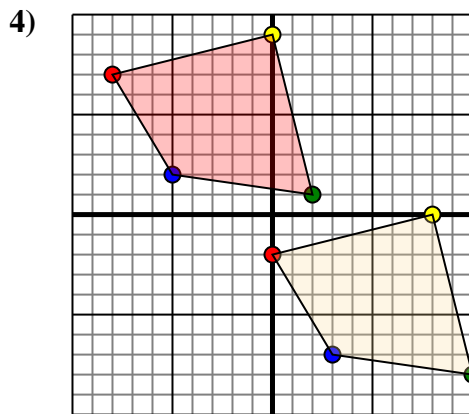
Sposta la figura di 3 unità verso sinistra e 6 unità verso su.



La figura qui sopra ha le seguenti coordinate:

- A. (2;-4)
- B. (7;0)
- C. (9;-9)

Sposta la figura di 9 unità verso sinistra e 8 unità verso giù.



La figura qui sopra ha le seguenti coordinate:

- A. (0;-2)
- B. (8;0)
- C. (10;-8)
- D. (3;-7)

Sposta la figura di 8 unità verso sinistra e 9 unità verso giù.

Risposte

1a. **(6;-1)**

1b. **(-2;3)**

1c. **(0;-3)**

1. **Grafico**

2a. **(2;-1)**

2b. **(7;-5)**

2c. **(4;1)**

2d. **(-2;4)**

2. **Grafico**

3a. **(-7;4)**

3b. **(-2;8)**

3c. **(0;-1)**

3. **Grafico**

4a. **(-8;7)**

4b. **(0;9)**

4c. **(2;1)**

4d. **(-5;2)**

4. **Grafico**