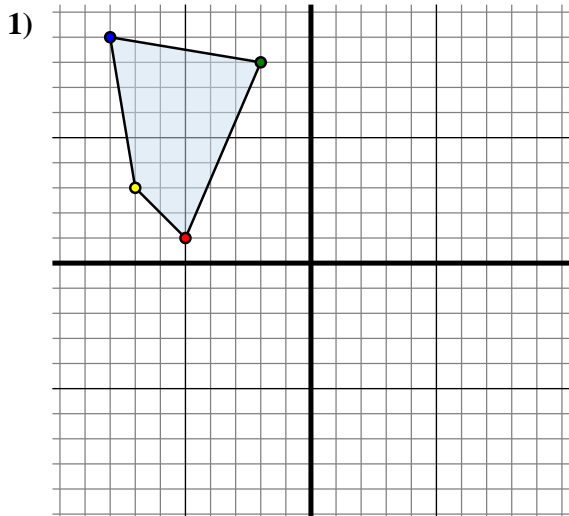




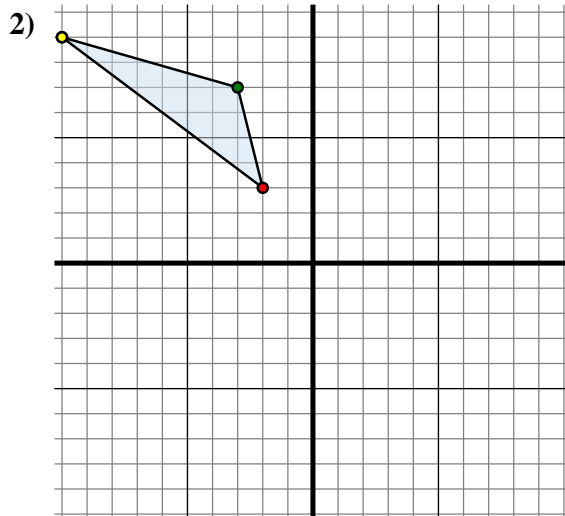
Trasla ogni forma come richiesto.



La figura qui sopra ha le seguenti coordinate:

- A. (-5 ; 1)
- B. (-2 ; 8)
- C. (-8 ; 9)
- D. (-7 ; 3)

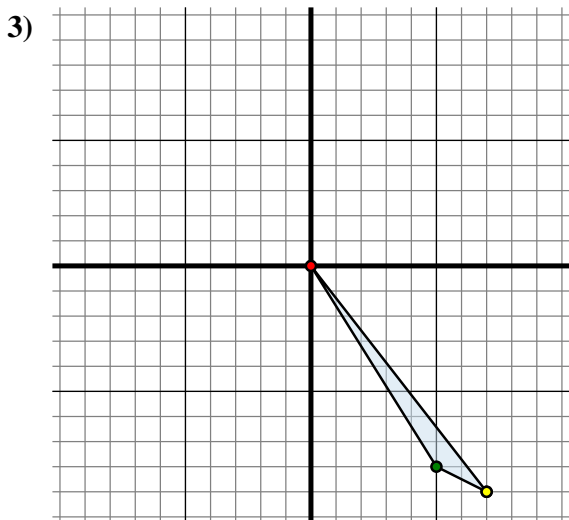
Sposta la figura di 5 unità verso destra e 1 unità verso su.



La figura qui sopra ha le seguenti coordinate:

- A. (-2 ; 3)
- B. (-3 ; 7)
- C. (-10 ; 9)

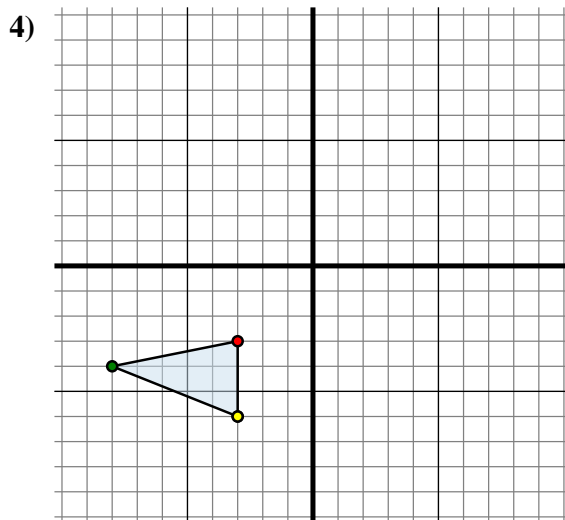
Sposta la figura di 10 unità verso destra e 2 unità verso giù.



La figura qui sopra ha le seguenti coordinate:

- A. (0 ; 0)
- B. (5 ; -8)
- C. (7 ; -9)

Sposta la figura di 2 unità verso sinistra e 5 unità verso su.



La figura qui sopra ha le seguenti coordinate:

- A. (-3 ; -3)
- B. (-8 ; -4)
- C. (-3 ; -6)

Sposta la figura di 8 unità verso destra e 9 unità verso su.

Risposte

1A. (0 ; 2)

1B. _____

1C. _____

1D. _____

1G. Grafico

2A. _____

2B. _____

2C. _____

2G. Grafico

3A. _____

3B. _____

3C. _____

3G. Grafico

4A. _____

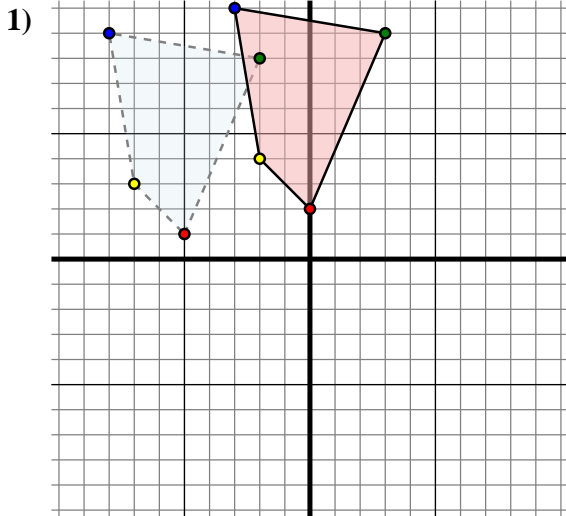
4B. _____

4C. _____

4G. Grafico



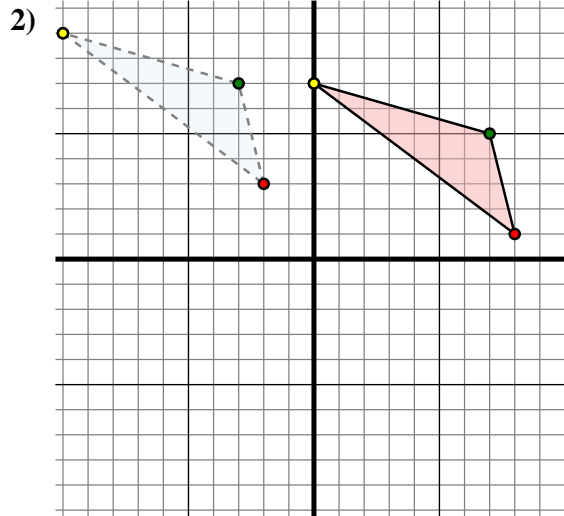
Trasla ogni forma come richiesto.



The shape above has the following coordinates:

- A. (-5 ; 1)
- B. (-2 ; 8)
- C. (-8 ; 9)
- D. (-7 ; 3)

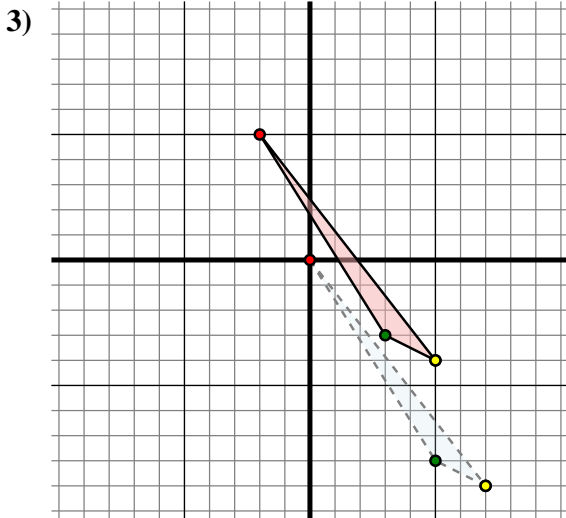
Sposta la figura di 5 unità verso destra e 1 unità verso su.



The shape above has the following coordinates:

- A. (-2 ; 3)
- B. (-3 ; 7)
- C. (-10 ; 9)

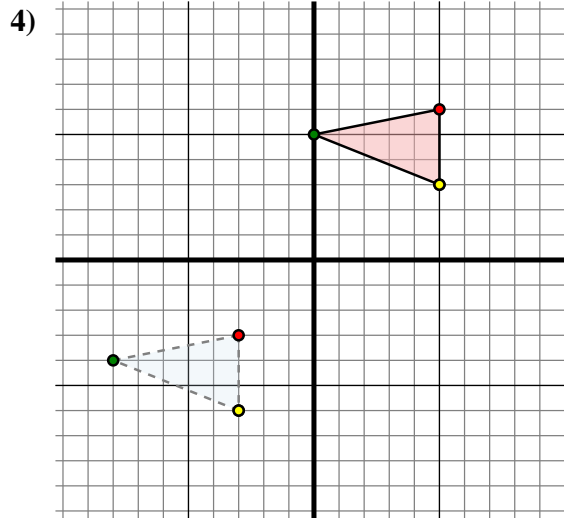
Sposta la figura di 10 unità verso destra e 2 unità verso giù.



The shape above has the following coordinates:

- A. (0 ; 0)
- B. (5 ; -8)
- C. (7 ; -9)

Sposta la figura di 2 unità verso sinistra e 5 unità verso su.



The shape above has the following coordinates:

- A. (-3 ; -3)
- B. (-8 ; -4)
- C. (-3 ; -6)

Sposta la figura di 8 unità verso destra e 9 unità verso su.

Risposte

1A. **(0 ; 2)**

1B. **(3 ; 9)**

1C. **(-3 ; 10)**

1D. **(-2 ; 4)**

1G. **Grafico**

2A. **(8 ; 1)**

2B. **(7 ; 5)**

2C. **(0 ; 7)**

2G. **Grafico**

3A. **(-2 ; 5)**

3B. **(3 ; -3)**

3C. **(5 ; -4)**

3G. **Grafico**

4A. **(5 ; 6)**

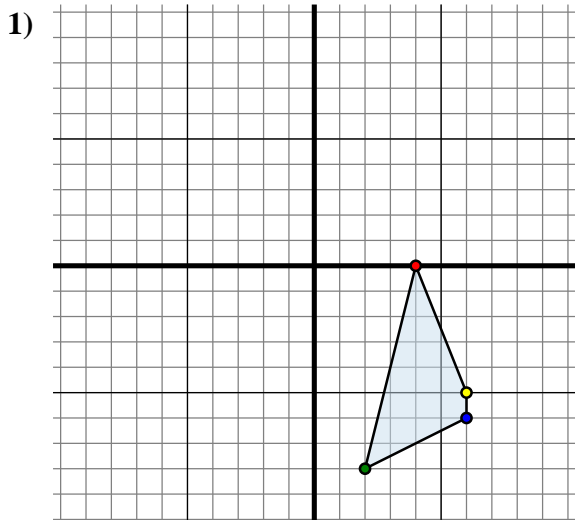
4B. **(0 ; 5)**

4C. **(5 ; 3)**

4G. **Grafico**



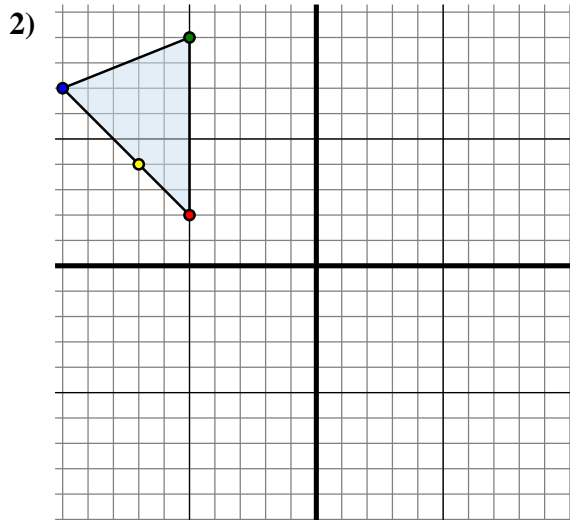
Trasla ogni forma come richiesto.



La figura qui sopra ha le seguenti coordinate:

- A. (4 ; 0)
- B. (2 ; -8)
- C. (6 ; -6)
- D. (6 ; -5)

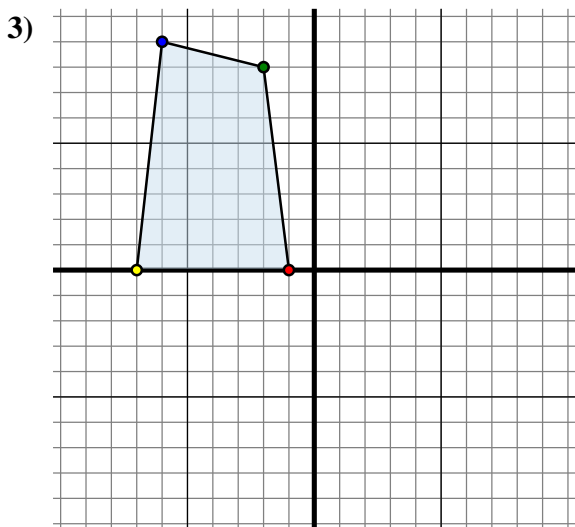
Sposta la figura di 6 unità verso sinistra e 7 unità verso su.



La figura qui sopra ha le seguenti coordinate:

- A. (-5 ; 2)
- B. (-5 ; 9)
- C. (-10 ; 7)
- D. (-7 ; 4)

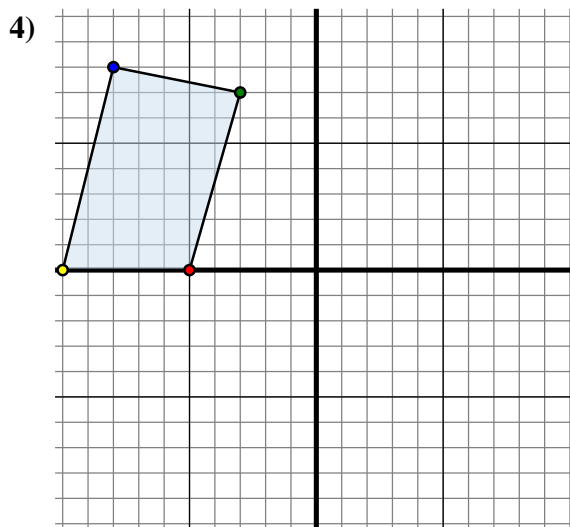
Sposta la figura di 0 unità verso sinistra e 12 unità verso giù.



La figura qui sopra ha le seguenti coordinate:

- A. (-1 ; 0)
- B. (-2 ; 8)
- C. (-6 ; 9)
- D. (-7 ; 0)

Sposta la figura di 8 unità verso destra e 1 unità verso giù.



La figura qui sopra ha le seguenti coordinate:

- A. (-5 ; 0)
- B. (-3 ; 7)
- C. (-8 ; 8)
- D. (-10 ; 0)

Sposta la figura di 4 unità verso destra e 1 unità verso giù.

Risposte

1A. (-2 ; 7)

1B. _____

1C. _____

1D. _____

1G. Grafico

2A. _____

2B. _____

2C. _____

2D. _____

2G. Grafico

3A. _____

3B. _____

3C. _____

3D. _____

3G. Grafico

4A. _____

4B. _____

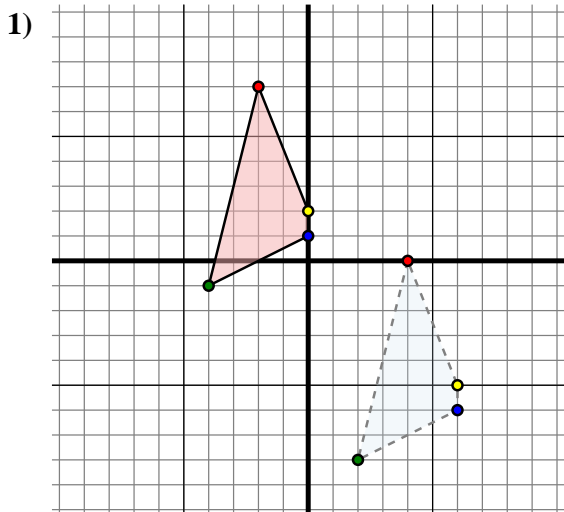
4C. _____

4D. _____

4G. Grafico



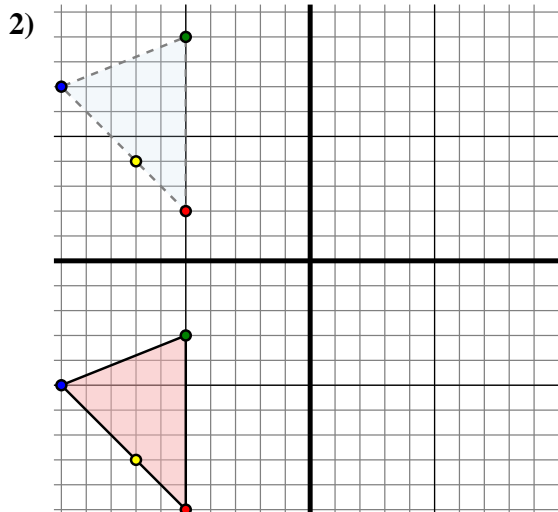
Trasla ogni forma come richiesto.



The shape above has the following coordinates:

- A. (4 ; 0)
- B. (2 ; -8)
- C. (6 ; -6)
- D. (6 ; -5)

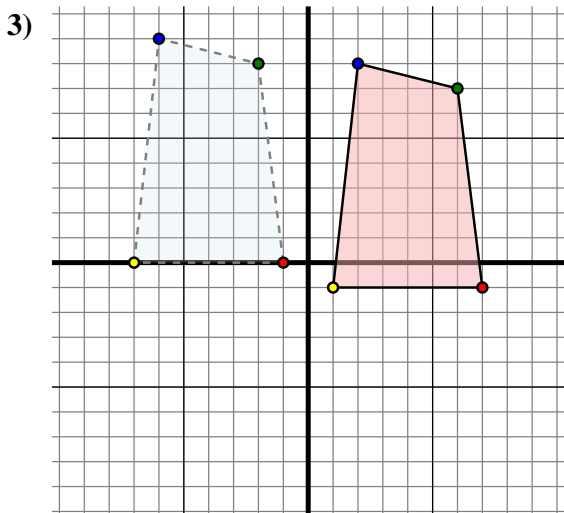
Sposta la figura di 6 unità verso sinistra e 7 unità verso su.



The shape above has the following coordinates:

- A. (-5 ; 2)
- B. (-5 ; 9)
- C. (-10 ; 7)
- D. (-7 ; 4)

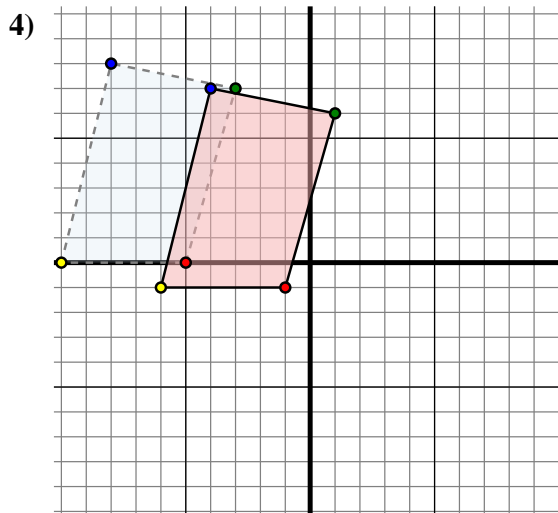
Sposta la figura di 0 unità verso sinistra e 12 unità verso giù.



The shape above has the following coordinates:

- A. (-1 ; 0)
- B. (-2 ; 8)
- C. (-6 ; 9)
- D. (-7 ; 0)

Sposta la figura di 8 unità verso destra e 1 unità verso giù.



The shape above has the following coordinates:

- A. (-5 ; 0)
- B. (-3 ; 7)
- C. (-8 ; 8)
- D. (-10 ; 0)

Sposta la figura di 4 unità verso destra e 1 unità verso giù.

Risposte

1A. (-2 ; 7)

1B. (-4 ; -1)

1C. (0 ; 1)

1D. (0 ; 2)

1G. Grafico

2A. (-5 ; -10)

2B. (-5 ; -3)

2C. (-10 ; -5)

2D. (-7 ; -8)

2G. Grafico

3A. (7 ; -1)

3B. (6 ; 7)

3C. (2 ; 8)

3D. (1 ; -1)

3G. Grafico

4A. (-1 ; -1)

4B. (1 ; 6)

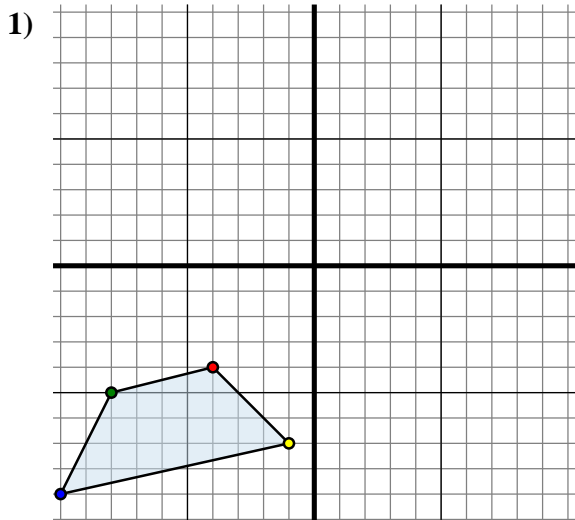
4C. (-4 ; 7)

4D. (-6 ; -1)

4G. Grafico



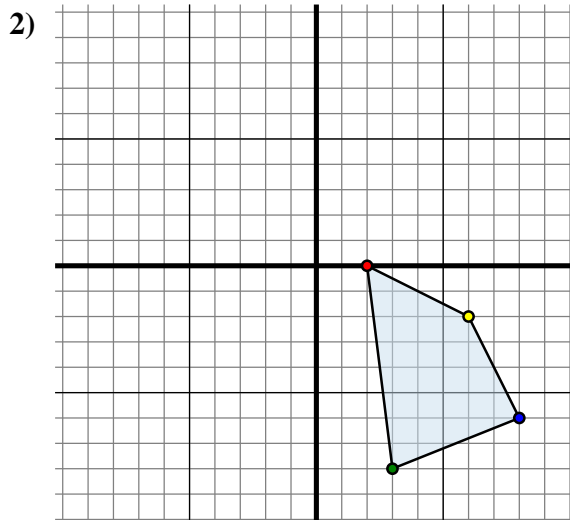
Trasla ogni forma come richiesto.



La figura qui sopra ha le seguenti coordinate:

- A. (-4 ; -4)
- B. (-8 ; -5)
- C. (-10 ; -9)
- D. (-1 ; -7)

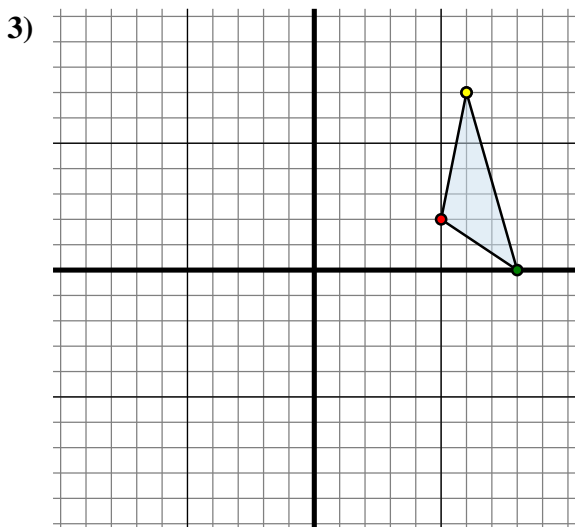
Sposta la figura di 11 unità verso destra e 3 unità verso su.



La figura qui sopra ha le seguenti coordinate:

- A. (2 ; 0)
- B. (3 ; -8)
- C. (8 ; -6)
- D. (6 ; -2)

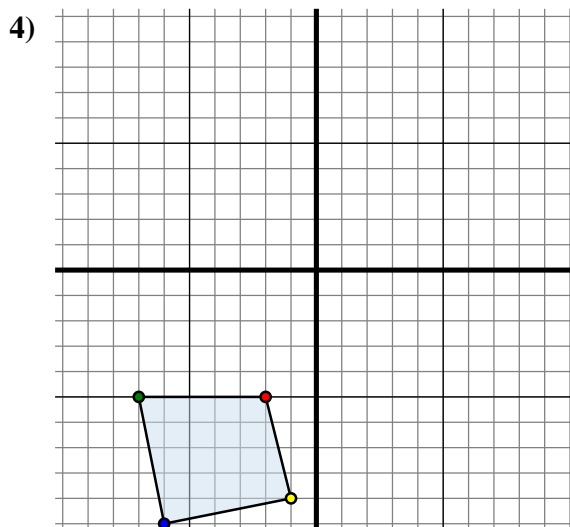
Sposta la figura di 11 unità verso sinistra e 9 unità verso su.



La figura qui sopra ha le seguenti coordinate:

- A. (5 ; 2)
- B. (8 ; 0)
- C. (6 ; 7)

Sposta la figura di 13 unità verso sinistra e 1 unità verso giù.



La figura qui sopra ha le seguenti coordinate:

- A. (-2 ; -5)
- B. (-7 ; -5)
- C. (-6 ; -10)
- D. (-1 ; -9)

Sposta la figura di 3 unità verso destra e 11 unità verso su.

Risposte

1A. (7 ; -1)

1B. _____

1C. _____

1D. _____

1G. Grafico

2A. _____

2B. _____

2C. _____

2D. _____

2G. Grafico

3A. _____

3B. _____

3C. _____

3G. Grafico

4A. _____

4B. _____

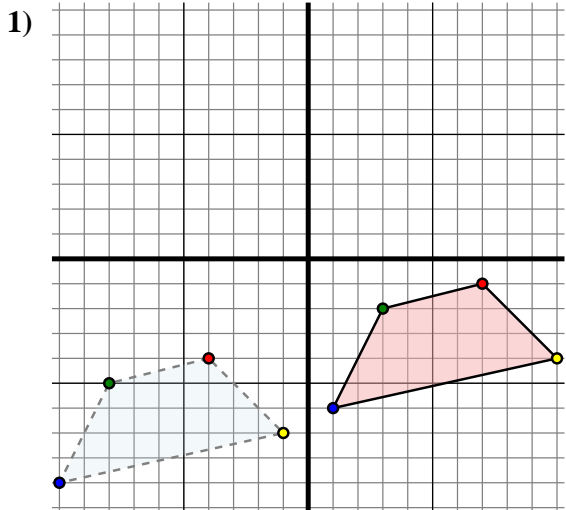
4C. _____

4D. _____

4G. Grafico



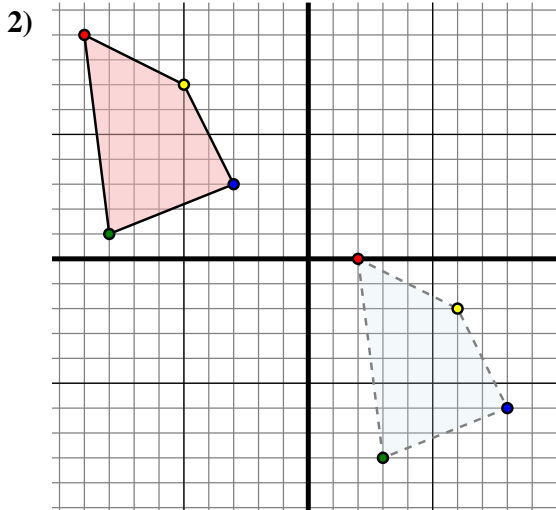
Trasla ogni forma come richiesto.



The shape above has the following coordinates:

- A. (-4 ; -4)
- B. (-8 ; -5)
- C. (-10 ; -9)
- D. (-1 ; -7)

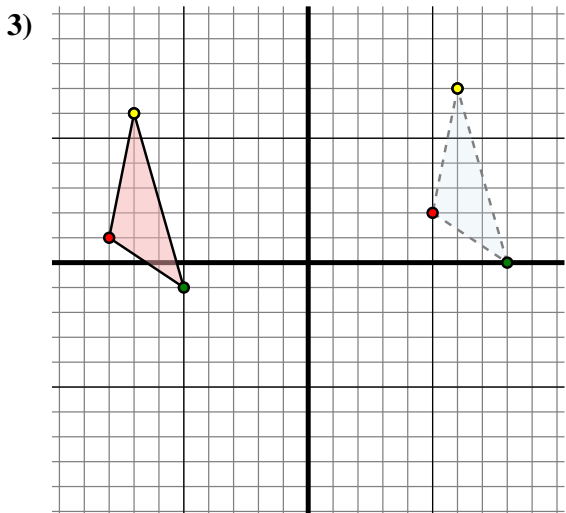
Sposta la figura di 11 unità verso destra e 3 unità verso su.



The shape above has the following coordinates:

- A. (2 ; 0)
- B. (3 ; -8)
- C. (8 ; -6)
- D. (6 ; -2)

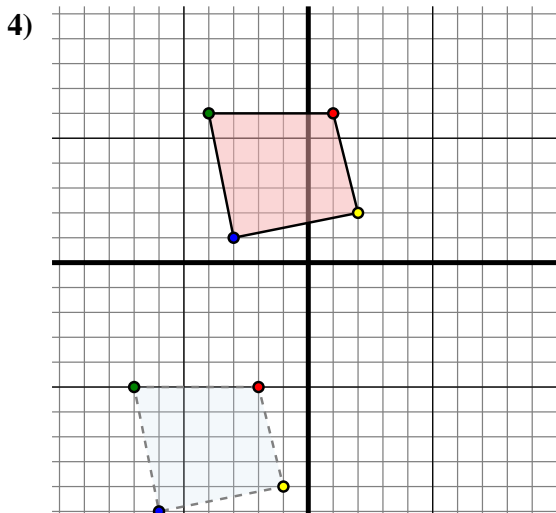
Sposta la figura di 11 unità verso sinistra e 9 unità verso su.



The shape above has the following coordinates:

- A. (5 ; 2)
- B. (8 ; 0)
- C. (6 ; 7)

Sposta la figura di 13 unità verso sinistra e 1 unità verso giù.



The shape above has the following coordinates:

- A. (-2 ; -5)
- B. (-7 ; -5)
- C. (-6 ; -10)
- D. (-1 ; -9)

Sposta la figura di 3 unità verso destra e 11 unità verso su.

Risposte

1A. (7 ; -1)

1B. (3 ; -2)

1C. (1 ; -6)

1D. (10 ; -4)

1G. Grafico

2A. (-9 ; 9)

2B. (-8 ; 1)

2C. (-3 ; 3)

2D. (-5 ; 7)

2G. Grafico

3A. (-8 ; 1)

3B. (-5 ; -1)

3C. (-7 ; 6)

3G. Grafico

4A. (1 ; 6)

4B. (-4 ; 6)

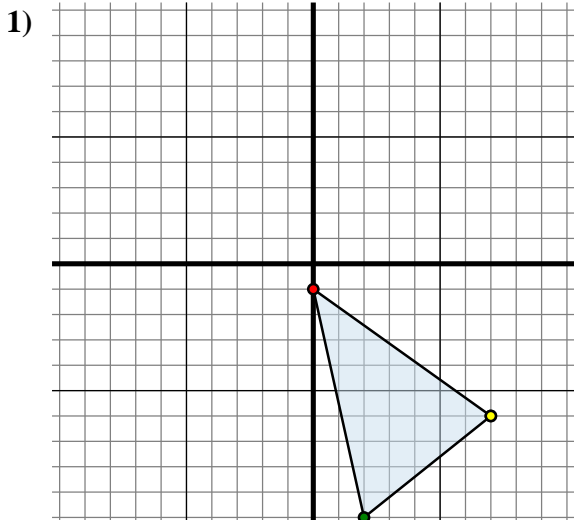
4C. (-3 ; 1)

4D. (2 ; 2)

4G. Grafico



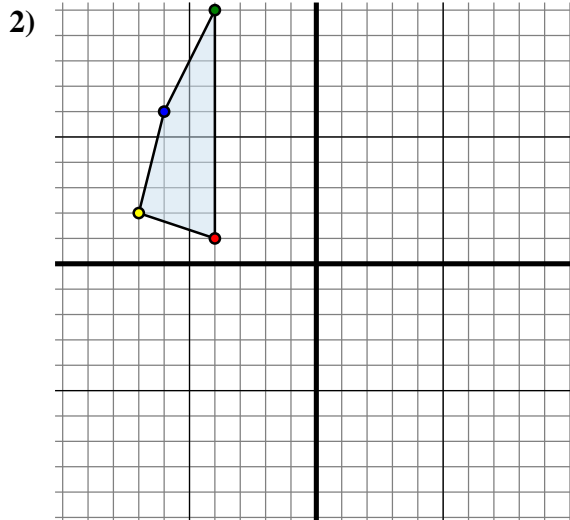
Trasla ogni forma come richiesto.



La figura qui sopra ha le seguenti coordinate:

- A. (0 ; -1)
- B. (2 ; -10)
- C. (7 ; -6)

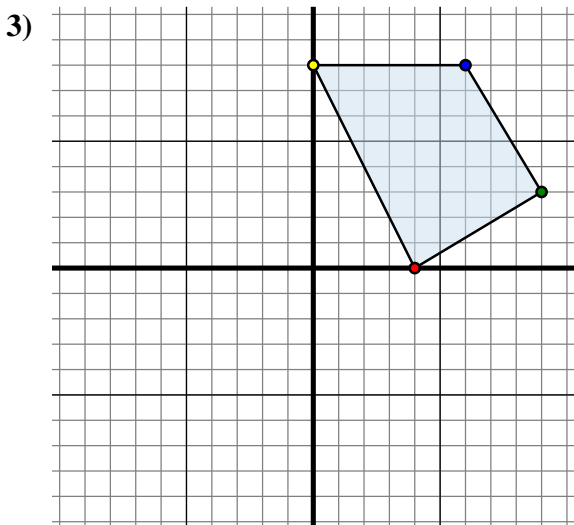
Sposta la figura di 2 unità verso destra e 3 unità verso su.



La figura qui sopra ha le seguenti coordinate:

- A. (-4 ; 1)
- B. (-4 ; 10)
- C. (-6 ; 6)
- D. (-7 ; 2)

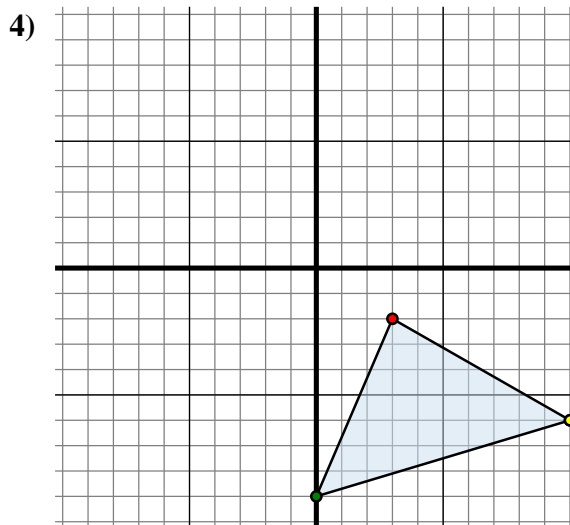
Sposta la figura di 5 unità verso destra e 11 unità verso giù.



La figura qui sopra ha le seguenti coordinate:

- A. (4 ; 0)
- B. (9 ; 3)
- C. (6 ; 8)
- D. (0 ; 8)

Sposta la figura di 1 unità verso sinistra e 4 unità verso giù.



La figura qui sopra ha le seguenti coordinate:

- A. (3 ; -2)
- B. (0 ; -9)
- C. (10 ; -6)

Sposta la figura di 10 unità verso sinistra e 8 unità verso su.

Risposte

1A. (2 ; 2)

1B. _____

1C. _____

1G. Grafico

2A. _____

2B. _____

2C. _____

2D. _____

2G. Grafico

3A. _____

3B. _____

3C. _____

3D. _____

3G. Grafico

4A. _____

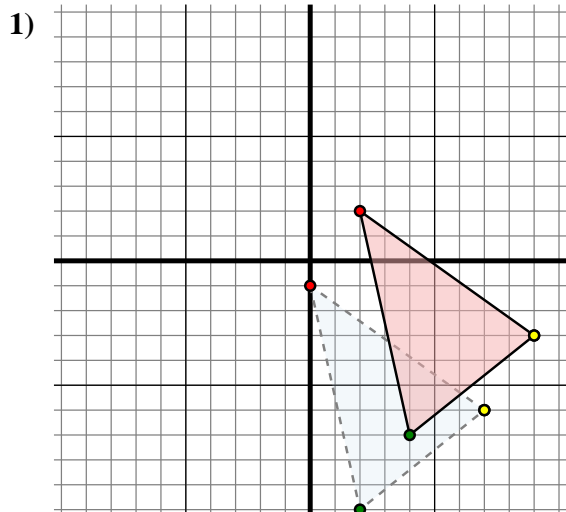
4B. _____

4C. _____

4G. Grafico



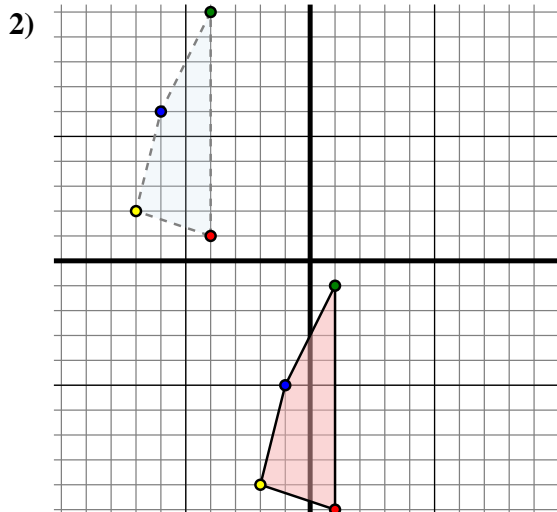
Trasla ogni forma come richiesto.



The shape above has the following coordinates:

- A. (0 ; -1)
- B. (2 ; -10)
- C. (7 ; -6)

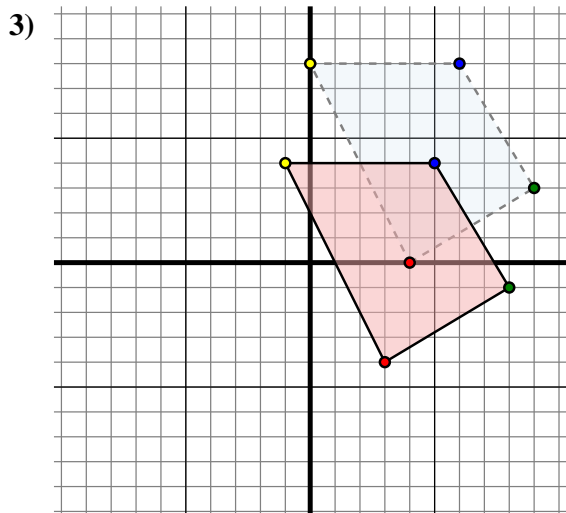
Sposta la figura di 2 unità verso destra e 3 unità verso su.



The shape above has the following coordinates:

- A. (-4 ; 1)
- B. (-4 ; 10)
- C. (-6 ; 6)
- D. (-7 ; 2)

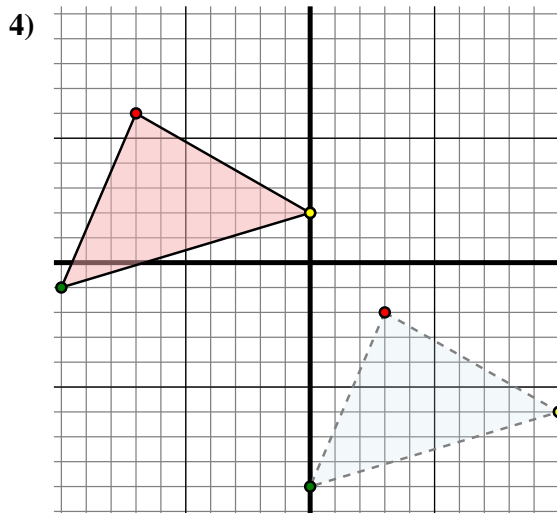
Sposta la figura di 5 unità verso destra e 11 unità verso giù.



The shape above has the following coordinates:

- A. (4 ; 0)
- B. (9 ; 3)
- C. (6 ; 8)
- D. (0 ; 8)

Sposta la figura di 1 unità verso sinistra e 4 unità verso giù.



The shape above has the following coordinates:

- A. (3 ; -2)
- B. (0 ; -9)
- C. (10 ; -6)

Sposta la figura di 10 unità verso sinistra e 8 unità verso su.

Risposte

1A. **(2 ; 2)**

1B. **(4 ; -7)**

1C. **(9 ; -3)**

1G. **Grafico**

2A. **(1 ; -10)**

2B. **(1 ; -1)**

2C. **(-1 ; -5)**

2D. **(-2 ; -9)**

2G. **Grafico**

3A. **(3 ; -4)**

3B. **(8 ; -1)**

3C. **(5 ; 4)**

3D. **(-1 ; 4)**

3G. **Grafico**

4A. **(-7 ; 6)**

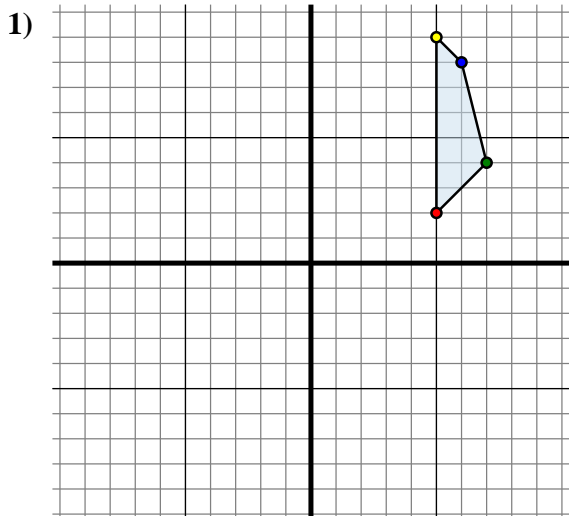
4B. **(-10 ; -1)**

4C. **(0 ; 2)**

4G. **Grafico**



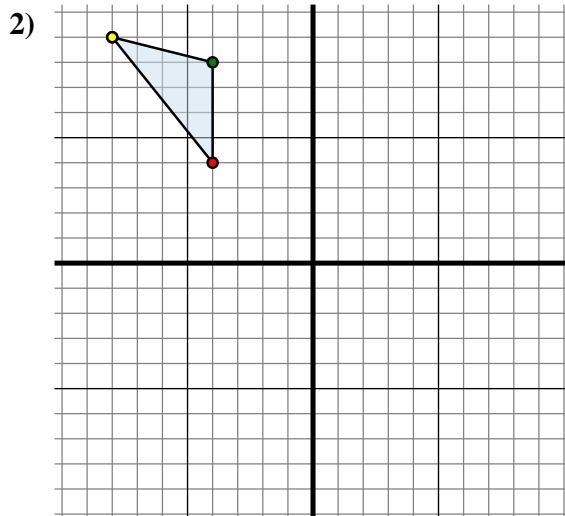
Trasla ogni forma come richiesto.



La figura qui sopra ha le seguenti coordinate:

- A. (5 ; 2)
- B. (7 ; 4)
- C. (6 ; 8)
- D. (5 ; 9)

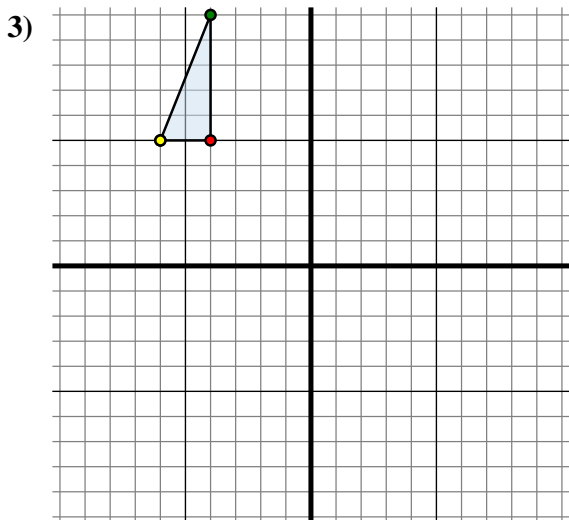
Sposta la figura di 10 unità verso sinistra e 1 unità verso su.



La figura qui sopra ha le seguenti coordinate:

- A. (-4 ; 4)
- B. (-4 ; 8)
- C. (-8 ; 9)

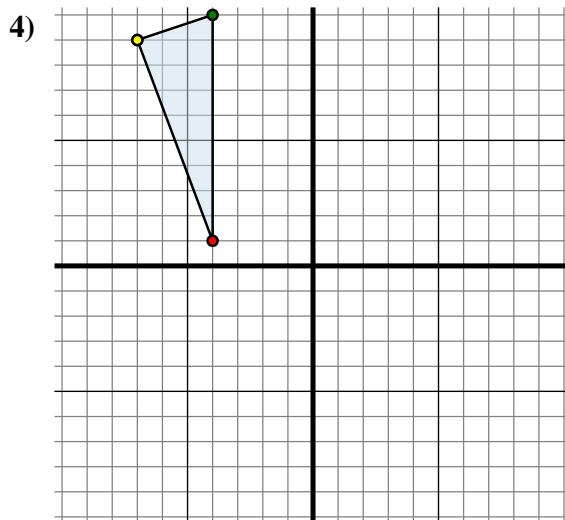
Sposta la figura di 10 unità verso destra e 1 unità verso su.



La figura qui sopra ha le seguenti coordinate:

- A. (-4 ; 5)
- B. (-4 ; 10)
- C. (-6 ; 5)

Sposta la figura di 13 unità verso destra e 7 unità verso giù.



La figura qui sopra ha le seguenti coordinate:

- A. (-4 ; 1)
- B. (-4 ; 10)
- C. (-7 ; 9)

Sposta la figura di 2 unità verso sinistra e 8 unità verso giù.

Risposte

1A. (-5 ; 3)

1B. _____

1C. _____

1D. _____

1G. Grafico

2A. _____

2B. _____

2C. _____

2G. Grafico

3A. _____

3B. _____

3C. _____

3G. Grafico

4A. _____

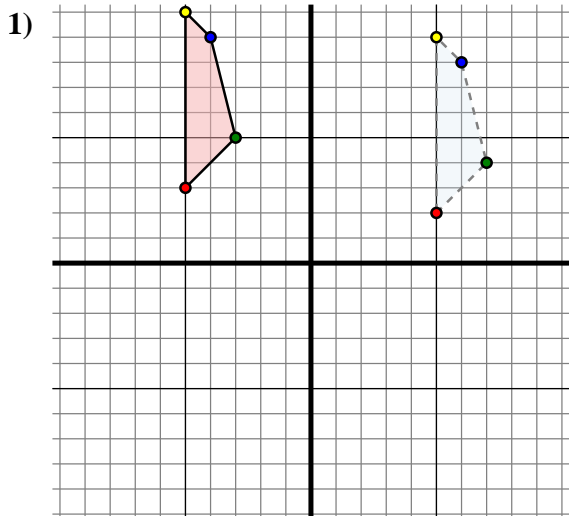
4B. _____

4C. _____

4G. Grafico



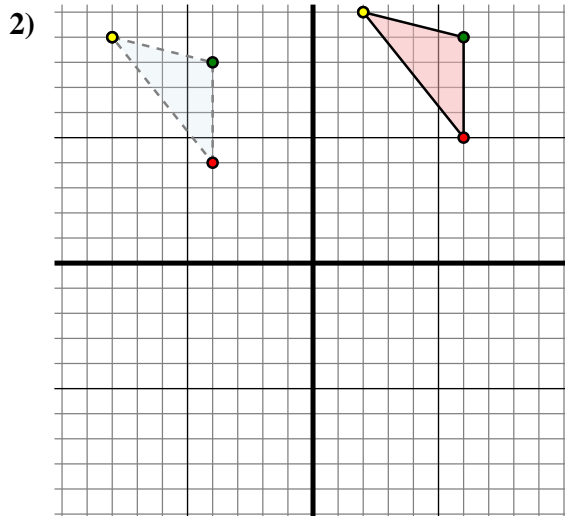
Trasla ogni forma come richiesto.



The shape above has the following coordinates:

- A. (5 ; 2)
- B. (7 ; 4)
- C. (6 ; 8)
- D. (5 ; 9)

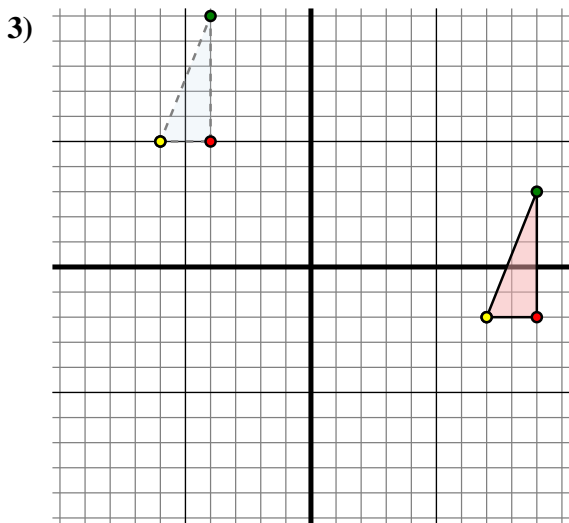
Sposta la figura di 10 unità verso sinistra e 1 unità verso su.



The shape above has the following coordinates:

- A. (-4 ; 4)
- B. (-4 ; 8)
- C. (-8 ; 9)

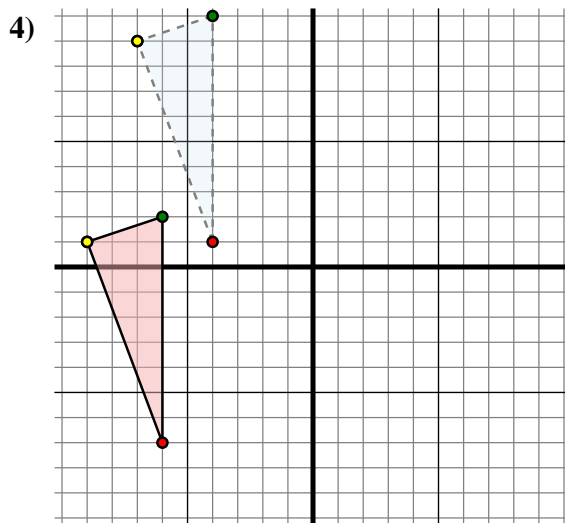
Sposta la figura di 10 unità verso destra e 1 unità verso su.



The shape above has the following coordinates:

- A. (-4 ; 5)
- B. (-4 ; 10)
- C. (-6 ; 5)

Sposta la figura di 13 unità verso destra e 7 unità verso giù.



The shape above has the following coordinates:

- A. (-4 ; 1)
- B. (-4 ; 10)
- C. (-7 ; 9)

Sposta la figura di 2 unità verso sinistra e 8 unità verso giù.

Risposte

1A. **(-5 ; 3)**

1B. **(-3 ; 5)**

1C. **(-4 ; 9)**

1D. **(-5 ; 10)**

1G. **Grafico**

2A. **(6 ; 5)**

2B. **(6 ; 9)**

2C. **(2 ; 10)**

2G. **Grafico**

3A. **(9 ; -2)**

3B. **(9 ; 3)**

3C. **(7 ; -2)**

3G. **Grafico**

4A. **(-6 ; -7)**

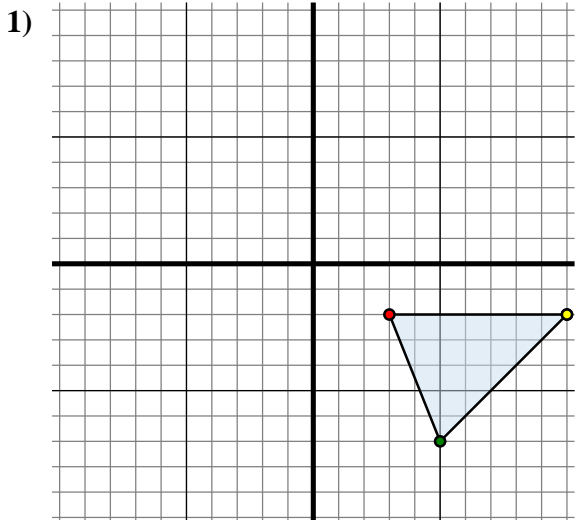
4B. **(-6 ; 2)**

4C. **(-9 ; 1)**

4G. **Grafico**



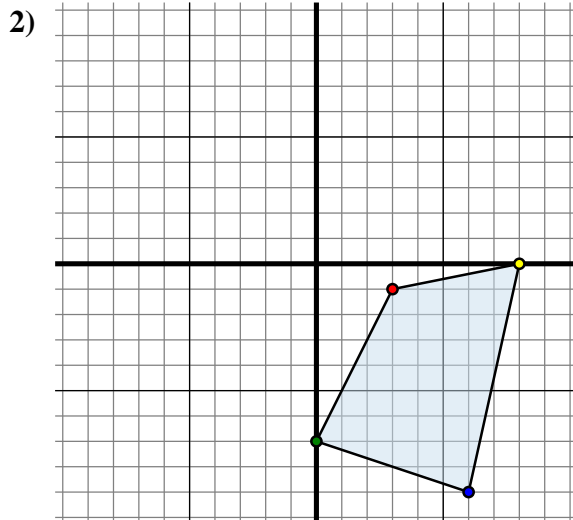
Trasla ogni forma come richiesto.



La figura qui sopra ha le seguenti coordinate:

- A. (3 ; -2)
- B. (5 ; -7)
- C. (10 ; -2)

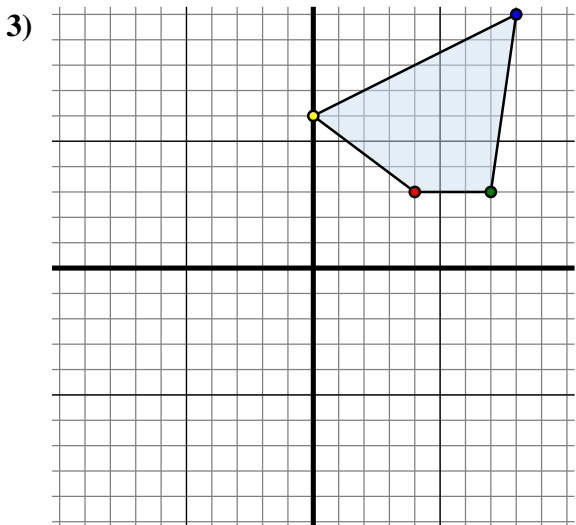
Sposta la figura di 8 unità verso sinistra e 3 unità verso giù.



La figura qui sopra ha le seguenti coordinate:

- A. (3 ; -1)
- B. (0 ; -7)
- C. (6 ; -9)
- D. (8 ; 0)

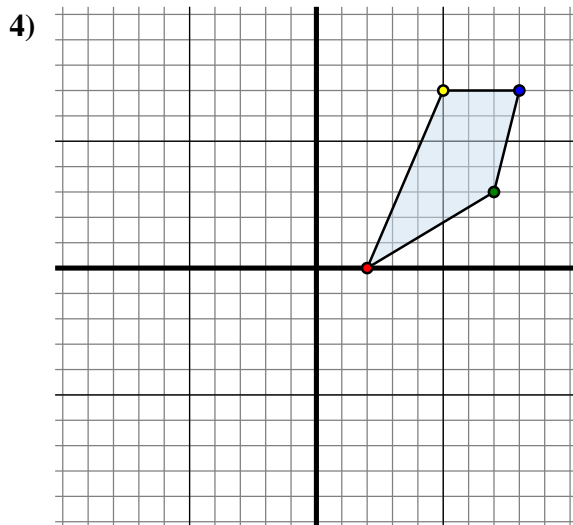
Sposta la figura di 3 unità verso sinistra e 7 unità verso su.



La figura qui sopra ha le seguenti coordinate:

- A. (4 ; 3)
- B. (7 ; 3)
- C. (8 ; 10)
- D. (0 ; 6)

Sposta la figura di 0 unità verso sinistra e 10 unità verso giù.



La figura qui sopra ha le seguenti coordinate:

- A. (2 ; 0)
- B. (7 ; 3)
- C. (8 ; 7)
- D. (5 ; 7)

Sposta la figura di 2 unità verso destra e 1 unità verso su.

Risposte

1A. (-5 ; -5)

1B. _____

1C. _____

1G. Grafico

2A. _____

2B. _____

2C. _____

2D. _____

2G. Grafico

3A. _____

3B. _____

3C. _____

3D. _____

3G. Grafico

4A. _____

4B. _____

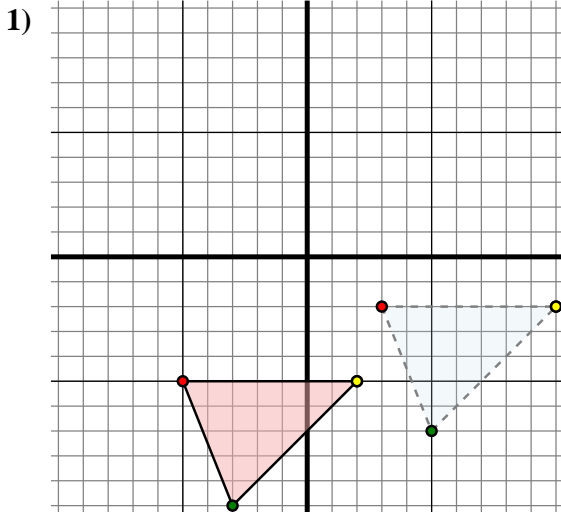
4C. _____

4D. _____

4G. Grafico



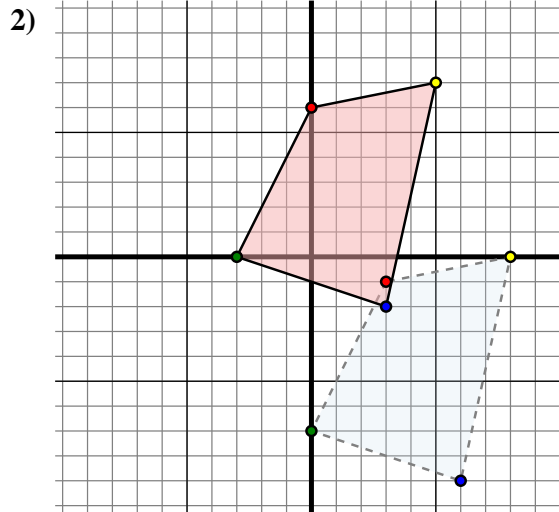
Trasla ogni forma come richiesto.



The shape above has the following coordinates:

- A. (3 ; -2)
- B. (5 ; -7)
- C. (10 ; -2)

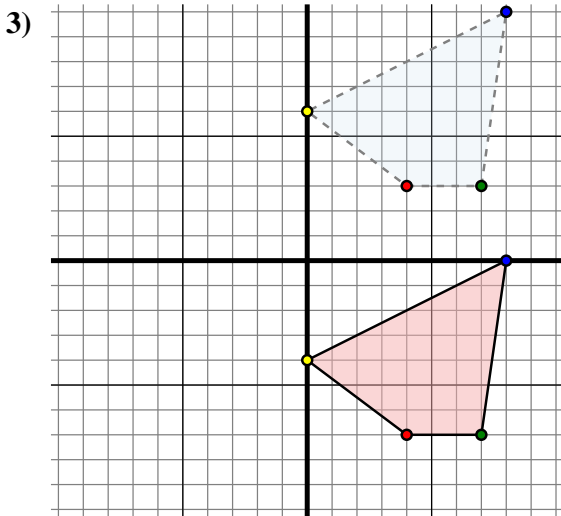
Sposta la figura di 8 unità verso sinistra e 3 unità verso giù.



The shape above has the following coordinates:

- A. (3 ; -1)
- B. (0 ; -7)
- C. (6 ; -9)
- D. (8 ; 0)

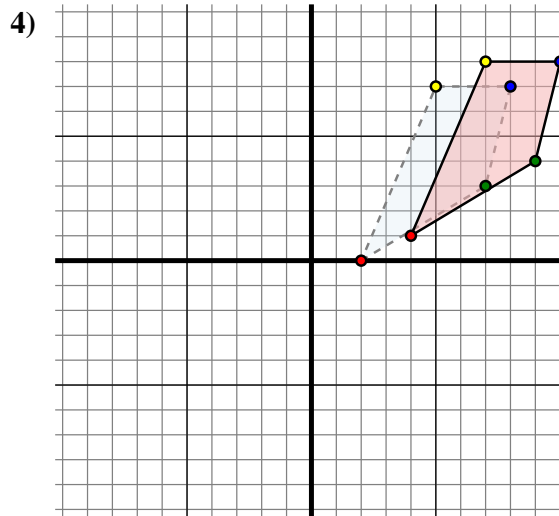
Sposta la figura di 3 unità verso sinistra e 7 unità verso su.



The shape above has the following coordinates:

- A. (4 ; 3)
- B. (7 ; 3)
- C. (8 ; 10)
- D. (0 ; 6)

Sposta la figura di 0 unità verso sinistra e 10 unità verso giù.



The shape above has the following coordinates:

- A. (2 ; 0)
- B. (7 ; 3)
- C. (8 ; 7)
- D. (5 ; 7)

Sposta la figura di 2 unità verso destra e 1 unità verso su.

Risposte

1A. **(-5 ; -5)**

1B. **(-3 ; -10)**

1C. **(2 ; -5)**

1G. **Grafico**

2A. **(0 ; 6)**

2B. **(-3 ; 0)**

2C. **(3 ; -2)**

2D. **(5 ; 7)**

2G. **Grafico**

3A. **(4 ; -7)**

3B. **(7 ; -7)**

3C. **(8 ; 0)**

3D. **(0 ; -4)**

3G. **Grafico**

4A. **(4 ; 1)**

4B. **(9 ; 4)**

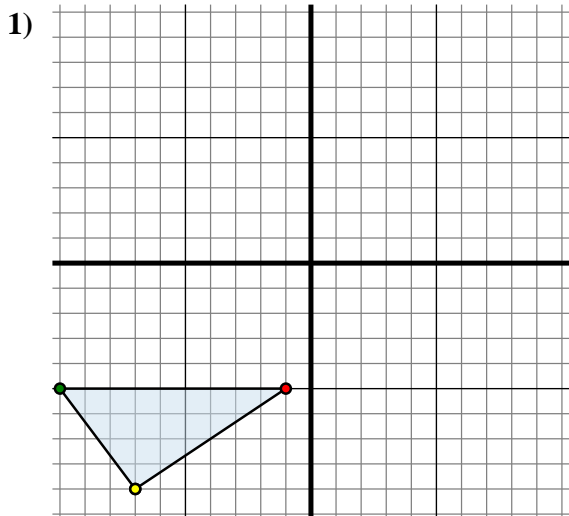
4C. **(10 ; 8)**

4D. **(7 ; 8)**

4G. **Grafico**



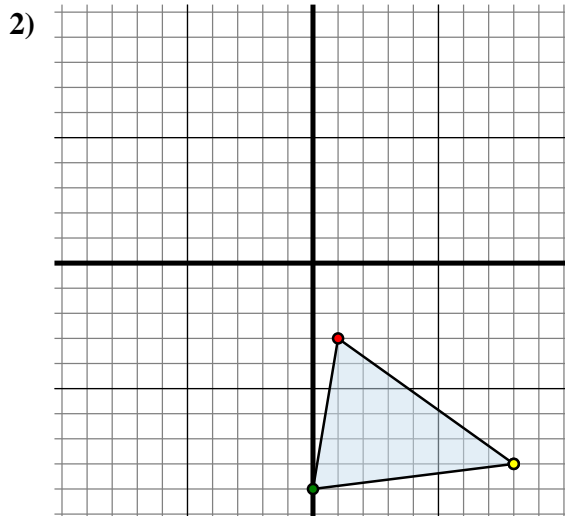
Trasla ogni forma come richiesto.



La figura qui sopra ha le seguenti coordinate:

- A. (-1 ; -5)
- B. (-10 ; -5)
- C. (-7 ; -9)

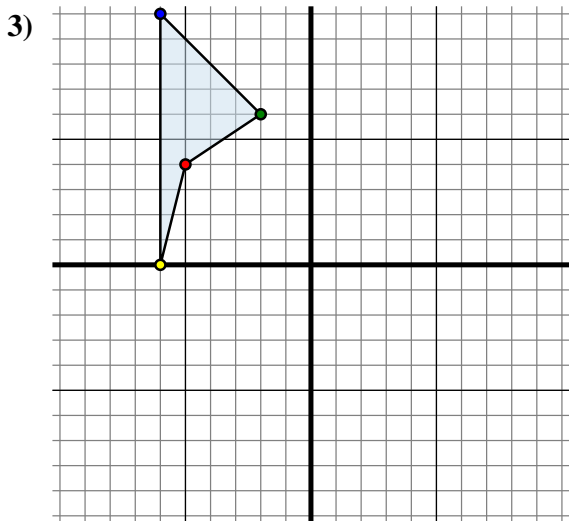
Sposta la figura di 5 unità verso destra e 8 unità verso su.



La figura qui sopra ha le seguenti coordinate:

- A. (1 ; -3)
- B. (0 ; -9)
- C. (8 ; -8)

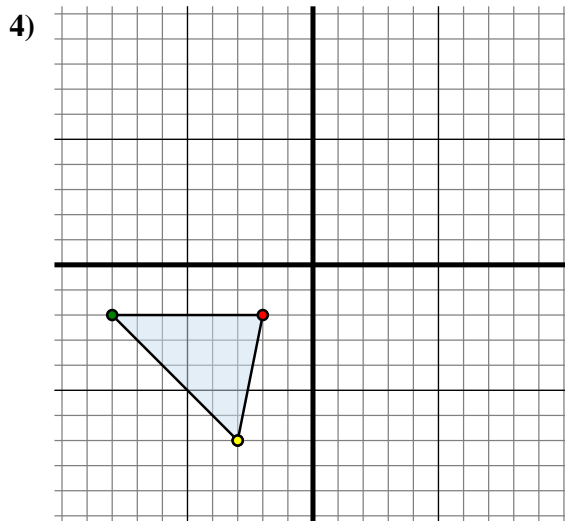
Sposta la figura di 6 unità verso sinistra e 4 unità verso su.



La figura qui sopra ha le seguenti coordinate:

- A. (-5 ; 4)
- B. (-2 ; 6)
- C. (-6 ; 10)
- D. (-6 ; 0)

Sposta la figura di 2 unità verso sinistra e 9 unità verso giù.



La figura qui sopra ha le seguenti coordinate:

- A. (-2 ; -2)
- B. (-8 ; -2)
- C. (-3 ; -7)

Sposta la figura di 2 unità verso sinistra e 1 unità verso su.

Risposte

1A. (4 ; 3)

1B. _____

1C. _____

1G. Grafico

2A. _____

2B. _____

2C. _____

2G. Grafico

3A. _____

3B. _____

3C. _____

3D. _____

3G. Grafico

4A. _____

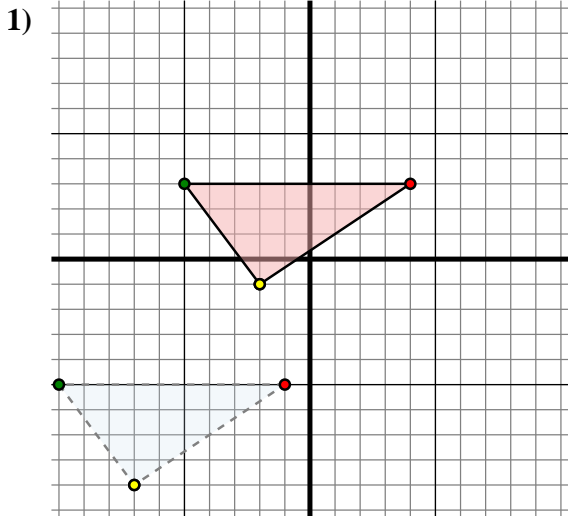
4B. _____

4C. _____

4G. Grafico



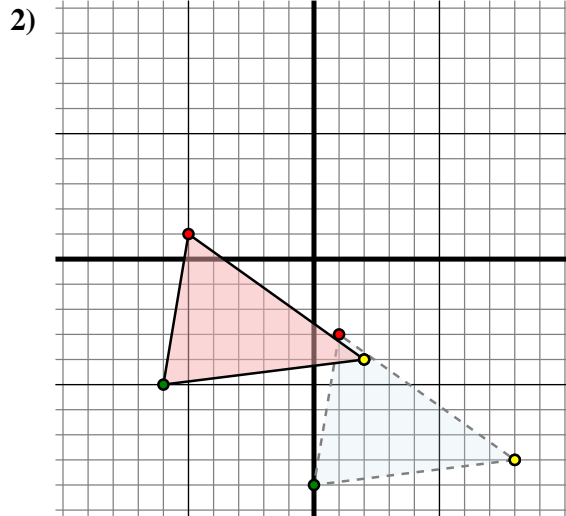
Trasla ogni forma come richiesto.



The shape above has the following coordinates:

- A. (-1 ; -5)
- B. (-10 ; -5)
- C. (-7 ; -9)

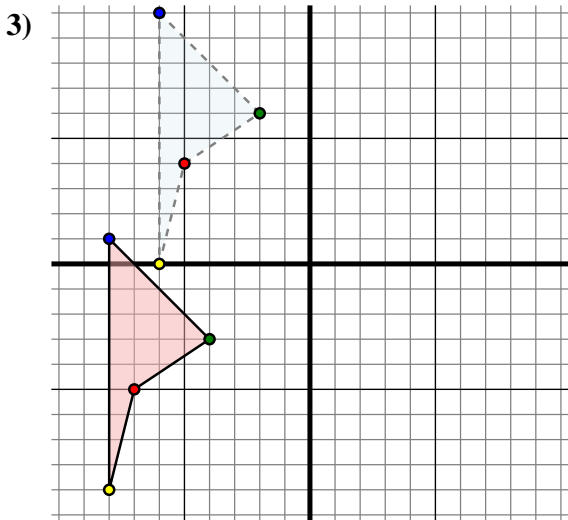
Sposta la figura di 5 unità verso destra e 8 unità verso su.



The shape above has the following coordinates:

- A. (1 ; -3)
- B. (0 ; -9)
- C. (8 ; -8)

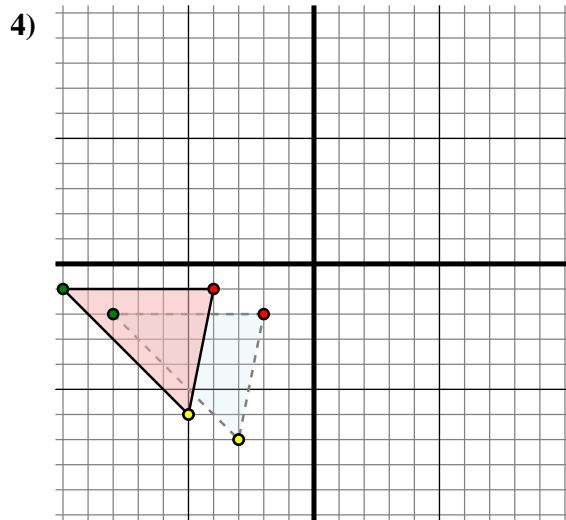
Sposta la figura di 6 unità verso sinistra e 4 unità verso su.



The shape above has the following coordinates:

- A. (-5 ; 4)
- B. (-2 ; 6)
- C. (-6 ; 10)
- D. (-6 ; 0)

Sposta la figura di 2 unità verso sinistra e 9 unità verso giù.



The shape above has the following coordinates:

- A. (-2 ; -2)
- B. (-8 ; -2)
- C. (-3 ; -7)

Sposta la figura di 2 unità verso sinistra e 1 unità verso su.

Risposte

1A. **(4 ; 3)**

1B. **(-5 ; 3)**

1C. **(-2 ; -1)**

1G. **Grafico**

2A. **(-5 ; 1)**

2B. **(-6 ; -5)**

2C. **(2 ; -4)**

2G. **Grafico**

3A. **(-7 ; -5)**

3B. **(-4 ; -3)**

3C. **(-8 ; 1)**

3D. **(-8 ; -9)**

3G. **Grafico**

4A. **(-4 ; -1)**

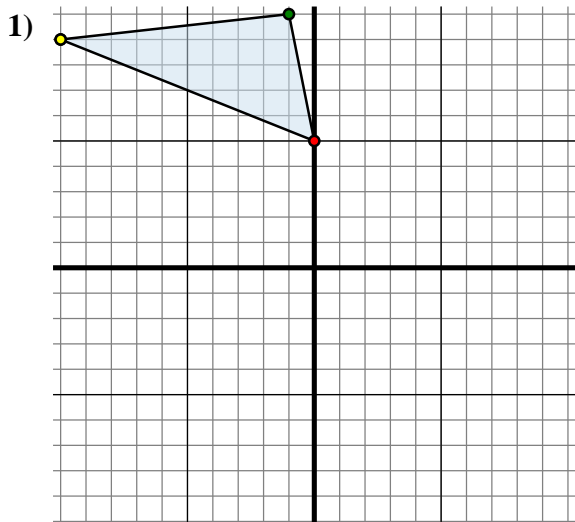
4B. **(-10 ; -1)**

4C. **(-5 ; -6)**

4G. **Grafico**



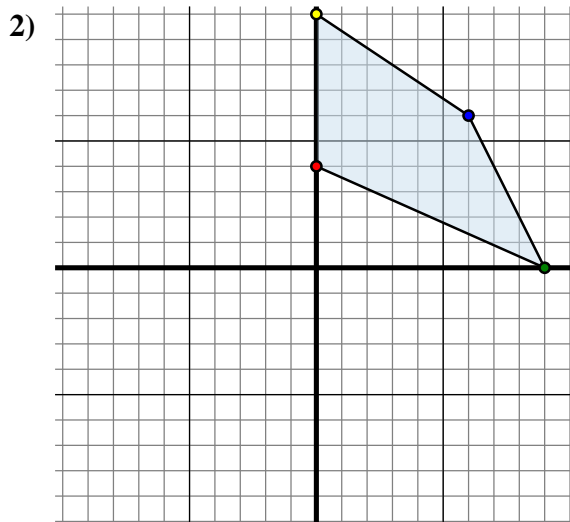
Trasla ogni forma come richiesto.



La figura qui sopra ha le seguenti coordinate:

- A. (0 ; 5)
- B. (-1 ; 10)
- C. (-10 ; 9)

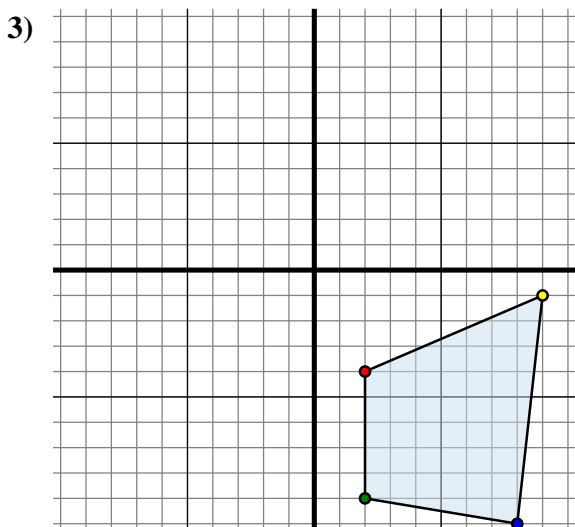
Sposta la figura di 6 unità verso destra e 13 unità verso giù.



La figura qui sopra ha le seguenti coordinate:

- A. (0 ; 4)
- B. (9 ; 0)
- C. (6 ; 6)
- D. (0 ; 10)

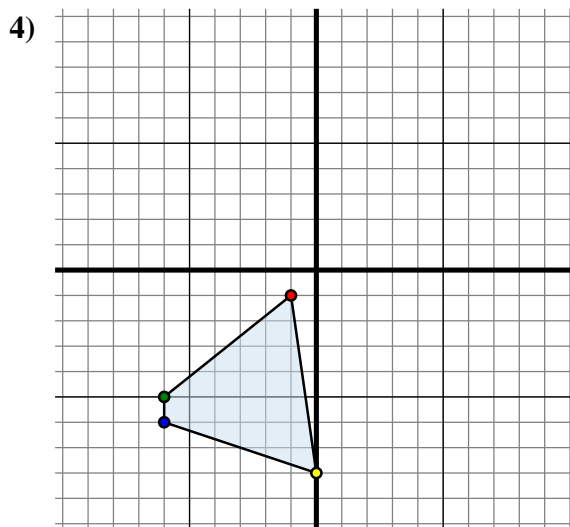
Sposta la figura di 3 unità verso sinistra e 7 unità verso giù.



La figura qui sopra ha le seguenti coordinate:

- A. (2 ; -4)
- B. (2 ; -9)
- C. (8 ; -10)
- D. (9 ; -1)

Sposta la figura di 9 unità verso sinistra e 4 unità verso su.



La figura qui sopra ha le seguenti coordinate:

- A. (-1 ; -1)
- B. (-6 ; -5)
- C. (-6 ; -6)
- D. (0 ; -8)

Sposta la figura di 6 unità verso destra e 2 unità verso giù.

Risposte

1A. (6 ; -8)

1B. _____

1C. _____

1G. Grafico

2A. _____

2B. _____

2C. _____

2D. _____

2G. Grafico

3A. _____

3B. _____

3C. _____

3D. _____

3G. Grafico

4A. _____

4B. _____

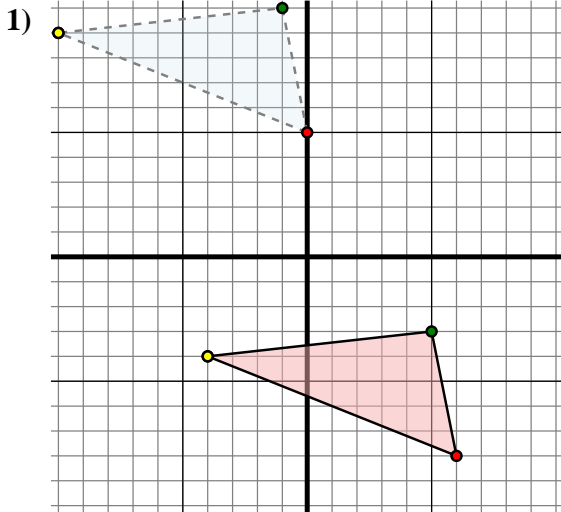
4C. _____

4D. _____

4G. Grafico



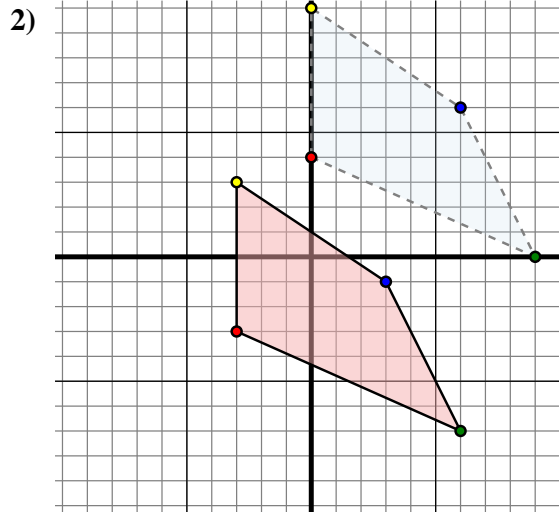
Trasla ogni forma come richiesto.



The shape above has the following coordinates:

- A. (0 ; 5)
- B. (-1 ; 10)
- C. (-10 ; 9)

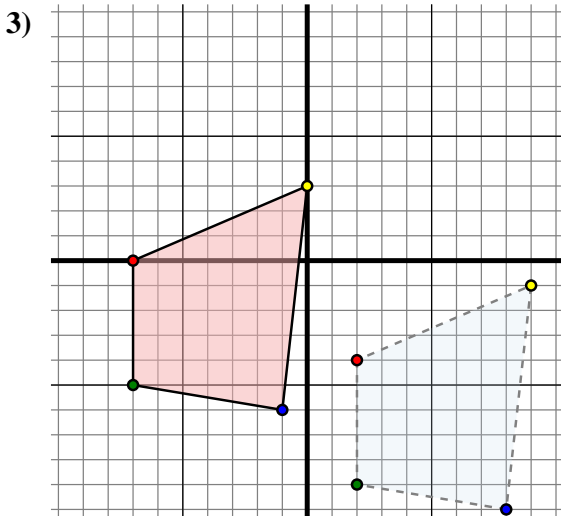
Sposta la figura di 6 unità verso destra e 13 unità verso giù.



The shape above has the following coordinates:

- A. (0 ; 4)
- B. (9 ; 0)
- C. (6 ; 6)
- D. (0 ; 10)

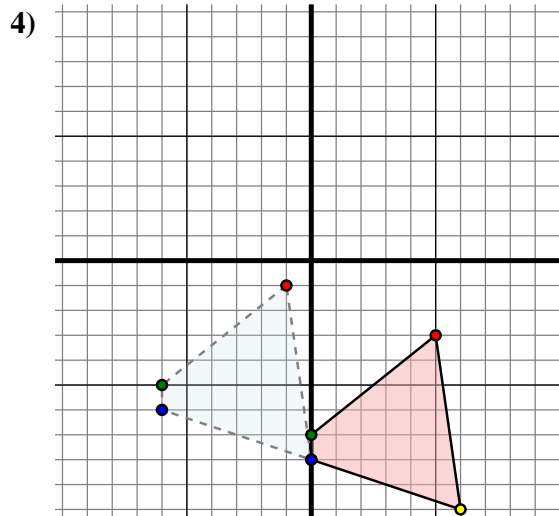
Sposta la figura di 3 unità verso sinistra e 7 unità verso giù.



The shape above has the following coordinates:

- A. (2 ; -4)
- B. (2 ; -9)
- C. (8 ; -10)
- D. (9 ; -1)

Sposta la figura di 9 unità verso sinistra e 4 unità verso su.



The shape above has the following coordinates:

- A. (-1 ; -1)
- B. (-6 ; -5)
- C. (-6 ; -6)
- D. (0 ; -8)

Sposta la figura di 6 unità verso destra e 2 unità verso giù.

Risposte

1A. **(6 ; -8)**

1B. **(5 ; -3)**

1C. **(-4 ; -4)**

1G. **Grafico**

2A. **(-3 ; -3)**

2B. **(6 ; -7)**

2C. **(3 ; -1)**

2D. **(-3 ; 3)**

2G. **Grafico**

3A. **(-7 ; 0)**

3B. **(-7 ; -5)**

3C. **(-1 ; -6)**

3D. **(0 ; 3)**

3G. **Grafico**

4A. **(5 ; -3)**

4B. **(0 ; -7)**

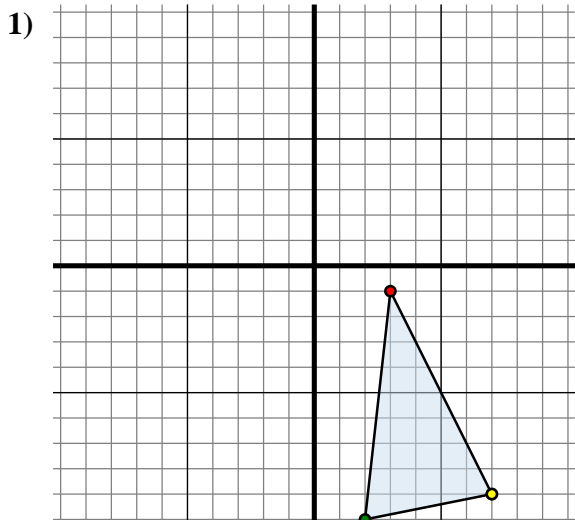
4C. **(0 ; -8)**

4D. **(6 ; -10)**

4G. **Grafico**



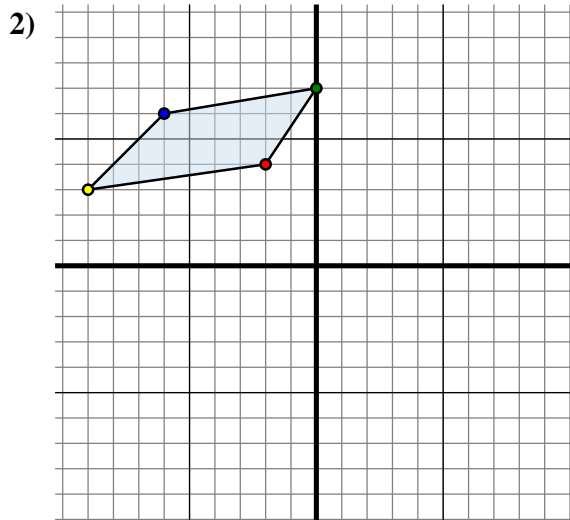
Trasla ogni forma come richiesto.



La figura qui sopra ha le seguenti coordinate:

- A. (3 ; -1)
- B. (2 ; -10)
- C. (7 ; -9)

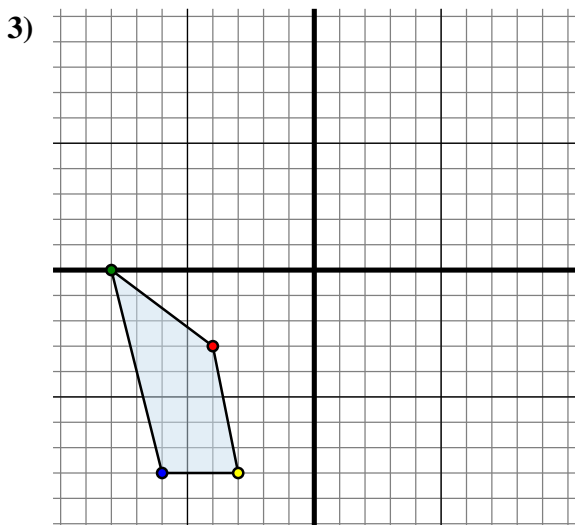
Sposta la figura di 4 unità verso sinistra e 8 unità verso su.



La figura qui sopra ha le seguenti coordinate:

- A. (-2 ; 4)
- B. (0 ; 7)
- C. (-6 ; 6)
- D. (-9 ; 3)

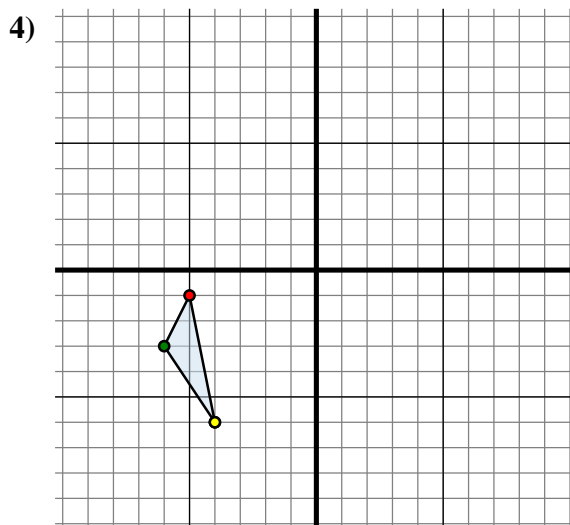
Sposta la figura di 9 unità verso destra e 2 unità verso su.



La figura qui sopra ha le seguenti coordinate:

- A. (-4 ; -3)
- B. (-8 ; 0)
- C. (-6 ; -8)
- D. (-3 ; -8)

Sposta la figura di 8 unità verso destra e 1 unità verso su.



La figura qui sopra ha le seguenti coordinate:

- A. (-5 ; -1)
- B. (-6 ; -3)
- C. (-4 ; -6)

Sposta la figura di 2 unità verso sinistra e 6 unità verso su.

Risposte

1A. (-1 ; 7)

1B. _____

1C. _____

1G. Grafico

2A. _____

2B. _____

2C. _____

2D. _____

2G. Grafico

3A. _____

3B. _____

3C. _____

3D. _____

3G. Grafico

4A. _____

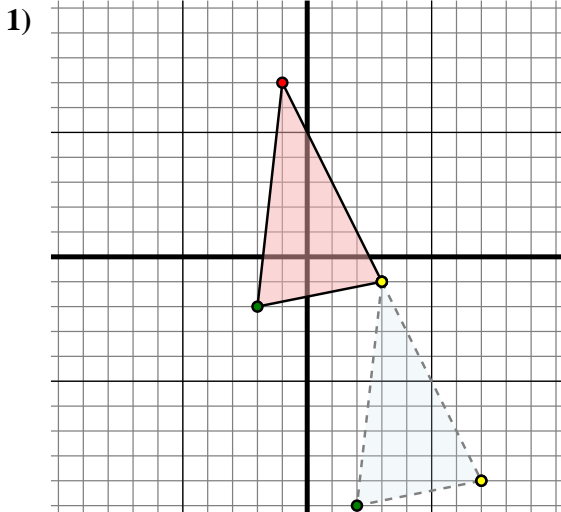
4B. _____

4C. _____

4G. Grafico



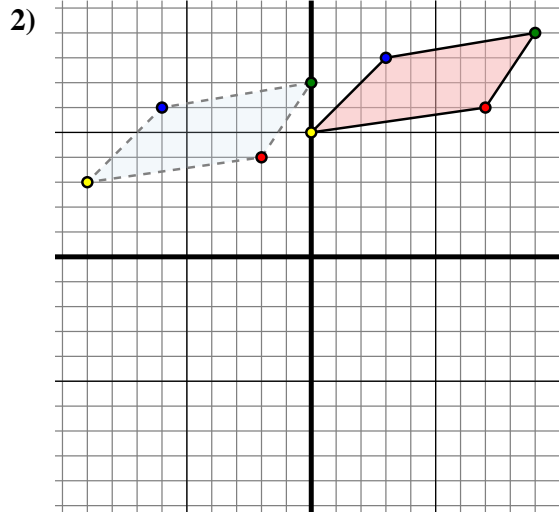
Trasla ogni forma come richiesto.



The shape above has the following coordinates:

- A. (3 ; -1)
- B. (2 ; -10)
- C. (7 ; -9)

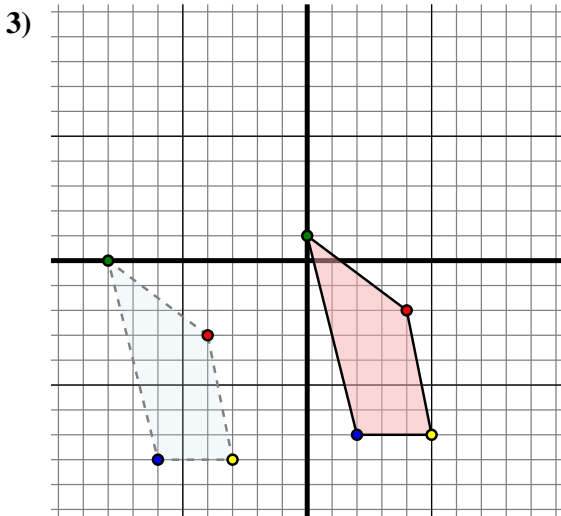
Sposta la figura di 4 unità verso sinistra e 8 unità verso su.



The shape above has the following coordinates:

- A. (-2 ; 4)
- B. (0 ; 7)
- C. (-6 ; 6)
- D. (-9 ; 3)

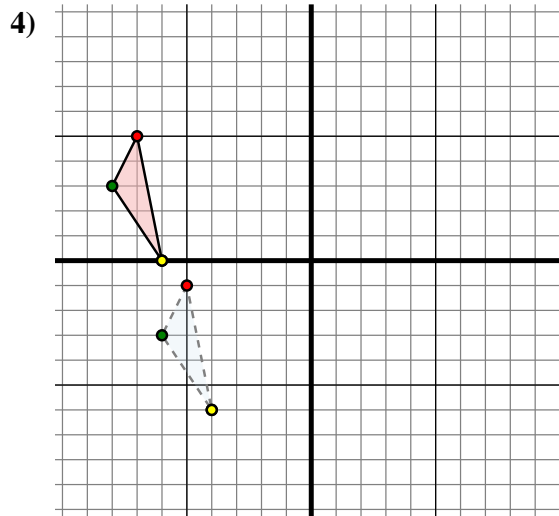
Sposta la figura di 9 unità verso destra e 2 unità verso su.



The shape above has the following coordinates:

- A. (-4 ; -3)
- B. (-8 ; 0)
- C. (-6 ; -8)
- D. (-3 ; -8)

Sposta la figura di 8 unità verso destra e 1 unità verso su.



The shape above has the following coordinates:

- A. (-5 ; -1)
- B. (-6 ; -3)
- C. (-4 ; -6)

Sposta la figura di 2 unità verso sinistra e 6 unità verso su.

Risposte

1A. **(-1 ; 7)**

1B. **(-2 ; -2)**

1C. **(3 ; -1)**

1G. **Grafico**

2A. **(7 ; 6)**

2B. **(9 ; 9)**

2C. **(3 ; 8)**

2D. **(0 ; 5)**

2G. **Grafico**

3A. **(4 ; -2)**

3B. **(0 ; 1)**

3C. **(2 ; -7)**

3D. **(5 ; -7)**

3G. **Grafico**

4A. **(-7 ; 5)**

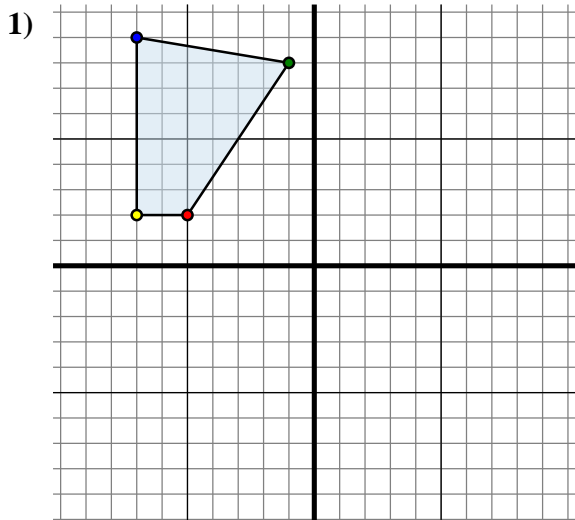
4B. **(-8 ; 3)**

4C. **(-6 ; 0)**

4G. **Grafico**



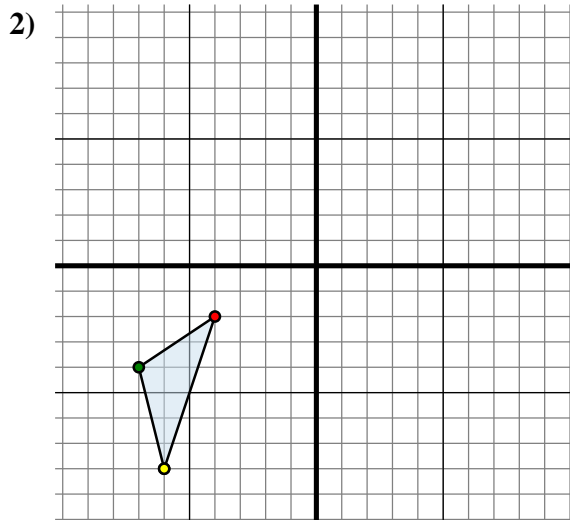
Trasla ogni forma come richiesto.



La figura qui sopra ha le seguenti coordinate:

- A. (-5 ; 2)
- B. (-1 ; 8)
- C. (-7 ; 9)
- D. (-7 ; 2)

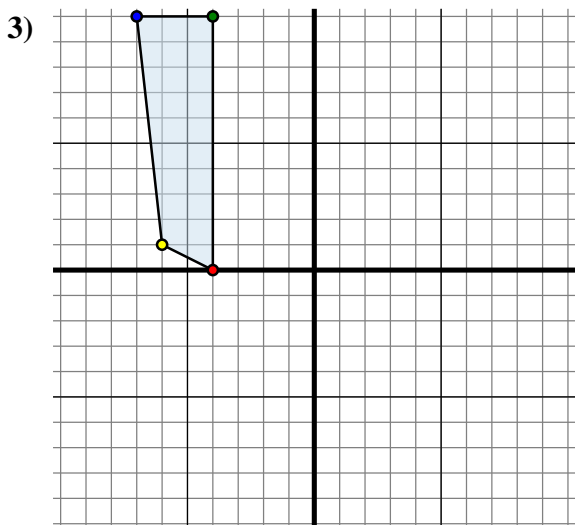
Sposta la figura di 2 unità verso sinistra e 12 unità verso giù.



La figura qui sopra ha le seguenti coordinate:

- A. (-4 ; -2)
- B. (-7 ; -4)
- C. (-6 ; -8)

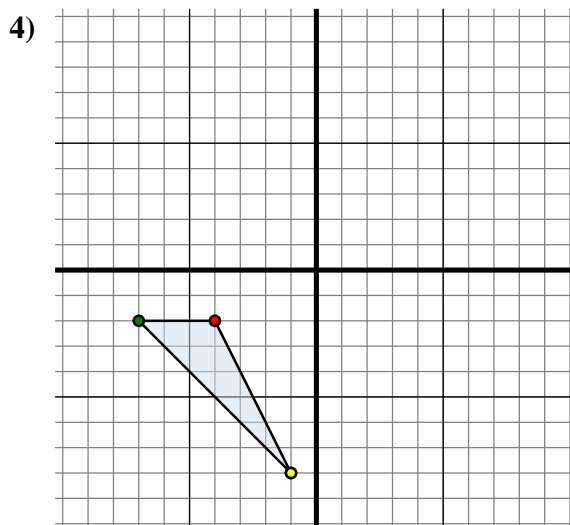
Sposta la figura di 14 unità verso destra e 2 unità verso giù.



La figura qui sopra ha le seguenti coordinate:

- A. (-4 ; 0)
- B. (-4 ; 10)
- C. (-7 ; 10)
- D. (-6 ; 1)

Sposta la figura di 1 unità verso sinistra e 0 unità verso giù.



La figura qui sopra ha le seguenti coordinate:

- A. (-4 ; -2)
- B. (-7 ; -2)
- C. (-1 ; -8)

Sposta la figura di 0 unità verso sinistra e 10 unità verso su.

Risposte

1A. (-7 ; -10)

1B. _____

1C. _____

1D. _____

1G. Grafico

2A. _____

2B. _____

2C. _____

2G. Grafico

3A. _____

3B. _____

3C. _____

3D. _____

3G. Grafico

4A. _____

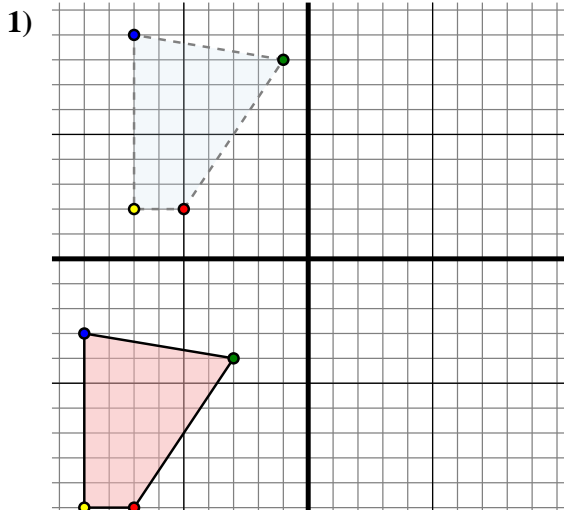
4B. _____

4C. _____

4G. Grafico



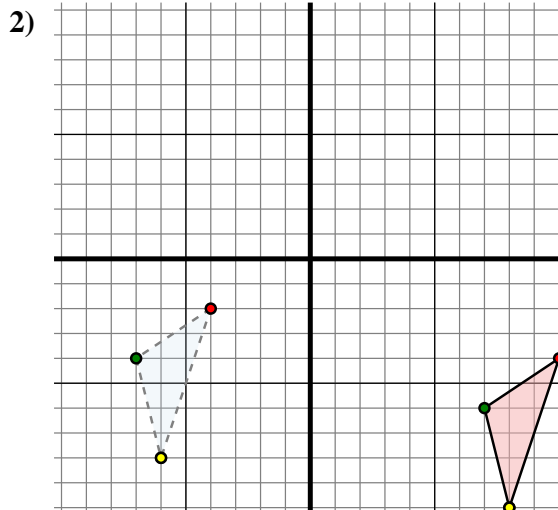
Trasla ogni forma come richiesto.



The shape above has the following coordinates:

- A. (-5 ; 2)
- B. (-1 ; 8)
- C. (-7 ; 9)
- D. (-7 ; 2)

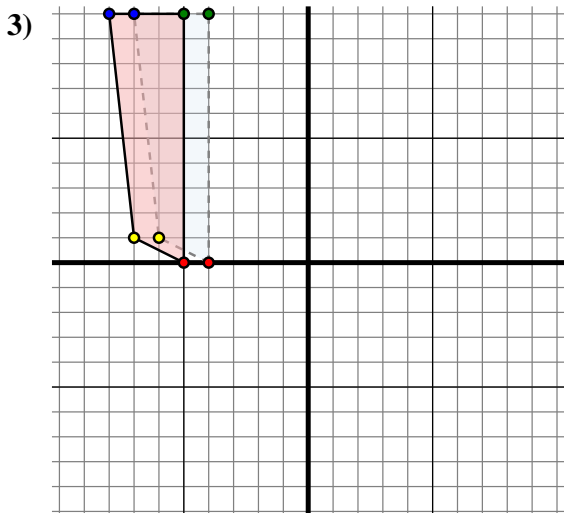
Sposta la figura di 2 unità verso sinistra e 12 unità verso giù.



The shape above has the following coordinates:

- A. (-4 ; -2)
- B. (-7 ; -4)
- C. (-6 ; -8)

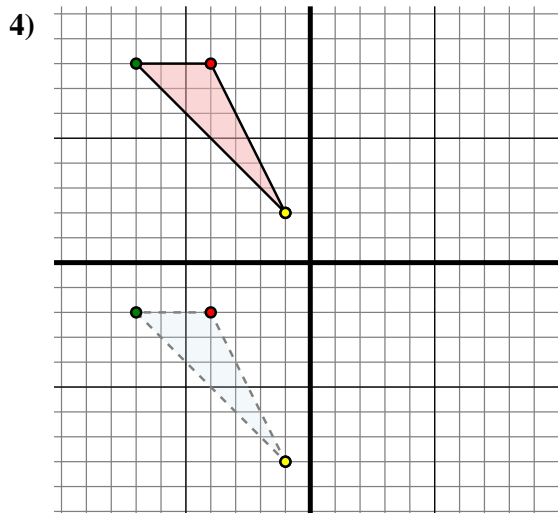
Sposta la figura di 14 unità verso destra e 2 unità verso giù.



The shape above has the following coordinates:

- A. (-4 ; 0)
- B. (-4 ; 10)
- C. (-7 ; 10)
- D. (-6 ; 1)

Sposta la figura di 1 unità verso sinistra e 0 unità verso giù.



The shape above has the following coordinates:

- A. (-4 ; -2)
- B. (-7 ; -2)
- C. (-1 ; -8)

Sposta la figura di 0 unità verso sinistra e 10 unità verso su.

Risposte

1A. **(-7 ; -10)**

1B. **(-3 ; -4)**

1C. **(-9 ; -3)**

1D. **(-9 ; -10)**

1G. **Grafico**

2A. **(10 ; -4)**

2B. **(7 ; -6)**

2C. **(8 ; -10)**

2G. **Grafico**

3A. **(-5 ; 0)**

3B. **(-5 ; 10)**

3C. **(-8 ; 10)**

3D. **(-7 ; 1)**

3G. **Grafico**

4A. **(-4 ; 8)**

4B. **(-7 ; 8)**

4C. **(-1 ; 2)**

4G. **Grafico**