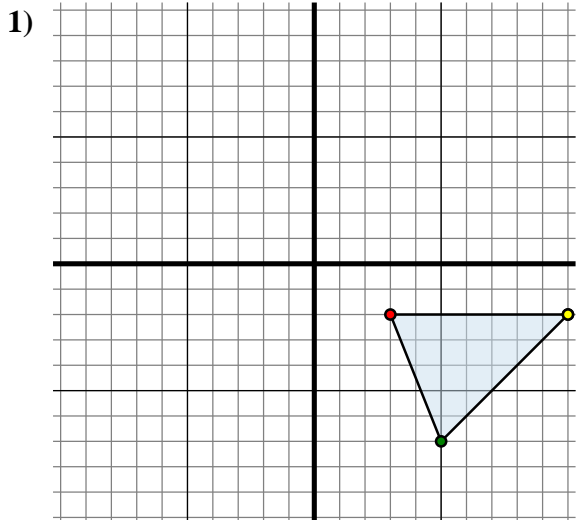




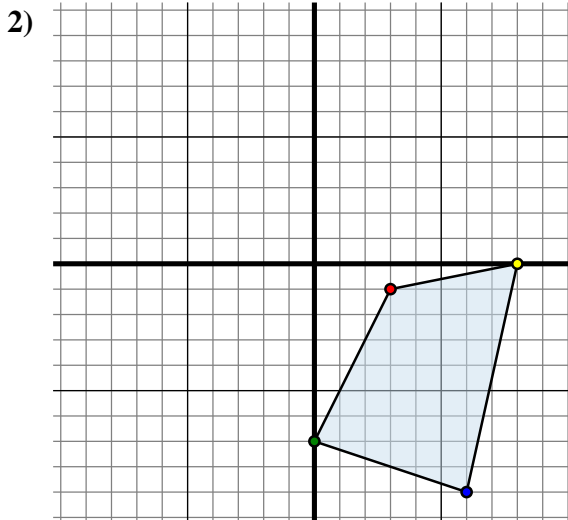
Trasla ogni forma come richiesto.



La figura qui sopra ha le seguenti coordinate:

- A. (3 ; -2)
- B. (5 ; -7)
- C. (10 ; -2)

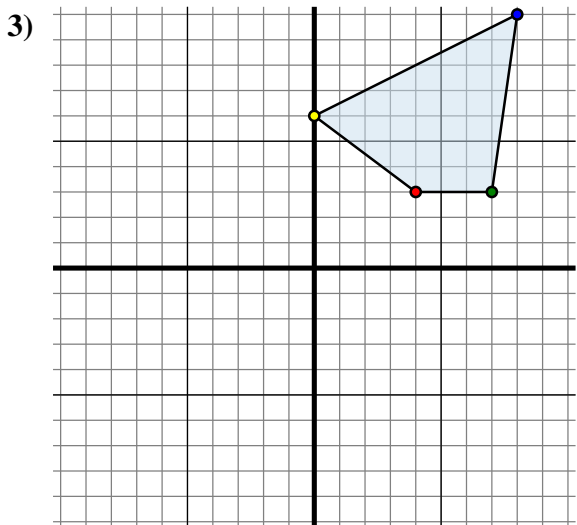
Sposta la figura di 8 unità verso sinistra e 3 unità verso giù.



La figura qui sopra ha le seguenti coordinate:

- A. (3 ; -1)
- B. (0 ; -7)
- C. (6 ; -9)
- D. (8 ; 0)

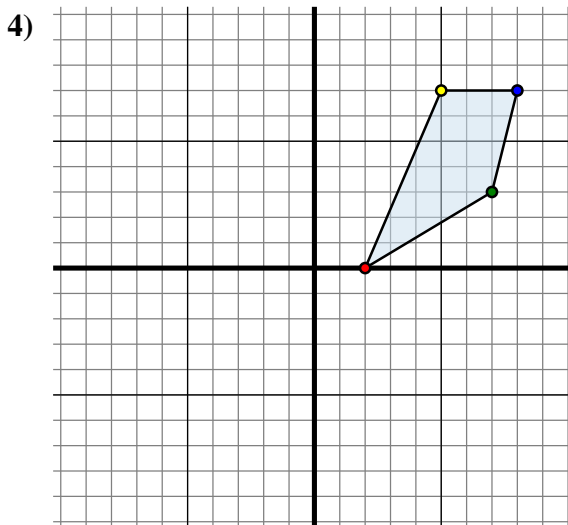
Sposta la figura di 3 unità verso sinistra e 7 unità verso su.



La figura qui sopra ha le seguenti coordinate:

- A. (4 ; 3)
- B. (7 ; 3)
- C. (8 ; 10)
- D. (0 ; 6)

Sposta la figura di 0 unità verso sinistra e 10 unità verso giù.



La figura qui sopra ha le seguenti coordinate:

- A. (2 ; 0)
- B. (7 ; 3)
- C. (8 ; 7)
- D. (5 ; 7)

Sposta la figura di 2 unità verso destra e 1 unità verso su.

Risposte

1A. (-5 ; -5)

1B. _____

1C. _____

1G. Grafico

2A. _____

2B. _____

2C. _____

2D. _____

2G. Grafico

3A. _____

3B. _____

3C. _____

3D. _____

3G. Grafico

4A. _____

4B. _____

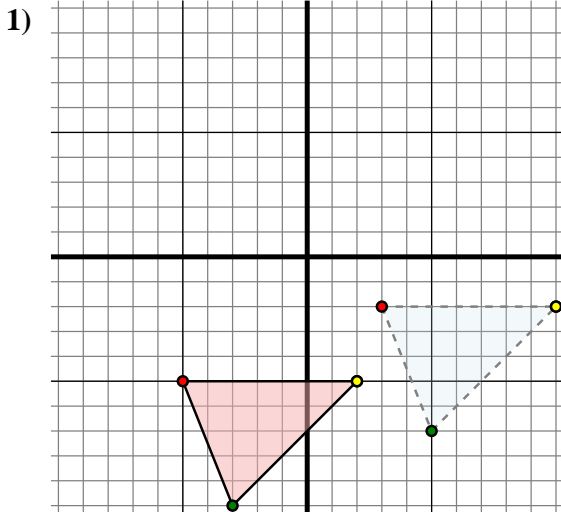
4C. _____

4D. _____

4G. Grafico



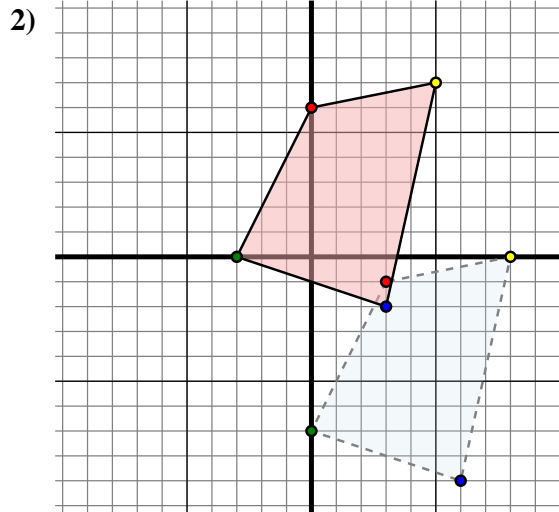
Trasla ogni forma come richiesto.



The shape above has the following coordinates:

- A. (3 ; -2)
- B. (5 ; -7)
- C. (10 ; -2)

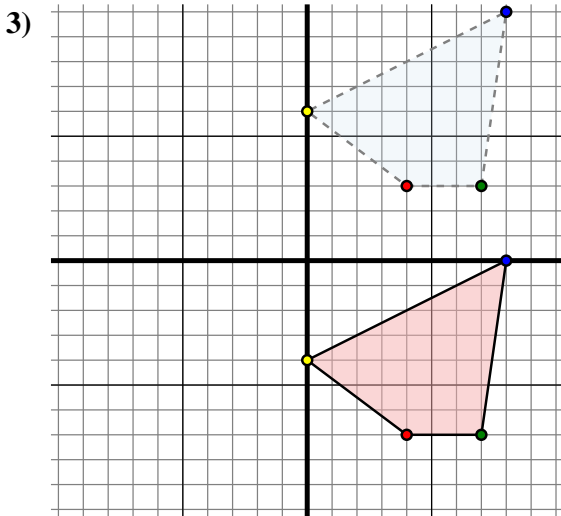
Sposta la figura di 8 unità verso sinistra e 3 unità verso giù.



The shape above has the following coordinates:

- A. (3 ; -1)
- B. (0 ; -7)
- C. (6 ; -9)
- D. (8 ; 0)

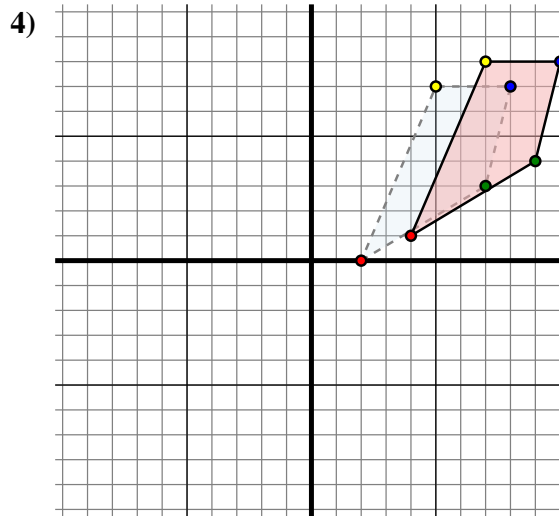
Sposta la figura di 3 unità verso sinistra e 7 unità verso su.



The shape above has the following coordinates:

- A. (4 ; 3)
- B. (7 ; 3)
- C. (8 ; 10)
- D. (0 ; 6)

Sposta la figura di 0 unità verso sinistra e 10 unità verso giù.



The shape above has the following coordinates:

- A. (2 ; 0)
- B. (7 ; 3)
- C. (8 ; 7)
- D. (5 ; 7)

Sposta la figura di 2 unità verso destra e 1 unità verso su.

Risposte

1A. **(-5 ; -5)**

1B. **(-3 ; -10)**

1C. **(2 ; -5)**

1G. **Grafico**

2A. **(0 ; 6)**

2B. **(-3 ; 0)**

2C. **(3 ; -2)**

2D. **(5 ; 7)**

2G. **Grafico**

3A. **(4 ; -7)**

3B. **(7 ; -7)**

3C. **(8 ; 0)**

3D. **(0 ; -4)**

3G. **Grafico**

4A. **(4 ; 1)**

4B. **(9 ; 4)**

4C. **(10 ; 8)**

4D. **(7 ; 8)**

4G. **Grafico**