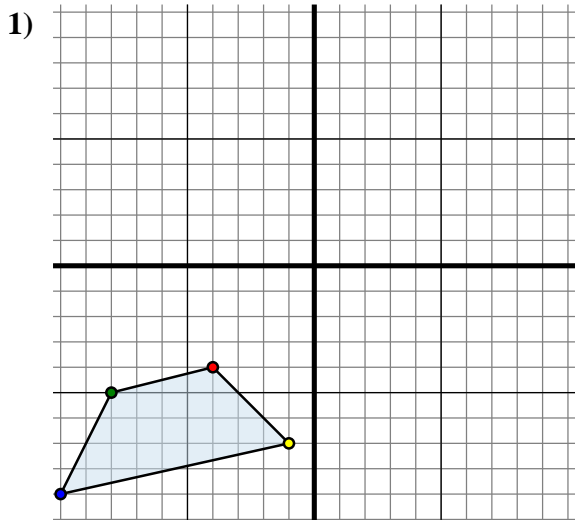




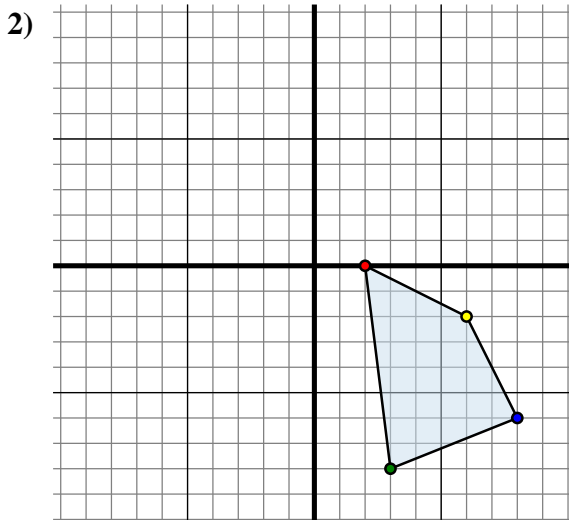
Trasla ogni forma come richiesto.



La figura qui sopra ha le seguenti coordinate:

- A. (-4 ; -4)
- B. (-8 ; -5)
- C. (-10 ; -9)
- D. (-1 ; -7)

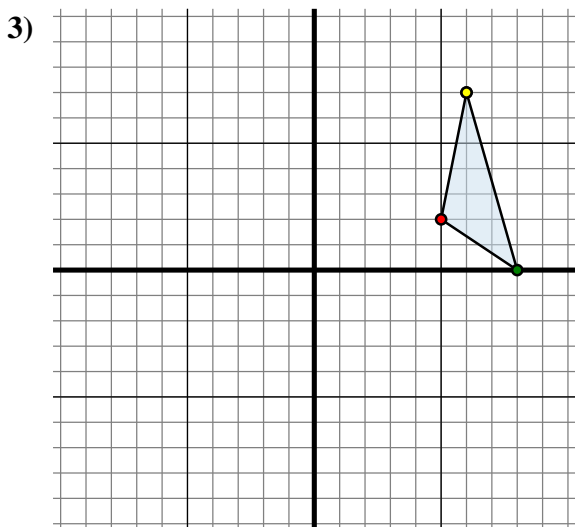
Sposta la figura di 11 unità verso destra e 3 unità verso su.



La figura qui sopra ha le seguenti coordinate:

- A. (2 ; 0)
- B. (3 ; -8)
- C. (8 ; -6)
- D. (6 ; -2)

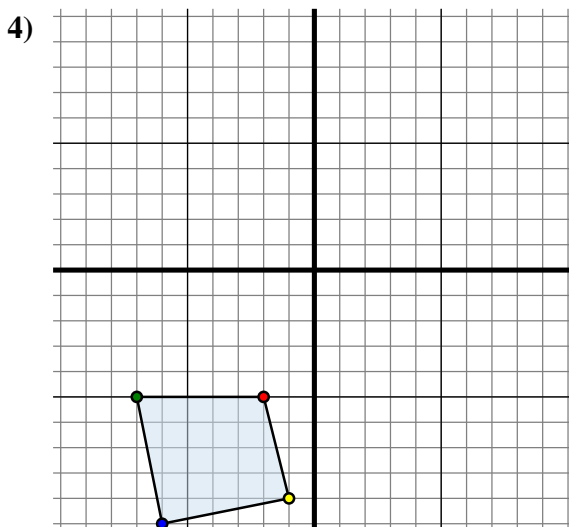
Sposta la figura di 11 unità verso sinistra e 9 unità verso su.



La figura qui sopra ha le seguenti coordinate:

- A. (5 ; 2)
- B. (8 ; 0)
- C. (6 ; 7)

Sposta la figura di 13 unità verso sinistra e 1 unità verso giù.



La figura qui sopra ha le seguenti coordinate:

- A. (-2 ; -5)
- B. (-7 ; -5)
- C. (-6 ; -10)
- D. (-1 ; -9)

Sposta la figura di 3 unità verso destra e 11 unità verso su.

**Risposte**

1A. (7 ; -1)

1B. \_\_\_\_\_

1C. \_\_\_\_\_

1D. \_\_\_\_\_

1G. Grafico

2A. \_\_\_\_\_

2B. \_\_\_\_\_

2C. \_\_\_\_\_

2D. \_\_\_\_\_

2G. Grafico

3A. \_\_\_\_\_

3B. \_\_\_\_\_

3C. \_\_\_\_\_

3G. Grafico

4A. \_\_\_\_\_

4B. \_\_\_\_\_

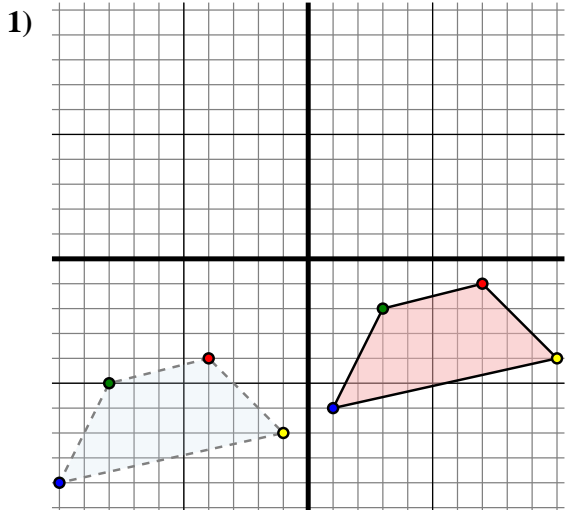
4C. \_\_\_\_\_

4D. \_\_\_\_\_

4G. Grafico



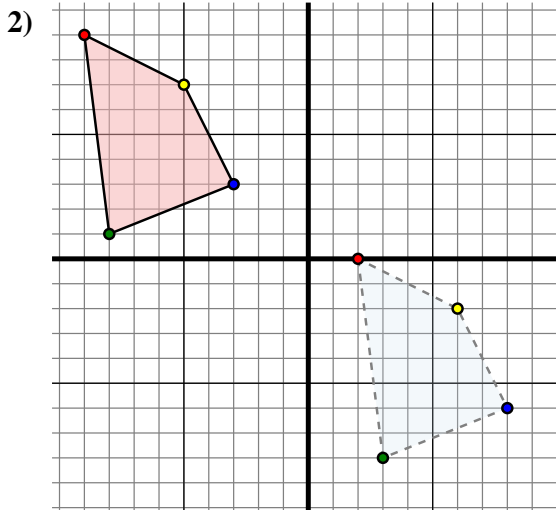
Trasla ogni forma come richiesto.



The shape above has the following coordinates:

- A. (-4 ; -4)
- B. (-8 ; -5)
- C. (-10 ; -9)
- D. (-1 ; -7)

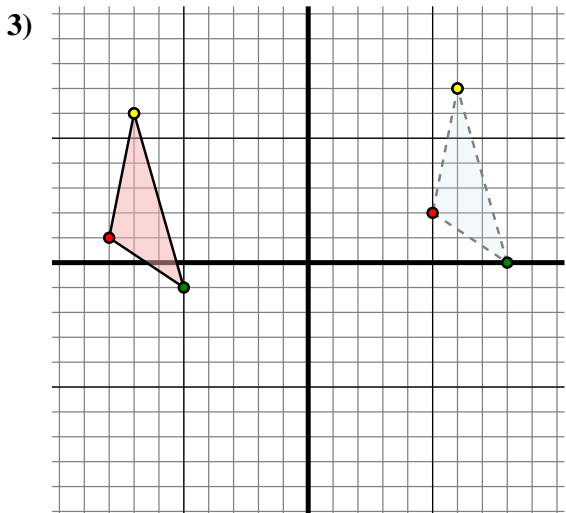
Sposta la figura di 11 unità verso destra e 3 unità verso su.



The shape above has the following coordinates:

- A. (2 ; 0)
- B. (3 ; -8)
- C. (8 ; -6)
- D. (6 ; -2)

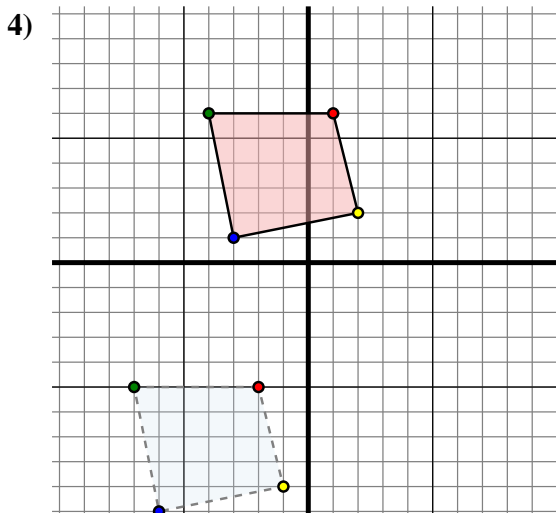
Sposta la figura di 11 unità verso sinistra e 9 unità verso su.



The shape above has the following coordinates:

- A. (5 ; 2)
- B. (8 ; 0)
- C. (6 ; 7)

Sposta la figura di 13 unità verso sinistra e 1 unità verso giù.



The shape above has the following coordinates:

- A. (-2 ; -5)
- B. (-7 ; -5)
- C. (-6 ; -10)
- D. (-1 ; -9)

Sposta la figura di 3 unità verso destra e 11 unità verso su.

**Risposte**

1A. (7 ; -1)

1B. (3 ; -2)

1C. (1 ; -6)

1D. (10 ; -4)

1G. Grafico

2A. (-9 ; 9)

2B. (-8 ; 1)

2C. (-3 ; 3)

2D. (-5 ; 7)

2G. Grafico

3A. (-8 ; 1)

3B. (-5 ; -1)

3C. (-7 ; 6)

3G. Grafico

4A. (1 ; 6)

4B. (-4 ; 6)

4C. (-3 ; 1)

4D. (2 ; 2)

4G. Grafico