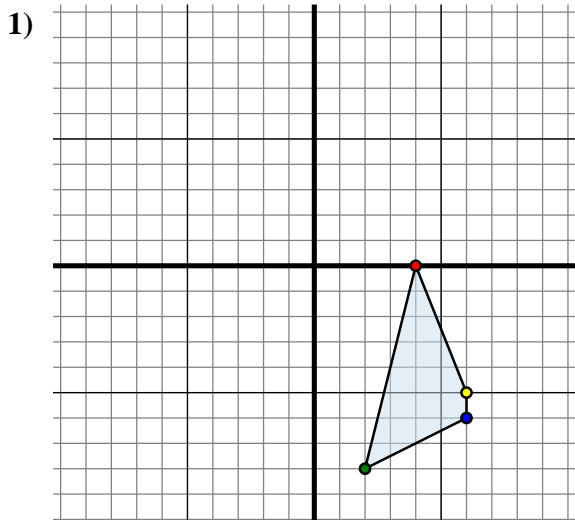




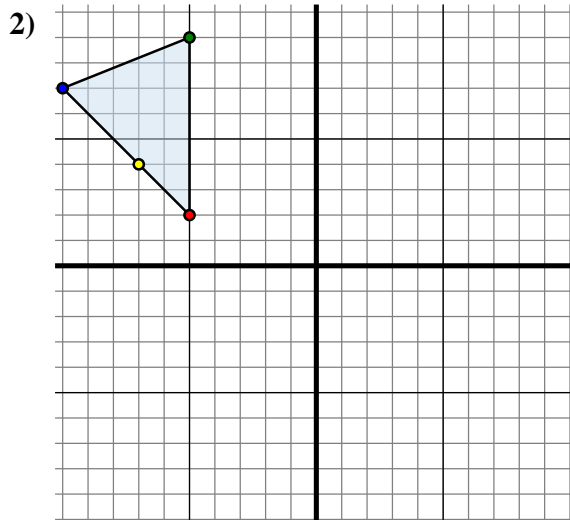
Trasla ogni forma come richiesto.



La figura qui sopra ha le seguenti coordinate:

- A. (4 ; 0)
- B. (2 ; -8)
- C. (6 ; -6)
- D. (6 ; -5)

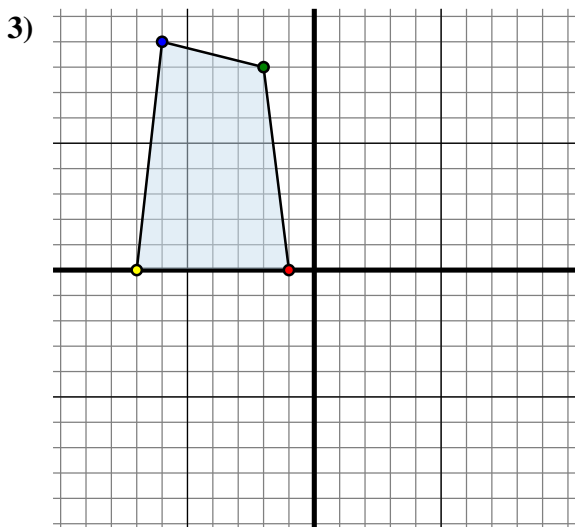
Sposta la figura di 6 unità verso sinistra e 7 unità verso su.



La figura qui sopra ha le seguenti coordinate:

- A. (-5 ; 2)
- B. (-5 ; 9)
- C. (-10 ; 7)
- D. (-7 ; 4)

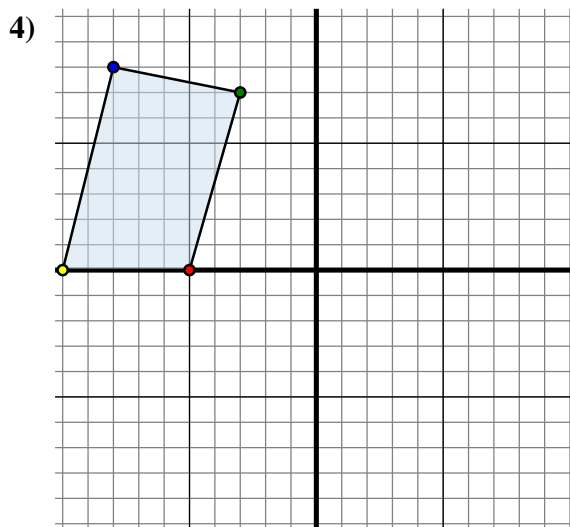
Sposta la figura di 0 unità verso sinistra e 12 unità verso giù.



La figura qui sopra ha le seguenti coordinate:

- A. (-1 ; 0)
- B. (-2 ; 8)
- C. (-6 ; 9)
- D. (-7 ; 0)

Sposta la figura di 8 unità verso destra e 1 unità verso giù.



La figura qui sopra ha le seguenti coordinate:

- A. (-5 ; 0)
- B. (-3 ; 7)
- C. (-8 ; 8)
- D. (-10 ; 0)

Sposta la figura di 4 unità verso destra e 1 unità verso giù.

Risposte

1A. (-2 ; 7)

1B. _____

1C. _____

1D. _____

1G. Grafico

2A. _____

2B. _____

2C. _____

2D. _____

2G. Grafico

3A. _____

3B. _____

3C. _____

3D. _____

3G. Grafico

4A. _____

4B. _____

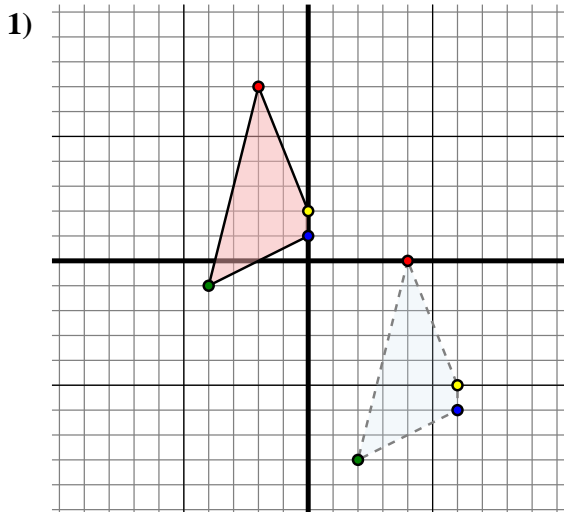
4C. _____

4D. _____

4G. Grafico



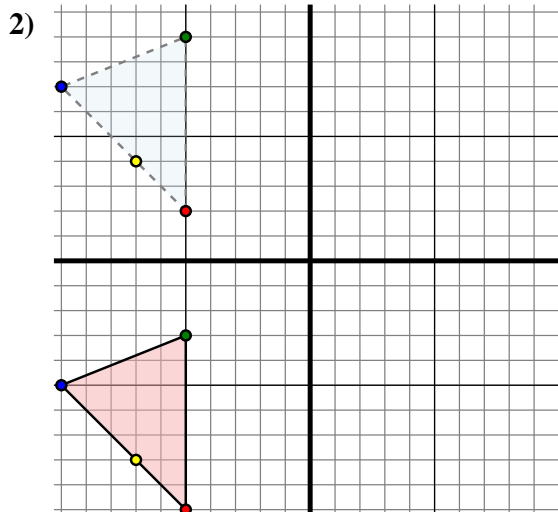
Trasla ogni forma come richiesto.



The shape above has the following coordinates:

- A. (4 ; 0)
- B. (2 ; -8)
- C. (6 ; -6)
- D. (6 ; -5)

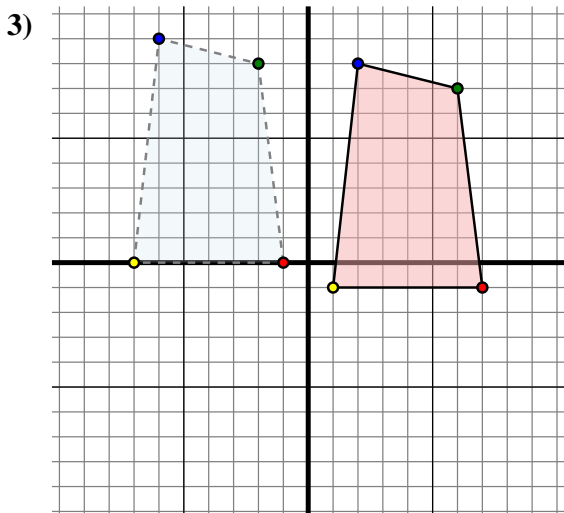
Sposta la figura di 6 unità verso sinistra e 7 unità verso su.



The shape above has the following coordinates:

- A. (-5 ; 2)
- B. (-5 ; 9)
- C. (-10 ; 7)
- D. (-7 ; 4)

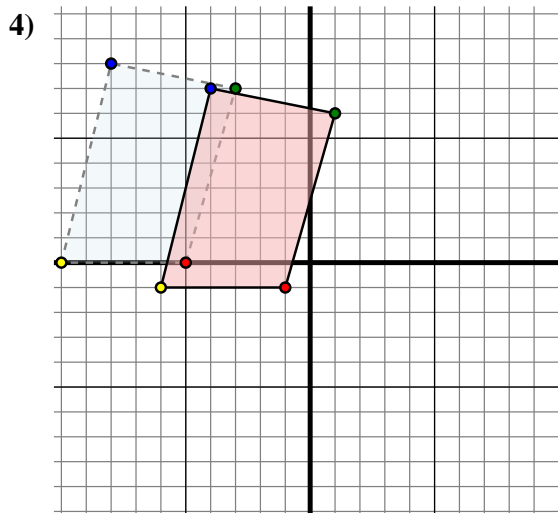
Sposta la figura di 0 unità verso sinistra e 12 unità verso giù.



The shape above has the following coordinates:

- A. (-1 ; 0)
- B. (-2 ; 8)
- C. (-6 ; 9)
- D. (-7 ; 0)

Sposta la figura di 8 unità verso destra e 1 unità verso giù.



The shape above has the following coordinates:

- A. (-5 ; 0)
- B. (-3 ; 7)
- C. (-8 ; 8)
- D. (-10 ; 0)

Sposta la figura di 4 unità verso destra e 1 unità verso giù.

Risposte

1A. **(-2 ; 7)**

1B. **(-4 ; -1)**

1C. **(0 ; 1)**

1D. **(0 ; 2)**

1G. **Grafico**

2A. **(-5 ; -10)**

2B. **(-5 ; -3)**

2C. **(-10 ; -5)**

2D. **(-7 ; -8)**

2G. **Grafico**

3A. **(7 ; -1)**

3B. **(6 ; 7)**

3C. **(2 ; 8)**

3D. **(1 ; -1)**

3G. **Grafico**

4A. **(-1 ; -1)**

4B. **(1 ; 6)**

4C. **(-4 ; 7)**

4D. **(-6 ; -1)**

4G. **Grafico**