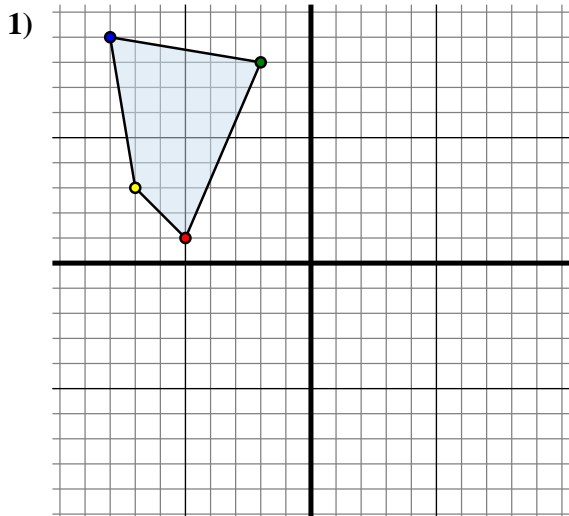




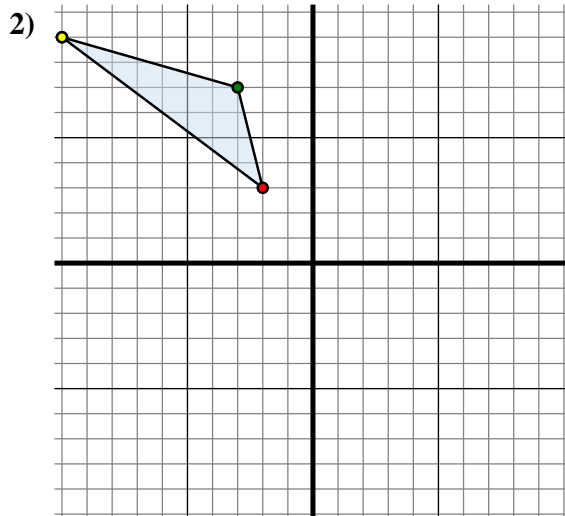
Trasla ogni forma come richiesto.



La figura qui sopra ha le seguenti coordinate:

- A. (-5 ; 1)
- B. (-2 ; 8)
- C. (-8 ; 9)
- D. (-7 ; 3)

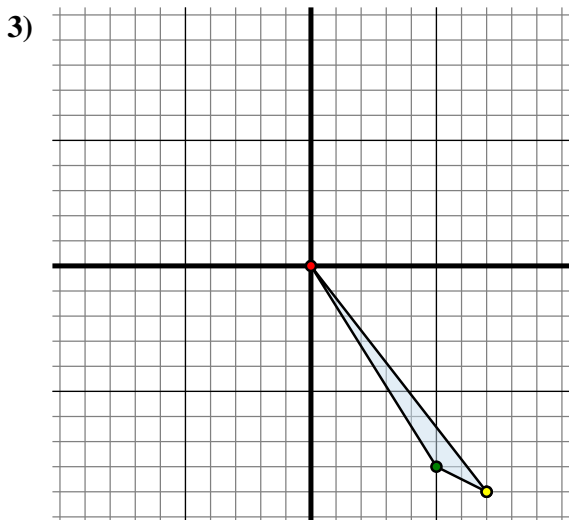
Sposta la figura di 5 unità verso destra e 1 unità verso su.



La figura qui sopra ha le seguenti coordinate:

- A. (-2 ; 3)
- B. (-3 ; 7)
- C. (-10 ; 9)

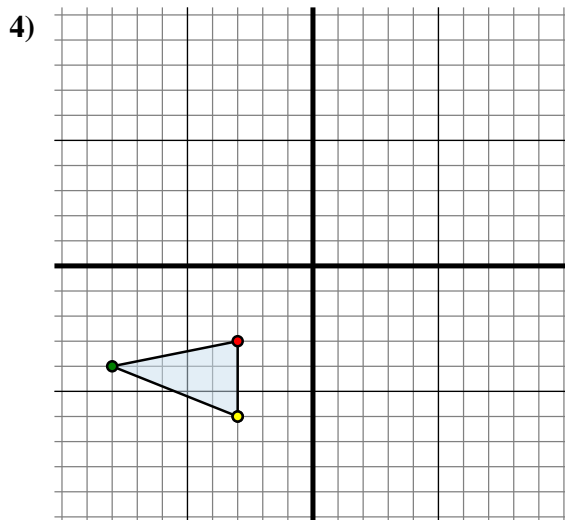
Sposta la figura di 10 unità verso destra e 2 unità verso giù.



La figura qui sopra ha le seguenti coordinate:

- A. (0 ; 0)
- B. (5 ; -8)
- C. (7 ; -9)

Sposta la figura di 2 unità verso sinistra e 5 unità verso su.



La figura qui sopra ha le seguenti coordinate:

- A. (-3 ; -3)
- B. (-8 ; -4)
- C. (-3 ; -6)

Sposta la figura di 8 unità verso destra e 9 unità verso su.

Risposte

1A. (0 ; 2)

1B. _____

1C. _____

1D. _____

1G. Grafico

2A. _____

2B. _____

2C. _____

2G. Grafico

3A. _____

3B. _____

3C. _____

3G. Grafico

4A. _____

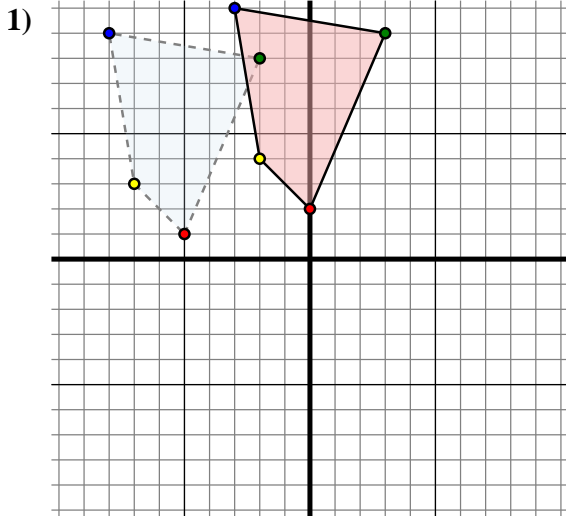
4B. _____

4C. _____

4G. Grafico



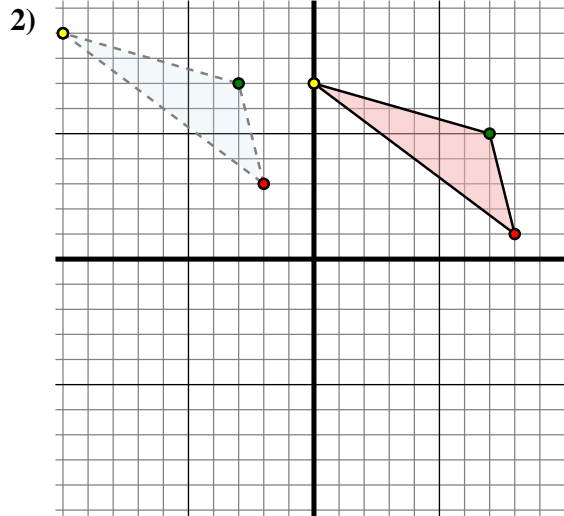
Trasla ogni forma come richiesto.



The shape above has the following coordinates:

- A. (-5 ; 1)
- B. (-2 ; 8)
- C. (-8 ; 9)
- D. (-7 ; 3)

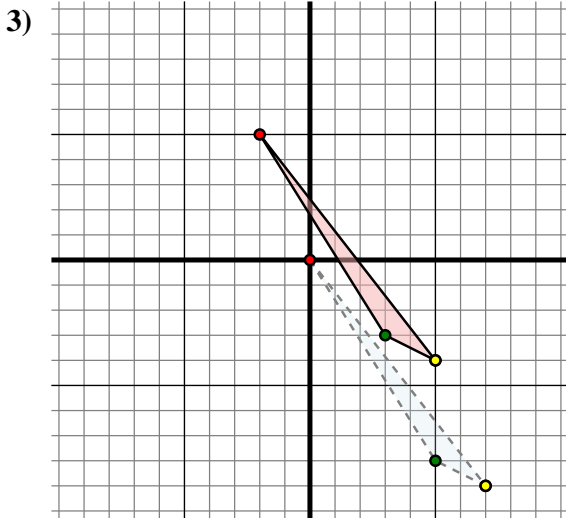
Sposta la figura di 5 unità verso destra e 1 unità verso su.



The shape above has the following coordinates:

- A. (-2 ; 3)
- B. (-3 ; 7)
- C. (-10 ; 9)

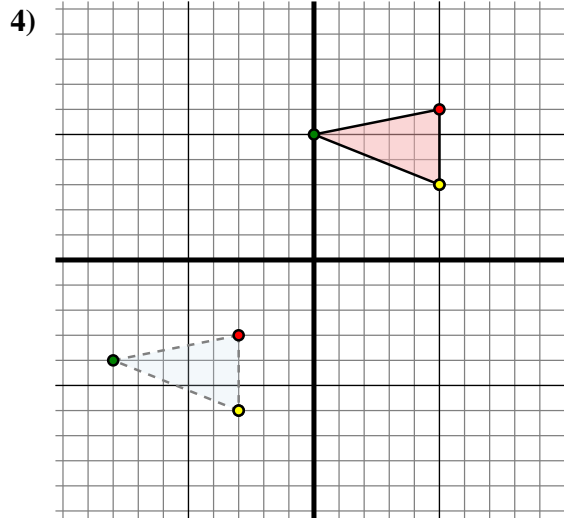
Sposta la figura di 10 unità verso destra e 2 unità verso giù.



The shape above has the following coordinates:

- A. (0 ; 0)
- B. (5 ; -8)
- C. (7 ; -9)

Sposta la figura di 2 unità verso sinistra e 5 unità verso su.



The shape above has the following coordinates:

- A. (-3 ; -3)
- B. (-8 ; -4)
- C. (-3 ; -6)

Sposta la figura di 8 unità verso destra e 9 unità verso su.

Risposte

1A. **(0 ; 2)**

1B. **(3 ; 9)**

1C. **(-3 ; 10)**

1D. **(-2 ; 4)**

1G. **Grafico**

2A. **(8 ; 1)**

2B. **(7 ; 5)**

2C. **(0 ; 7)**

2G. **Grafico**

3A. **(-2 ; 5)**

3B. **(3 ; -3)**

3C. **(5 ; -4)**

3G. **Grafico**

4A. **(5 ; 6)**

4B. **(0 ; 5)**

4C. **(5 ; 3)**

4G. **Grafico**