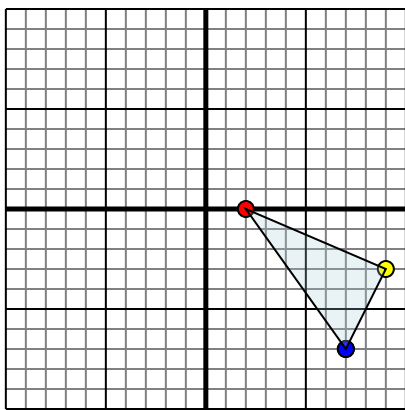




Specchia la forma come descritto

1)

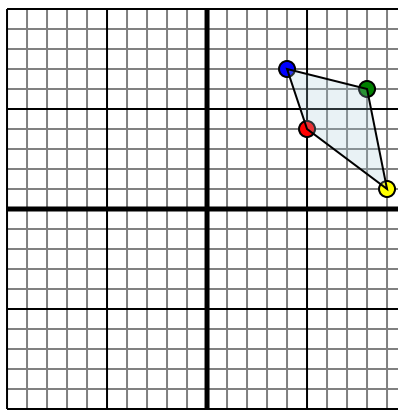


La figura qui sopra ha le seguenti coordinate::

- A. (2;0)
- B. (9;-3)
- C. (7;-7)

Specchia la figura rispetto all'asse x.

2)

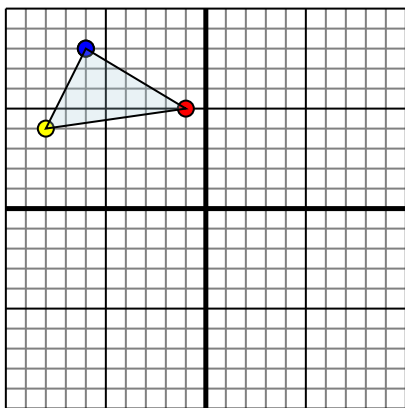


La figura qui sopra ha le seguenti coordinate::

- A. (5;4)
- B. (9;1)
- C. (8;6)
- D. (4;7)

Specchia la figura rispetto all'asse y.

3)

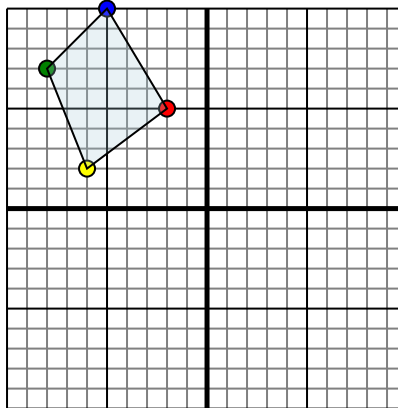


La figura qui sopra ha le seguenti coordinate::

- A. (-1;5)
- B. (-8;4)
- C. (-6;8)

Specchia la figura rispetto all'asse y.

4)



La figura qui sopra ha le seguenti coordinate::

- A. (-2;5)
- B. (-6;2)
- C. (-8;7)
- D. (-5;10)

Specchia la figura rispetto all'asse y.

Risposte

1a. _____

1b. _____

1c. _____

Grafico

1. _____

2a. _____

2b. _____

2c. _____

2d. _____

Grafico

2. _____

3a. _____

3b. _____

3c. _____

Grafico

3. _____

4a. _____

4b. _____

4c. _____

4d. _____

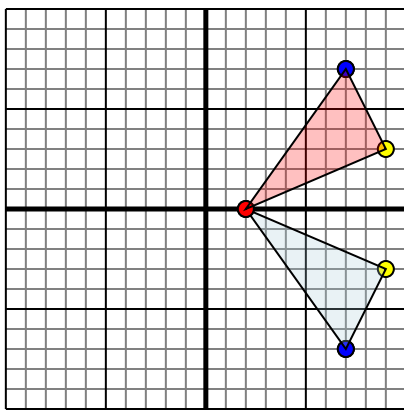
Grafico

4. _____



Specchia la forma come descritto

1)

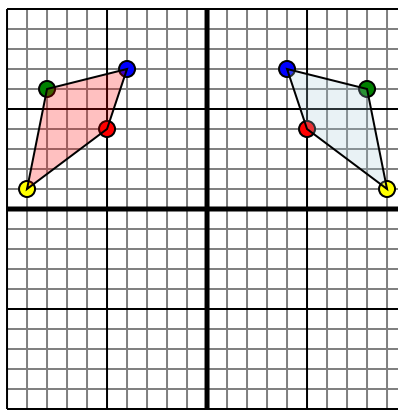


La figura qui sopra ha le seguenti coordinate::

- A. (2;0)
- B. (9;-3)
- C. (7;-7)

Specchia la figura rispetto all'asse x.

2)

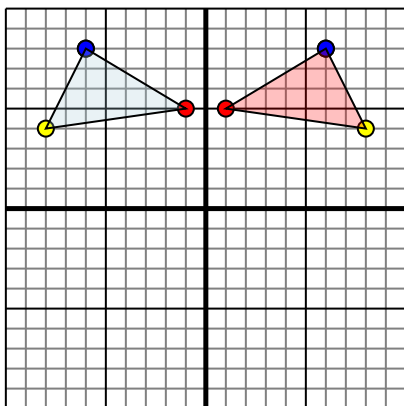


La figura qui sopra ha le seguenti coordinate::

- A. (5;4)
- B. (9;1)
- C. (8;6)
- D. (4;7)

Specchia la figura rispetto all'asse y.

3)

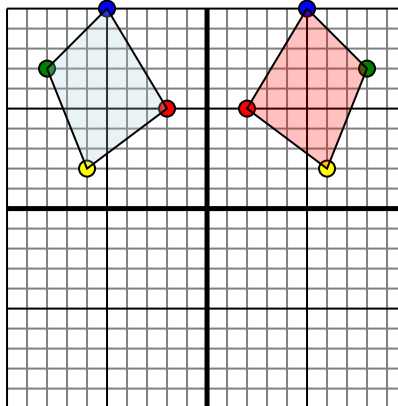


La figura qui sopra ha le seguenti coordinate::

- A. (-1;5)
- B. (-8;4)
- C. (-6;8)

Specchia la figura rispetto all'asse y.

4)



La figura qui sopra ha le seguenti coordinate::

- A. (-2;5)
- B. (-6;2)
- C. (-8;7)
- D. (-5;10)

Specchia la figura rispetto all'asse y.

Risposte1a. (2;0)1b. (9;3)1c. (7;7)1. Grafico2a. (-5;4)2b. (-9;1)2c. (-8;6)2d. (-4;7)2. Grafico3a. (1;5)3b. (8;4)3c. (6;8)3. Grafico4a. (2;5)4b. (6;2)4c. (8;7)4d. (5;10)4. Grafico