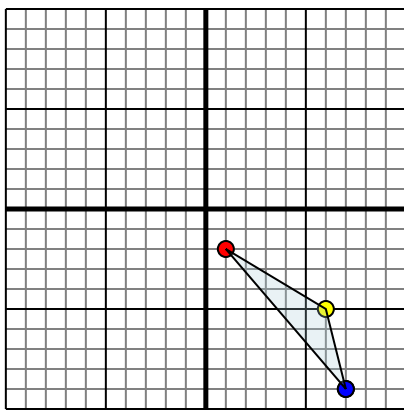




Specchia la forma come descritto

1)

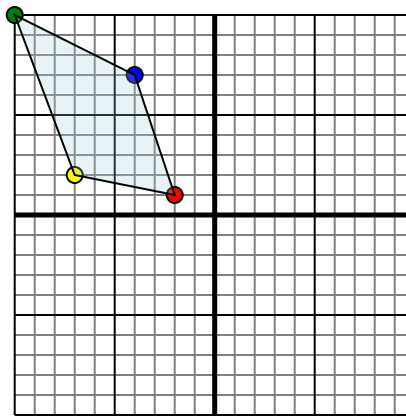


La figura qui sopra ha le seguenti coordinate::

- A. (1;-2)
- B. (6;-5)
- C. (7;-9)

Specchia la figura rispetto all'asse y.

2)

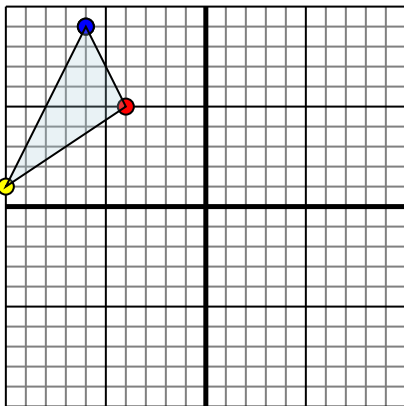


La figura qui sopra ha le seguenti coordinate::

- A. (-2;1)
- B. (-7;2)
- C. (-10;10)
- D. (-4;7)

Specchia la figura rispetto all'asse x.

3)

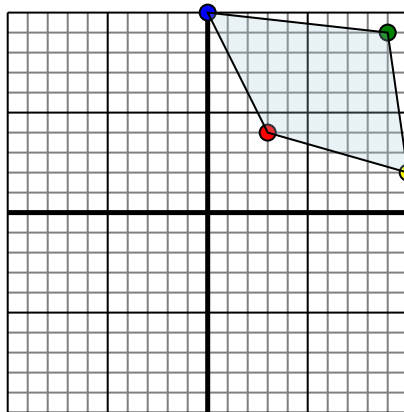


La figura qui sopra ha le seguenti coordinate::

- A. (-4;5)
- B. (-10;1)
- C. (-6;9)

Specchia la figura rispetto all'asse y.

4)



La figura qui sopra ha le seguenti coordinate::

- A. (3;4)
- B. (10;2)
- C. (9;9)
- D. (0;10)

Specchia la figura rispetto all'asse y.

Risposte

1a. _____

1b. _____

1c. _____

1. **Grafico**

2a. _____

2b. _____

2c. _____

2d. _____

2. **Grafico**

3a. _____

3b. _____

3c. _____

3. **Grafico**

4a. _____

4b. _____

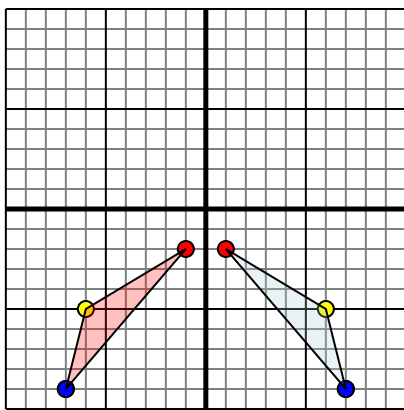
4c. _____

4d. _____

4. **Grafico**

**Specchia la forma come descritto**

1)

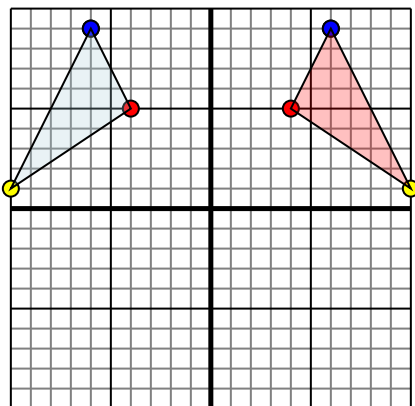


La figura qui sopra ha le seguenti coordinate::

- A. (1;-2)
- B. (6;-5)
- C. (7;-9)

Specchia la figura rispetto all'asse y.

3)

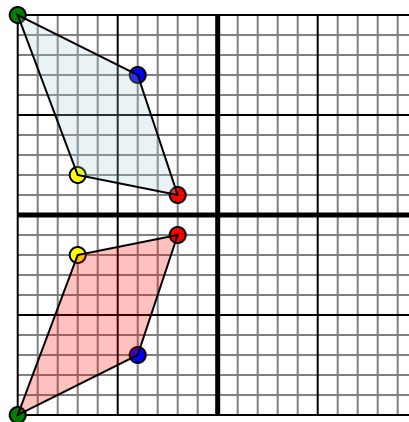


La figura qui sopra ha le seguenti coordinate::

- A. (-4;5)
- B. (-10;1)
- C. (-6;9)

Specchia la figura rispetto all'asse y.

2)

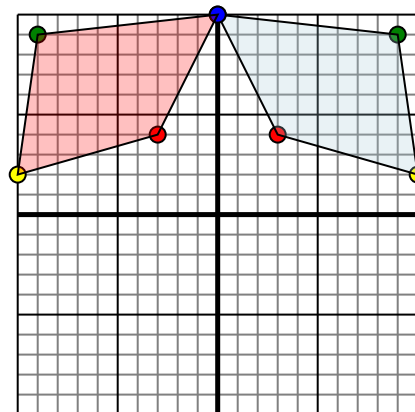


La figura qui sopra ha le seguenti coordinate::

- A. (-2;1)
- B. (-7;2)
- C. (-10;10)
- D. (-4;7)

Specchia la figura rispetto all'asse x.

4)



La figura qui sopra ha le seguenti coordinate::

- A. (3;4)
- B. (10;2)
- C. (9;9)
- D. (0;10)

Specchia la figura rispetto all'asse y.

Risposte1a. **(-1;-2)**1b. **(-6;-5)**1c. **(-7;-9)**1. **Grafico**2a. **(-2;-1)**2b. **(-7;-2)**2c. **(-10;-10)**2d. **(-4;-7)**2. **Grafico**3a. **(4;5)**3b. **(10;1)**3c. **(6;9)**3. **Grafico**4a. **(-3;4)**4b. **(-10;2)**4c. **(-9;9)**4d. **(0;10)**4. **Grafico**