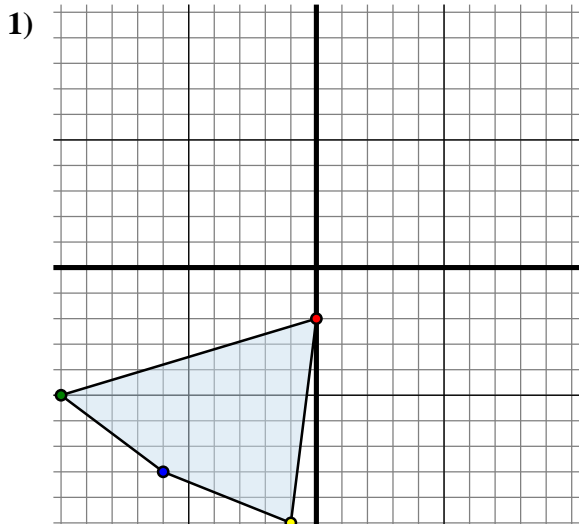




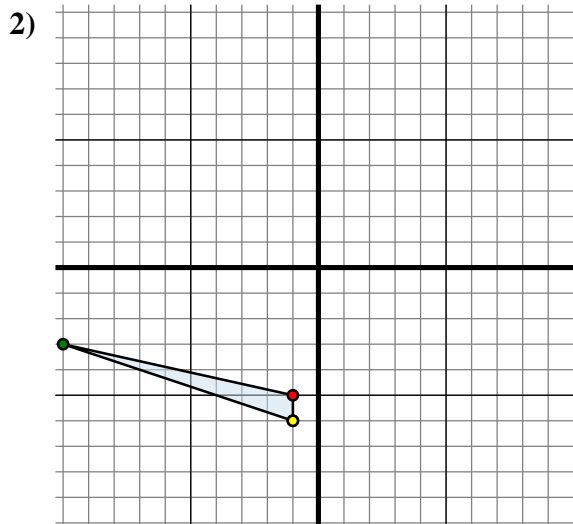
Specchia la forma come descritto



La figura qui sopra ha le seguenti coordinate:

- A. (0 ; -2)
- B. (-10 ; -5)
- C. (-6 ; -8)
- D. (-1 ; -10)

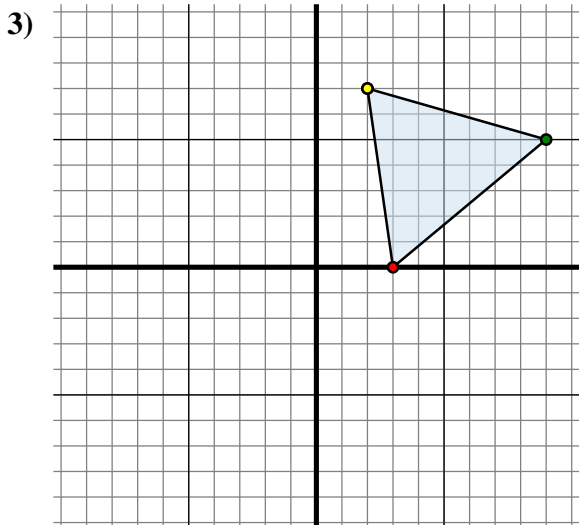
Specchia la figura rispetto all'asse x.



La figura qui sopra ha le seguenti coordinate:

- A. (-1 ; -5)
- B. (-10 ; -3)
- C. (-1 ; -6)

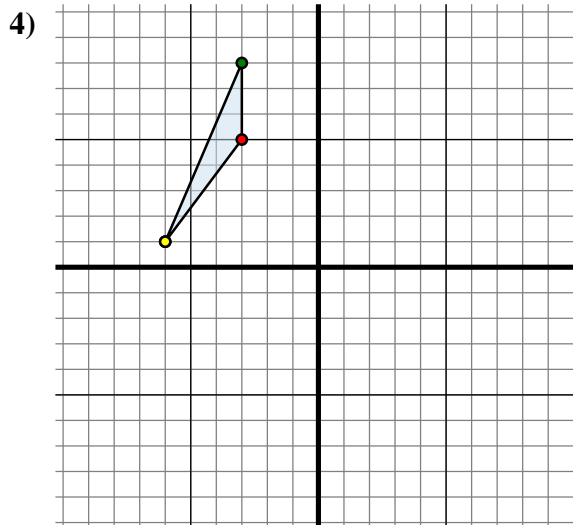
Specchia la figura rispetto all'asse x.



La figura qui sopra ha le seguenti coordinate:

- A. (3 ; 0)
- B. (9 ; 5)
- C. (2 ; 7)

Specchia la figura rispetto all'asse y.



La figura qui sopra ha le seguenti coordinate:

- A. (-3 ; 5)
- B. (-3 ; 8)
- C. (-6 ; 1)

Specchia la figura rispetto all'asse y.

Risposte1A. (0 ; 2)

1B. _____

1C. _____

1D. _____

1G. Grafico

2A. _____

2B. _____

2C. _____

2G. Grafico

3A. _____

3B. _____

3C. _____

3G. Grafico

4A. _____

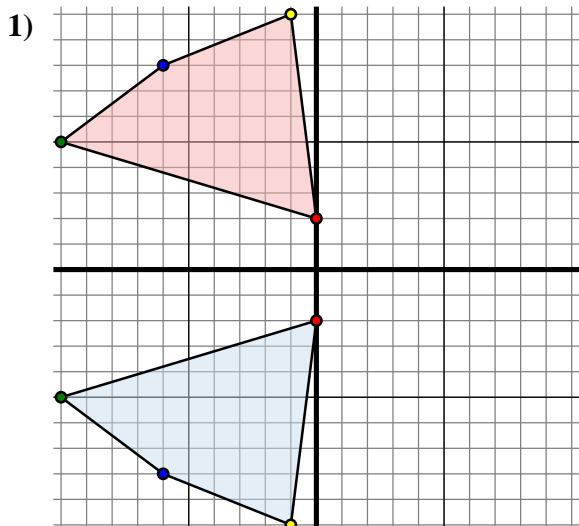
4B. _____

4C. _____

4G. Grafico



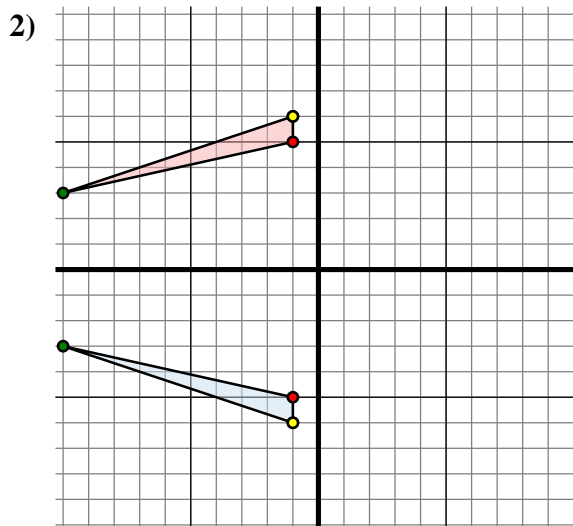
Specchia la forma come descritto



La figura qui sopra ha le seguenti coordinate:

- A. (0 ; -2)
- B. (-10 ; -5)
- C. (-6 ; -8)
- D. (-1 ; -10)

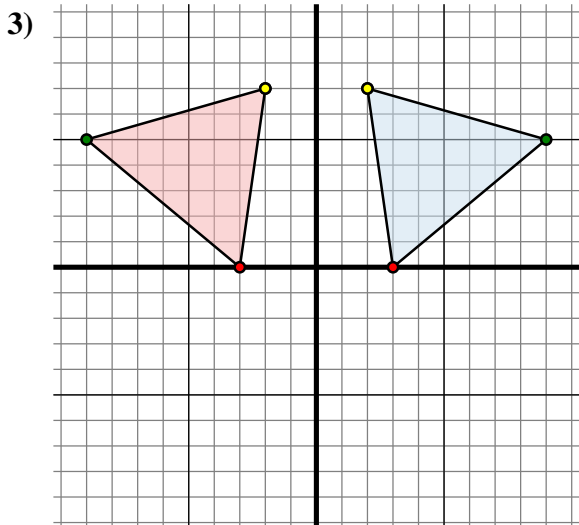
Specchia la figura rispetto all'asse x.



La figura qui sopra ha le seguenti coordinate:

- A. (-1 ; -5)
- B. (-10 ; -3)
- C. (-1 ; -6)

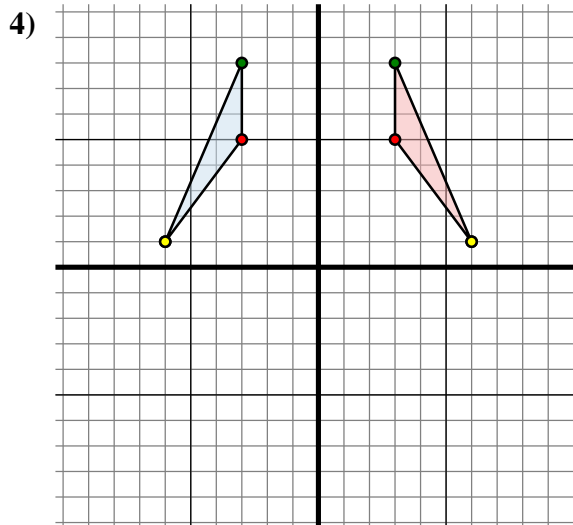
Specchia la figura rispetto all'asse x.



La figura qui sopra ha le seguenti coordinate:

- A. (3 ; 0)
- B. (9 ; 5)
- C. (2 ; 7)

Specchia la figura rispetto all'asse y.



La figura qui sopra ha le seguenti coordinate:

- A. (-3 ; 5)
- B. (-3 ; 8)
- C. (-6 ; 1)

Specchia la figura rispetto all'asse y.

Risposte

1A. **(0 ; 2)**

1B. **(-10 ; 5)**

1C. **(-6 ; 8)**

1D. **(-1 ; 10)**

1G. **Grafico**

2A. **(-1 ; 5)**

2B. **(-10 ; 3)**

2C. **(-1 ; 6)**

2G. **Grafico**

3A. **(-3 ; 0)**

3B. **(-9 ; 5)**

3C. **(-2 ; 7)**

3G. **Grafico**

4A. **(3 ; 5)**

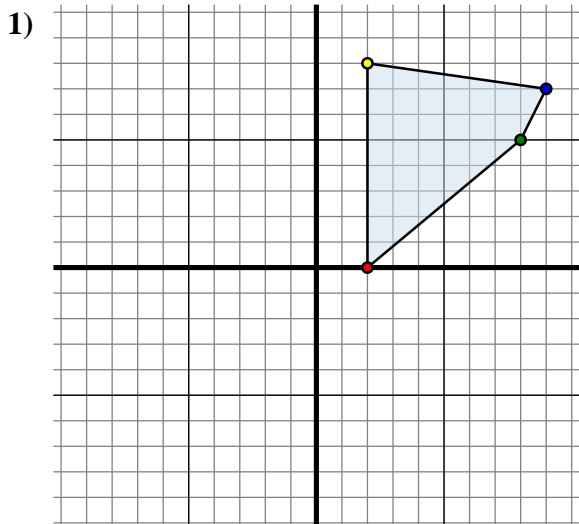
4B. **(3 ; 8)**

4C. **(6 ; 1)**

4G. **Grafico**



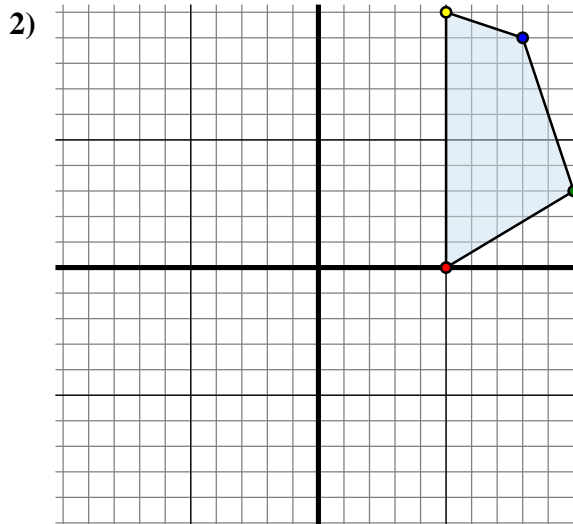
Specchia la forma come descritto



La figura qui sopra ha le seguenti coordinate:

- A. (2 ; 0)
- B. (8 ; 5)
- C. (9 ; 7)
- D. (2 ; 8)

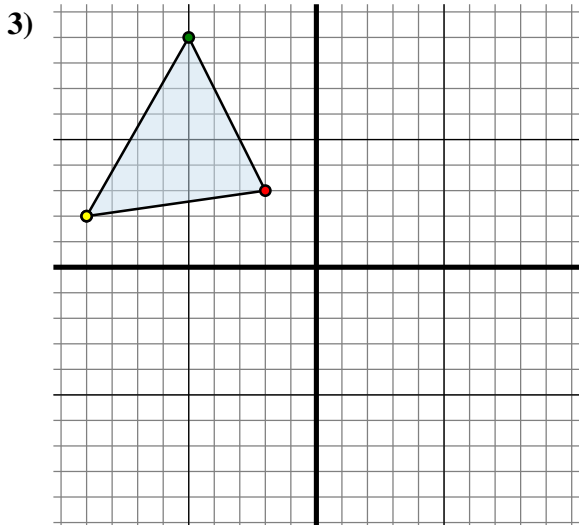
Specchia la figura rispetto all'asse y.



La figura qui sopra ha le seguenti coordinate:

- A. (5 ; 0)
- B. (10 ; 3)
- C. (8 ; 9)
- D. (5 ; 10)

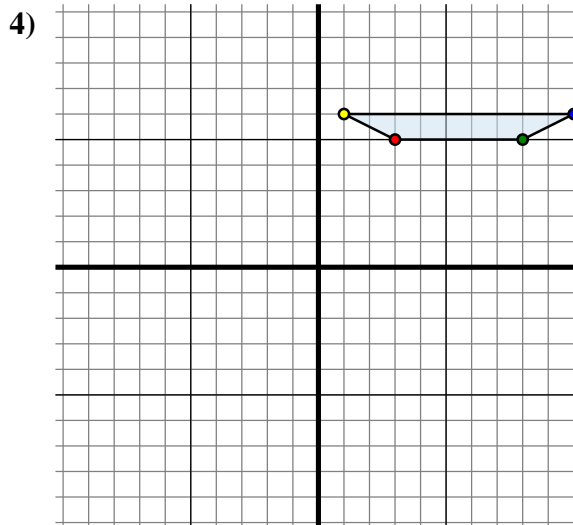
Specchia la figura rispetto all'asse x.



La figura qui sopra ha le seguenti coordinate:

- A. (-2 ; 3)
- B. (-5 ; 9)
- C. (-9 ; 2)

Specchia la figura rispetto all'asse y.



La figura qui sopra ha le seguenti coordinate:

- A. (3 ; 5)
- B. (8 ; 5)
- C. (10 ; 6)
- D. (1 ; 6)

Specchia la figura rispetto all'asse x.

Risposte1A. (-2 ; 0)

1B. _____

1C. _____

1D. _____

1G. Grafico

2A. _____

2B. _____

2C. _____

2D. _____

2G. Grafico

3A. _____

3B. _____

3C. _____

3G. Grafico

4A. _____

4B. _____

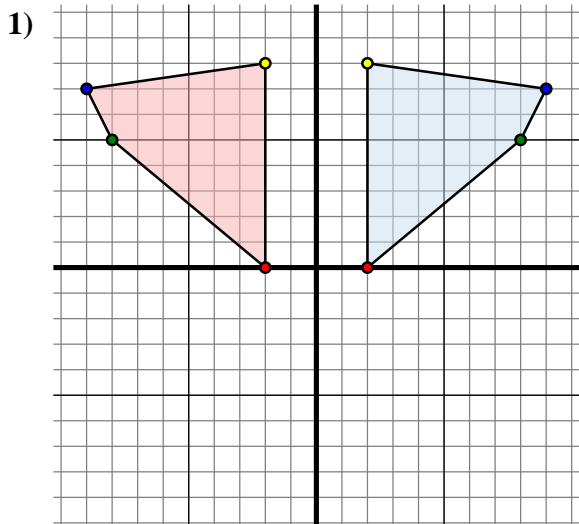
4C. _____

4D. _____

4G. Grafico



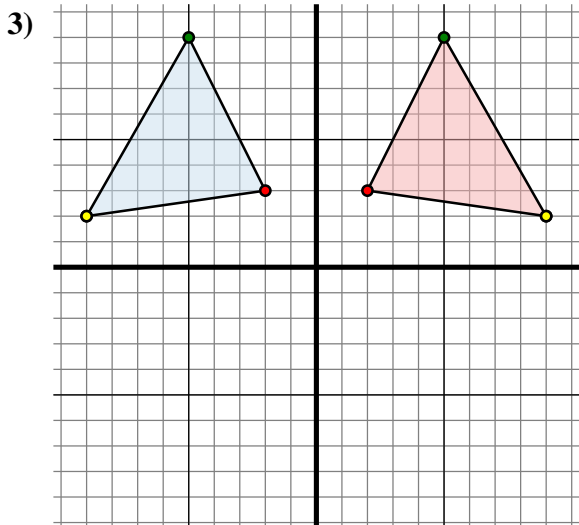
Specchia la forma come descritto



La figura qui sopra ha le seguenti coordinate:

- A. (2 ; 0)
- B. (8 ; 5)
- C. (9 ; 7)
- D. (2 ; 8)

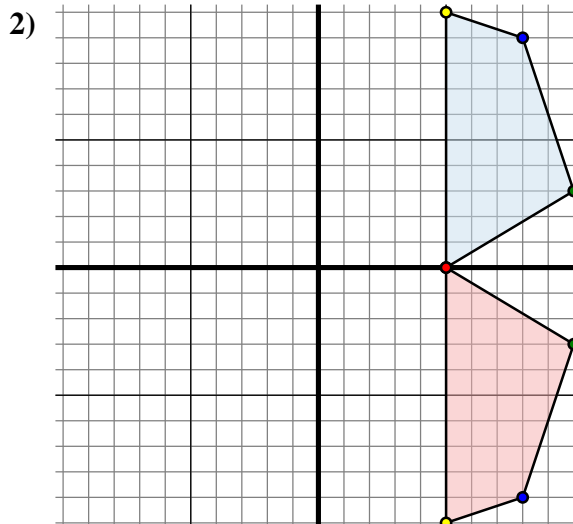
Specchia la figura rispetto all'asse y.



La figura qui sopra ha le seguenti coordinate:

- A. (-2 ; 3)
- B. (-5 ; 9)
- C. (-9 ; 2)

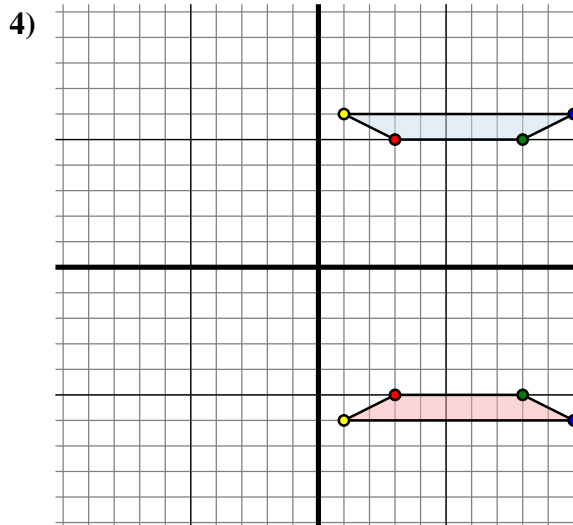
Specchia la figura rispetto all'asse y.



La figura qui sopra ha le seguenti coordinate:

- A. (5 ; 0)
- B. (10 ; 3)
- C. (8 ; 9)
- D. (5 ; 10)

Specchia la figura rispetto all'asse x.



La figura qui sopra ha le seguenti coordinate:

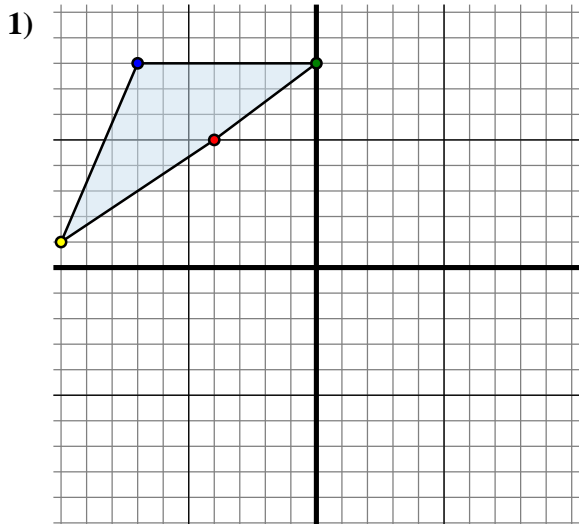
- A. (3 ; 5)
- B. (8 ; 5)
- C. (10 ; 6)
- D. (1 ; 6)

Specchia la figura rispetto all'asse x.

Risposte1A. **(-2 ; 0)**1B. **(-8 ; 5)**1C. **(-9 ; 7)**1D. **(-2 ; 8)**1G. **Grafico**2A. **(5 ; 0)**2B. **(10 ; -3)**2C. **(8 ; -9)**2D. **(5 ; -10)**2G. **Grafico**3A. **(2 ; 3)**3B. **(5 ; 9)**3C. **(9 ; 2)**3G. **Grafico**4A. **(3 ; -5)**4B. **(8 ; -5)**4C. **(10 ; -6)**4D. **(1 ; -6)**4G. **Grafico**



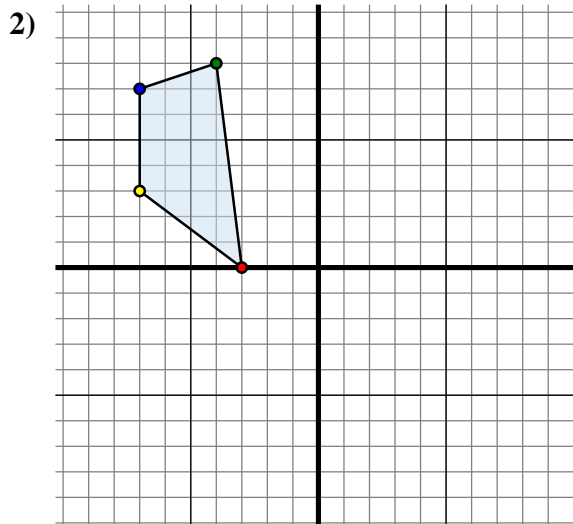
Specchia la forma come descritto



La figura qui sopra ha le seguenti coordinate:

- A. (-4 ; 5)
- B. (0 ; 8)
- C. (-7 ; 8)
- D. (-10 ; 1)

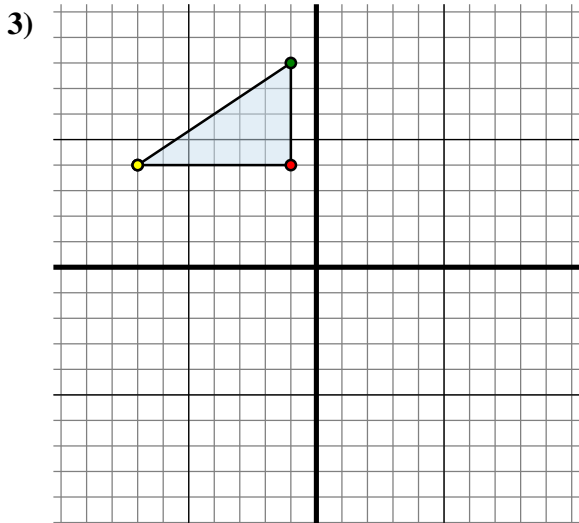
Specchia la figura rispetto all'asse x.



La figura qui sopra ha le seguenti coordinate:

- A. (-3 ; 0)
- B. (-4 ; 8)
- C. (-7 ; 7)
- D. (-7 ; 3)

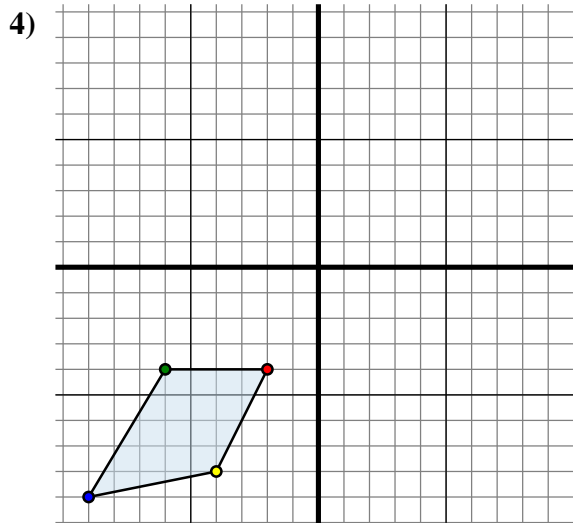
Specchia la figura rispetto all'asse y.



La figura qui sopra ha le seguenti coordinate:

- A. (-1 ; 4)
- B. (-1 ; 8)
- C. (-7 ; 4)

Specchia la figura rispetto all'asse x.



La figura qui sopra ha le seguenti coordinate:

- A. (-2 ; -4)
- B. (-6 ; -4)
- C. (-9 ; -9)
- D. (-4 ; -8)

Specchia la figura rispetto all'asse y.

Risposte1A. (-4 ; -5)

1B. _____

1C. _____

1D. _____

1G. Grafico

2A. _____

2B. _____

2C. _____

2D. _____

2G. Grafico

3A. _____

3B. _____

3C. _____

3G. Grafico

4A. _____

4B. _____

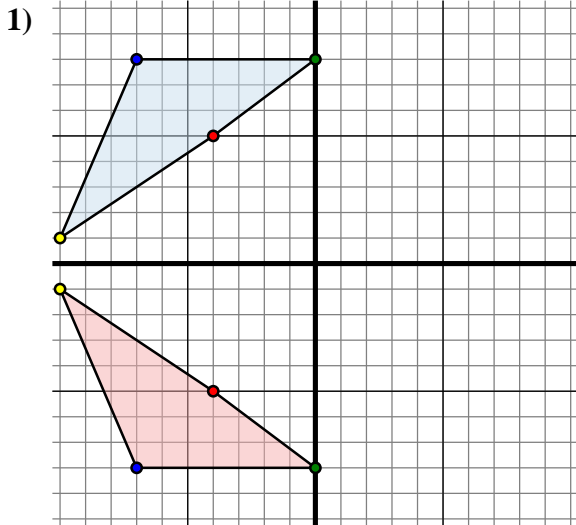
4C. _____

4D. _____

4G. Grafico



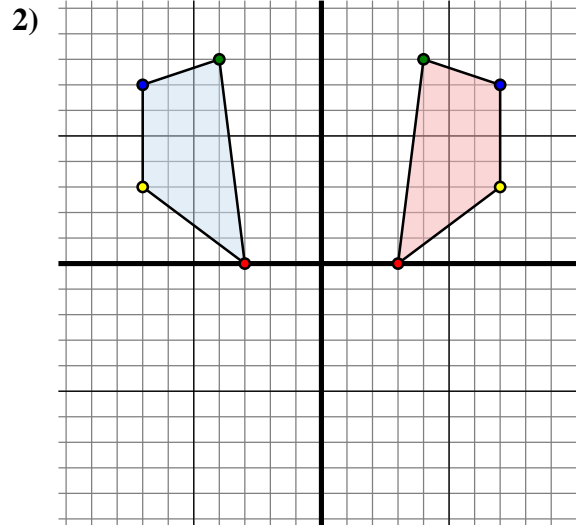
Specchia la forma come descritto



La figura qui sopra ha le seguenti coordinate:

- A. (-4 ; 5)
- B. (0 ; 8)
- C. (-7 ; 8)
- D. (-10 ; 1)

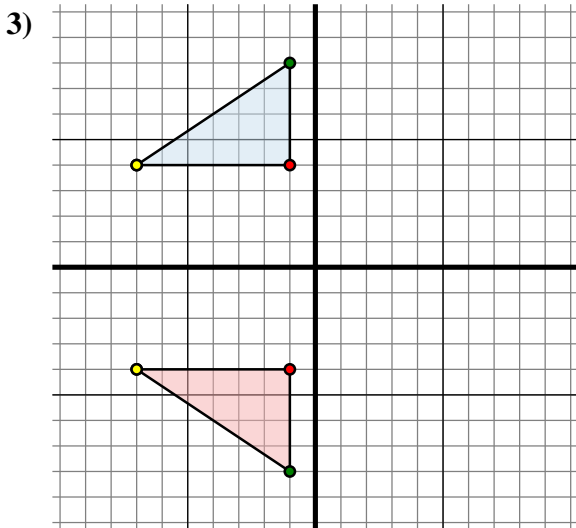
Specchia la figura rispetto all'asse x.



La figura qui sopra ha le seguenti coordinate:

- A. (-3 ; 0)
- B. (-4 ; 8)
- C. (-7 ; 7)
- D. (-7 ; 3)

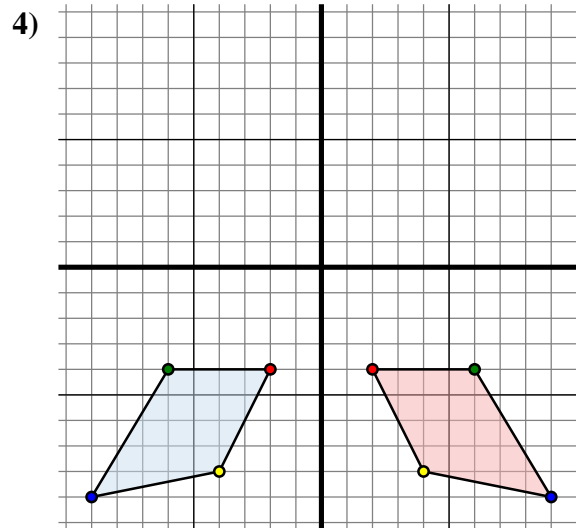
Specchia la figura rispetto all'asse y.



La figura qui sopra ha le seguenti coordinate:

- A. (-1 ; 4)
- B. (-1 ; 8)
- C. (-7 ; 4)

Specchia la figura rispetto all'asse x.



La figura qui sopra ha le seguenti coordinate:

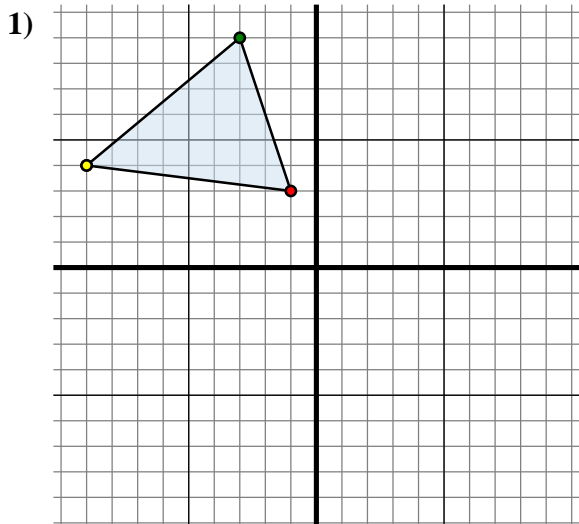
- A. (-2 ; -4)
- B. (-6 ; -4)
- C. (-9 ; -9)
- D. (-4 ; -8)

Specchia la figura rispetto all'asse y.

Risposte1A. **(-4 ; -5)**1B. **(0 ; -8)**1C. **(-7 ; -8)**1D. **(-10 ; -1)**1G. **Grafico**2A. **(3 ; 0)**2B. **(4 ; 8)**2C. **(7 ; 7)**2D. **(7 ; 3)**2G. **Grafico**3A. **(-1 ; -4)**3B. **(-1 ; -8)**3C. **(-7 ; -4)**3G. **Grafico**4A. **(2 ; -4)**4B. **(6 ; -4)**4C. **(9 ; -9)**4D. **(4 ; -8)**4G. **Grafico**



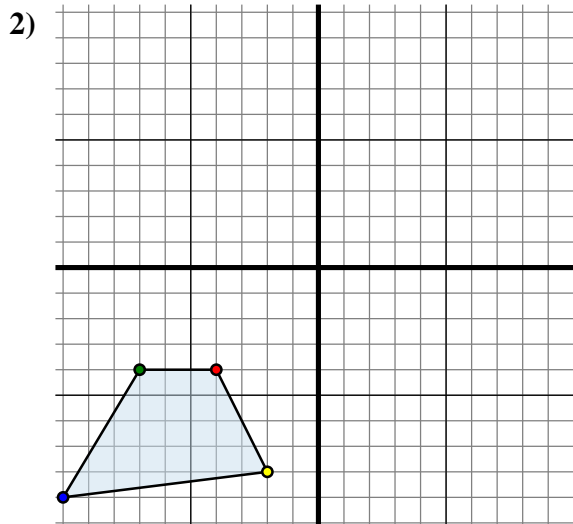
Specchia la forma come descritto



La figura qui sopra ha le seguenti coordinate:

- A. (-1 ; 3)
- B. (-3 ; 9)
- C. (-9 ; 4)

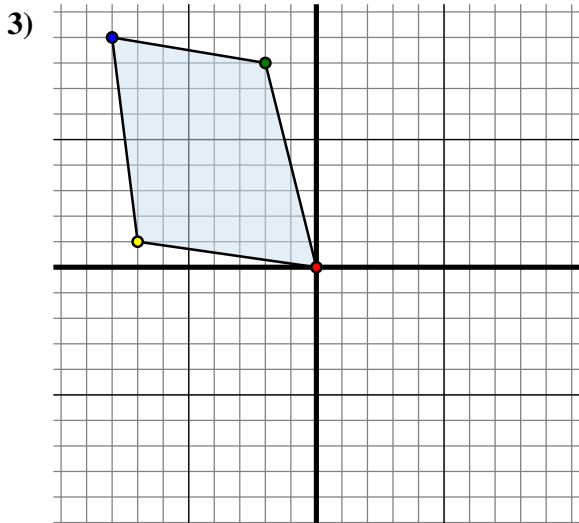
Specchia la figura rispetto all'asse y.



La figura qui sopra ha le seguenti coordinate:

- A. (-4 ; -4)
- B. (-7 ; -4)
- C. (-10 ; -9)
- D. (-2 ; -8)

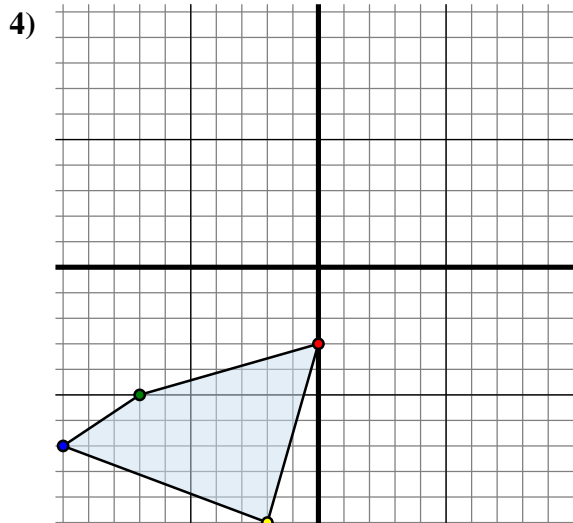
Specchia la figura rispetto all'asse x.



La figura qui sopra ha le seguenti coordinate:

- A. (0 ; 0)
- B. (-2 ; 8)
- C. (-8 ; 9)
- D. (-7 ; 1)

Specchia la figura rispetto all'asse y.



La figura qui sopra ha le seguenti coordinate:

- A. (0 ; -3)
- B. (-7 ; -5)
- C. (-10 ; -7)
- D. (-2 ; -10)

Specchia la figura rispetto all'asse y.

Risposte1A. (1 ; 3)

1B. _____

1C. _____

1G. Grafico

2A. _____

2B. _____

2C. _____

2D. _____

2G. Grafico

3A. _____

3B. _____

3C. _____

3D. _____

3G. Grafico

4A. _____

4B. _____

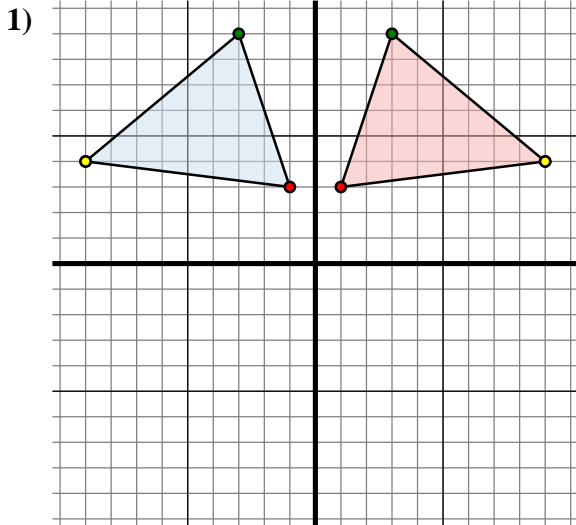
4C. _____

4D. _____

4G. Grafico



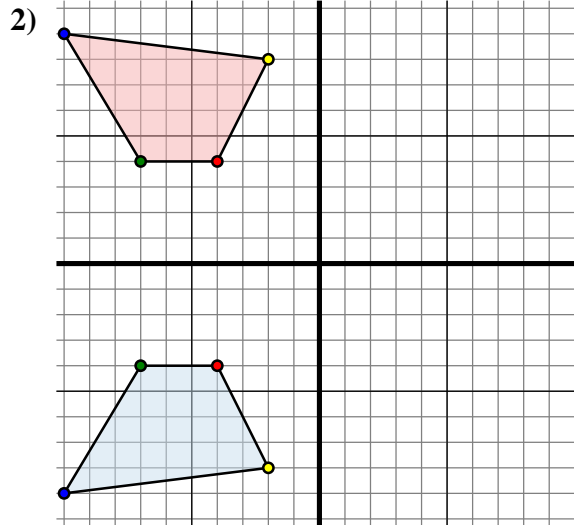
Specchia la forma come descritto



La figura qui sopra ha le seguenti coordinate:

- A. (-1 ; 3)
- B. (-3 ; 9)
- C. (-9 ; 4)

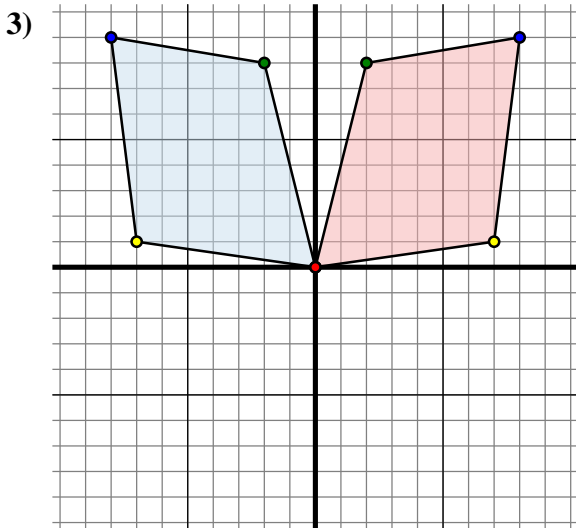
Specchia la figura rispetto all'asse y.



La figura qui sopra ha le seguenti coordinate:

- A. (-4 ; -4)
- B. (-7 ; -4)
- C. (-10 ; -9)
- D. (-2 ; -8)

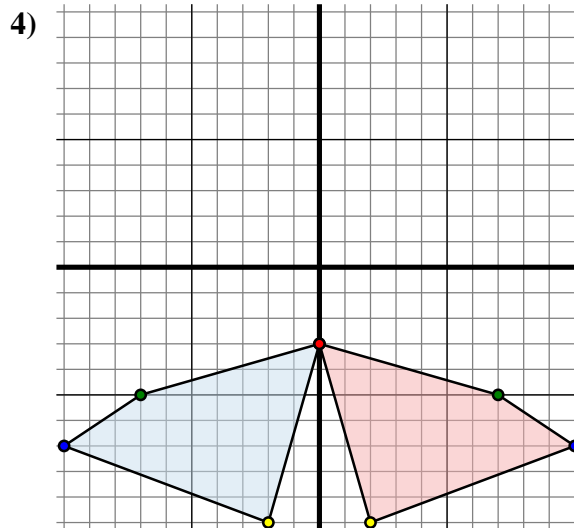
Specchia la figura rispetto all'asse x.



La figura qui sopra ha le seguenti coordinate:

- A. (0 ; 0)
- B. (-2 ; 8)
- C. (-8 ; 9)
- D. (-7 ; 1)

Specchia la figura rispetto all'asse y.



La figura qui sopra ha le seguenti coordinate:

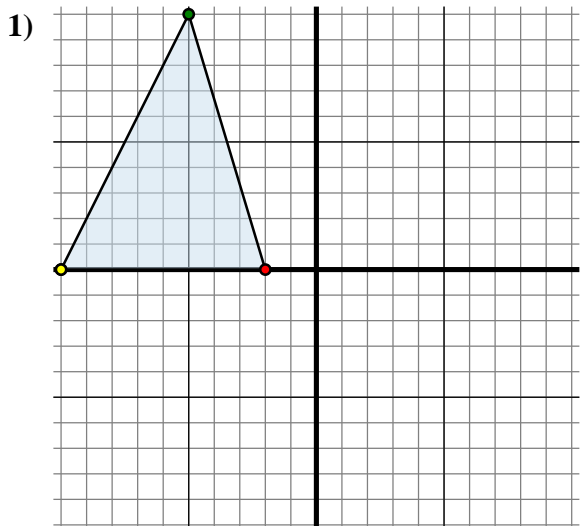
- A. (0 ; -3)
- B. (-7 ; -5)
- C. (-10 ; -7)
- D. (-2 ; -10)

Specchia la figura rispetto all'asse y.

Risposte1A. **(1 ; 3)**1B. **(3 ; 9)**1C. **(9 ; 4)**1G. **Grafico**2A. **(-4 ; 4)**2B. **(-7 ; 4)**2C. **(-10 ; 9)**2D. **(-2 ; 8)**2G. **Grafico**3A. **(0 ; 0)**3B. **(2 ; 8)**3C. **(8 ; 9)**3D. **(7 ; 1)**3G. **Grafico**4A. **(0 ; -3)**4B. **(7 ; -5)**4C. **(10 ; -7)**4D. **(2 ; -10)**4G. **Grafico**



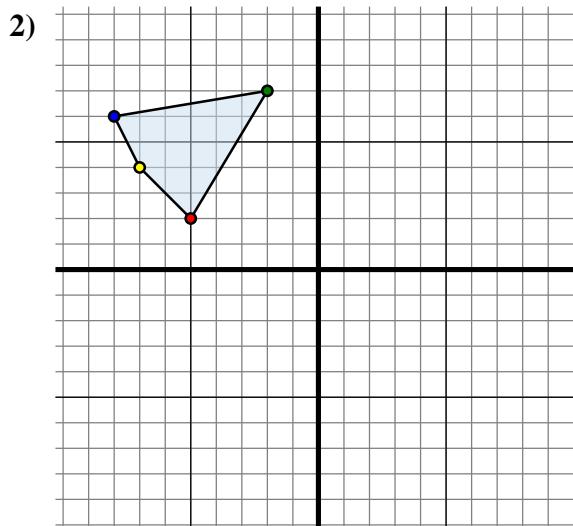
Specchia la forma come descritto



La figura qui sopra ha le seguenti coordinate:

- A. (-2 ; 0)
- B. (-5 ; 10)
- C. (-10 ; 0)

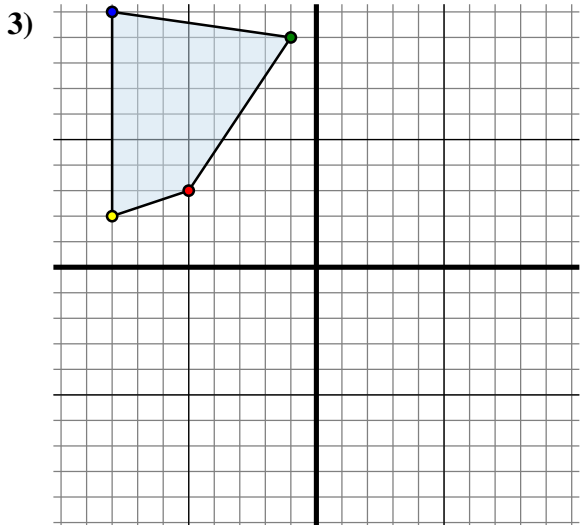
Specchia la figura rispetto all'asse x.



La figura qui sopra ha le seguenti coordinate:

- A. (-5 ; 2)
- B. (-2 ; 7)
- C. (-8 ; 6)
- D. (-7 ; 4)

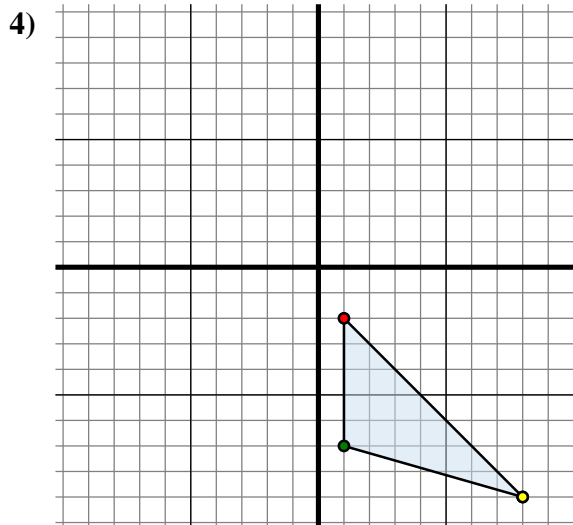
Specchia la figura rispetto all'asse x.



La figura qui sopra ha le seguenti coordinate:

- A. (-5 ; 3)
- B. (-1 ; 9)
- C. (-8 ; 10)
- D. (-8 ; 2)

Specchia la figura rispetto all'asse y.



La figura qui sopra ha le seguenti coordinate:

- A. (1 ; -2)
- B. (1 ; -7)
- C. (8 ; -9)

Specchia la figura rispetto all'asse x.

Risposte1A. (-2 ; 0)

1B. _____

1C. _____

1G. Grafico

2A. _____

2B. _____

2C. _____

2D. _____

2G. Grafico

3A. _____

3B. _____

3C. _____

3D. _____

3G. Grafico

4A. _____

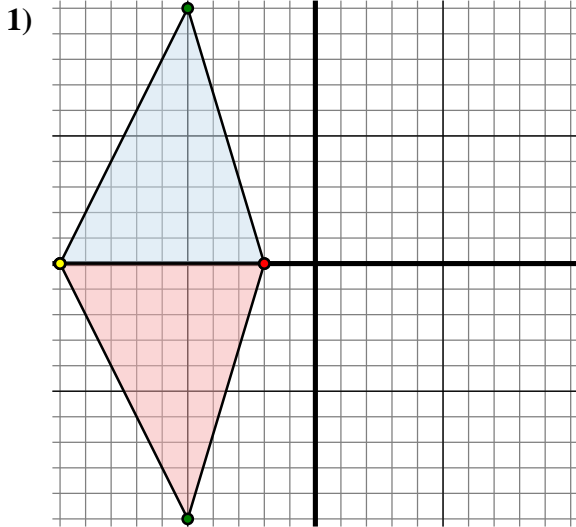
4B. _____

4C. _____

4G. Grafico



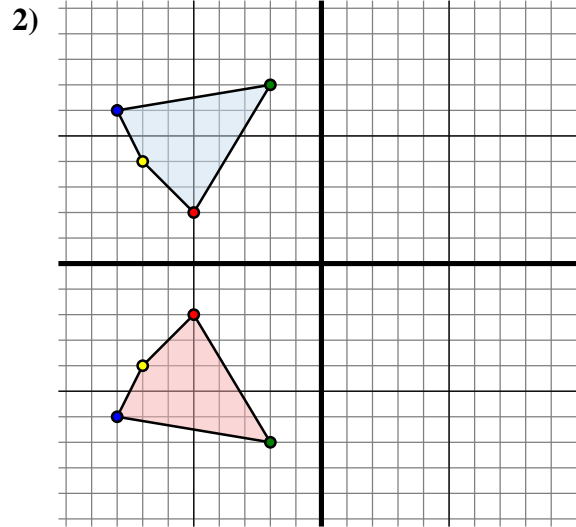
Specchia la forma come descritto



La figura qui sopra ha le seguenti coordinate:

- A. (-2 ; 0)
- B. (-5 ; 10)
- C. (-10 ; 0)

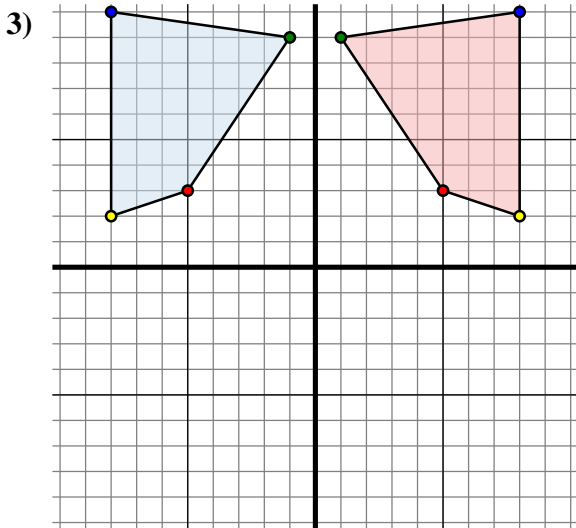
Specchia la figura rispetto all'asse x.



La figura qui sopra ha le seguenti coordinate:

- A. (-5 ; 2)
- B. (-2 ; 7)
- C. (-8 ; 6)
- D. (-7 ; 4)

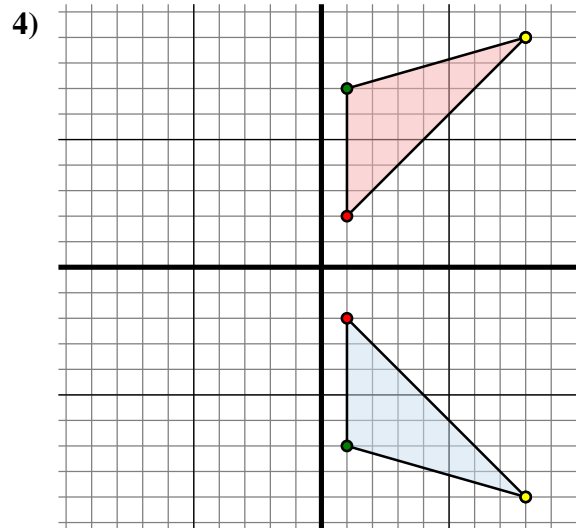
Specchia la figura rispetto all'asse x.



La figura qui sopra ha le seguenti coordinate:

- A. (-5 ; 3)
- B. (-1 ; 9)
- C. (-8 ; 10)
- D. (-8 ; 2)

Specchia la figura rispetto all'asse y.



La figura qui sopra ha le seguenti coordinate:

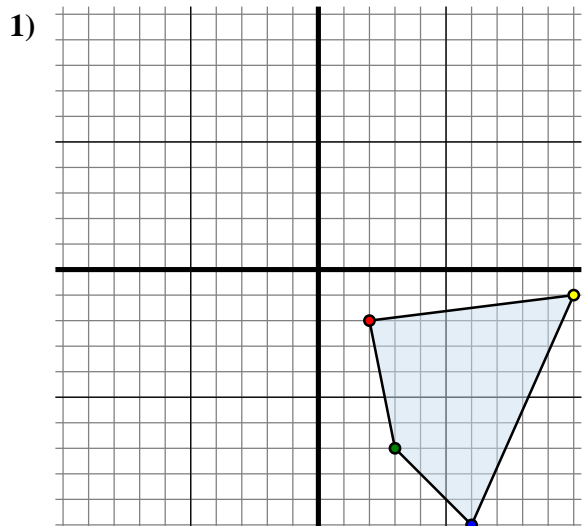
- A. (1 ; -2)
- B. (1 ; -7)
- C. (8 ; -9)

Specchia la figura rispetto all'asse x.

Risposte1A. (-2 ; 0)1B. (-5 ; -10)1C. (-10 ; 0)1G. Grafico2A. (-5 ; -2)2B. (-2 ; -7)2C. (-8 ; -6)2D. (-7 ; -4)2G. Grafico3A. (5 ; 3)3B. (1 ; 9)3C. (8 ; 10)3D. (8 ; 2)3G. Grafico4A. (1 ; 2)4B. (1 ; 7)4C. (8 ; 9)4G. Grafico



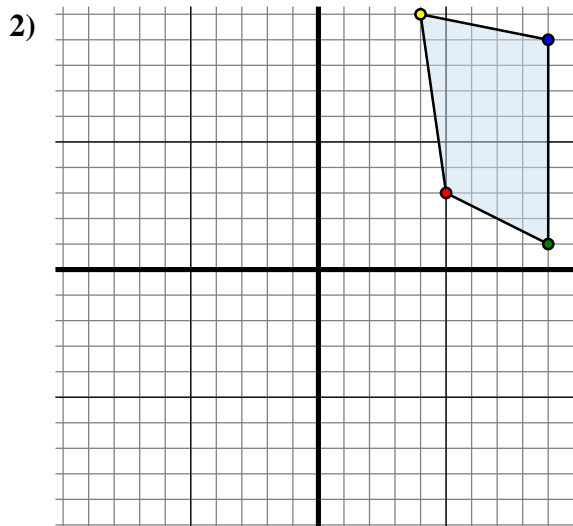
Specchia la forma come descritto



La figura qui sopra ha le seguenti coordinate:

- A. (2 ; -2)
- B. (3 ; -7)
- C. (6 ; -10)
- D. (10 ; -1)

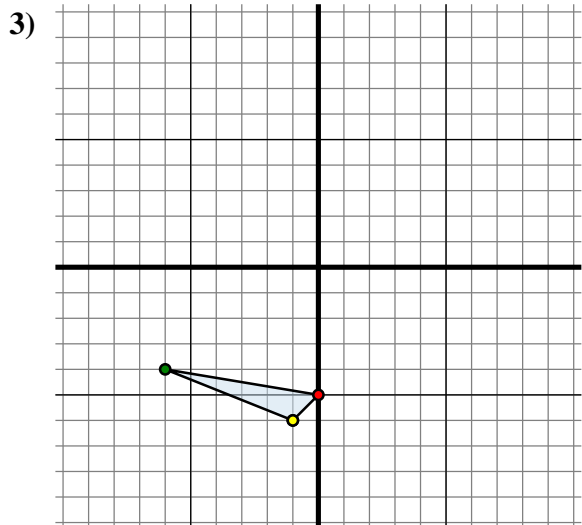
Specchia la figura rispetto all'asse y.



La figura qui sopra ha le seguenti coordinate:

- A. (5 ; 3)
- B. (9 ; 1)
- C. (9 ; 9)
- D. (4 ; 10)

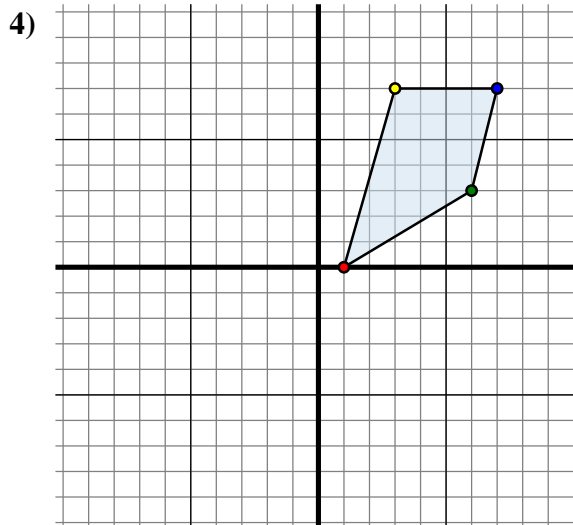
Specchia la figura rispetto all'asse x.



La figura qui sopra ha le seguenti coordinate:

- A. (0 ; -5)
- B. (-6 ; -4)
- C. (-1 ; -6)

Specchia la figura rispetto all'asse y.



La figura qui sopra ha le seguenti coordinate:

- A. (1 ; 0)
- B. (6 ; 3)
- C. (7 ; 7)
- D. (3 ; 7)

Specchia la figura rispetto all'asse y.

Risposte1A. (-2 ; -2)

1B. _____

1C. _____

1D. _____

1G. Grafico

2A. _____

2B. _____

2C. _____

2D. _____

2G. Grafico

3A. _____

3B. _____

3C. _____

3G. Grafico

4A. _____

4B. _____

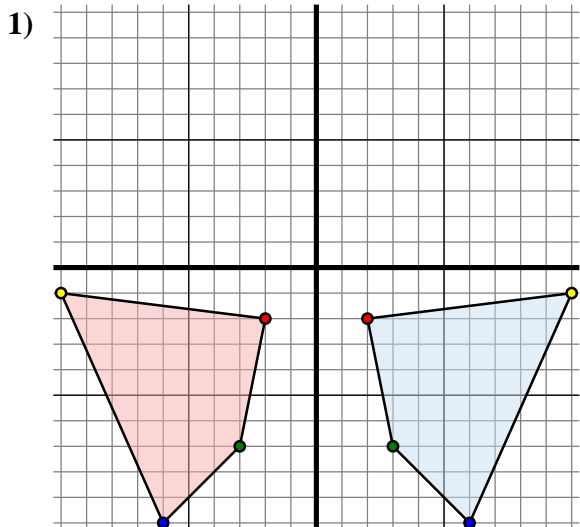
4C. _____

4D. _____

4G. Grafico



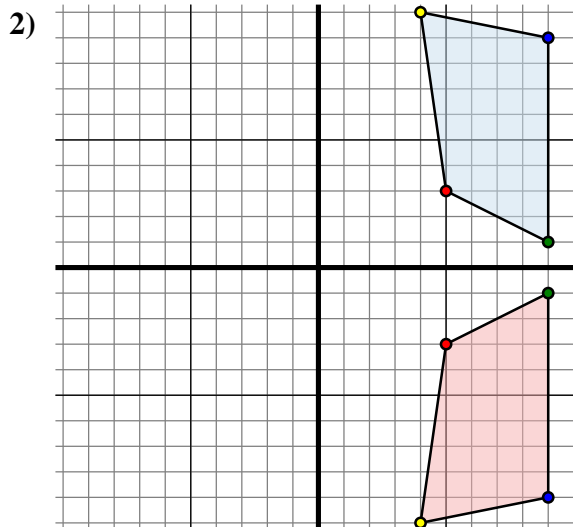
Specchia la forma come descritto



La figura qui sopra ha le seguenti coordinate:

- A. (2 ; -2)
- B. (3 ; -7)
- C. (6 ; -10)
- D. (10 ; -1)

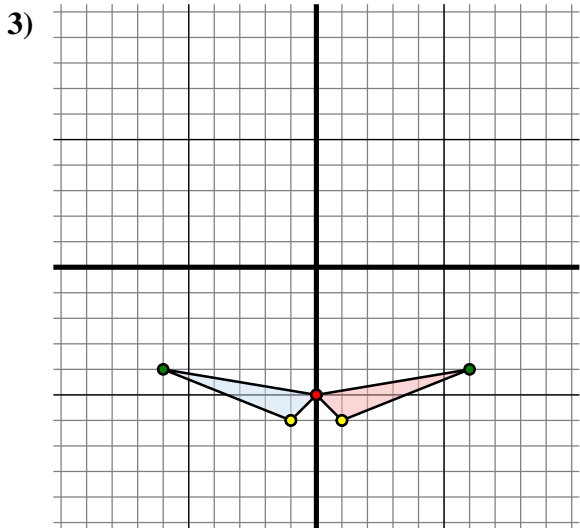
Specchia la figura rispetto all'asse y.



La figura qui sopra ha le seguenti coordinate:

- A. (5 ; 3)
- B. (9 ; 1)
- C. (9 ; 9)
- D. (4 ; 10)

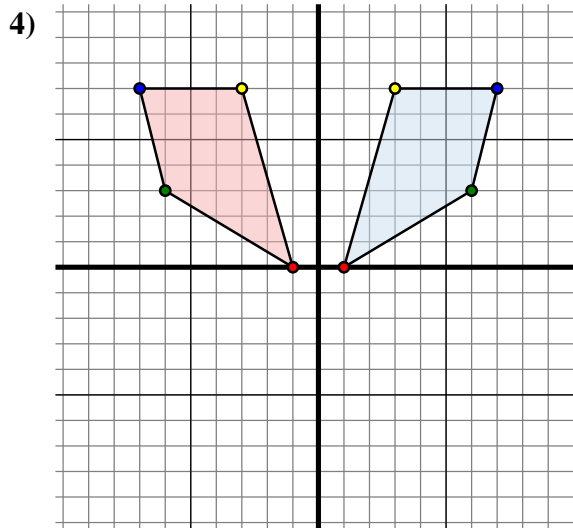
Specchia la figura rispetto all'asse x.



La figura qui sopra ha le seguenti coordinate:

- A. (0 ; -5)
- B. (-6 ; -4)
- C. (-1 ; -6)

Specchia la figura rispetto all'asse y.



La figura qui sopra ha le seguenti coordinate:

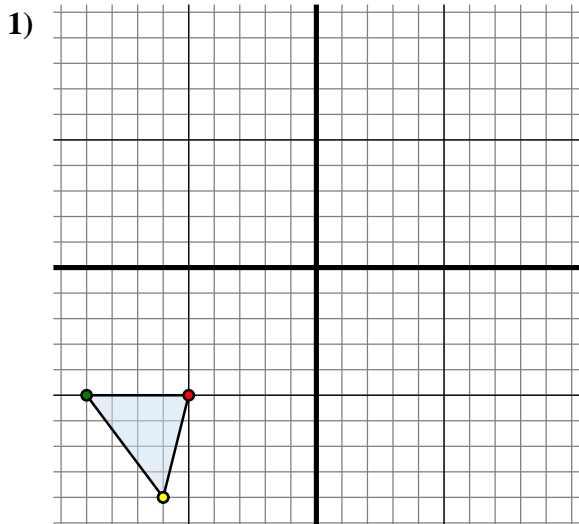
- A. (1 ; 0)
- B. (6 ; 3)
- C. (7 ; 7)
- D. (3 ; 7)

Specchia la figura rispetto all'asse y.

Risposte1A. **(-2 ; -2)**1B. **(-3 ; -7)**1C. **(-6 ; -10)**1D. **(-10 ; -1)**1G. **Grafico**2A. **(5 ; -3)**2B. **(9 ; -1)**2C. **(9 ; -9)**2D. **(4 ; -10)**2G. **Grafico**3A. **(0 ; -5)**3B. **(6 ; -4)**3C. **(1 ; -6)**3G. **Grafico**4A. **(-1 ; 0)**4B. **(-6 ; 3)**4C. **(-7 ; 7)**4D. **(-3 ; 7)**4G. **Grafico**



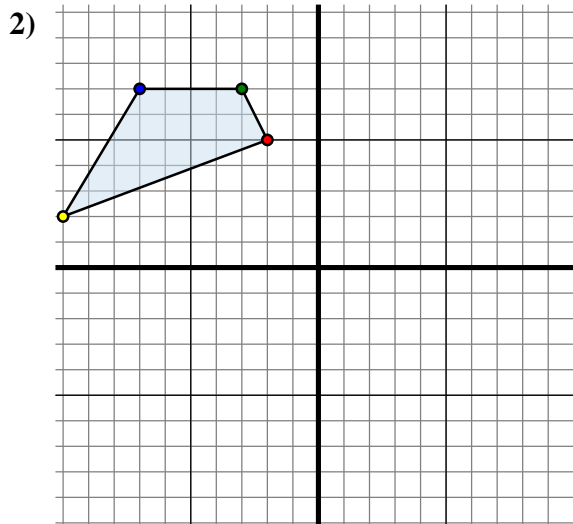
Specchia la forma come descritto



La figura qui sopra ha le seguenti coordinate:

- A. (-5 ; -5)
- B. (-9 ; -5)
- C. (-6 ; -9)

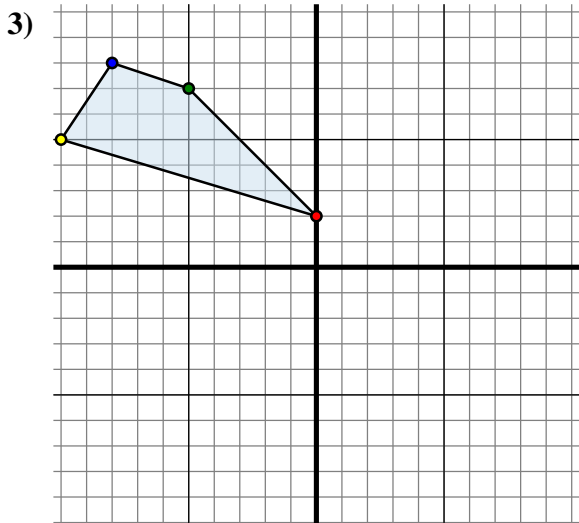
Specchia la figura rispetto all'asse x.



La figura qui sopra ha le seguenti coordinate:

- A. (-2 ; 5)
- B. (-3 ; 7)
- C. (-7 ; 7)
- D. (-10 ; 2)

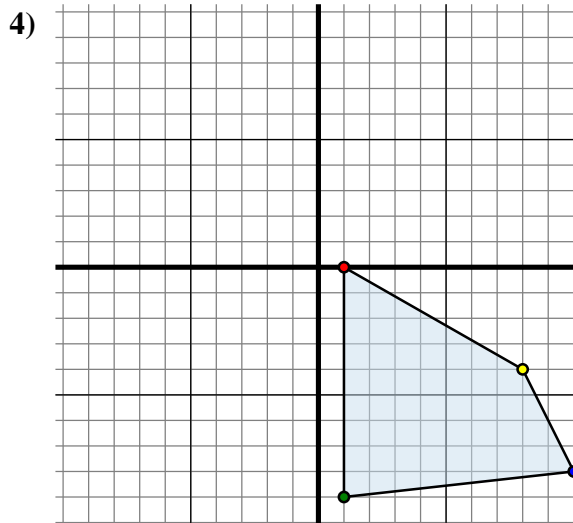
Specchia la figura rispetto all'asse y.



La figura qui sopra ha le seguenti coordinate:

- A. (0 ; 2)
- B. (-5 ; 7)
- C. (-8 ; 8)
- D. (-10 ; 5)

Specchia la figura rispetto all'asse y.



La figura qui sopra ha le seguenti coordinate:

- A. (1 ; 0)
- B. (1 ; -9)
- C. (10 ; -8)
- D. (8 ; -4)

Specchia la figura rispetto all'asse x.

Risposte1A. (-5 ; 5)

1B. _____

1C. _____

1G. Grafico

2A. _____

2B. _____

2C. _____

2D. _____

2G. Grafico

3A. _____

3B. _____

3C. _____

3D. _____

3G. Grafico

4A. _____

4B. _____

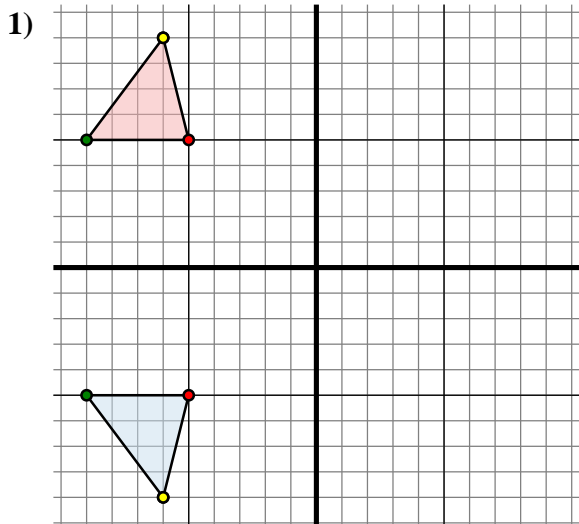
4C. _____

4D. _____

4G. Grafico



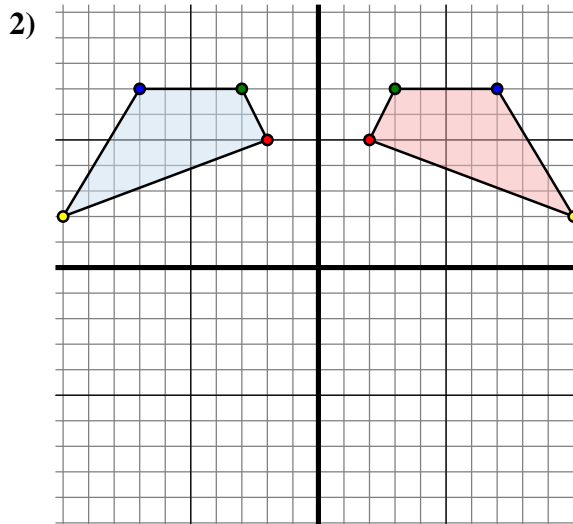
Specchia la forma come descritto



La figura qui sopra ha le seguenti coordinate:

- A. (-5 ; -5)
- B. (-9 ; -5)
- C. (-6 ; -9)

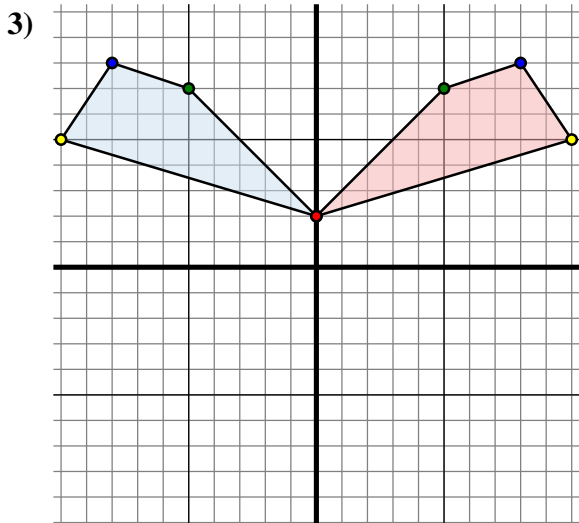
Specchia la figura rispetto all'asse x.



La figura qui sopra ha le seguenti coordinate:

- A. (-2 ; 5)
- B. (-3 ; 7)
- C. (-7 ; 7)
- D. (-10 ; 2)

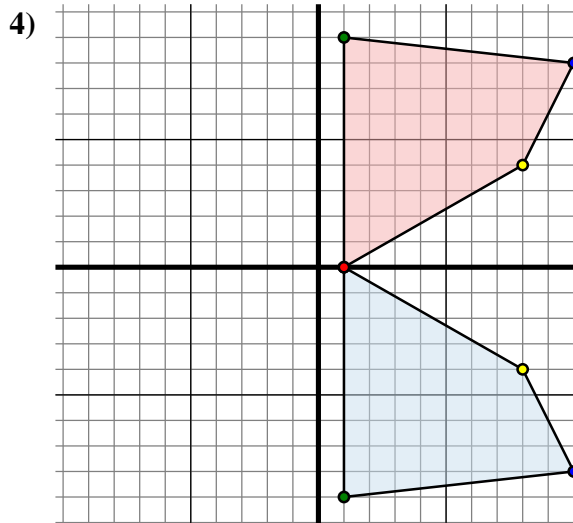
Specchia la figura rispetto all'asse y.



La figura qui sopra ha le seguenti coordinate:

- A. (0 ; 2)
- B. (-5 ; 7)
- C. (-8 ; 8)
- D. (-10 ; 5)

Specchia la figura rispetto all'asse y.



La figura qui sopra ha le seguenti coordinate:

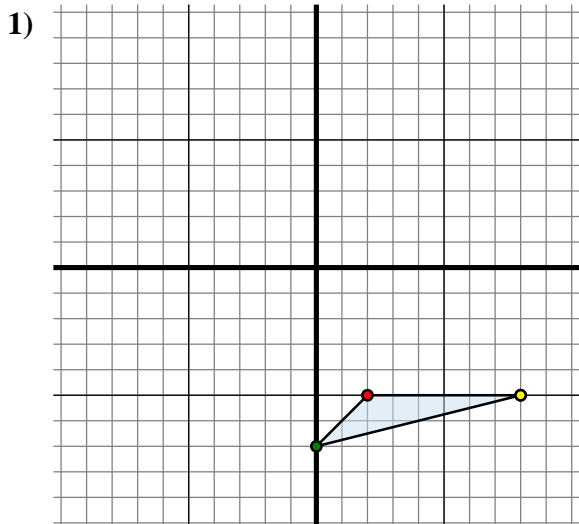
- A. (1 ; 0)
- B. (1 ; -9)
- C. (10 ; -8)
- D. (8 ; -4)

Specchia la figura rispetto all'asse x.

Risposte1A. **(-5 ; 5)**1B. **(-9 ; 5)**1C. **(-6 ; 9)**1G. **Grafico**2A. **(2 ; 5)**2B. **(3 ; 7)**2C. **(7 ; 7)**2D. **(10 ; 2)**2G. **Grafico**3A. **(0 ; 2)**3B. **(5 ; 7)**3C. **(8 ; 8)**3D. **(10 ; 5)**3G. **Grafico**4A. **(1 ; 0)**4B. **(1 ; 9)**4C. **(10 ; 8)**4D. **(8 ; 4)**4G. **Grafico**



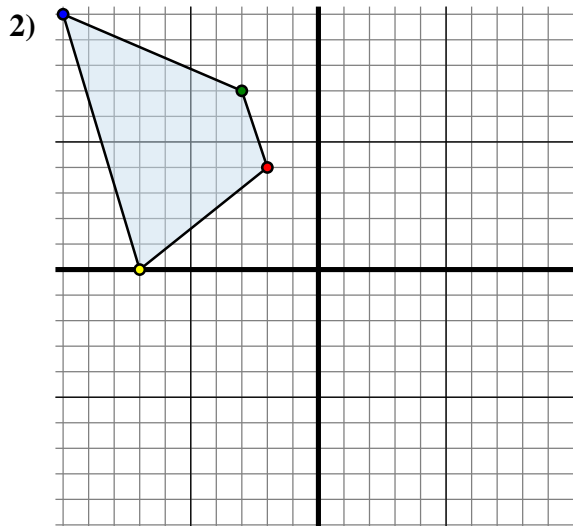
Specchia la forma come descritto



La figura qui sopra ha le seguenti coordinate:

- A. (2 ; -5)
- B. (0 ; -7)
- C. (8 ; -5)

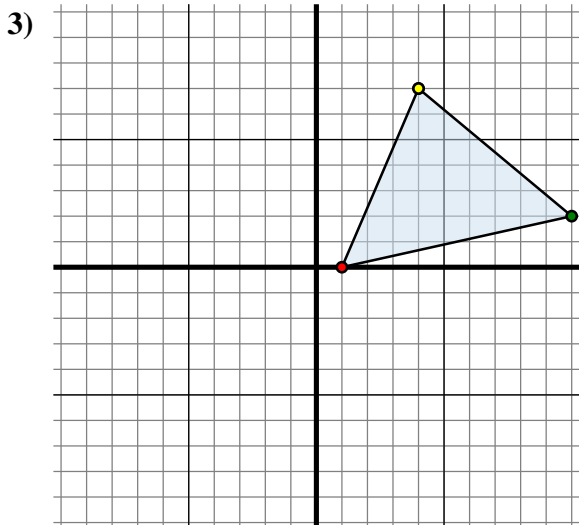
Specchia la figura rispetto all'asse x.



La figura qui sopra ha le seguenti coordinate:

- A. (-2 ; 4)
- B. (-3 ; 7)
- C. (-10 ; 10)
- D. (-7 ; 0)

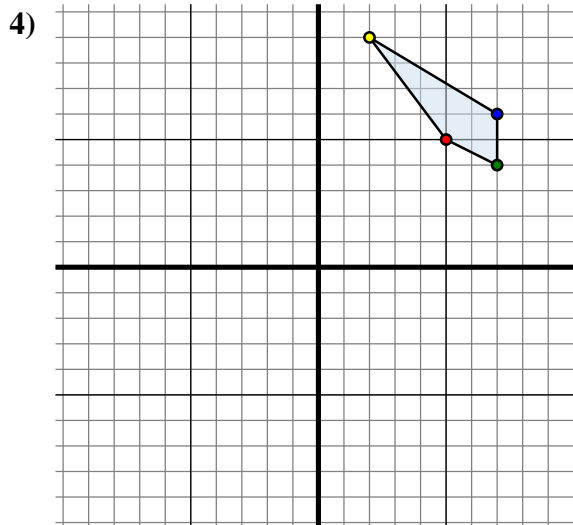
Specchia la figura rispetto all'asse y.



La figura qui sopra ha le seguenti coordinate:

- A. (1 ; 0)
- B. (10 ; 2)
- C. (4 ; 7)

Specchia la figura rispetto all'asse y.



La figura qui sopra ha le seguenti coordinate:

- A. (5 ; 5)
- B. (7 ; 4)
- C. (7 ; 6)
- D. (2 ; 9)

Specchia la figura rispetto all'asse y.

Risposte1A. (2 ; 5)

1B. _____

1C. _____

1G. Grafico

2A. _____

2B. _____

2C. _____

2D. _____

2G. Grafico

3A. _____

3B. _____

3C. _____

3G. Grafico

4A. _____

4B. _____

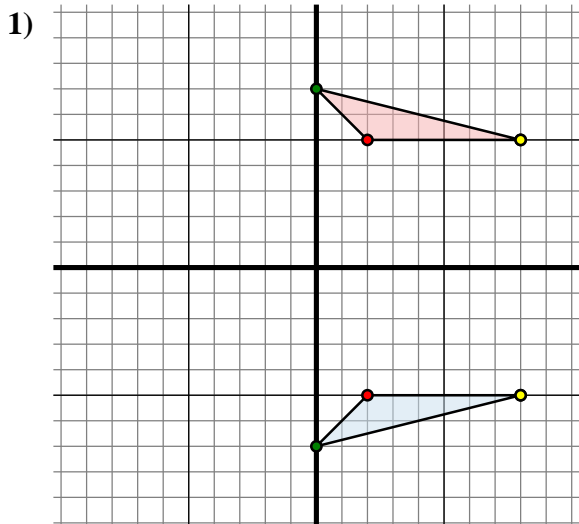
4C. _____

4D. _____

4G. Grafico



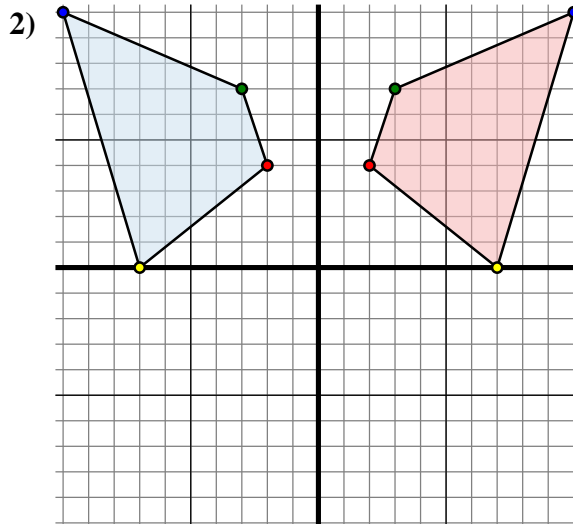
Specchia la forma come descritto



La figura qui sopra ha le seguenti coordinate:

- A. (2 ; -5)
- B. (0 ; -7)
- C. (8 ; -5)

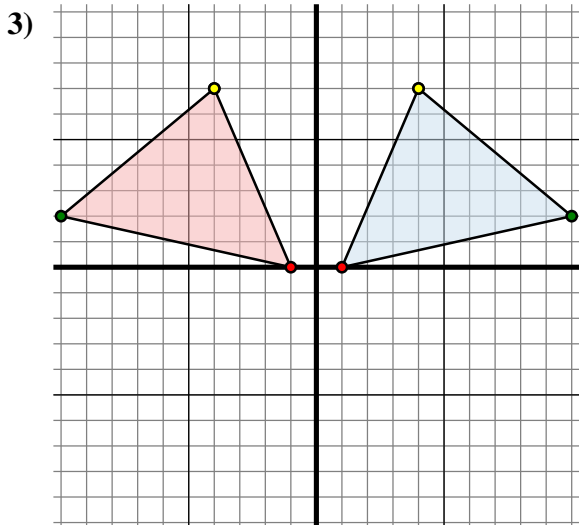
Specchia la figura rispetto all'asse x.



La figura qui sopra ha le seguenti coordinate:

- A. (-2 ; 4)
- B. (-3 ; 7)
- C. (-10 ; 10)
- D. (-7 ; 0)

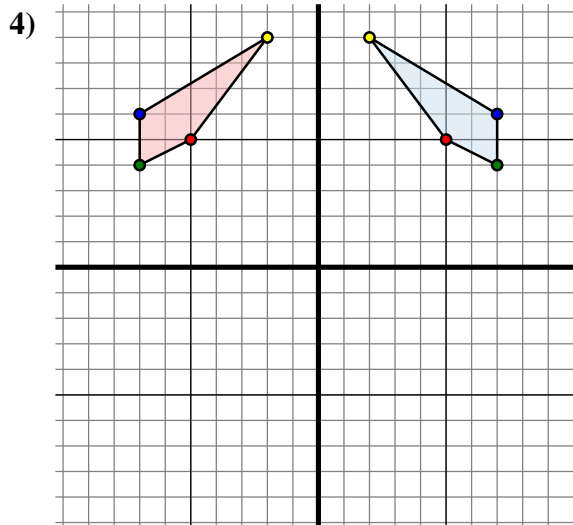
Specchia la figura rispetto all'asse y.



La figura qui sopra ha le seguenti coordinate:

- A. (1 ; 0)
- B. (10 ; 2)
- C. (4 ; 7)

Specchia la figura rispetto all'asse y.



La figura qui sopra ha le seguenti coordinate:

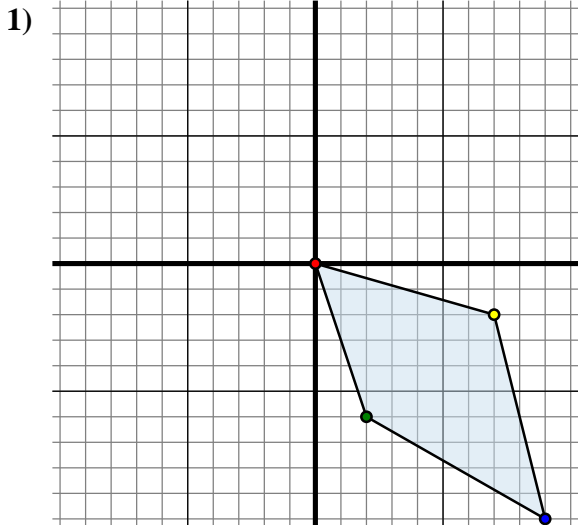
- A. (5 ; 5)
- B. (7 ; 4)
- C. (7 ; 6)
- D. (2 ; 9)

Specchia la figura rispetto all'asse y.

Risposte1A. **(2 ; 5)**1B. **(0 ; 7)**1C. **(8 ; 5)**1G. **Grafico**2A. **(2 ; 4)**2B. **(3 ; 7)**2C. **(10 ; 10)**2D. **(7 ; 0)**2G. **Grafico**3A. **(-1 ; 0)**3B. **(-10 ; 2)**3C. **(-4 ; 7)**3G. **Grafico**4A. **(-5 ; 5)**4B. **(-7 ; 4)**4C. **(-7 ; 6)**4D. **(-2 ; 9)**4G. **Grafico**



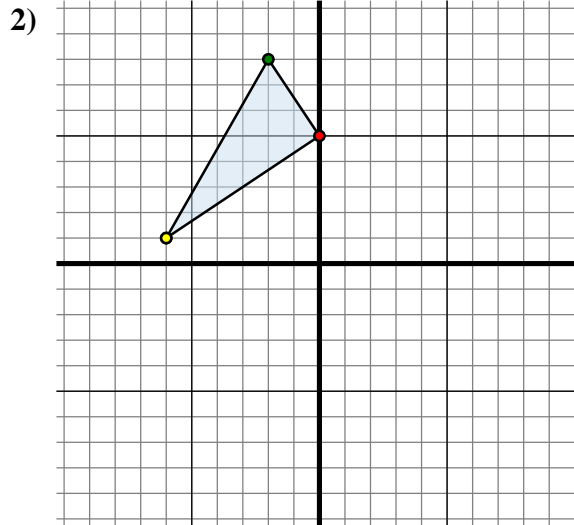
Specchia la forma come descritto



La figura qui sopra ha le seguenti coordinate:

- A. (0 ; 0)
- B. (2 ; -6)
- C. (9 ; -10)
- D. (7 ; -2)

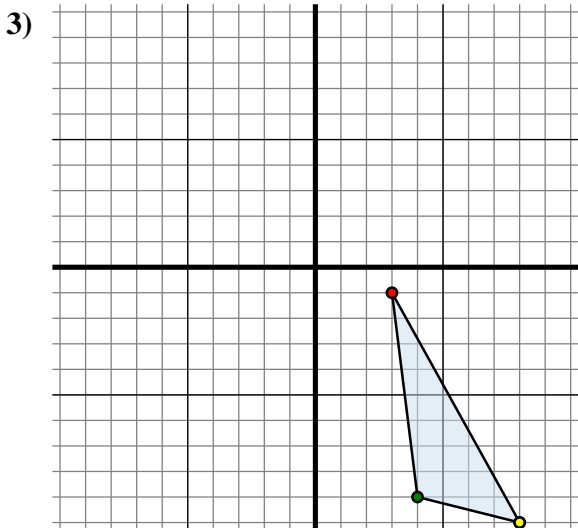
Specchia la figura rispetto all'asse y.



La figura qui sopra ha le seguenti coordinate:

- A. (0 ; 5)
- B. (-2 ; 8)
- C. (-6 ; 1)

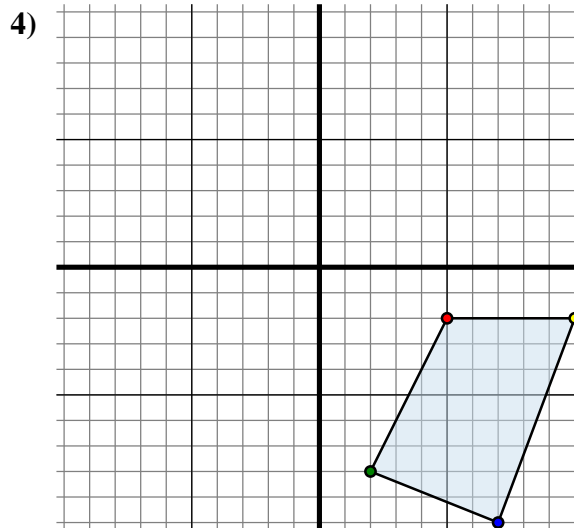
Specchia la figura rispetto all'asse x.



La figura qui sopra ha le seguenti coordinate:

- A. (3 ; -1)
- B. (4 ; -9)
- C. (8 ; -10)

Specchia la figura rispetto all'asse x.



La figura qui sopra ha le seguenti coordinate:

- A. (5 ; -2)
- B. (2 ; -8)
- C. (7 ; -10)
- D. (10 ; -2)

Specchia la figura rispetto all'asse y.

Risposte

1A. (0 ; 0)

1B. _____

1C. _____

1D. _____

1G. Grafico

2A. _____

2B. _____

2C. _____

2G. Grafico

3A. _____

3B. _____

3C. _____

3G. Grafico

4A. _____

4B. _____

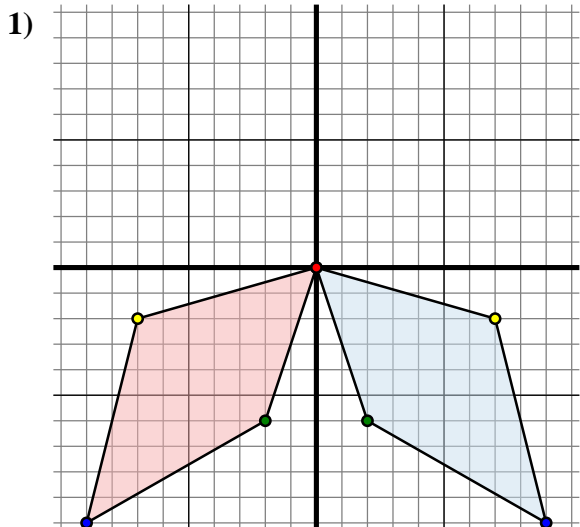
4C. _____

4D. _____

4G. Grafico



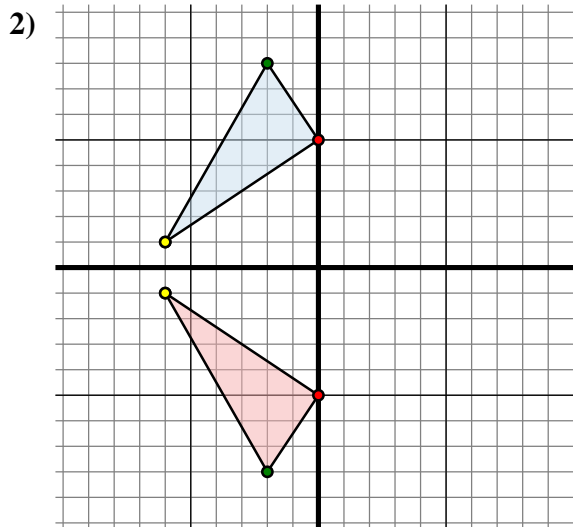
Specchia la forma come descritto



La figura qui sopra ha le seguenti coordinate:

- A. (0 ; 0)
- B. (2 ; -6)
- C. (9 ; -10)
- D. (7 ; -2)

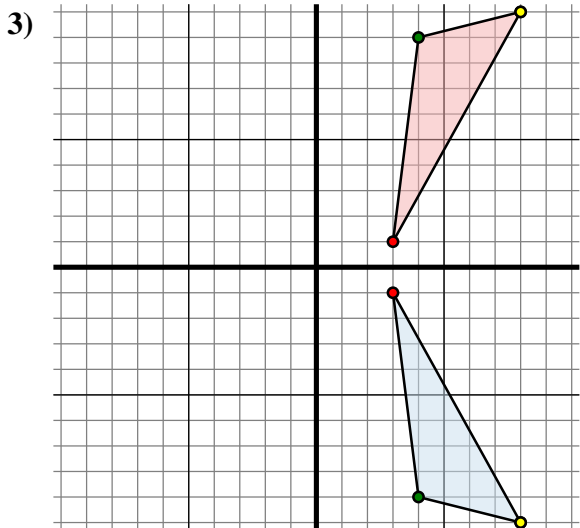
Specchia la figura rispetto all'asse y.



La figura qui sopra ha le seguenti coordinate:

- A. (0 ; 5)
- B. (-2 ; 8)
- C. (-6 ; 1)

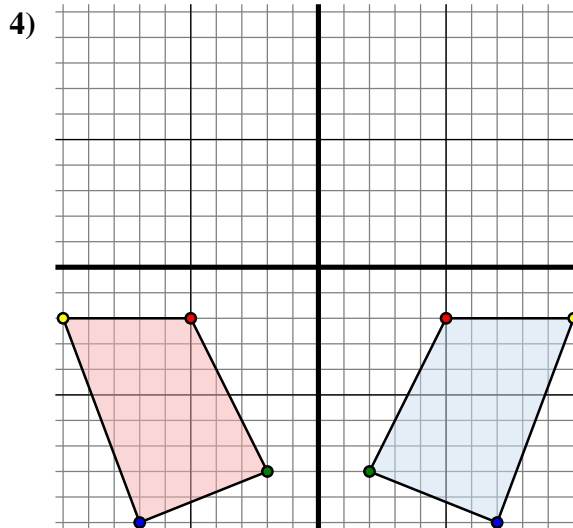
Specchia la figura rispetto all'asse x.



La figura qui sopra ha le seguenti coordinate:

- A. (3 ; -1)
- B. (4 ; -9)
- C. (8 ; -10)

Specchia la figura rispetto all'asse x.



La figura qui sopra ha le seguenti coordinate:

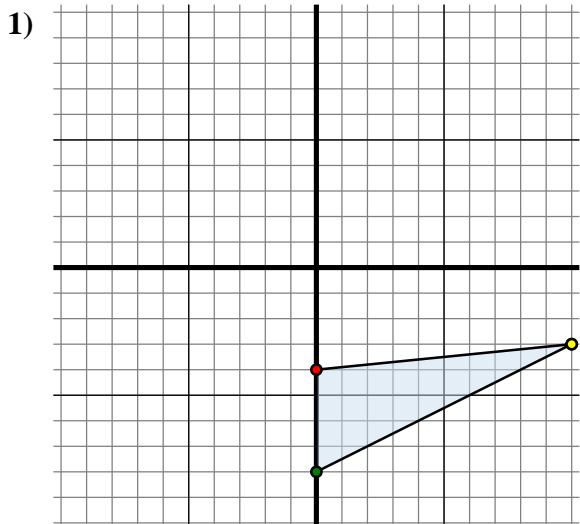
- A. (5 ; -2)
- B. (2 ; -8)
- C. (7 ; -10)
- D. (10 ; -2)

Specchia la figura rispetto all'asse y.

Risposte1A. (0 ; 0)1B. (-2 ; -6)1C. (-9 ; -10)1D. (-7 ; -2)1G. Grafico2A. (0 ; -5)2B. (-2 ; -8)2C. (-6 ; -1)2G. Grafico3A. (3 ; 1)3B. (4 ; 9)3C. (8 ; 10)3G. Grafico4A. (-5 ; -2)4B. (-2 ; -8)4C. (-7 ; -10)4D. (-10 ; -2)4G. Grafico



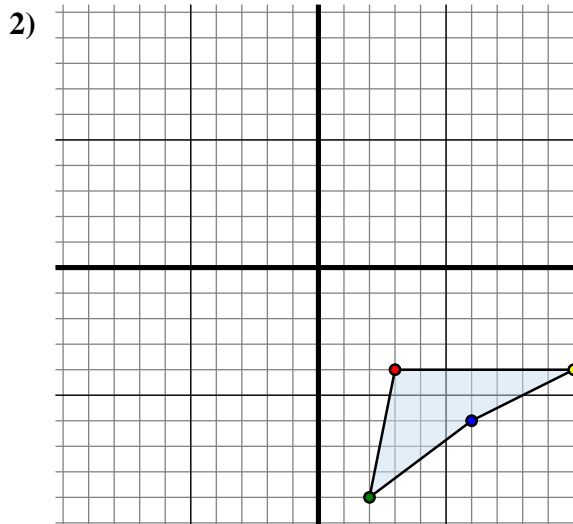
Specchia la forma come descritto



La figura qui sopra ha le seguenti coordinate:

- A. (0 ; -4)
- B. (0 ; -8)
- C. (10 ; -3)

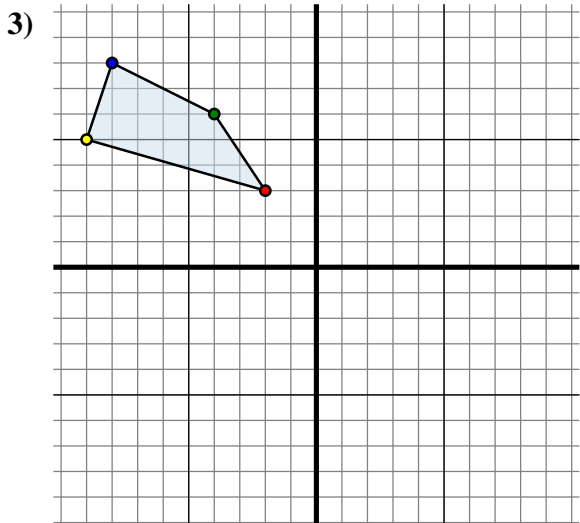
Specchia la figura rispetto all'asse y.



La figura qui sopra ha le seguenti coordinate:

- A. (3 ; -4)
- B. (2 ; -9)
- C. (6 ; -6)
- D. (10 ; -4)

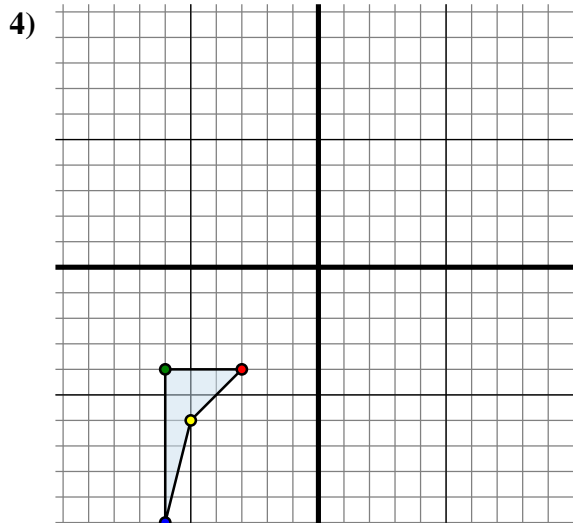
Specchia la figura rispetto all'asse x.



La figura qui sopra ha le seguenti coordinate:

- A. (-2 ; 3)
- B. (-4 ; 6)
- C. (-8 ; 8)
- D. (-9 ; 5)

Specchia la figura rispetto all'asse x.



La figura qui sopra ha le seguenti coordinate:

- A. (-3 ; -4)
- B. (-6 ; -4)
- C. (-6 ; -10)
- D. (-5 ; -6)

Specchia la figura rispetto all'asse x.

Risposte1A. (0 ; -4)

1B. _____

1C. _____

1G. Grafico

2A. _____

2B. _____

2C. _____

2D. _____

2G. Grafico

3A. _____

3B. _____

3C. _____

3D. _____

3G. Grafico

4A. _____

4B. _____

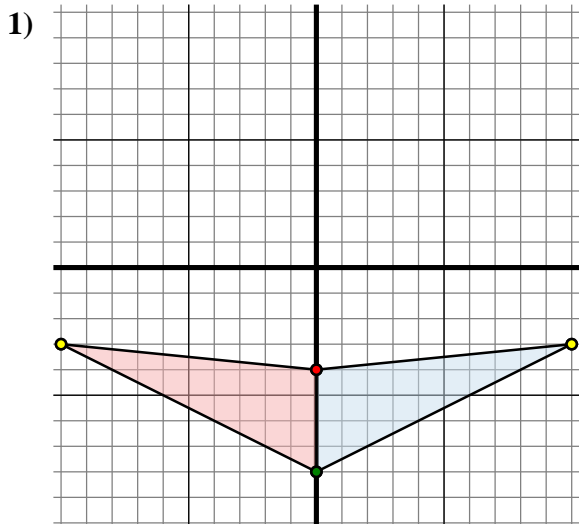
4C. _____

4D. _____

4G. Grafico



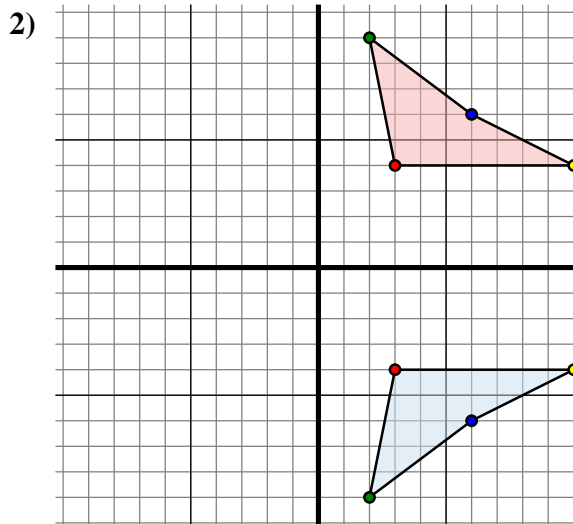
Specchia la forma come descritto



La figura qui sopra ha le seguenti coordinate:

- A. (0 ; -4)
- B. (0 ; -8)
- C. (10 ; -3)

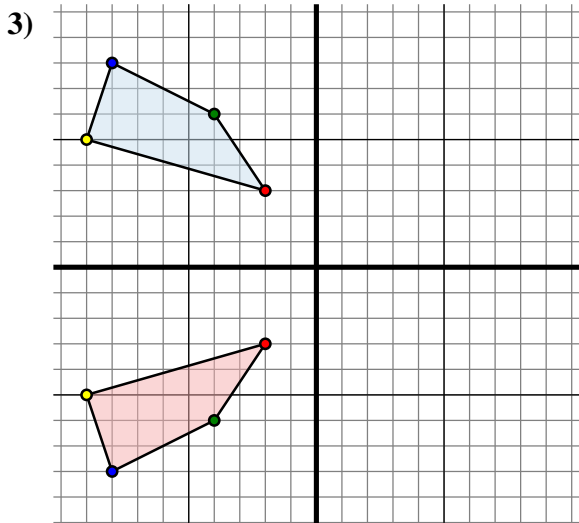
Specchia la figura rispetto all'asse y.



La figura qui sopra ha le seguenti coordinate:

- A. (3 ; -4)
- B. (2 ; -9)
- C. (6 ; -6)
- D. (10 ; -4)

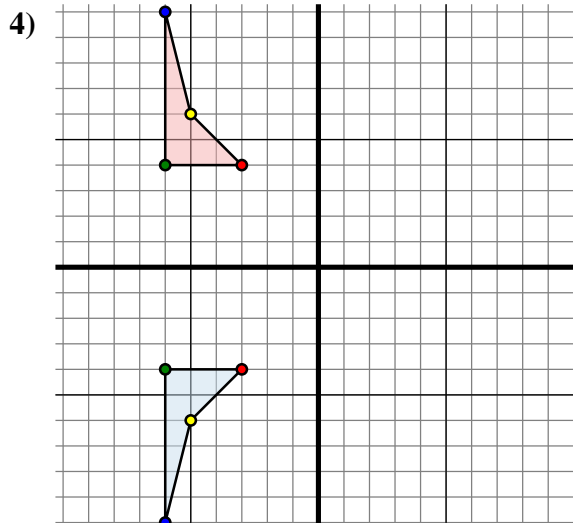
Specchia la figura rispetto all'asse x.



La figura qui sopra ha le seguenti coordinate:

- A. (-2 ; 3)
- B. (-4 ; 6)
- C. (-8 ; 8)
- D. (-9 ; 5)

Specchia la figura rispetto all'asse x.



La figura qui sopra ha le seguenti coordinate:

- A. (-3 ; -4)
- B. (-6 ; -4)
- C. (-6 ; -10)
- D. (-5 ; -6)

Specchia la figura rispetto all'asse x.

Risposte1A. **(0 ; -4)**1B. **(0 ; -8)**1C. **(-10 ; -3)**1G. **Grafico**2A. **(3 ; 4)**2B. **(2 ; 9)**2C. **(6 ; 6)**2D. **(10 ; 4)**2G. **Grafico**3A. **(-2 ; -3)**3B. **(-4 ; -6)**3C. **(-8 ; -8)**3D. **(-9 ; -5)**3G. **Grafico**4A. **(-3 ; 4)**4B. **(-6 ; 4)**4C. **(-6 ; 10)**4D. **(-5 ; 6)**4G. **Grafico**