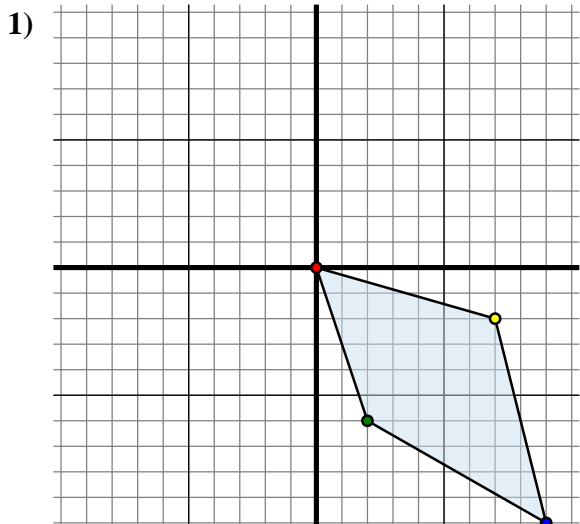




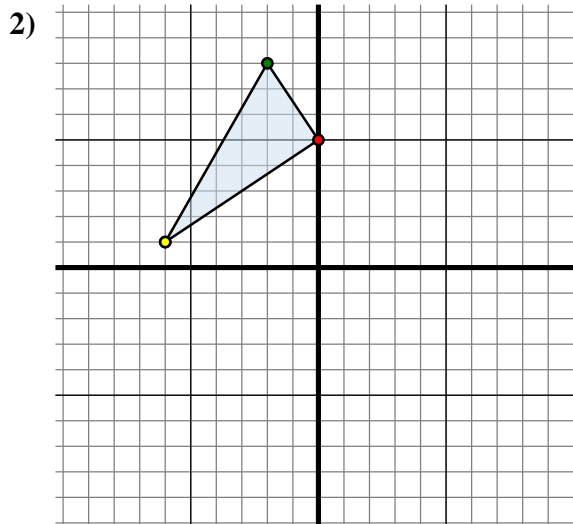
## Specchia la forma come descritto



La figura qui sopra ha le seguenti coordinate:

- A. (0 ; 0)
- B. (2 ; -6)
- C. (9 ; -10)
- D. (7 ; -2)

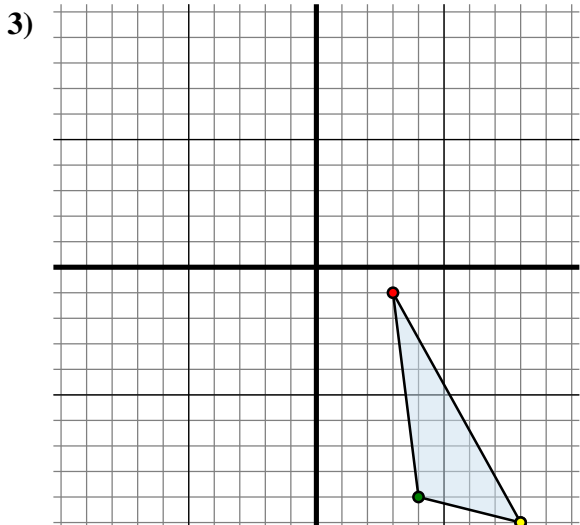
Specchia la figura rispetto all'asse y.



La figura qui sopra ha le seguenti coordinate:

- A. (0 ; 5)
- B. (-2 ; 8)
- C. (-6 ; 1)

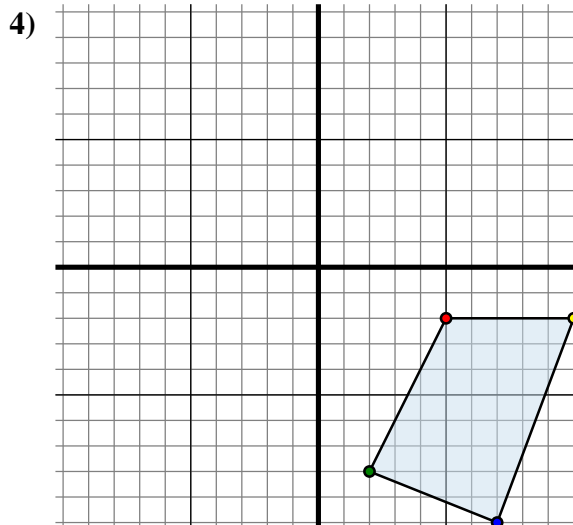
Specchia la figura rispetto all'asse x.



La figura qui sopra ha le seguenti coordinate:

- A. (3 ; -1)
- B. (4 ; -9)
- C. (8 ; -10)

Specchia la figura rispetto all'asse x.



La figura qui sopra ha le seguenti coordinate:

- A. (5 ; -2)
- B. (2 ; -8)
- C. (7 ; -10)
- D. (10 ; -2)

Specchia la figura rispetto all'asse y.

**Risposte**1A. (0 ; 0)

1B. \_\_\_\_\_

1C. \_\_\_\_\_

1D. \_\_\_\_\_

1G. Grafico

2A. \_\_\_\_\_

2B. \_\_\_\_\_

2C. \_\_\_\_\_

2G. Grafico

3A. \_\_\_\_\_

3B. \_\_\_\_\_

3C. \_\_\_\_\_

3G. Grafico

4A. \_\_\_\_\_

4B. \_\_\_\_\_

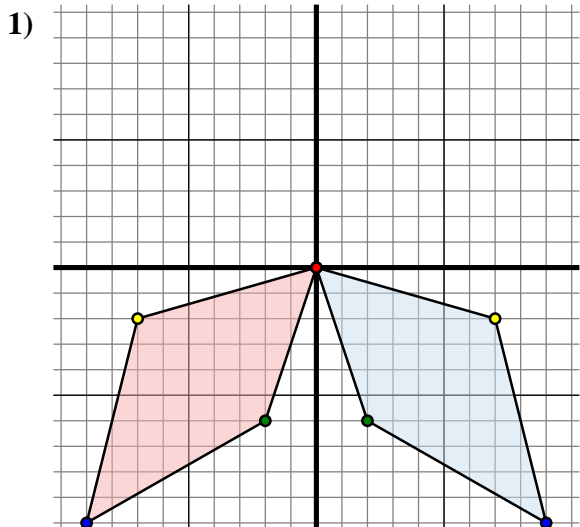
4C. \_\_\_\_\_

4D. \_\_\_\_\_

4G. Grafico



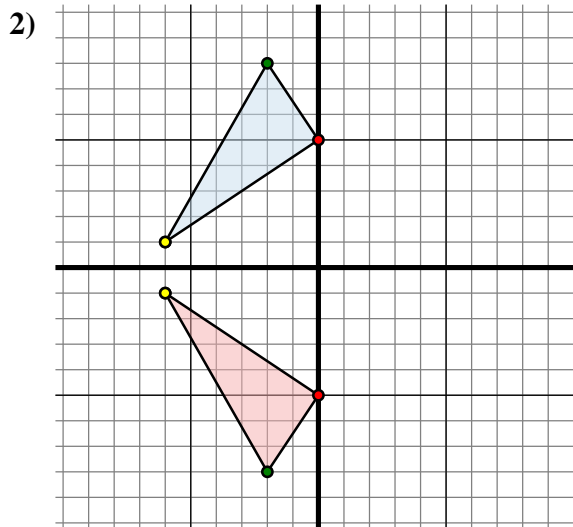
## Specchia la forma come descritto



La figura qui sopra ha le seguenti coordinate:

- A. (0 ; 0)
- B. (2 ; -6)
- C. (9 ; -10)
- D. (7 ; -2)

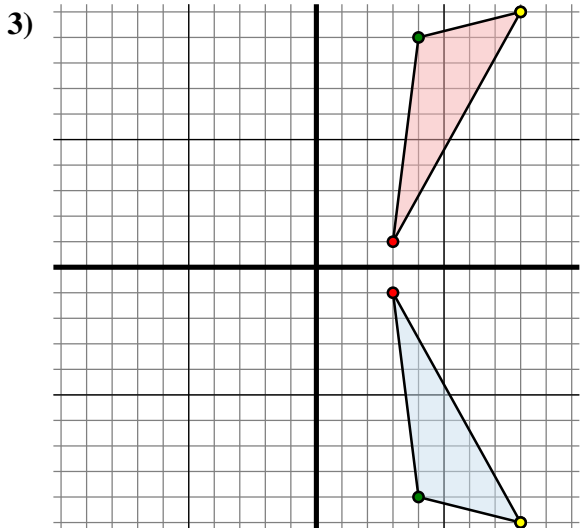
Specchia la figura rispetto all'asse y.



La figura qui sopra ha le seguenti coordinate:

- A. (0 ; 5)
- B. (-2 ; 8)
- C. (-6 ; 1)

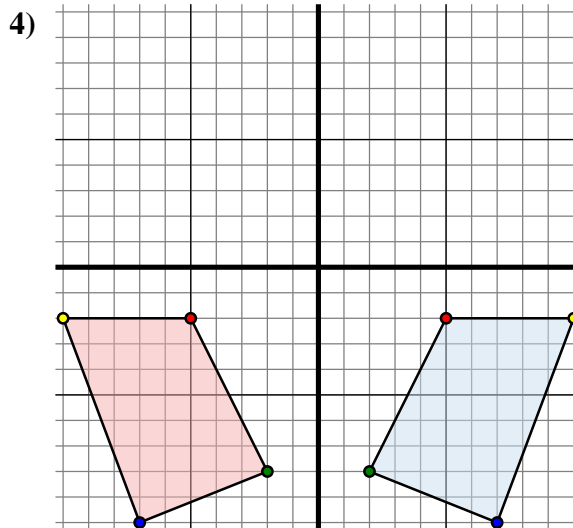
Specchia la figura rispetto all'asse x.



La figura qui sopra ha le seguenti coordinate:

- A. (3 ; -1)
- B. (4 ; -9)
- C. (8 ; -10)

Specchia la figura rispetto all'asse x.



La figura qui sopra ha le seguenti coordinate:

- A. (5 ; -2)
- B. (2 ; -8)
- C. (7 ; -10)
- D. (10 ; -2)

Specchia la figura rispetto all'asse y.

**Risposte**1A. (0 ; 0)1B. (-2 ; -6)1C. (-9 ; -10)1D. (-7 ; -2)1G. Grafico2A. (0 ; -5)2B. (-2 ; -8)2C. (-6 ; -1)2G. Grafico3A. (3 ; 1)3B. (4 ; 9)3C. (8 ; 10)3G. Grafico4A. (-5 ; -2)4B. (-2 ; -8)4C. (-7 ; -10)4D. (-10 ; -2)4G. Grafico