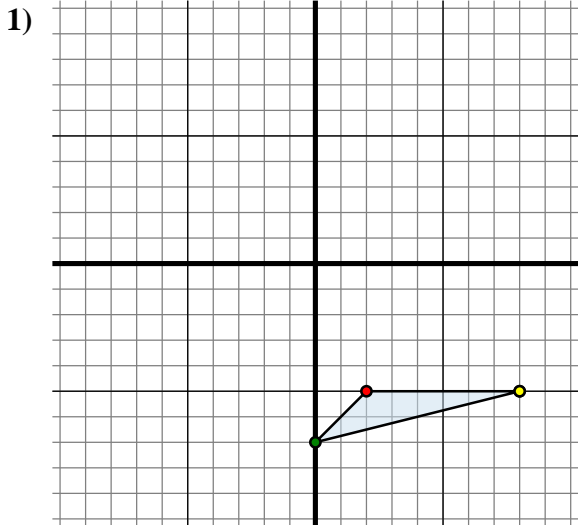




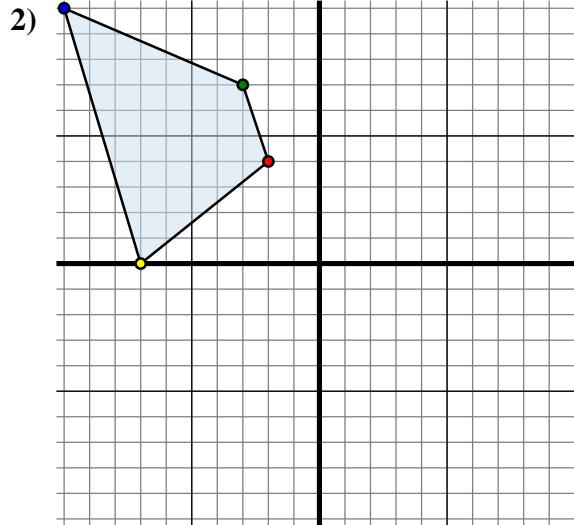
Specchia la forma come descritto



La figura qui sopra ha le seguenti coordinate:

- A. (2 ; -5)
- B. (0 ; -7)
- C. (8 ; -5)

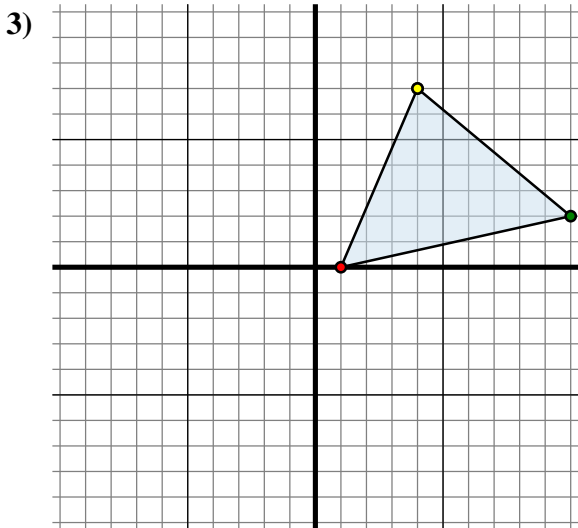
Specchia la figura rispetto all'asse x.



La figura qui sopra ha le seguenti coordinate:

- A. (-2 ; 4)
- B. (-3 ; 7)
- C. (-10 ; 10)
- D. (-7 ; 0)

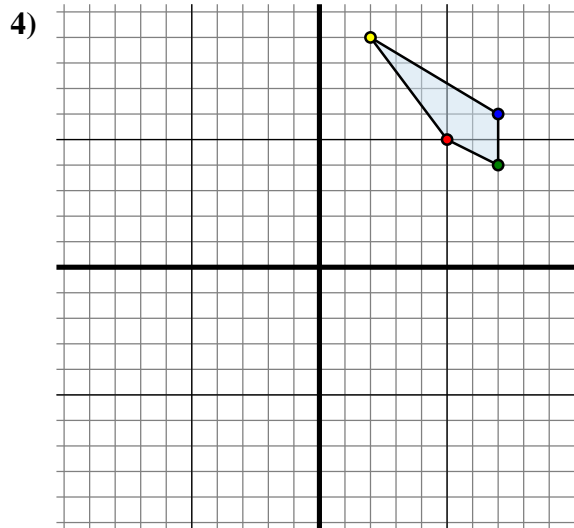
Specchia la figura rispetto all'asse y.



La figura qui sopra ha le seguenti coordinate:

- A. (1 ; 0)
- B. (10 ; 2)
- C. (4 ; 7)

Specchia la figura rispetto all'asse y.



La figura qui sopra ha le seguenti coordinate:

- A. (5 ; 5)
- B. (7 ; 4)
- C. (7 ; 6)
- D. (2 ; 9)

Specchia la figura rispetto all'asse y.

Risposte1A. (2 ; 5)

1B. _____

1C. _____

1G. Grafico

2A. _____

2B. _____

2C. _____

2D. _____

2G. Grafico

3A. _____

3B. _____

3C. _____

3G. Grafico

4A. _____

4B. _____

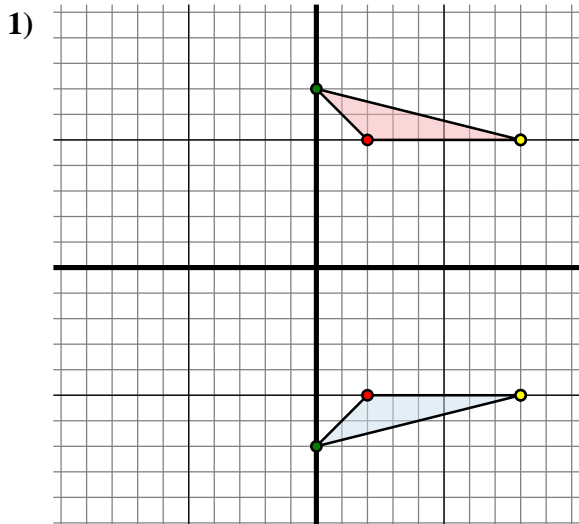
4C. _____

4D. _____

4G. Grafico



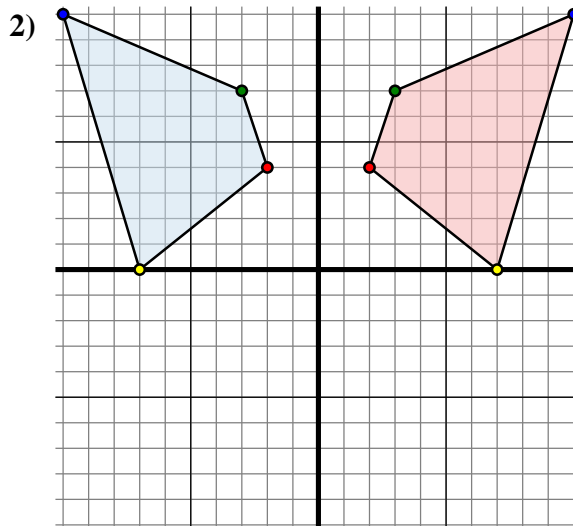
Specchia la forma come descritto



La figura qui sopra ha le seguenti coordinate:

- A. (2 ; -5)
- B. (0 ; -7)
- C. (8 ; -5)

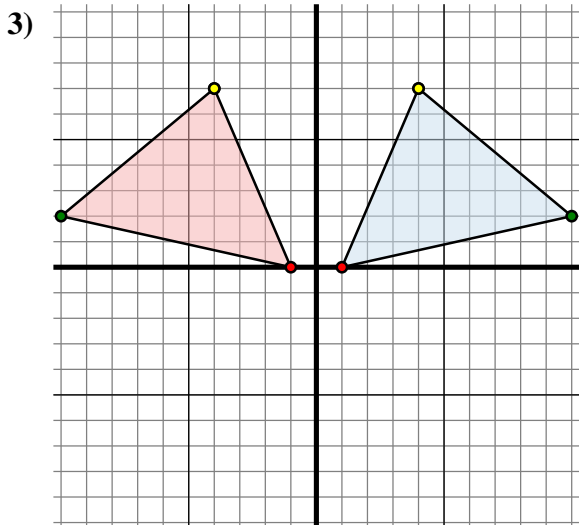
Specchia la figura rispetto all'asse x.



La figura qui sopra ha le seguenti coordinate:

- A. (-2 ; 4)
- B. (-3 ; 7)
- C. (-10 ; 10)
- D. (-7 ; 0)

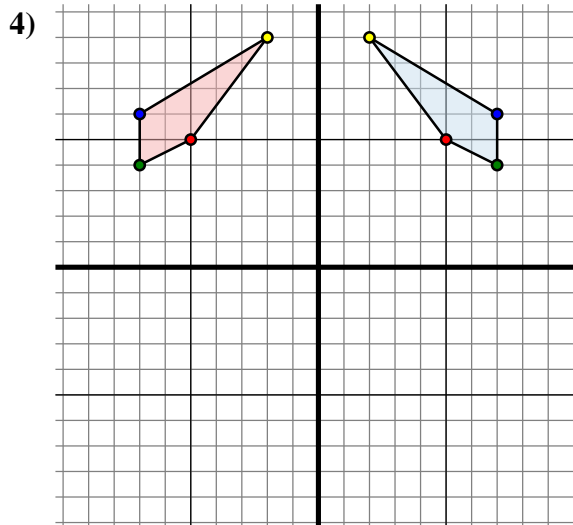
Specchia la figura rispetto all'asse y.



La figura qui sopra ha le seguenti coordinate:

- A. (1 ; 0)
- B. (10 ; 2)
- C. (4 ; 7)

Specchia la figura rispetto all'asse y.



La figura qui sopra ha le seguenti coordinate:

- A. (5 ; 5)
- B. (7 ; 4)
- C. (7 ; 6)
- D. (2 ; 9)

Specchia la figura rispetto all'asse y.

Risposte1A. **(2 ; 5)**1B. **(0 ; 7)**1C. **(8 ; 5)**1G. **Grafico**2A. **(2 ; 4)**2B. **(3 ; 7)**2C. **(10 ; 10)**2D. **(7 ; 0)**2G. **Grafico**3A. **(-1 ; 0)**3B. **(-10 ; 2)**3C. **(-4 ; 7)**3G. **Grafico**4A. **(-5 ; 5)**4B. **(-7 ; 4)**4C. **(-7 ; 6)**4D. **(-2 ; 9)**4G. **Grafico**