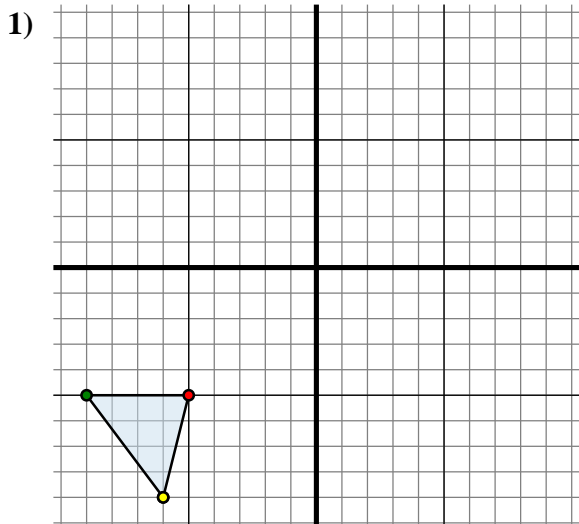




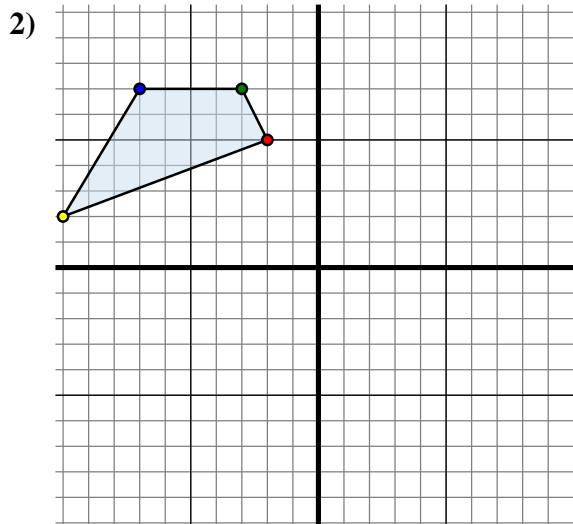
**Specchia la forma come descritto**



La figura qui sopra ha le seguenti coordinate:

- A. (-5 ; -5)
- B. (-9 ; -5)
- C. (-6 ; -9)

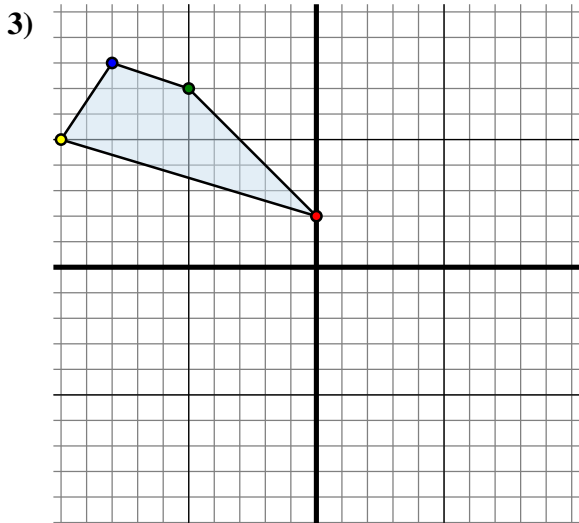
Specchia la figura rispetto all'asse x.



La figura qui sopra ha le seguenti coordinate:

- A. (-2 ; 5)
- B. (-3 ; 7)
- C. (-7 ; 7)
- D. (-10 ; 2)

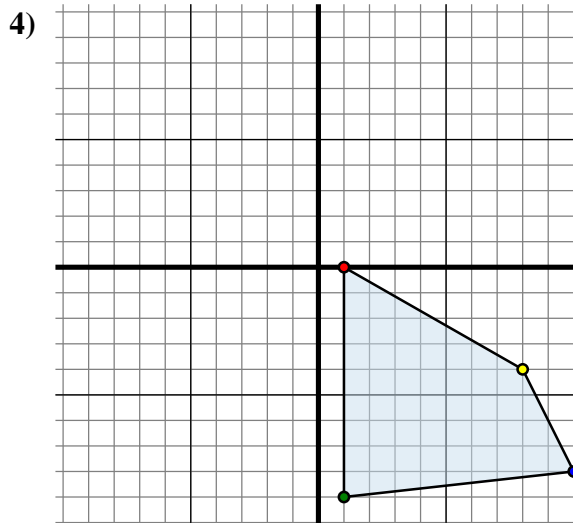
Specchia la figura rispetto all'asse y.



La figura qui sopra ha le seguenti coordinate:

- A. (0 ; 2)
- B. (-5 ; 7)
- C. (-8 ; 8)
- D. (-10 ; 5)

Specchia la figura rispetto all'asse y.



La figura qui sopra ha le seguenti coordinate:

- A. (1 ; 0)
- B. (1 ; -9)
- C. (10 ; -8)
- D. (8 ; -4)

Specchia la figura rispetto all'asse x.

**Risposte**

1A. (-5 ; 5)

1B. \_\_\_\_\_

1C. \_\_\_\_\_

1G. Grafico

2A. \_\_\_\_\_

2B. \_\_\_\_\_

2C. \_\_\_\_\_

2D. \_\_\_\_\_

2G. Grafico

3A. \_\_\_\_\_

3B. \_\_\_\_\_

3C. \_\_\_\_\_

3D. \_\_\_\_\_

3G. Grafico

4A. \_\_\_\_\_

4B. \_\_\_\_\_

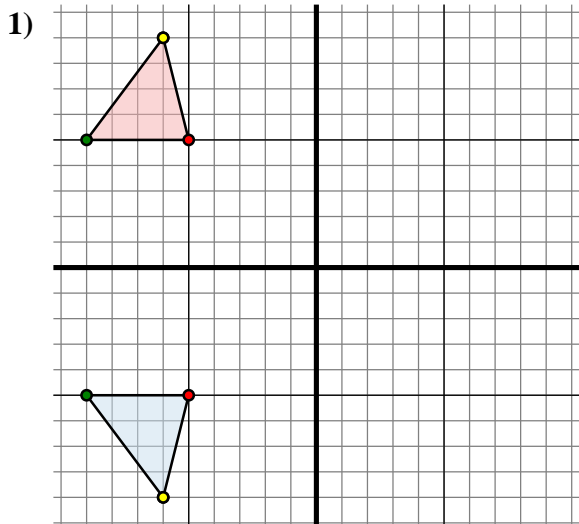
4C. \_\_\_\_\_

4D. \_\_\_\_\_

4G. Grafico



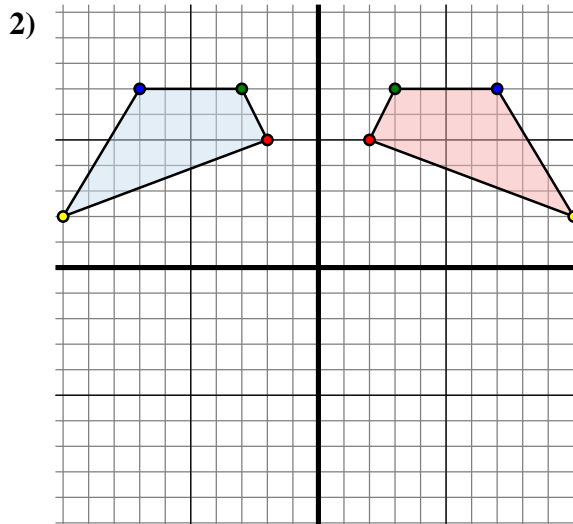
## Specchia la forma come descritto



La figura qui sopra ha le seguenti coordinate:

- A. (-5 ; -5)
- B. (-9 ; -5)
- C. (-6 ; -9)

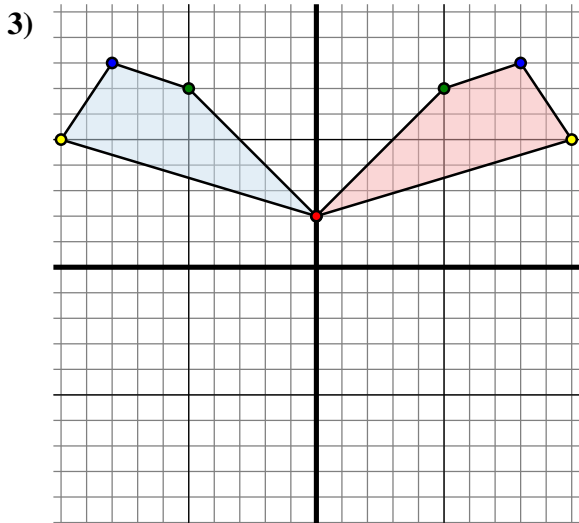
Specchia la figura rispetto all'asse x.



La figura qui sopra ha le seguenti coordinate:

- A. (-2 ; 5)
- B. (-3 ; 7)
- C. (-7 ; 7)
- D. (-10 ; 2)

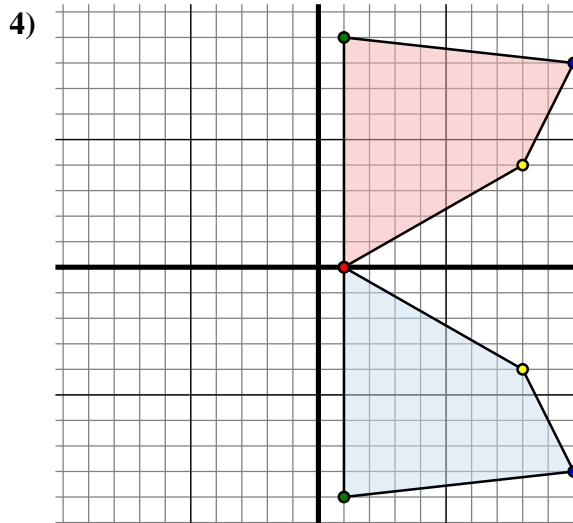
Specchia la figura rispetto all'asse y.



La figura qui sopra ha le seguenti coordinate:

- A. (0 ; 2)
- B. (-5 ; 7)
- C. (-8 ; 8)
- D. (-10 ; 5)

Specchia la figura rispetto all'asse y.



La figura qui sopra ha le seguenti coordinate:

- A. (1 ; 0)
- B. (1 ; -9)
- C. (10 ; -8)
- D. (8 ; -4)

Specchia la figura rispetto all'asse x.

**Risposte**1A. (-5 ; 5)1B. (-9 ; 5)1C. (-6 ; 9)1G. Grafico2A. (2 ; 5)2B. (3 ; 7)2C. (7 ; 7)2D. (10 ; 2)2G. Grafico3A. (0 ; 2)3B. (5 ; 7)3C. (8 ; 8)3D. (10 ; 5)3G. Grafico4A. (1 ; 0)4B. (1 ; 9)4C. (10 ; 8)4D. (8 ; 4)4G. Grafico