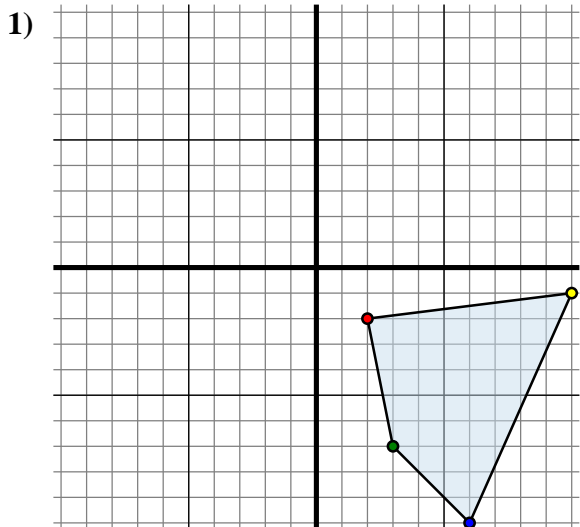




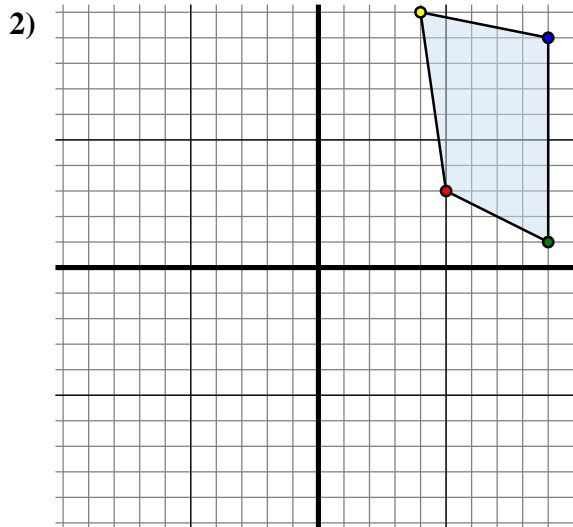
## Specchia la forma come descritto



La figura qui sopra ha le seguenti coordinate:

- A. (2 ; -2)
- B. (3 ; -7)
- C. (6 ; -10)
- D. (10 ; -1)

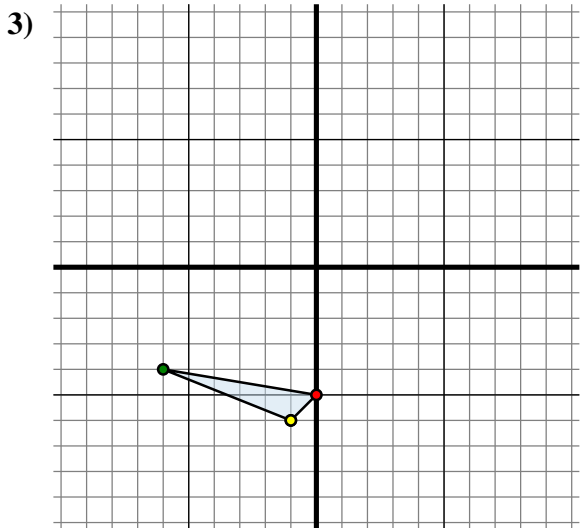
Specchia la figura rispetto all'asse y.



La figura qui sopra ha le seguenti coordinate:

- A. (5 ; 3)
- B. (9 ; 1)
- C. (9 ; 9)
- D. (4 ; 10)

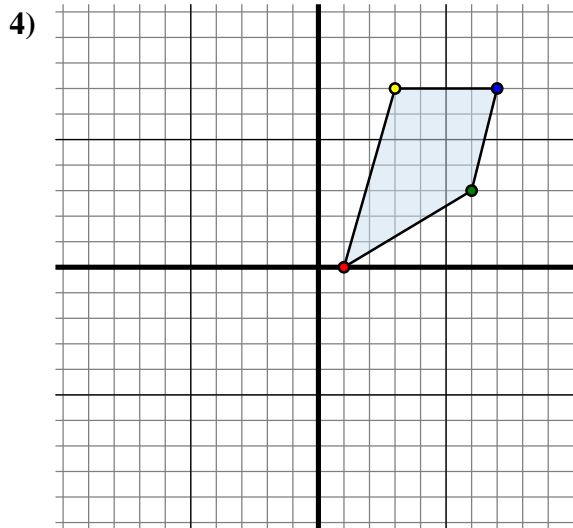
Specchia la figura rispetto all'asse x.



La figura qui sopra ha le seguenti coordinate:

- A. (0 ; -5)
- B. (-6 ; -4)
- C. (-1 ; -6)

Specchia la figura rispetto all'asse y.



La figura qui sopra ha le seguenti coordinate:

- A. (1 ; 0)
- B. (6 ; 3)
- C. (7 ; 7)
- D. (3 ; 7)

Specchia la figura rispetto all'asse y.

**Risposte**1A. (-2 ; -2)

1B. \_\_\_\_\_

1C. \_\_\_\_\_

1D. \_\_\_\_\_

1G. Grafico

2A. \_\_\_\_\_

2B. \_\_\_\_\_

2C. \_\_\_\_\_

2D. \_\_\_\_\_

2G. Grafico

3A. \_\_\_\_\_

3B. \_\_\_\_\_

3C. \_\_\_\_\_

3G. Grafico

4A. \_\_\_\_\_

4B. \_\_\_\_\_

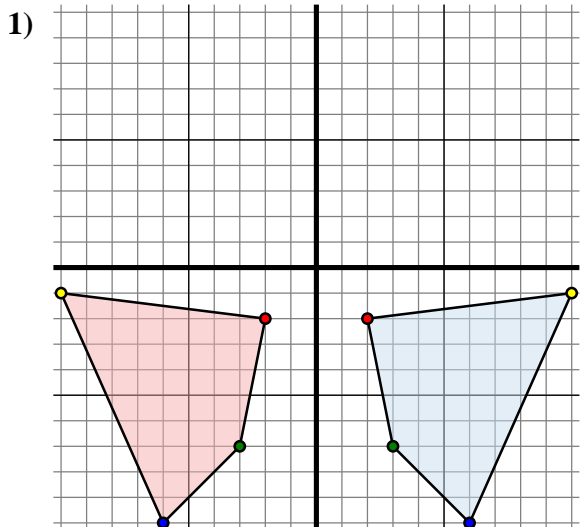
4C. \_\_\_\_\_

4D. \_\_\_\_\_

4G. Grafico



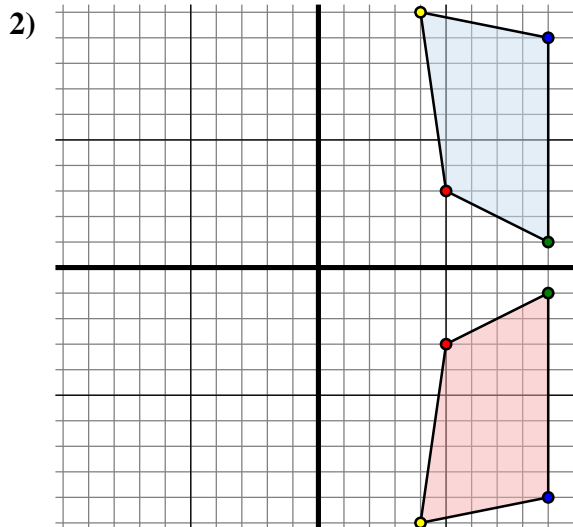
## Specchia la forma come descritto



La figura qui sopra ha le seguenti coordinate:

- A. (2 ; -2)
- B. (3 ; -7)
- C. (6 ; -10)
- D. (10 ; -1)

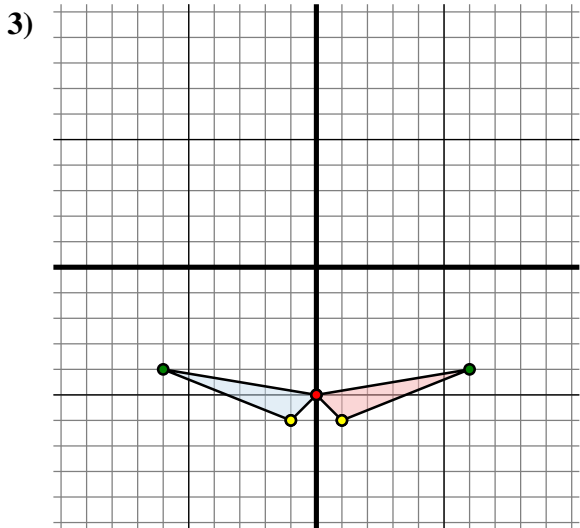
Specchia la figura rispetto all'asse y.



La figura qui sopra ha le seguenti coordinate:

- A. (5 ; 3)
- B. (9 ; 1)
- C. (9 ; 9)
- D. (4 ; 10)

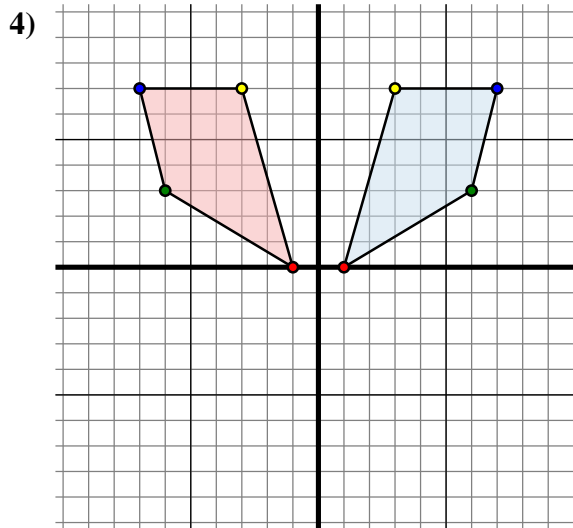
Specchia la figura rispetto all'asse x.



La figura qui sopra ha le seguenti coordinate:

- A. (0 ; -5)
- B. (-6 ; -4)
- C. (-1 ; -6)

Specchia la figura rispetto all'asse y.



La figura qui sopra ha le seguenti coordinate:

- A. (1 ; 0)
- B. (6 ; 3)
- C. (7 ; 7)
- D. (3 ; 7)

Specchia la figura rispetto all'asse y.

**Risposte**1A. **(-2 ; -2)**1B. **(-3 ; -7)**1C. **(-6 ; -10)**1D. **(-10 ; -1)**1G. **Grafico**2A. **(5 ; -3)**2B. **(9 ; -1)**2C. **(9 ; -9)**2D. **(4 ; -10)**2G. **Grafico**3A. **(0 ; -5)**3B. **(6 ; -4)**3C. **(1 ; -6)**3G. **Grafico**4A. **(-1 ; 0)**4B. **(-6 ; 3)**4C. **(-7 ; 7)**4D. **(-3 ; 7)**4G. **Grafico**