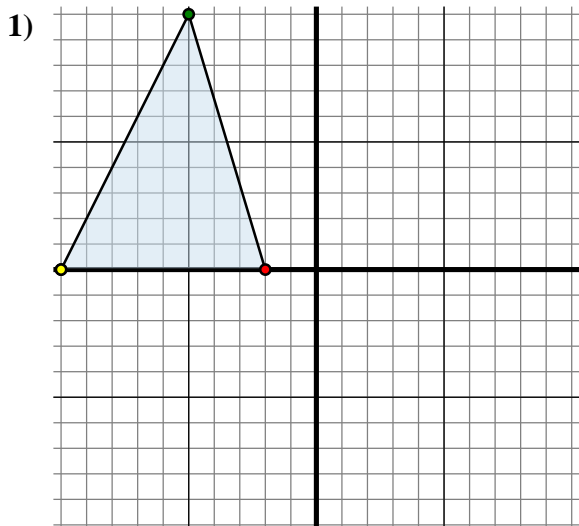




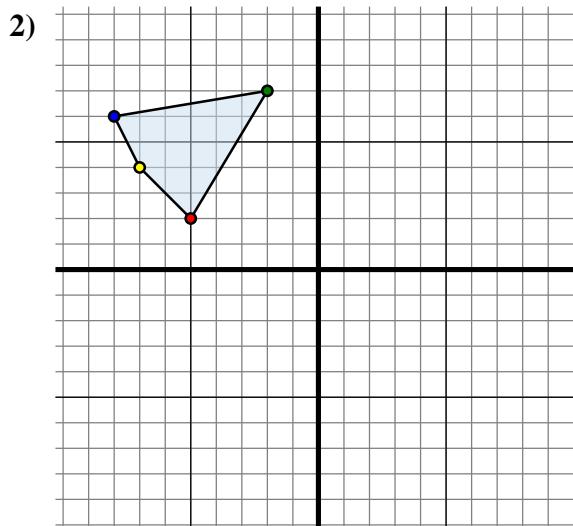
Specchia la forma come descritto



La figura qui sopra ha le seguenti coordinate:

- A. (-2 ; 0)
- B. (-5 ; 10)
- C. (-10 ; 0)

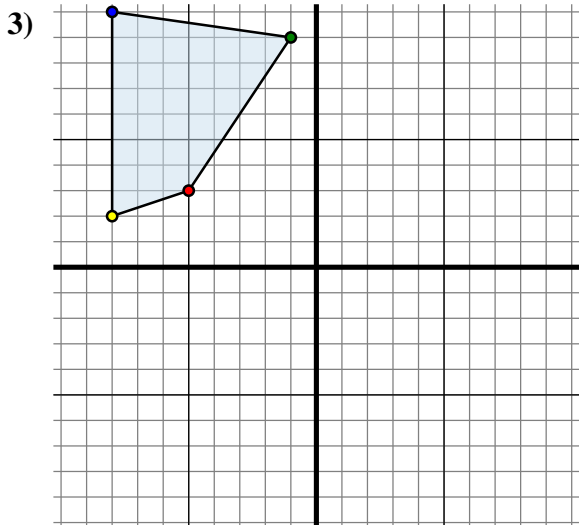
Specchia la figura rispetto all'asse x.



La figura qui sopra ha le seguenti coordinate:

- A. (-5 ; 2)
- B. (-2 ; 7)
- C. (-8 ; 6)
- D. (-7 ; 4)

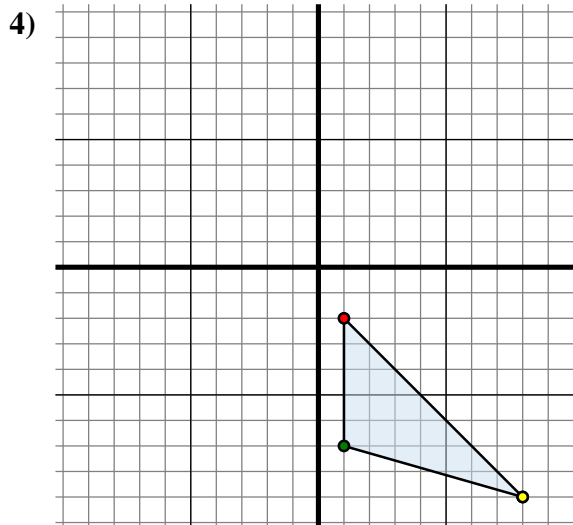
Specchia la figura rispetto all'asse x.



La figura qui sopra ha le seguenti coordinate:

- A. (-5 ; 3)
- B. (-1 ; 9)
- C. (-8 ; 10)
- D. (-8 ; 2)

Specchia la figura rispetto all'asse y.



La figura qui sopra ha le seguenti coordinate:

- A. (1 ; -2)
- B. (1 ; -7)
- C. (8 ; -9)

Specchia la figura rispetto all'asse x.

Risposte1A. (-2 ; 0)

1B. _____

1C. _____

1G. Grafico

2A. _____

2B. _____

2C. _____

2D. _____

2G. Grafico

3A. _____

3B. _____

3C. _____

3D. _____

3G. Grafico

4A. _____

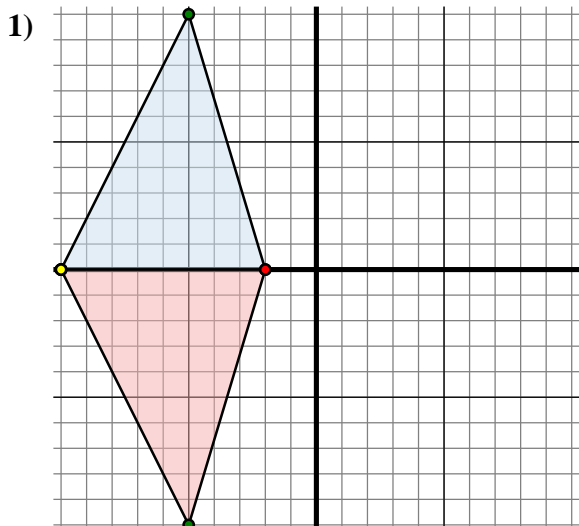
4B. _____

4C. _____

4G. Grafico



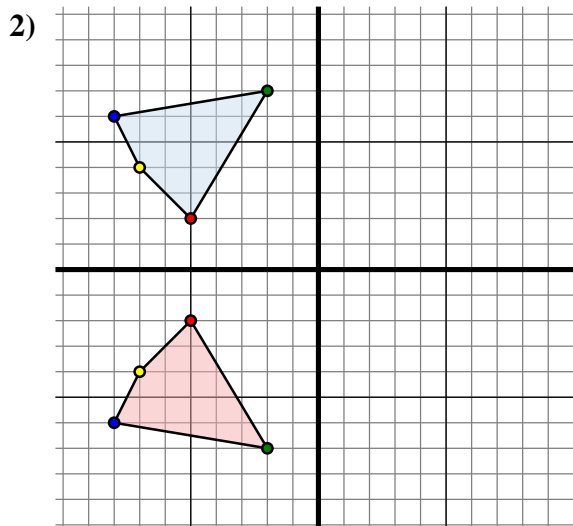
Specchia la forma come descritto



La figura qui sopra ha le seguenti coordinate:

- A. (-2 ; 0)
- B. (-5 ; 10)
- C. (-10 ; 0)

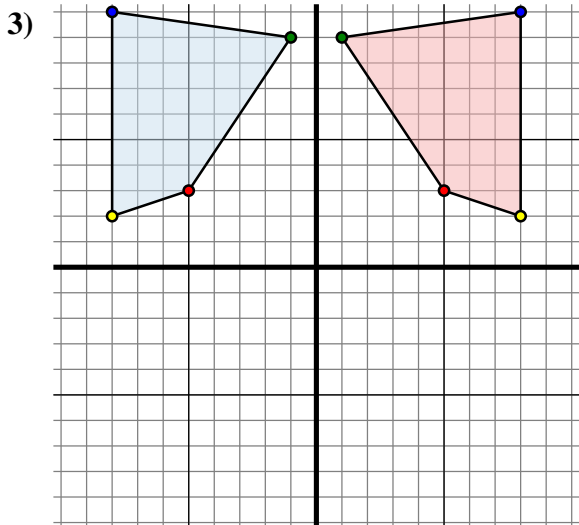
Specchia la figura rispetto all'asse x.



La figura qui sopra ha le seguenti coordinate:

- A. (-5 ; 2)
- B. (-2 ; 7)
- C. (-8 ; 6)
- D. (-7 ; 4)

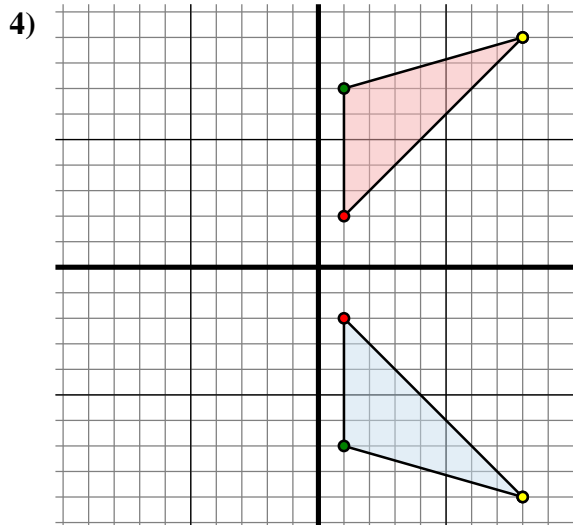
Specchia la figura rispetto all'asse x.



La figura qui sopra ha le seguenti coordinate:

- A. (-5 ; 3)
- B. (-1 ; 9)
- C. (-8 ; 10)
- D. (-8 ; 2)

Specchia la figura rispetto all'asse y.



La figura qui sopra ha le seguenti coordinate:

- A. (1 ; -2)
- B. (1 ; -7)
- C. (8 ; -9)

Specchia la figura rispetto all'asse x.

Risposte1A. **(-2 ; 0)**1B. **(-5 ; -10)**1C. **(-10 ; 0)**1G. **Grafico**2A. **(-5 ; -2)**2B. **(-2 ; -7)**2C. **(-8 ; -6)**2D. **(-7 ; -4)**2G. **Grafico**3A. **(5 ; 3)**3B. **(1 ; 9)**3C. **(8 ; 10)**3D. **(8 ; 2)**3G. **Grafico**4A. **(1 ; 2)**4B. **(1 ; 7)**4C. **(8 ; 9)**4G. **Grafico**