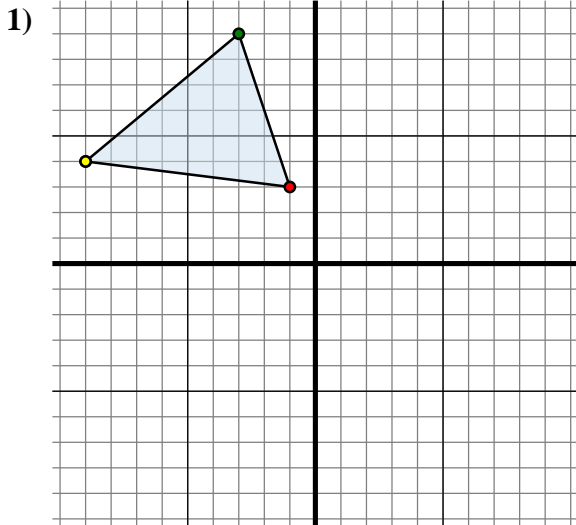




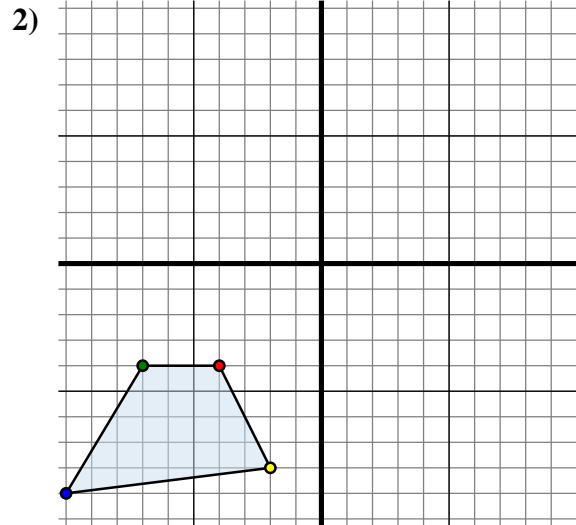
Specchia la forma come descritto



La figura qui sopra ha le seguenti coordinate:

- A. (-1 ; 3)
- B. (-3 ; 9)
- C. (-9 ; 4)

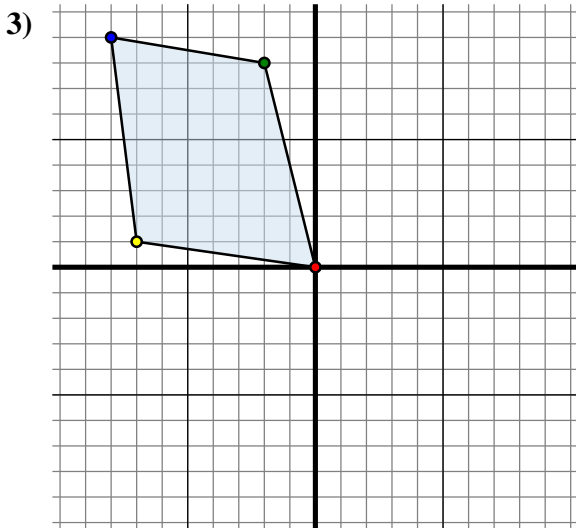
Specchia la figura rispetto all'asse y.



La figura qui sopra ha le seguenti coordinate:

- A. (-4 ; -4)
- B. (-7 ; -4)
- C. (-10 ; -9)
- D. (-2 ; -8)

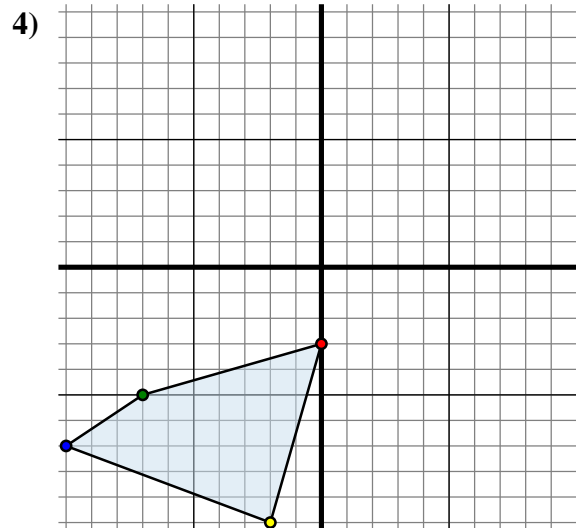
Specchia la figura rispetto all'asse x.



La figura qui sopra ha le seguenti coordinate:

- A. (0 ; 0)
- B. (-2 ; 8)
- C. (-8 ; 9)
- D. (-7 ; 1)

Specchia la figura rispetto all'asse y.



La figura qui sopra ha le seguenti coordinate:

- A. (0 ; -3)
- B. (-7 ; -5)
- C. (-10 ; -7)
- D. (-2 ; -10)

Specchia la figura rispetto all'asse y.

Risposte1A. (1 ; 3)

1B. _____

1C. _____

1G. Grafico

2A. _____

2B. _____

2C. _____

2D. _____

2G. Grafico

3A. _____

3B. _____

3C. _____

3D. _____

3G. Grafico

4A. _____

4B. _____

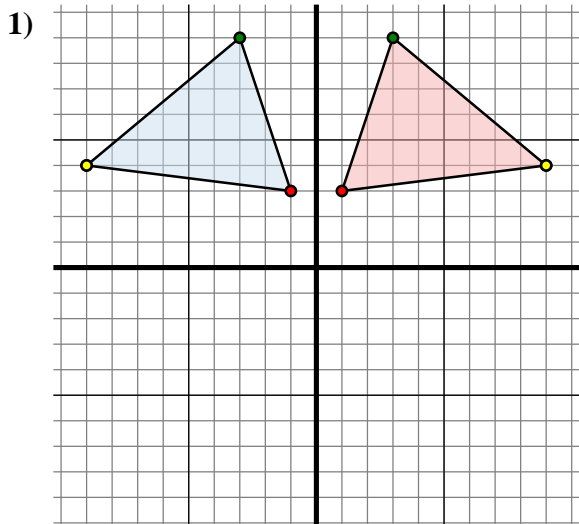
4C. _____

4D. _____

4G. Grafico



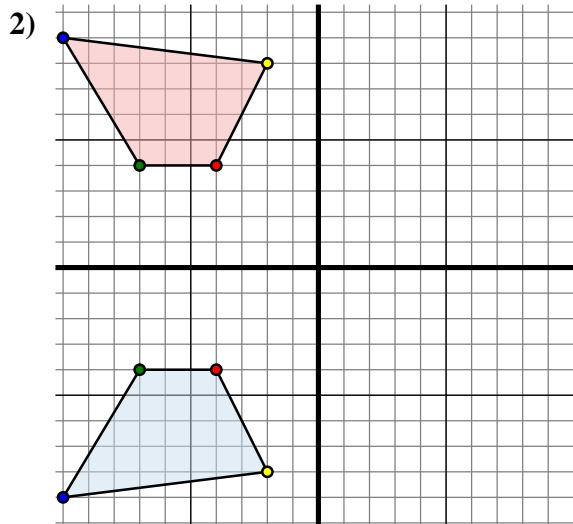
Specchia la forma come descritto



La figura qui sopra ha le seguenti coordinate:

- A. (-1 ; 3)
- B. (-3 ; 9)
- C. (-9 ; 4)

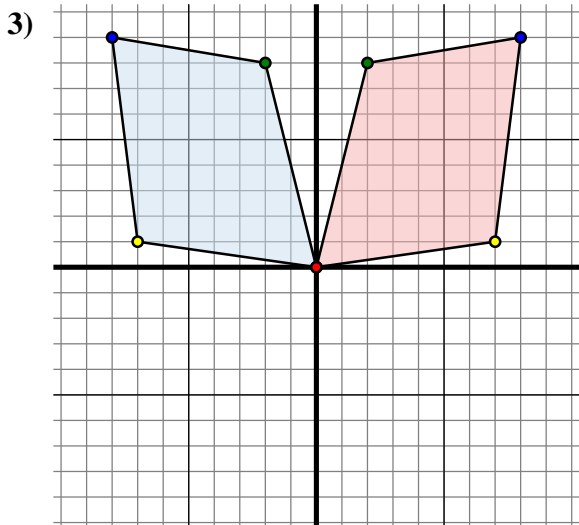
Specchia la figura rispetto all'asse y.



La figura qui sopra ha le seguenti coordinate:

- A. (-4 ; -4)
- B. (-7 ; -4)
- C. (-10 ; -9)
- D. (-2 ; -8)

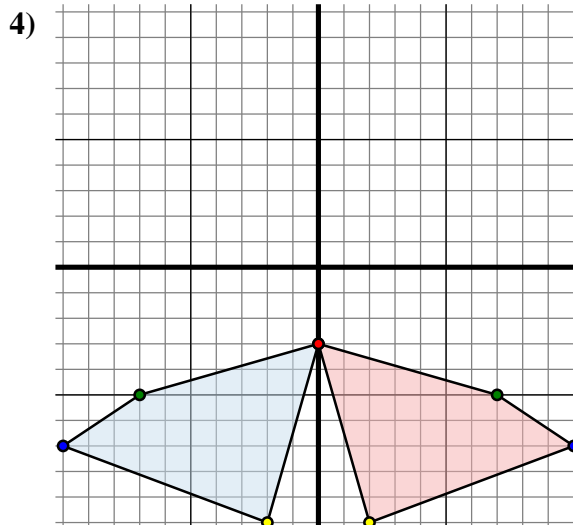
Specchia la figura rispetto all'asse x.



La figura qui sopra ha le seguenti coordinate:

- A. (0 ; 0)
- B. (-2 ; 8)
- C. (-8 ; 9)
- D. (-7 ; 1)

Specchia la figura rispetto all'asse y.



La figura qui sopra ha le seguenti coordinate:

- A. (0 ; -3)
- B. (-7 ; -5)
- C. (-10 ; -7)
- D. (-2 ; -10)

Specchia la figura rispetto all'asse y.

Risposte1A. (1 ; 3)1B. (3 ; 9)1C. (9 ; 4)1G. Grafico2A. (-4 ; 4)2B. (-7 ; 4)2C. (-10 ; 9)2D. (-2 ; 8)2G. Grafico3A. (0 ; 0)3B. (2 ; 8)3C. (8 ; 9)3D. (7 ; 1)3G. Grafico4A. (0 ; -3)4B. (7 ; -5)4C. (10 ; -7)4D. (2 ; -10)4G. Grafico