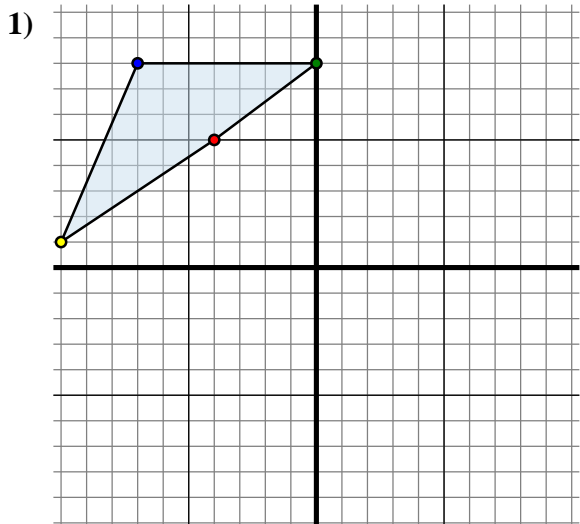




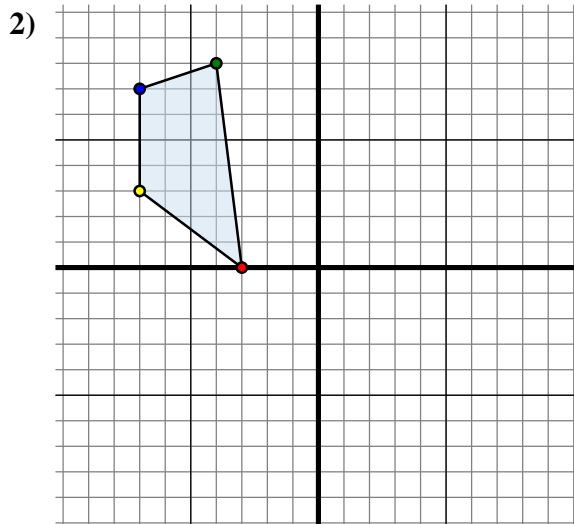
Specchia la forma come descritto



La figura qui sopra ha le seguenti coordinate:

- A. (-4 ; 5)
- B. (0 ; 8)
- C. (-7 ; 8)
- D. (-10 ; 1)

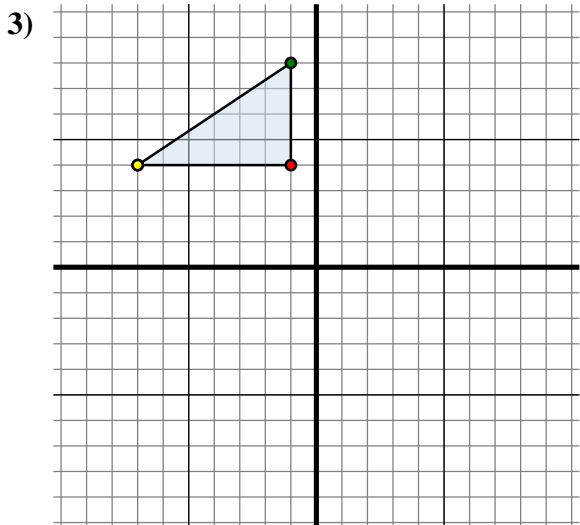
Specchia la figura rispetto all'asse x.



La figura qui sopra ha le seguenti coordinate:

- A. (-3 ; 0)
- B. (-4 ; 8)
- C. (-7 ; 7)
- D. (-7 ; 3)

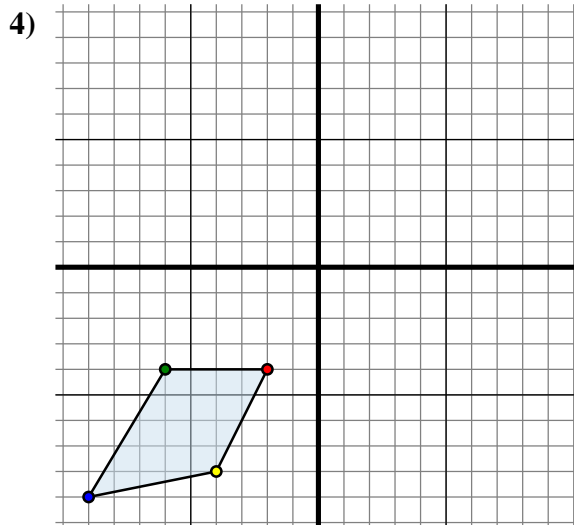
Specchia la figura rispetto all'asse y.



La figura qui sopra ha le seguenti coordinate:

- A. (-1 ; 4)
- B. (-1 ; 8)
- C. (-7 ; 4)

Specchia la figura rispetto all'asse x.



La figura qui sopra ha le seguenti coordinate:

- A. (-2 ; -4)
- B. (-6 ; -4)
- C. (-9 ; -9)
- D. (-4 ; -8)

Specchia la figura rispetto all'asse y.

Risposte

1A. (-4 ; -5)

1B. _____

1C. _____

1D. _____

1G. Grafico

2A. _____

2B. _____

2C. _____

2D. _____

2G. Grafico

3A. _____

3B. _____

3C. _____

3G. Grafico

4A. _____

4B. _____

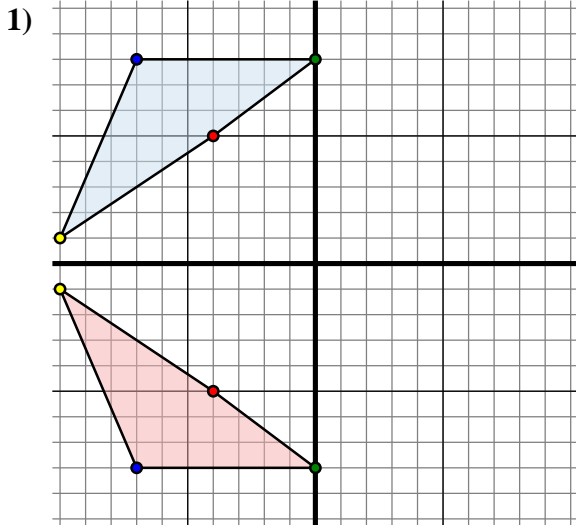
4C. _____

4D. _____

4G. Grafico



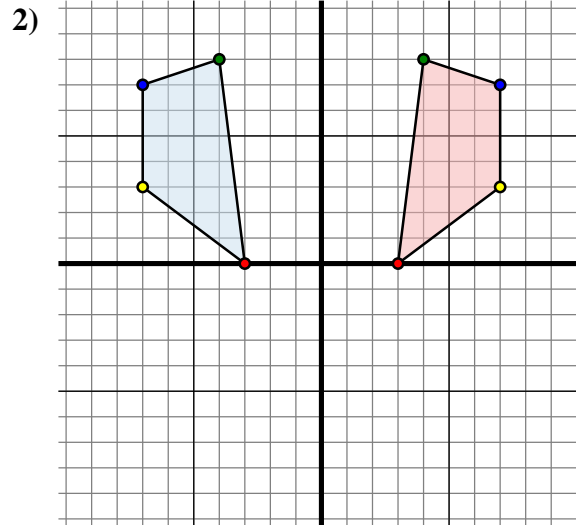
Specchia la forma come descritto



La figura qui sopra ha le seguenti coordinate:

- A. (-4 ; 5)
- B. (0 ; 8)
- C. (-7 ; 8)
- D. (-10 ; 1)

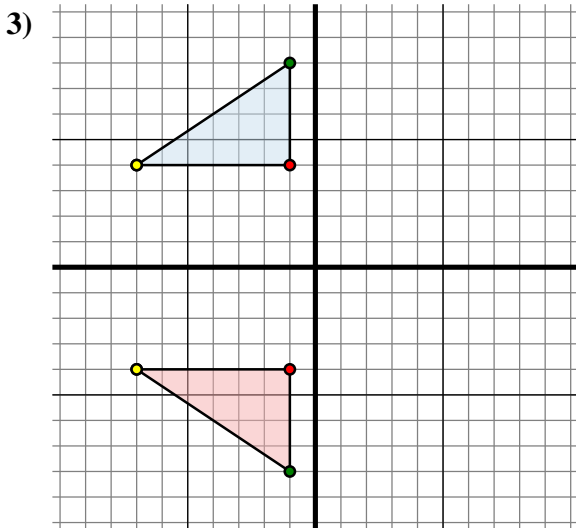
Specchia la figura rispetto all'asse x.



La figura qui sopra ha le seguenti coordinate:

- A. (-3 ; 0)
- B. (-4 ; 8)
- C. (-7 ; 7)
- D. (-7 ; 3)

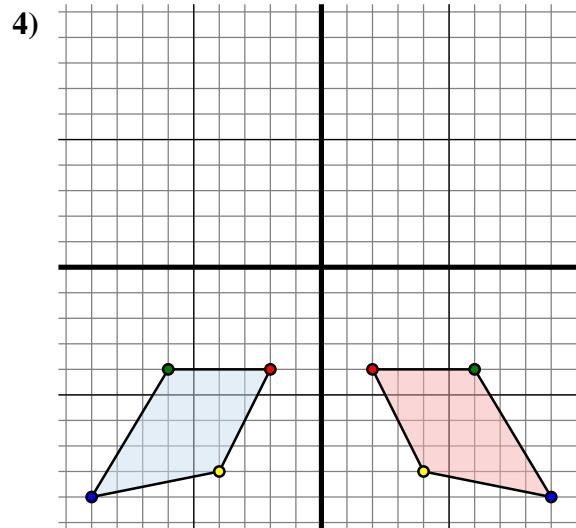
Specchia la figura rispetto all'asse y.



La figura qui sopra ha le seguenti coordinate:

- A. (-1 ; 4)
- B. (-1 ; 8)
- C. (-7 ; 4)

Specchia la figura rispetto all'asse x.



La figura qui sopra ha le seguenti coordinate:

- A. (-2 ; -4)
- B. (-6 ; -4)
- C. (-9 ; -9)
- D. (-4 ; -8)

Specchia la figura rispetto all'asse y.

Risposte1A. (-4 ; -5)1B. (0 ; -8)1C. (-7 ; -8)1D. (-10 ; -1)1G. Grafico2A. (3 ; 0)2B. (4 ; 8)2C. (7 ; 7)2D. (7 ; 3)2G. Grafico3A. (-1 ; -4)3B. (-1 ; -8)3C. (-7 ; -4)3G. Grafico4A. (2 ; -4)4B. (6 ; -4)4C. (9 ; -9)4D. (4 ; -8)4G. Grafico