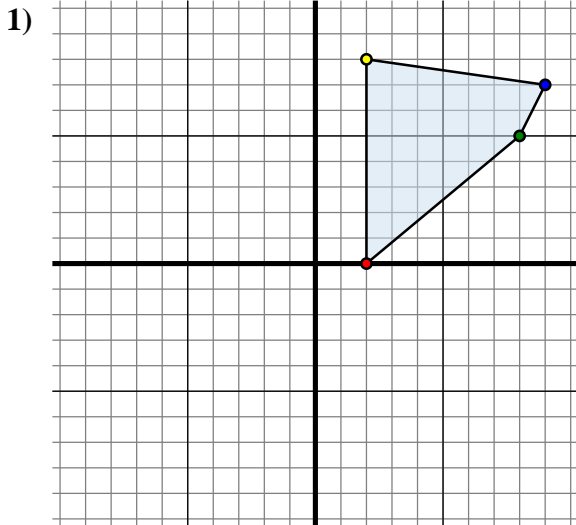




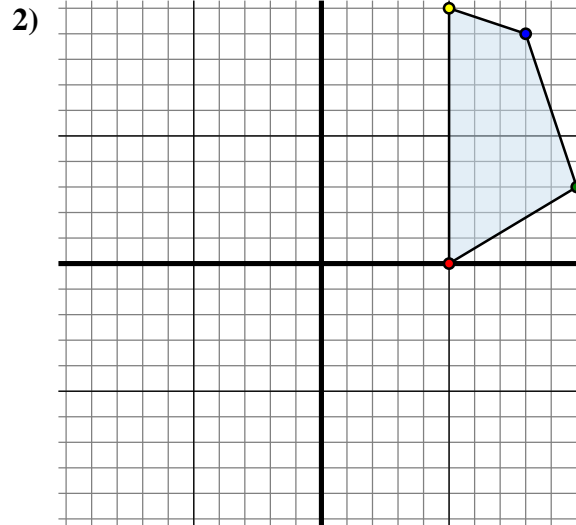
Specchia la forma come descritto



La figura qui sopra ha le seguenti coordinate:

- A. (2 ; 0)
- B. (8 ; 5)
- C. (9 ; 7)
- D. (2 ; 8)

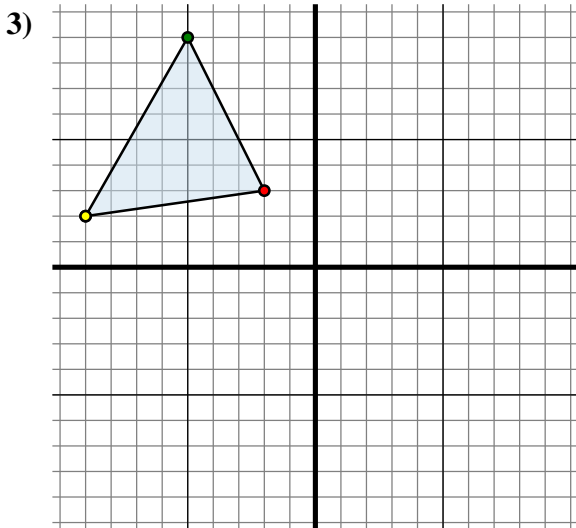
Specchia la figura rispetto all'asse y.



La figura qui sopra ha le seguenti coordinate:

- A. (5 ; 0)
- B. (10 ; 3)
- C. (8 ; 9)
- D. (5 ; 10)

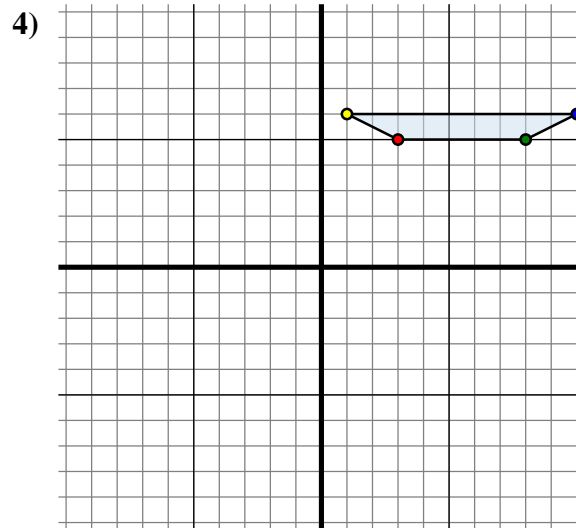
Specchia la figura rispetto all'asse x.



La figura qui sopra ha le seguenti coordinate:

- A. (-2 ; 3)
- B. (-5 ; 9)
- C. (-9 ; 2)

Specchia la figura rispetto all'asse y.



La figura qui sopra ha le seguenti coordinate:

- A. (3 ; 5)
- B. (8 ; 5)
- C. (10 ; 6)
- D. (1 ; 6)

Specchia la figura rispetto all'asse x.

Risposte1A. (-2 ; 0)

1B. _____

1C. _____

1D. _____

1G. Grafico

2A. _____

2B. _____

2C. _____

2D. _____

2G. Grafico

3A. _____

3B. _____

3C. _____

3G. Grafico

4A. _____

4B. _____

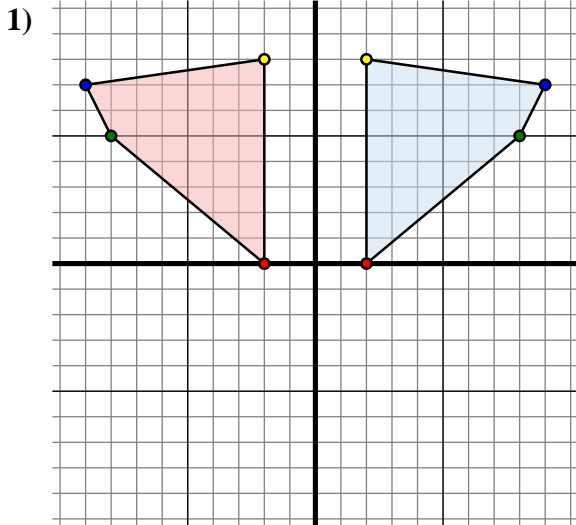
4C. _____

4D. _____

4G. Grafico



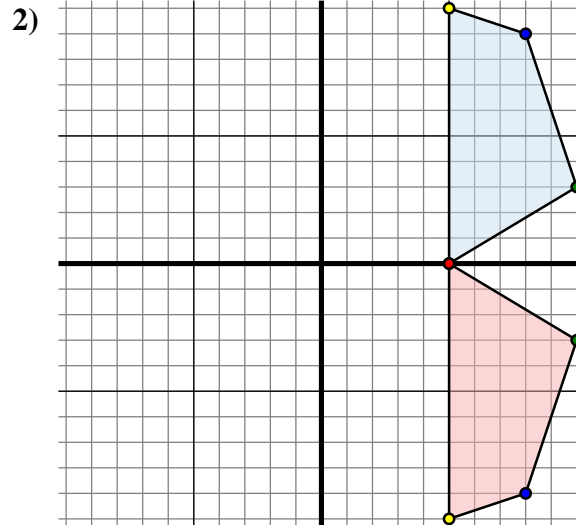
Specchia la forma come descritto



La figura qui sopra ha le seguenti coordinate:

- A. (2 ; 0)
- B. (8 ; 5)
- C. (9 ; 7)
- D. (2 ; 8)

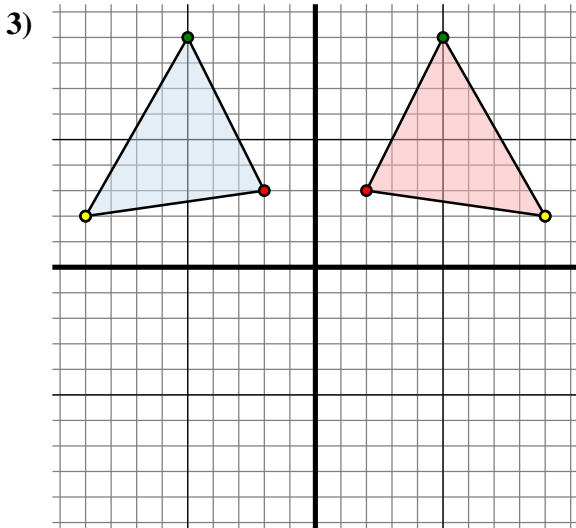
Specchia la figura rispetto all'asse y.



La figura qui sopra ha le seguenti coordinate:

- A. (5 ; 0)
- B. (10 ; 3)
- C. (8 ; 9)
- D. (5 ; 10)

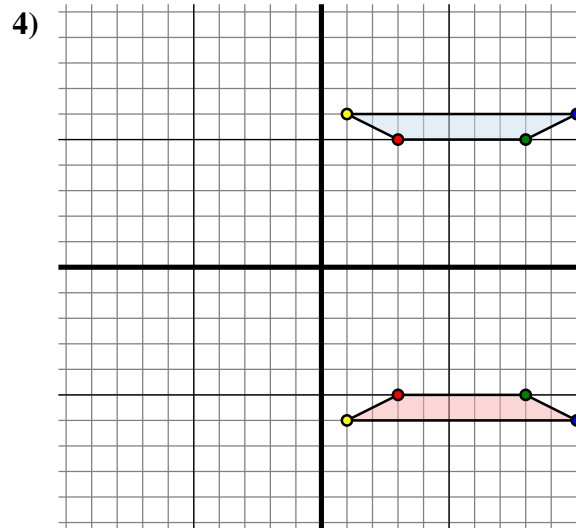
Specchia la figura rispetto all'asse x.



La figura qui sopra ha le seguenti coordinate:

- A. (-2 ; 3)
- B. (-5 ; 9)
- C. (-9 ; 2)

Specchia la figura rispetto all'asse y.



La figura qui sopra ha le seguenti coordinate:

- A. (3 ; 5)
- B. (8 ; 5)
- C. (10 ; 6)
- D. (1 ; 6)

Specchia la figura rispetto all'asse x.

Risposte1A. **(-2 ; 0)**1B. **(-8 ; 5)**1C. **(-9 ; 7)**1D. **(-2 ; 8)**1G. **Grafico**2A. **(5 ; 0)**2B. **(10 ; -3)**2C. **(8 ; -9)**2D. **(5 ; -10)**2G. **Grafico**3A. **(2 ; 3)**3B. **(5 ; 9)**3C. **(9 ; 2)**3G. **Grafico**4A. **(3 ; -5)**4B. **(8 ; -5)**4C. **(10 ; -6)**4D. **(1 ; -6)**4G. **Grafico**