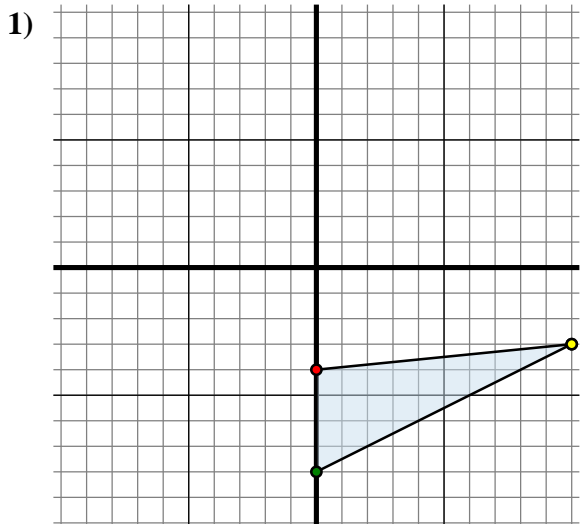




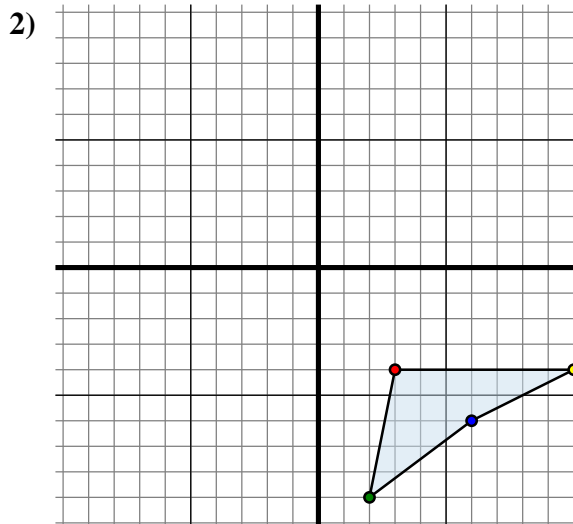
Specchia la forma come descritto



La figura qui sopra ha le seguenti coordinate:

- A. (0 ; -4)
- B. (0 ; -8)
- C. (10 ; -3)

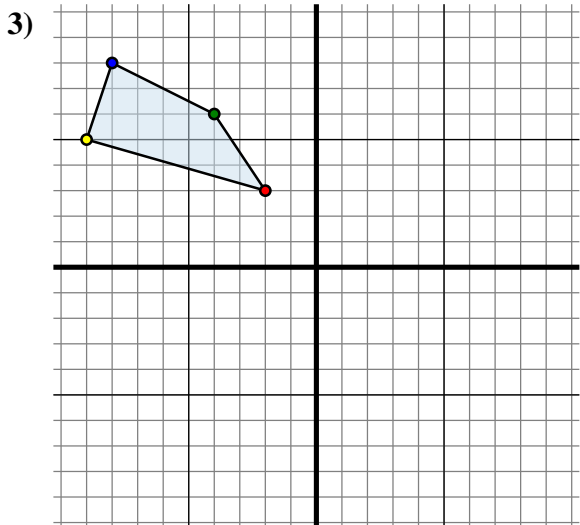
Specchia la figura rispetto all'asse y.



La figura qui sopra ha le seguenti coordinate:

- A. (3 ; -4)
- B. (2 ; -9)
- C. (6 ; -6)
- D. (10 ; -4)

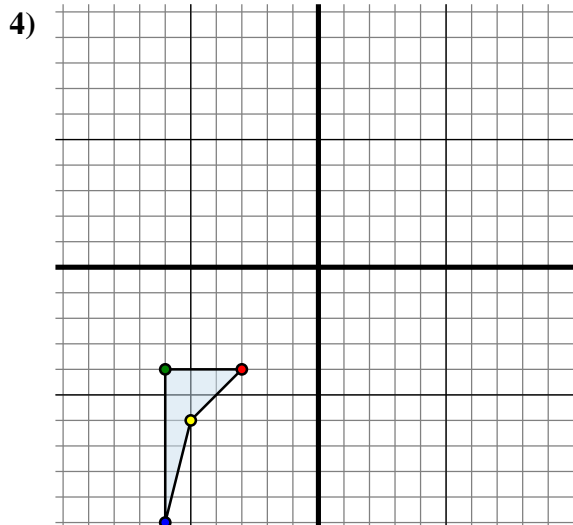
Specchia la figura rispetto all'asse x.



La figura qui sopra ha le seguenti coordinate:

- A. (-2 ; 3)
- B. (-4 ; 6)
- C. (-8 ; 8)
- D. (-9 ; 5)

Specchia la figura rispetto all'asse x.



La figura qui sopra ha le seguenti coordinate:

- A. (-3 ; -4)
- B. (-6 ; -4)
- C. (-6 ; -10)
- D. (-5 ; -6)

Specchia la figura rispetto all'asse x.

Risposte1A. (0 ; -4)

1B. _____

1C. _____

1G. Grafico

2A. _____

2B. _____

2C. _____

2D. _____

2G. Grafico

3A. _____

3B. _____

3C. _____

3D. _____

3G. Grafico

4A. _____

4B. _____

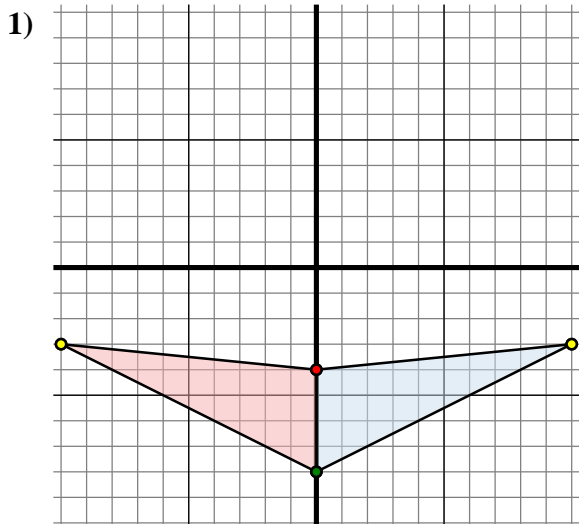
4C. _____

4D. _____

4G. Grafico



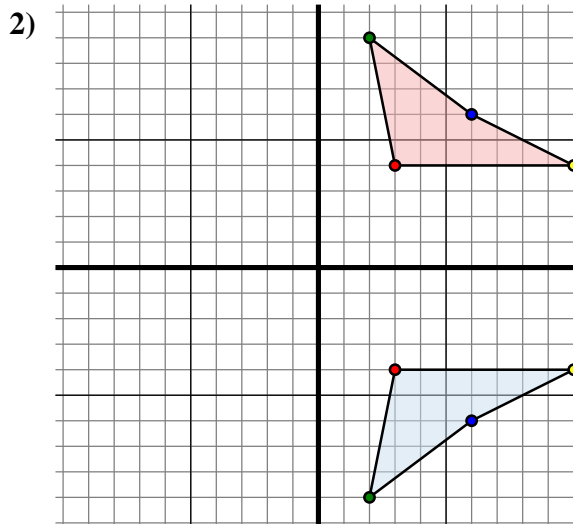
Specchia la forma come descritto



La figura qui sopra ha le seguenti coordinate:

- A. (0 ; -4)
- B. (0 ; -8)
- C. (10 ; -3)

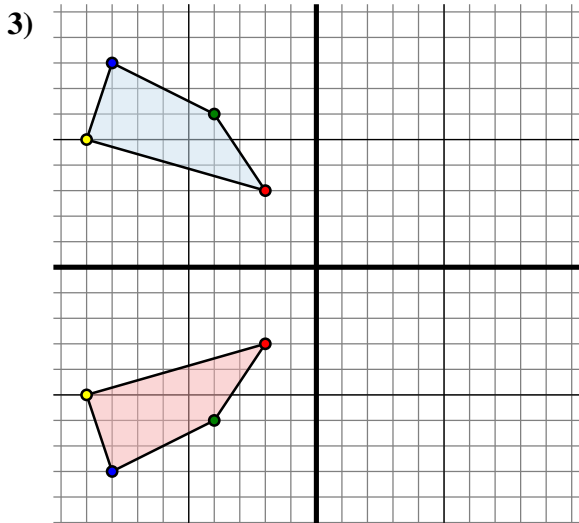
Specchia la figura rispetto all'asse y.



La figura qui sopra ha le seguenti coordinate:

- A. (3 ; -4)
- B. (2 ; -9)
- C. (6 ; -6)
- D. (10 ; -4)

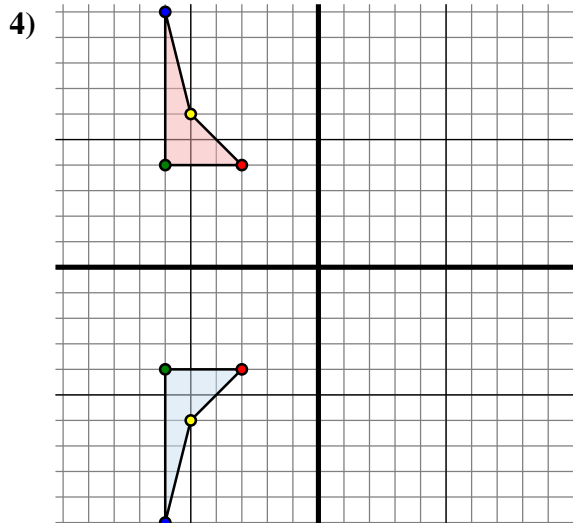
Specchia la figura rispetto all'asse x.



La figura qui sopra ha le seguenti coordinate:

- A. (-2 ; 3)
- B. (-4 ; 6)
- C. (-8 ; 8)
- D. (-9 ; 5)

Specchia la figura rispetto all'asse x.



La figura qui sopra ha le seguenti coordinate:

- A. (-3 ; -4)
- B. (-6 ; -4)
- C. (-6 ; -10)
- D. (-5 ; -6)

Specchia la figura rispetto all'asse x.

Risposte1A. **(0 ; -4)**1B. **(0 ; -8)**1C. **(-10 ; -3)**1G. **Grafico**2A. **(3 ; 4)**2B. **(2 ; 9)**2C. **(6 ; 6)**2D. **(10 ; 4)**2G. **Grafico**3A. **(-2 ; -3)**3B. **(-4 ; -6)**3C. **(-8 ; -8)**3D. **(-9 ; -5)**3G. **Grafico**4A. **(-3 ; 4)**4B. **(-6 ; 4)**4C. **(-6 ; 10)**4D. **(-5 ; 6)**4G. **Grafico**