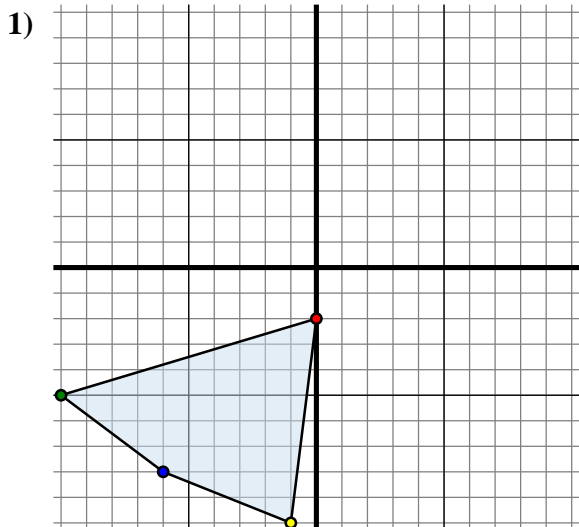




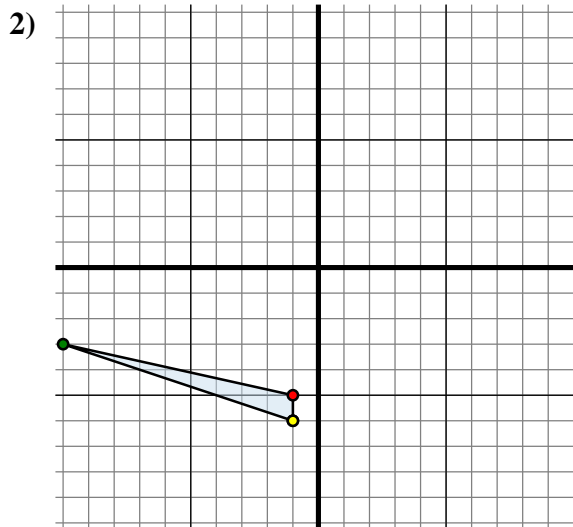
Specchia la forma come descritto



La figura qui sopra ha le seguenti coordinate:

- A. (0 ; -2)
- B. (-10 ; -5)
- C. (-6 ; -8)
- D. (-1 ; -10)

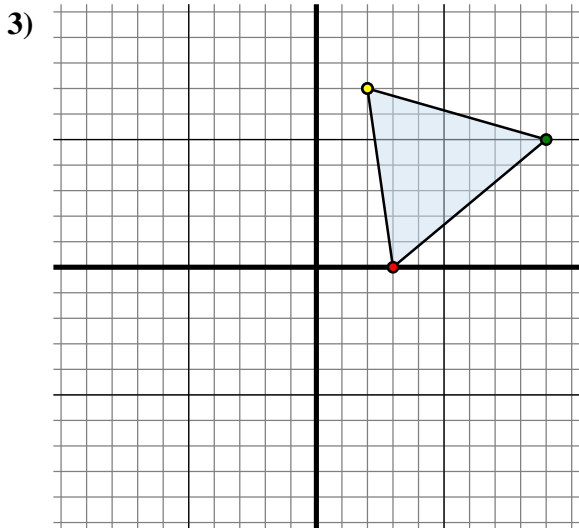
Specchia la figura rispetto all'asse x.



La figura qui sopra ha le seguenti coordinate:

- A. (-1 ; -5)
- B. (-10 ; -3)
- C. (-1 ; -6)

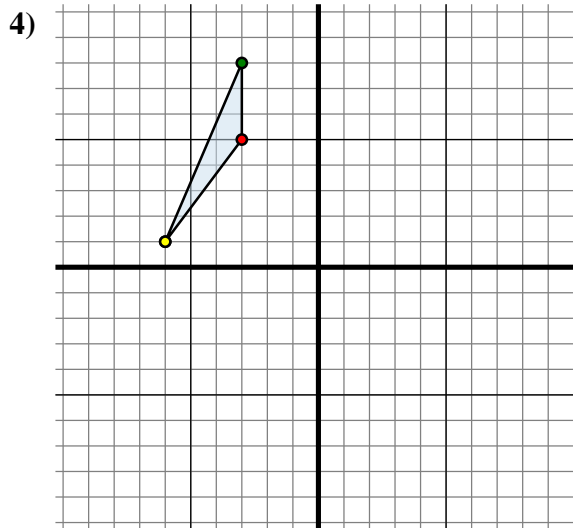
Specchia la figura rispetto all'asse x.



La figura qui sopra ha le seguenti coordinate:

- A. (3 ; 0)
- B. (9 ; 5)
- C. (2 ; 7)

Specchia la figura rispetto all'asse y.



La figura qui sopra ha le seguenti coordinate:

- A. (-3 ; 5)
- B. (-3 ; 8)
- C. (-6 ; 1)

Specchia la figura rispetto all'asse y.

Risposte

1A. (0 ; 2)

1B. _____

1C. _____

1D. _____

1G. Grafico

2A. _____

2B. _____

2C. _____

2G. Grafico

3A. _____

3B. _____

3C. _____

3G. Grafico

4A. _____

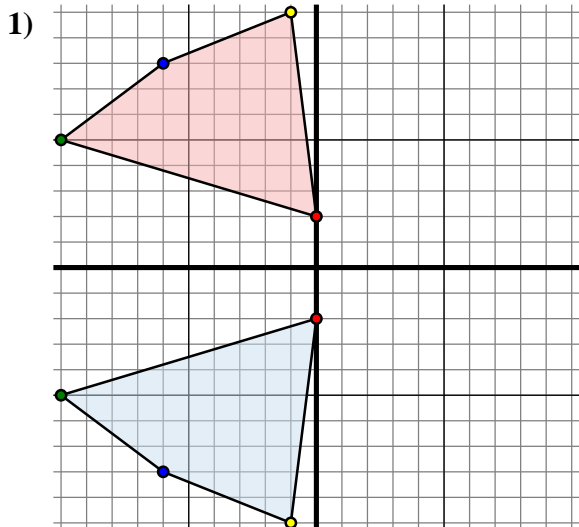
4B. _____

4C. _____

4G. Grafico



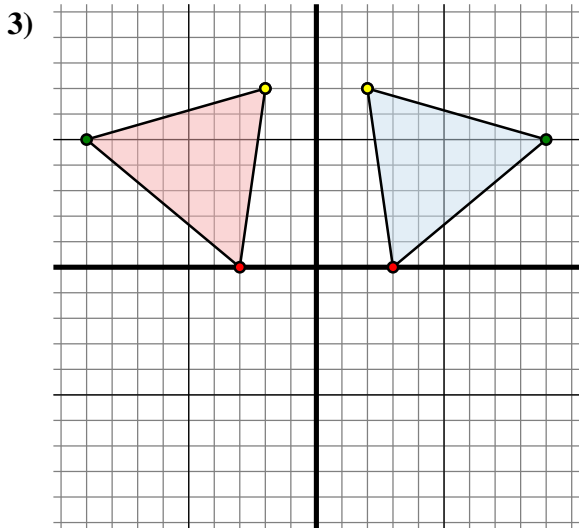
Specchia la forma come descritto



La figura qui sopra ha le seguenti coordinate:

- A. (0 ; -2)
- B. (-10 ; -5)
- C. (-6 ; -8)
- D. (-1 ; -10)

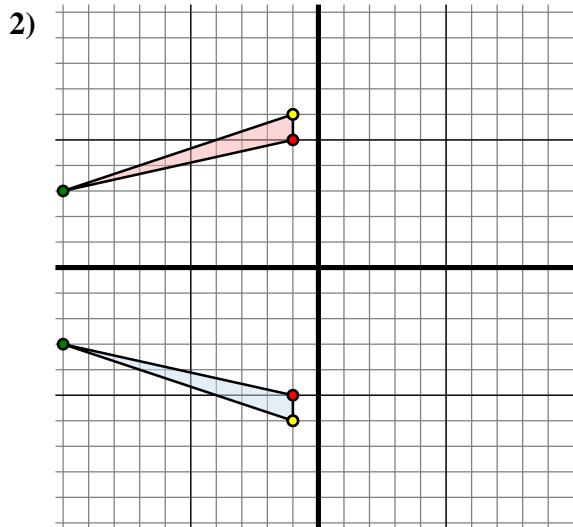
Specchia la figura rispetto all'asse x.



La figura qui sopra ha le seguenti coordinate:

- A. (3 ; 0)
- B. (9 ; 5)
- C. (2 ; 7)

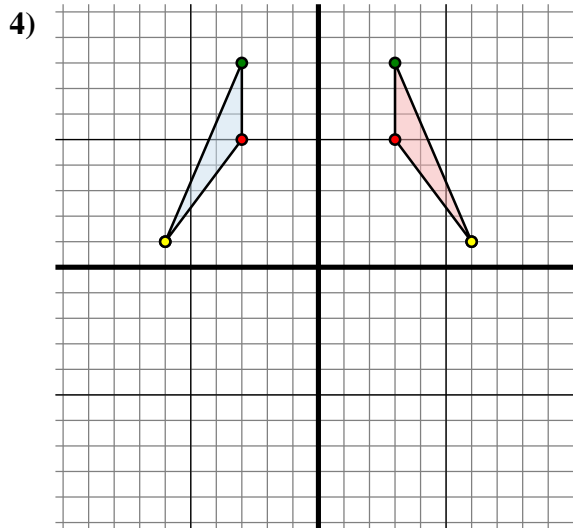
Specchia la figura rispetto all'asse y.



La figura qui sopra ha le seguenti coordinate:

- A. (-1 ; -5)
- B. (-10 ; -3)
- C. (-1 ; -6)

Specchia la figura rispetto all'asse x.



La figura qui sopra ha le seguenti coordinate:

- A. (-3 ; 5)
- B. (-3 ; 8)
- C. (-6 ; 1)

Specchia la figura rispetto all'asse y.

Risposte1A. **(0 ; 2)**1B. **(-10 ; 5)**1C. **(-6 ; 8)**1D. **(-1 ; 10)**1G. **Grafico**2A. **(-1 ; 5)**2B. **(-10 ; 3)**2C. **(-1 ; 6)**2G. **Grafico**3A. **(-3 ; 0)**3B. **(-9 ; 5)**3C. **(-2 ; 7)**3G. **Grafico**4A. **(3 ; 5)**4B. **(3 ; 8)**4C. **(6 ; 1)**4G. **Grafico**