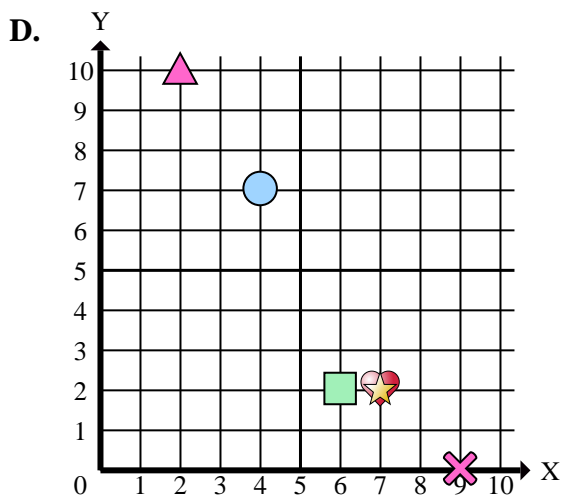
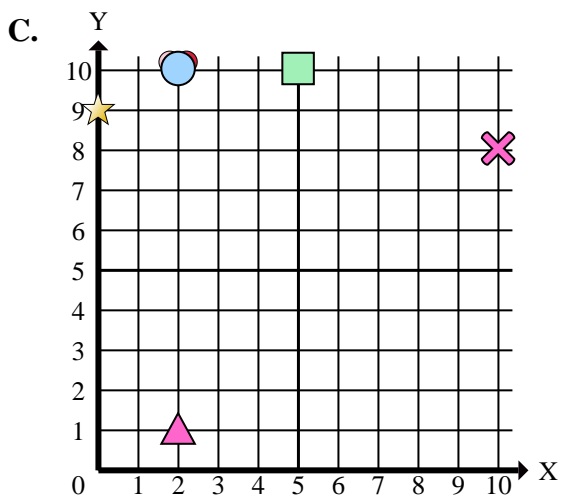
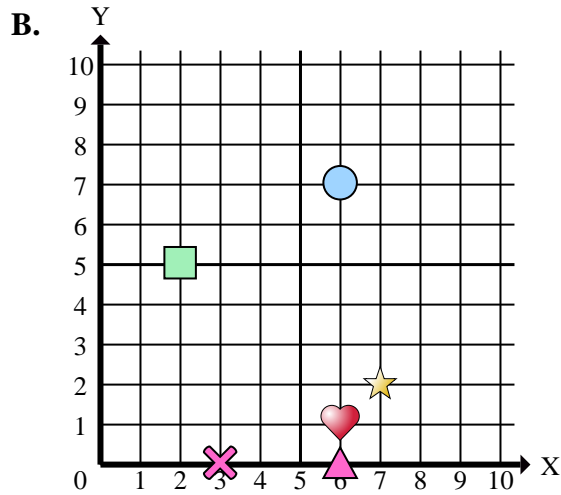
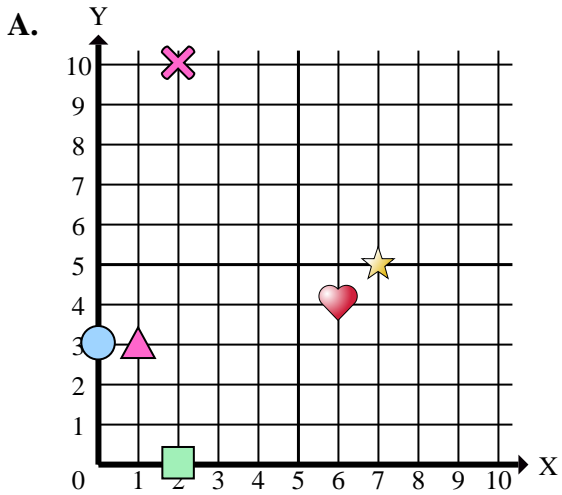




Indica a quale piano cartesiano appartengono le forme elencate nelle domande.



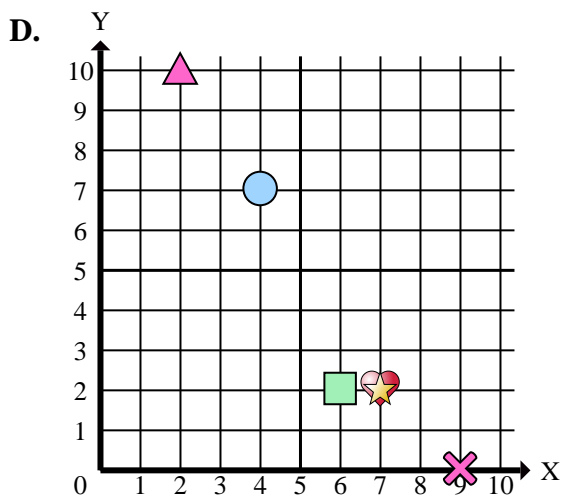
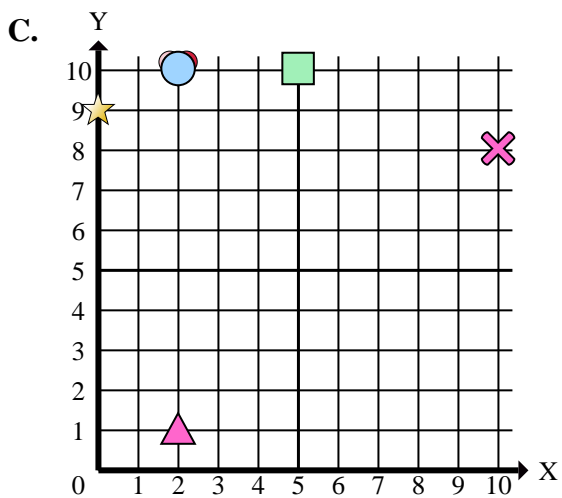
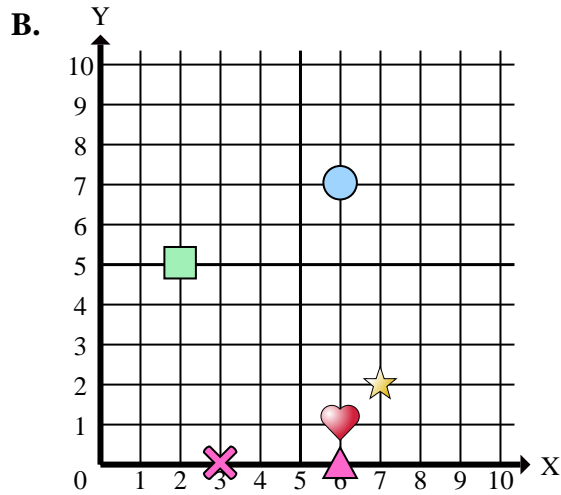
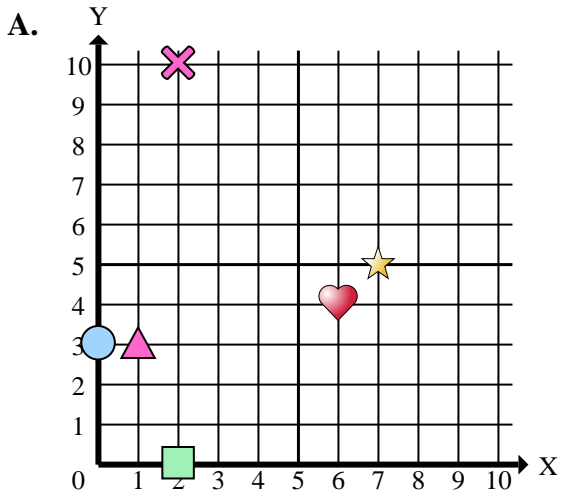
**Risposte**

1. \_\_\_\_\_
2. \_\_\_\_\_
3. \_\_\_\_\_
4. \_\_\_\_\_
5. \_\_\_\_\_
6. \_\_\_\_\_
7. \_\_\_\_\_
8. \_\_\_\_\_
9. \_\_\_\_\_
10. \_\_\_\_\_
11. \_\_\_\_\_
12. \_\_\_\_\_
13. \_\_\_\_\_
14. \_\_\_\_\_
15. \_\_\_\_\_

- 1) In quale piano cartesiano si trova la forma a (6 ; 0)?
- 2) In quale piano cartesiano si trova la forma a (2 ; 0)?
- 3) In quale piano cartesiano si trova la forma a (6 ; 1)?
- 4) In quale piano cartesiano si trova la forma a (7 ; 5)?
- 5) In quale piano cartesiano si trova la forma a (2 ; 1)?
- 6) In quale piano cartesiano si trova la forma a (5 ; 10)?
- 7) In quale piano cartesiano si trova la forma a (6 ; 4)?
- 8) In quale piano cartesiano si trova la forma a (2 ; 10)?
- 9) In quale piano cartesiano si trova la forma a (2 ; 10)?
- 10) In quale piano cartesiano si trova la forma a (7 ; 2)?
- 11) In quale piano cartesiano si trova la forma a (4 ; 7)?
- 12) In quale piano cartesiano si trova la forma a (2 ; 10)?
- 13) In quale piano cartesiano si trova la forma a (2 ; 5)?
- 14) In quale piano cartesiano si trova la forma a (2 ; 10)?
- 15) In quale piano cartesiano si trova la forma a (9 ; 0)?



Indica a quale piano cartesiano appartengono le forme elencate nelle domande.



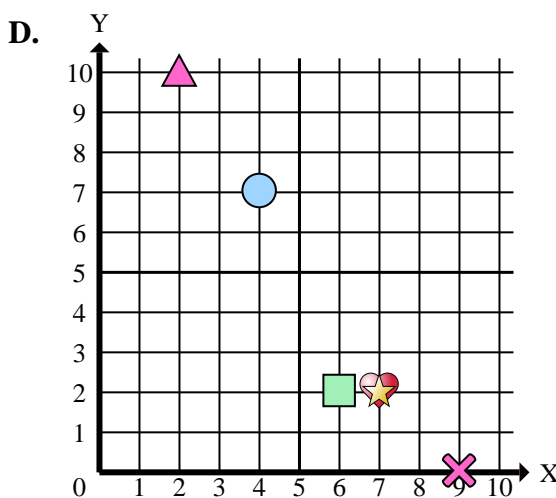
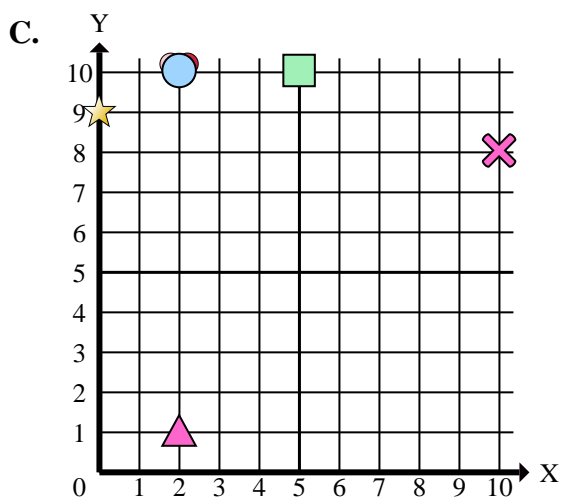
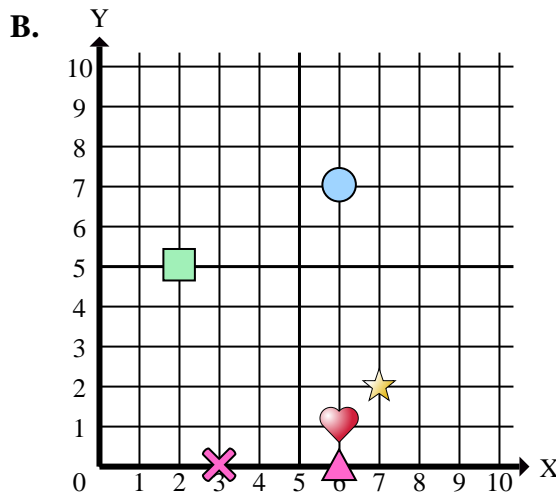
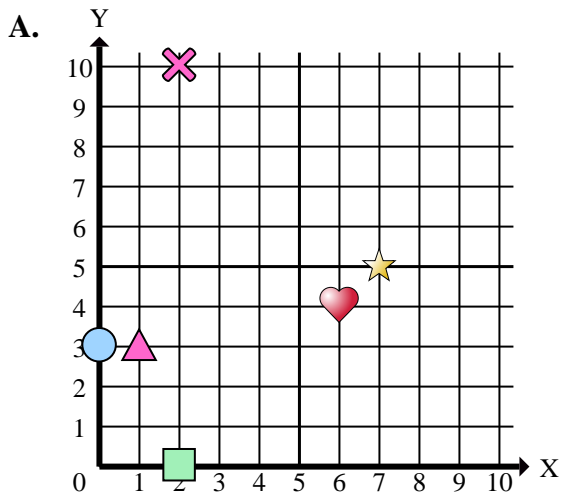
Risposte

1.     **B**
2.     **A**
3.     **B**
4.     **A**
5.     **C**
6.     **C**
7.     **A**
8.     **D**
9.     **A**
10.     **D**
11.     **D**
12.     **C**
13.     **B**
14.     **C**
15.     **D**

- 1) In quale piano cartesiano si trova la forma a (6 ; 0)?
- 2) In quale piano cartesiano si trova la forma a (2 ; 0)?
- 3) In quale piano cartesiano si trova la forma a (6 ; 1)?
- 4) In quale piano cartesiano si trova la forma a (7 ; 5)?
- 5) In quale piano cartesiano si trova la forma a (2 ; 1)?
- 6) In quale piano cartesiano si trova la forma a (5 ; 10)?
- 7) In quale piano cartesiano si trova la forma a (6 ; 4)?
- 8) In quale piano cartesiano si trova la forma a (2 ; 10)?
- 9) In quale piano cartesiano si trova la forma a (2 ; 10)?
- 10) In quale piano cartesiano si trova la forma a (7 ; 2)?
- 11) In quale piano cartesiano si trova la forma a (4 ; 7)?
- 12) In quale piano cartesiano si trova la forma a (2 ; 10)?
- 13) In quale piano cartesiano si trova la forma a (2 ; 5)?
- 14) In quale piano cartesiano si trova la forma a (2 ; 10)?
- 15) In quale piano cartesiano si trova la forma a (9 ; 0)?



Indica a quale piano cartesiano appartengono le forme elencate nelle domande.



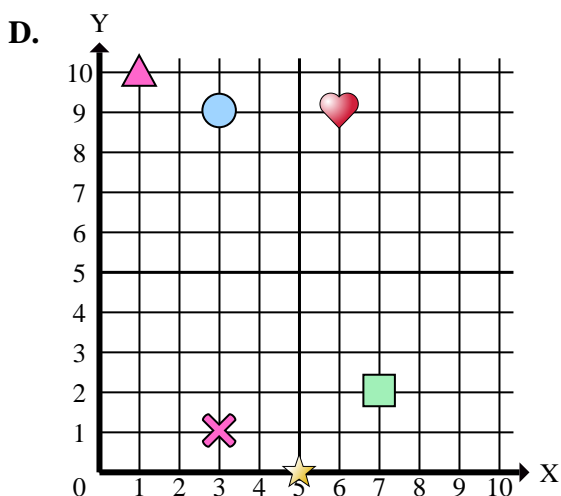
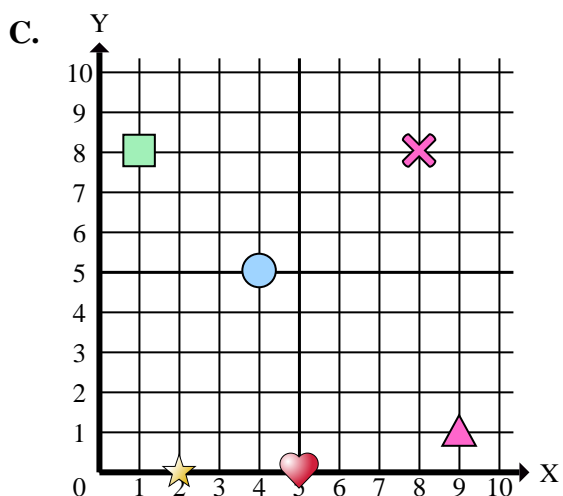
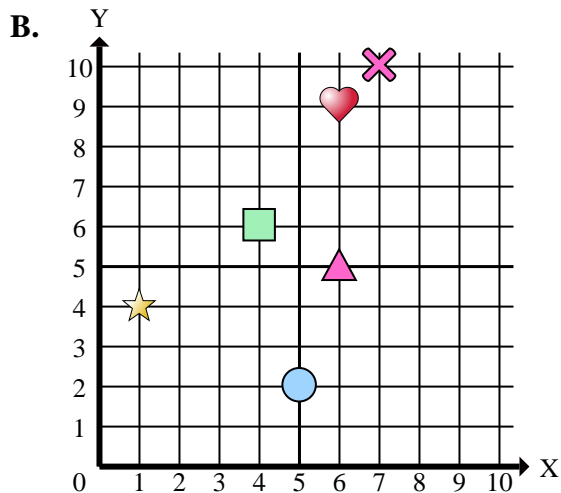
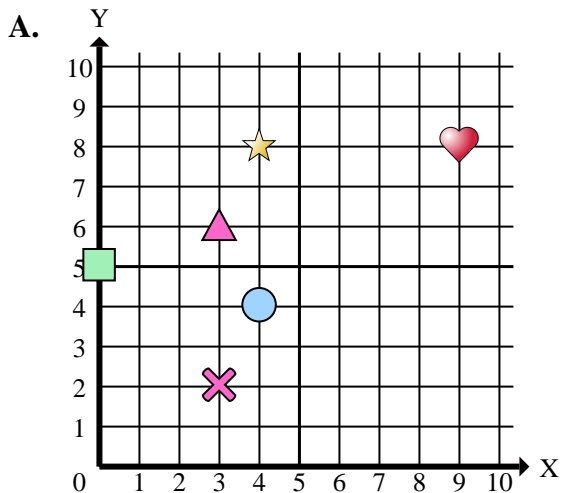
**Risposte**

1. \_\_\_\_\_
2. \_\_\_\_\_
3. \_\_\_\_\_
4. \_\_\_\_\_
5. \_\_\_\_\_
6. \_\_\_\_\_
7. \_\_\_\_\_
8. \_\_\_\_\_
9. \_\_\_\_\_
10. \_\_\_\_\_

- 1) Quali coordinate piane ha la triangle a (6 ; 0)?
- 2) Quali coordinate piane ha la rectangle a (2 ; 0)?
- 3) Quali coordinate piane ha la heart a (6 ; 1)?
- 4) Quali coordinate piane ha la star a (7 ; 5)?
- 5) Quali coordinate piane ha la triangle a (2 ; 1)?
- 6) Quali coordinate piane ha la rectangle a (5 ; 10)?
- 7) Quali coordinate piane ha la heart a (6 ; 4)?
- 8) Quali coordinate piane ha la triangle a (2 ; 10)?
- 9) Quali coordinate piane ha la cross a (2 ; 10)?
- 10) Quali coordinate piane ha la heart a (7 ; 2)?



Indica a quale piano cartesiano appartengono le forme elencate nelle domande.



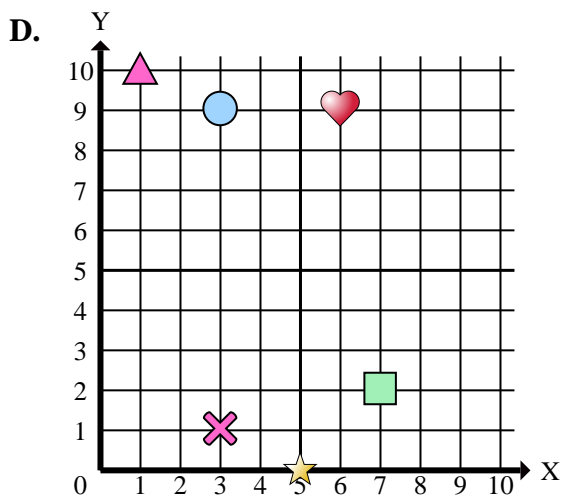
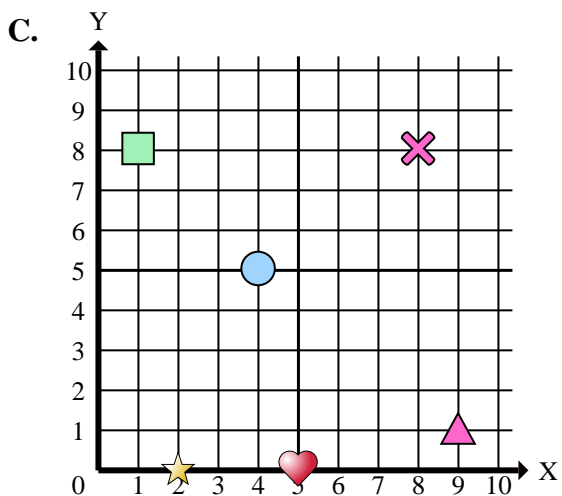
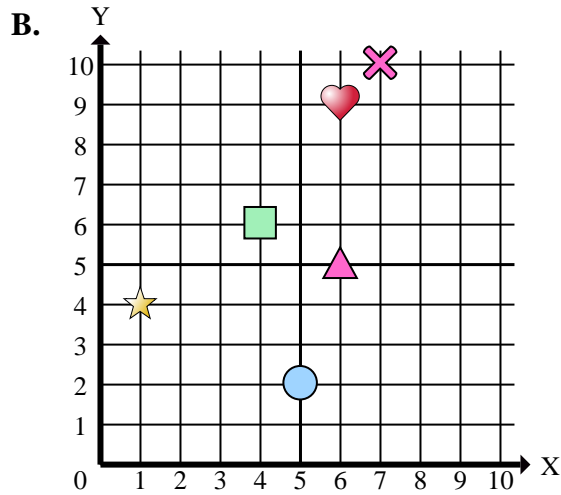
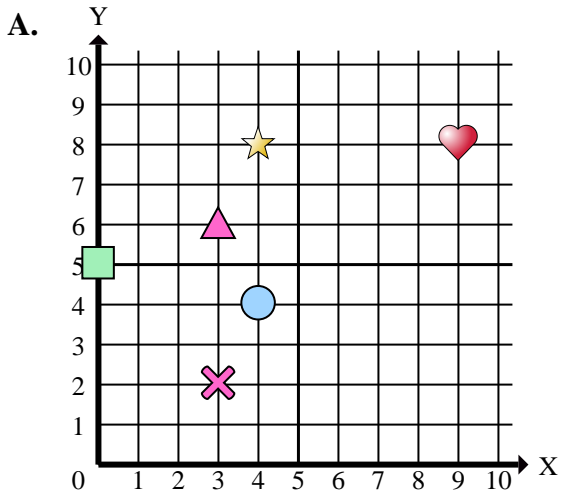
**Risposte**

1. \_\_\_\_\_
2. \_\_\_\_\_
3. \_\_\_\_\_
4. \_\_\_\_\_
5. \_\_\_\_\_
6. \_\_\_\_\_
7. \_\_\_\_\_
8. \_\_\_\_\_
9. \_\_\_\_\_
10. \_\_\_\_\_
11. \_\_\_\_\_
12. \_\_\_\_\_
13. \_\_\_\_\_
14. \_\_\_\_\_
15. \_\_\_\_\_

- 1) In quale piano cartesiano si trova la forma a (3 ; 1)?
- 2) In quale piano cartesiano si trova la forma a (4 ; 6)?
- 3) In quale piano cartesiano si trova la forma a (1 ; 4)?
- 4) In quale piano cartesiano si trova la forma a (5 ; 2)?
- 5) In quale piano cartesiano si trova la forma a (4 ; 8)?
- 6) In quale piano cartesiano si trova la forma a (0 ; 5)?
- 7) In quale piano cartesiano si trova la forma a (1 ; 8)?
- 8) In quale piano cartesiano si trova la forma a (7 ; 10)?
- 9) In quale piano cartesiano si trova la forma a (5 ; 0)?
- 10) In quale piano cartesiano si trova la forma a (7 ; 2)?
- 11) In quale piano cartesiano si trova la forma a (6 ; 9)?
- 12) In quale piano cartesiano si trova la forma a (4 ; 5)?
- 13) In quale piano cartesiano si trova la forma a (3 ; 2)?
- 14) In quale piano cartesiano si trova la forma a (1 ; 10)?
- 15) In quale piano cartesiano si trova la forma a (9 ; 1)?



Indica a quale piano cartesiano appartengono le forme elencate nelle domande.



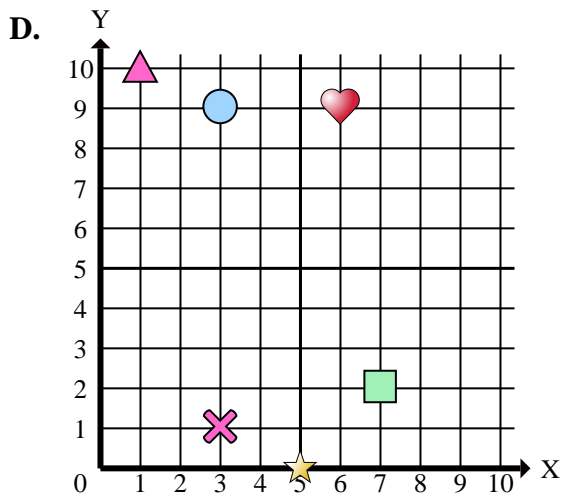
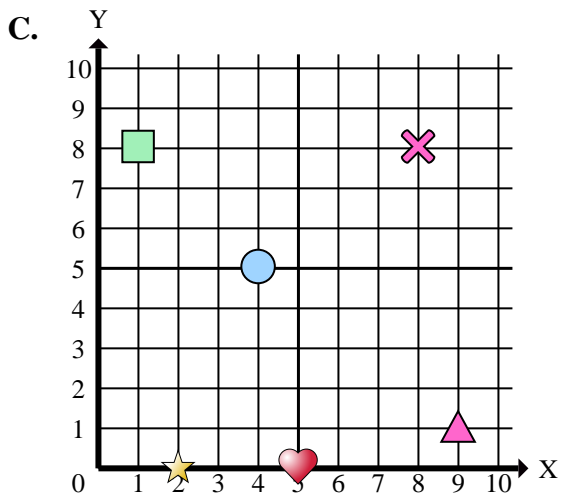
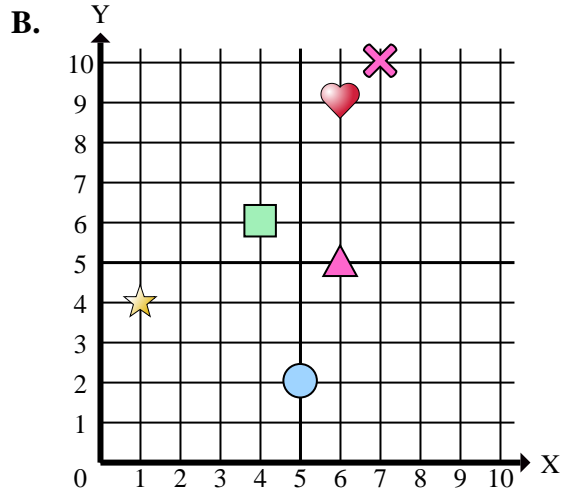
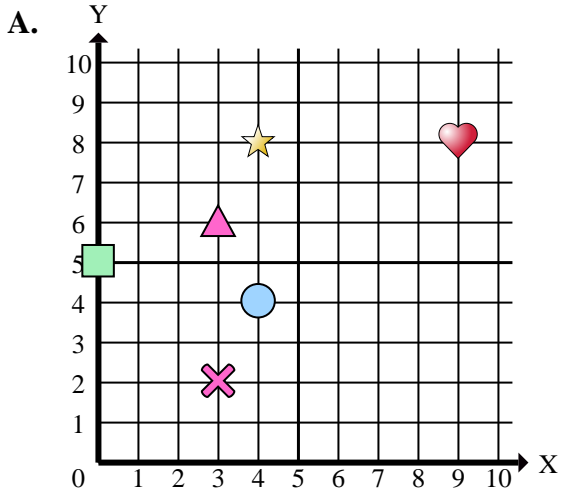
Risposte

1.     **D**
2.     **B**
3.     **B**
4.     **B**
5.     **A**
6.     **A**
7.     **C**
8.     **B**
9.     **D**
10.     **D**
11.     **B**
12.     **C**
13.     **A**
14.     **D**
15.     **C**

- 1) In quale piano cartesiano si trova la forma a (3 ; 1)?
- 2) In quale piano cartesiano si trova la forma a (4 ; 6)?
- 3) In quale piano cartesiano si trova la forma a (1 ; 4)?
- 4) In quale piano cartesiano si trova la forma a (5 ; 2)?
- 5) In quale piano cartesiano si trova la forma a (4 ; 8)?
- 6) In quale piano cartesiano si trova la forma a (0 ; 5)?
- 7) In quale piano cartesiano si trova la forma a (1 ; 8)?
- 8) In quale piano cartesiano si trova la forma a (7 ; 10)?
- 9) In quale piano cartesiano si trova la forma a (5 ; 0)?
- 10) In quale piano cartesiano si trova la forma a (7 ; 2)?
- 11) In quale piano cartesiano si trova la forma a (6 ; 9)?
- 12) In quale piano cartesiano si trova la forma a (4 ; 5)?
- 13) In quale piano cartesiano si trova la forma a (3 ; 2)?
- 14) In quale piano cartesiano si trova la forma a (1 ; 10)?
- 15) In quale piano cartesiano si trova la forma a (9 ; 1)?



Indica a quale piano cartesiano appartengono le forme elencate nelle domande.



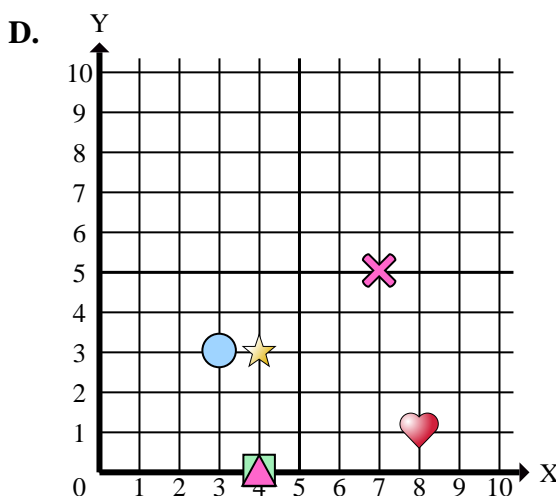
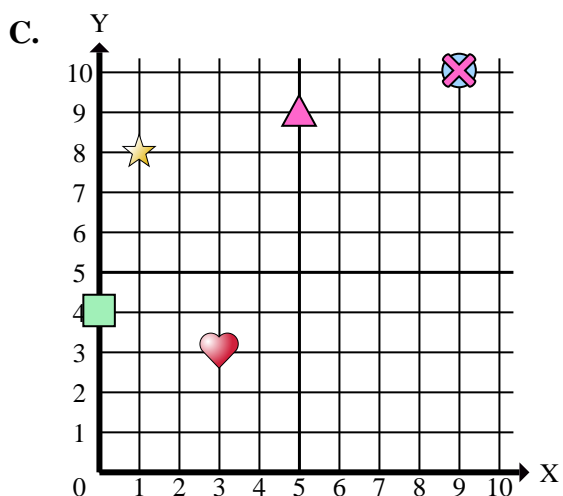
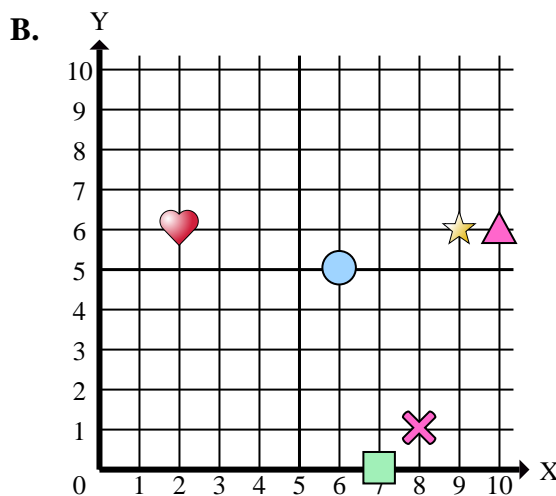
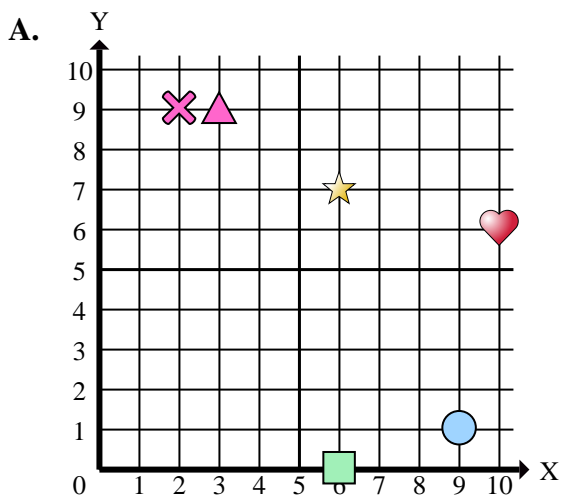
Risposte

1. \_\_\_\_\_
2. \_\_\_\_\_
3. \_\_\_\_\_
4. \_\_\_\_\_
5. \_\_\_\_\_
6. \_\_\_\_\_
7. \_\_\_\_\_
8. \_\_\_\_\_
9. \_\_\_\_\_
10. \_\_\_\_\_

- 1) Quali coordinate piane ha la cross a (3 ; 1)?
- 2) Quali coordinate piane ha la rectangle a (4 ; 6)?
- 3) Quali coordinate piane ha la star a (1 ; 4)?
- 4) Quali coordinate piane ha la circle a (5 ; 2)?
- 5) Quali coordinate piane ha la star a (4 ; 8)?
- 6) Quali coordinate piane ha la rectangle a (0 ; 5)?
- 7) Quali coordinate piane ha la rectangle a (1 ; 8)?
- 8) Quali coordinate piane ha la cross a (7 ; 10)?
- 9) Quali coordinate piane ha la star a (5 ; 0)?
- 10) Quali coordinate piane ha la rectangle a (7 ; 2)?



Indica a quale piano cartesiano appartengono le forme elencate nelle domande.



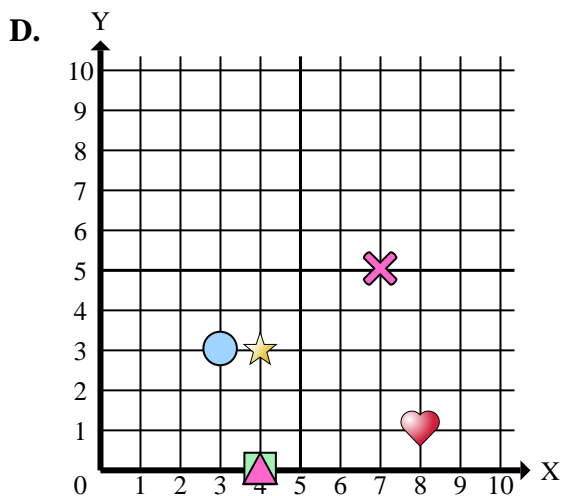
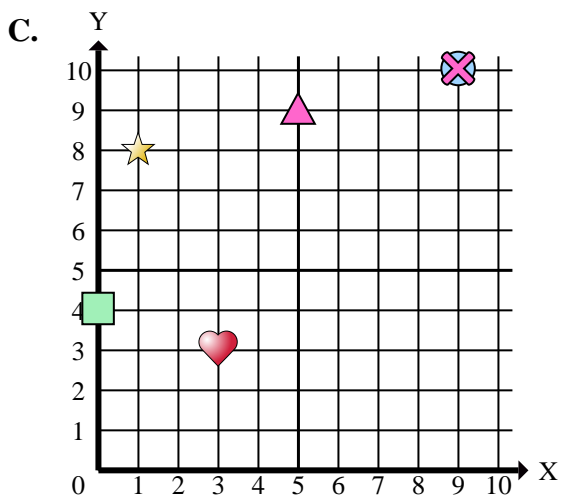
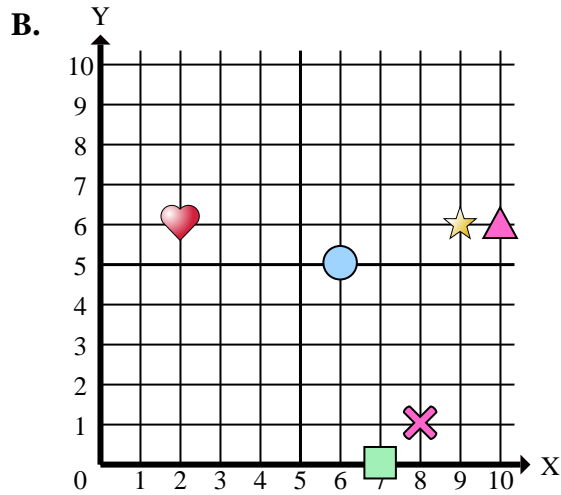
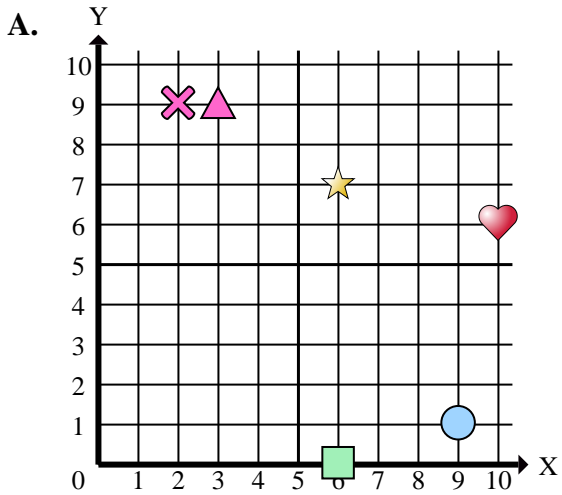
**Risposte**

1. \_\_\_\_\_
2. \_\_\_\_\_
3. \_\_\_\_\_
4. \_\_\_\_\_
5. \_\_\_\_\_
6. \_\_\_\_\_
7. \_\_\_\_\_
8. \_\_\_\_\_
9. \_\_\_\_\_
10. \_\_\_\_\_
11. \_\_\_\_\_
12. \_\_\_\_\_
13. \_\_\_\_\_
14. \_\_\_\_\_
15. \_\_\_\_\_

- 1) In quale piano cartesiano si trova la forma a (3 ; 3)?
- 2) In quale piano cartesiano si trova la forma a (5 ; 9)?
- 3) In quale piano cartesiano si trova la forma a (10 ; 6)?
- 4) In quale piano cartesiano si trova la forma a (10 ; 6)?
- 5) In quale piano cartesiano si trova la forma a (3 ; 9)?
- 6) In quale piano cartesiano si trova la forma a (6 ; 7)?
- 7) In quale piano cartesiano si trova la forma a (0 ; 4)?
- 8) In quale piano cartesiano si trova la forma a (9 ; 10)?
- 9) In quale piano cartesiano si trova la forma a (9 ; 6)?
- 10) In quale piano cartesiano si trova la forma a (1 ; 8)?
- 11) In quale piano cartesiano si trova la forma a (7 ; 0)?
- 12) In quale piano cartesiano si trova la forma a (2 ; 6)?
- 13) In quale piano cartesiano si trova la forma a (9 ; 1)?
- 14) In quale piano cartesiano si trova la forma a (3 ; 3)?
- 15) In quale piano cartesiano si trova la forma a (8 ; 1)?



Indica a quale piano cartesiano appartengono le forme elencate nelle domande.



Risposte

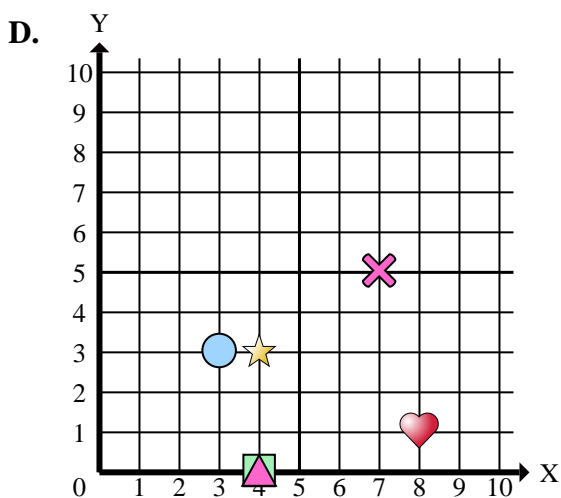
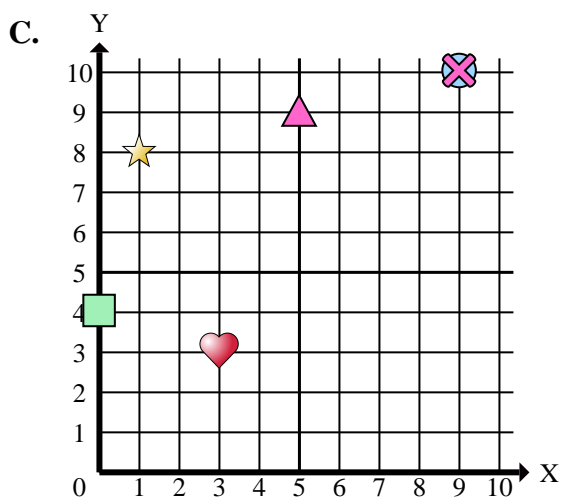
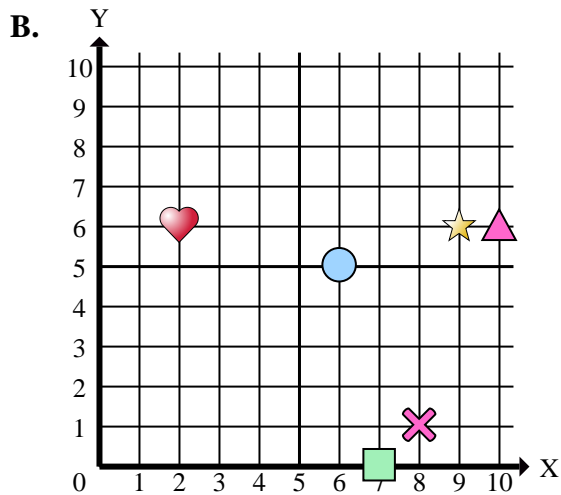
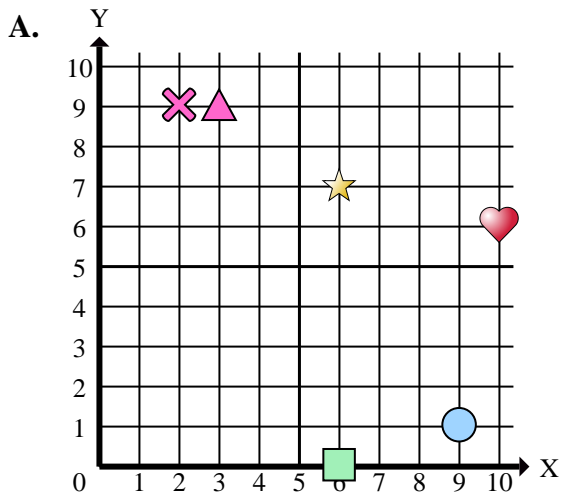
1.           **C**
2.           **C**
3.           **B**
4.           **A**
5.           **A**
6.           **A**
7.           **C**
8.           **C**
9.           **B**
10.          **C**
11.          **B**
12.          **B**
13.          **A**
14.          **D**
15.          **D**

- 1) In quale piano cartesiano si trova la forma a (3 ; 3)?
- 2) In quale piano cartesiano si trova la forma a (5 ; 9)?
- 3) In quale piano cartesiano si trova la forma a (10 ; 6)?
- 4) In quale piano cartesiano si trova la forma a (10 ; 6)?
- 5) In quale piano cartesiano si trova la forma a (3 ; 9)?
- 6) In quale piano cartesiano si trova la forma a (6 ; 7)?
- 7) In quale piano cartesiano si trova la forma a (0 ; 4)?
- 8) In quale piano cartesiano si trova la forma a (9 ; 10)?
- 9) In quale piano cartesiano si trova la forma a (9 ; 6)?
- 10) In quale piano cartesiano si trova la forma a (1 ; 8)?
- 11) In quale piano cartesiano si trova la forma a (7 ; 0)?
- 12) In quale piano cartesiano si trova la forma a (2 ; 6)?
- 13) In quale piano cartesiano si trova la forma a (9 ; 1)?
- 14) In quale piano cartesiano si trova la forma a (3 ; 3)?
- 15) In quale piano cartesiano si trova la forma a (8 ; 1)?





Indica a quale piano cartesiano appartengono le forme elencate nelle domande.



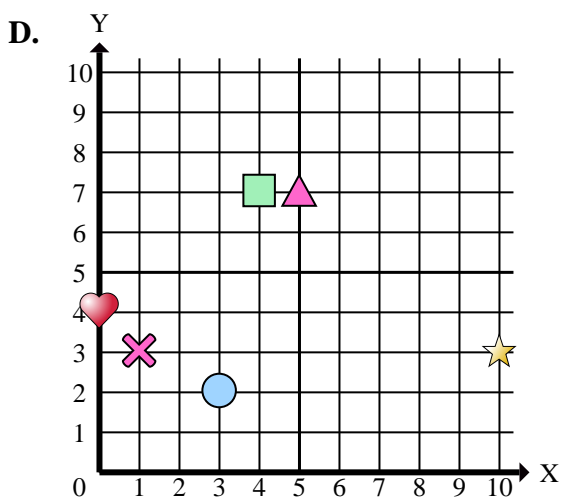
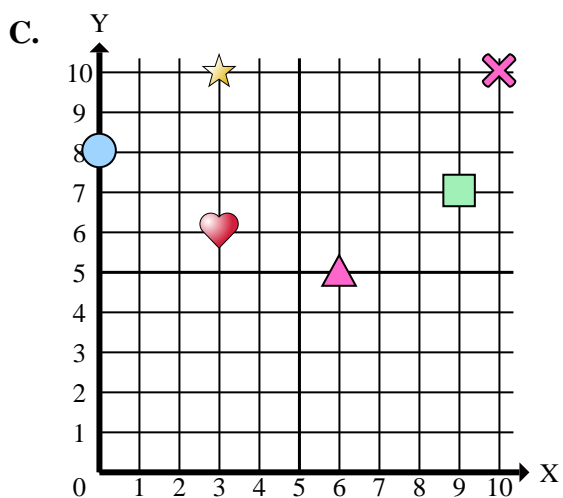
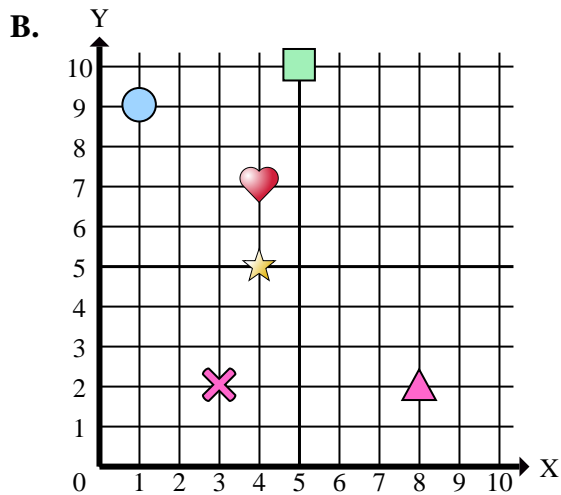
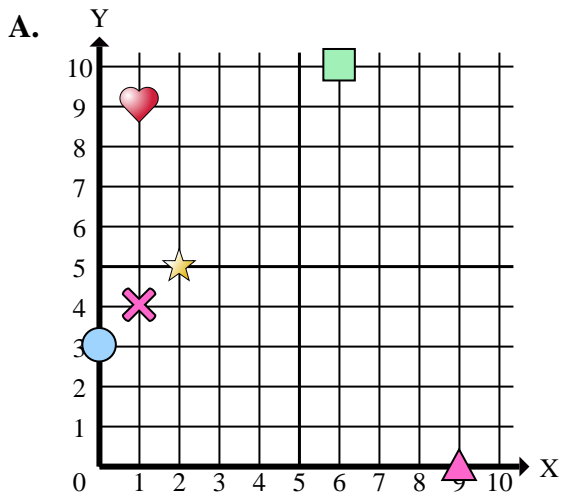
Risposte

1. \_\_\_\_\_
2. \_\_\_\_\_
3. \_\_\_\_\_
4. \_\_\_\_\_
5. \_\_\_\_\_
6. \_\_\_\_\_
7. \_\_\_\_\_
8. \_\_\_\_\_
9. \_\_\_\_\_
10. \_\_\_\_\_

- 1) Quali coordinate piane ha la heart a (3 ; 3)?
- 2) Quali coordinate piane ha la triangle a (5 ; 9)?
- 3) Quali coordinate piane ha la triangle a (10 ; 6)?
- 4) Quali coordinate piane ha la heart a (10 ; 6)?
- 5) Quali coordinate piane ha la triangle a (3 ; 9)?
- 6) Quali coordinate piane ha la star a (6 ; 7)?
- 7) Quali coordinate piane ha la rectangle a (0 ; 4)?
- 8) Quali coordinate piane ha la circle a (9 ; 10)?
- 9) Quali coordinate piane ha la star a (9 ; 6)?
- 10) Quali coordinate piane ha la star a (1 ; 8)?



Indica a quale piano cartesiano appartengono le forme elencate nelle domande.



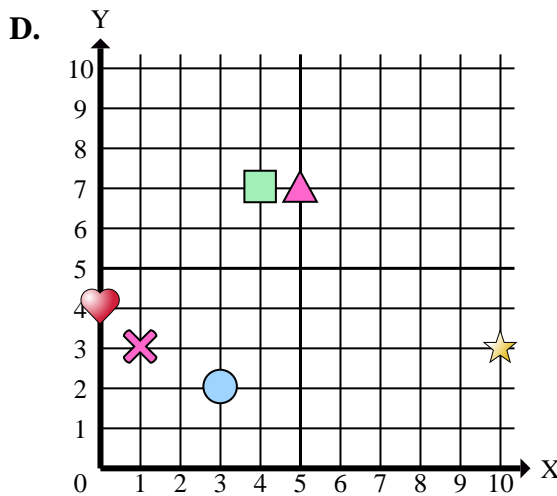
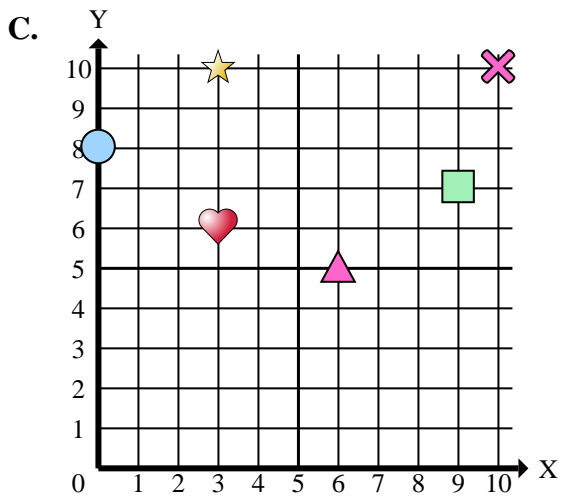
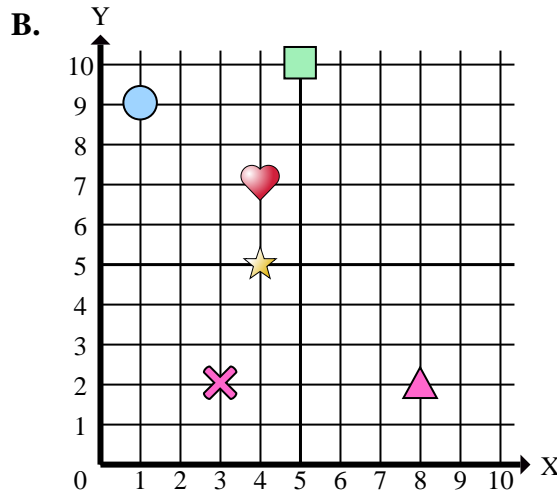
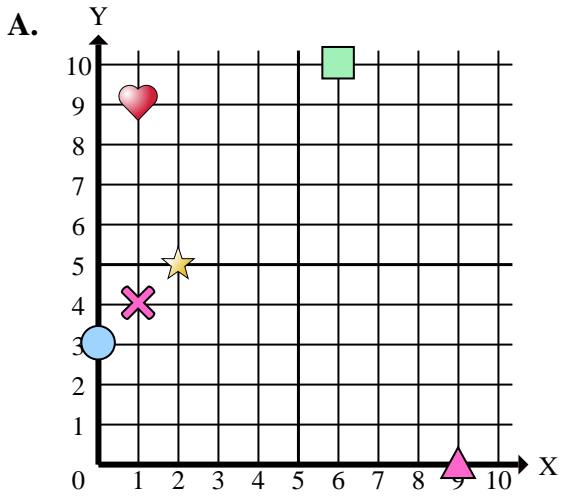
**Risposte**

1. \_\_\_\_\_
2. \_\_\_\_\_
3. \_\_\_\_\_
4. \_\_\_\_\_
5. \_\_\_\_\_
6. \_\_\_\_\_
7. \_\_\_\_\_
8. \_\_\_\_\_
9. \_\_\_\_\_
10. \_\_\_\_\_
11. \_\_\_\_\_
12. \_\_\_\_\_
13. \_\_\_\_\_
14. \_\_\_\_\_
15. \_\_\_\_\_

- 1) In quale piano cartesiano si trova la forma a (2 ; 5)?
- 2) In quale piano cartesiano si trova la forma a (9 ; 0)?
- 3) In quale piano cartesiano si trova la forma a (3 ; 2)?
- 4) In quale piano cartesiano si trova la forma a (4 ; 5)?
- 5) In quale piano cartesiano si trova la forma a (3 ; 2)?
- 6) In quale piano cartesiano si trova la forma a (0 ; 4)?
- 7) In quale piano cartesiano si trova la forma a (9 ; 7)?
- 8) In quale piano cartesiano si trova la forma a (5 ; 10)?
- 9) In quale piano cartesiano si trova la forma a (6 ; 5)?
- 10) In quale piano cartesiano si trova la forma a (4 ; 7)?
- 11) In quale piano cartesiano si trova la forma a (0 ; 8)?
- 12) In quale piano cartesiano si trova la forma a (3 ; 10)?
- 13) In quale piano cartesiano si trova la forma a (1 ; 9)?
- 14) In quale piano cartesiano si trova la forma a (10 ; 3)?
- 15) In quale piano cartesiano si trova la forma a (3 ; 6)?



Indica a quale piano cartesiano appartengono le forme elencate nelle domande.



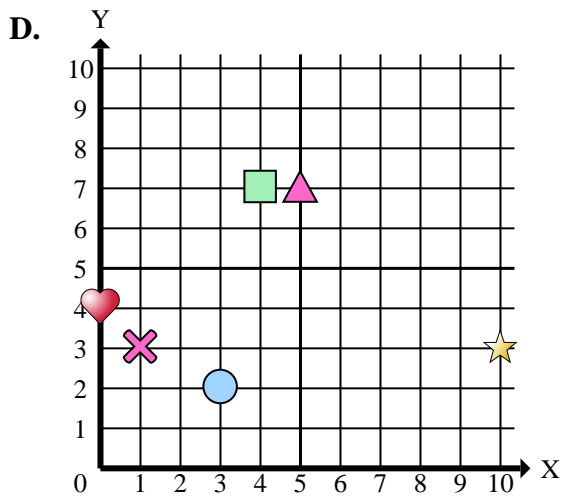
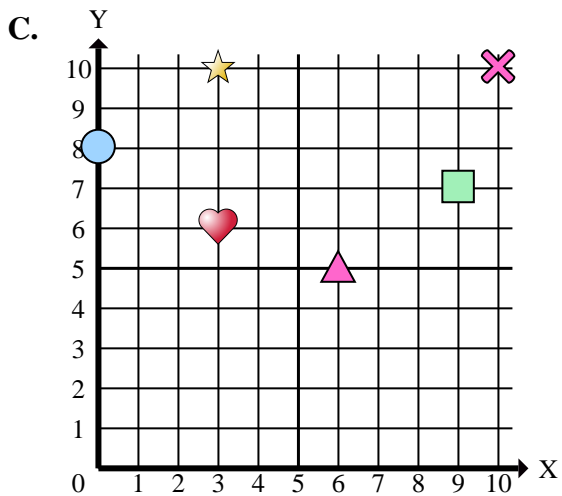
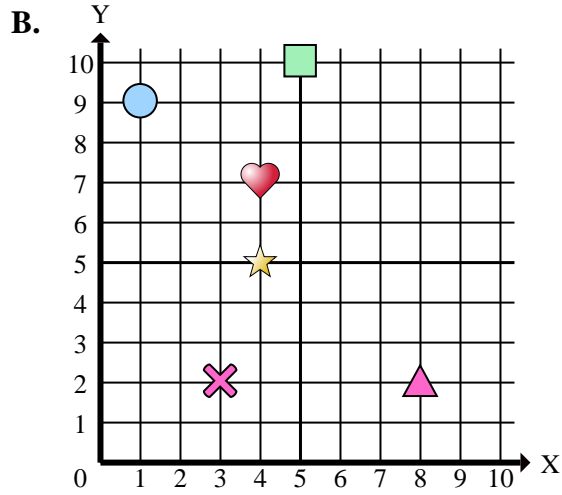
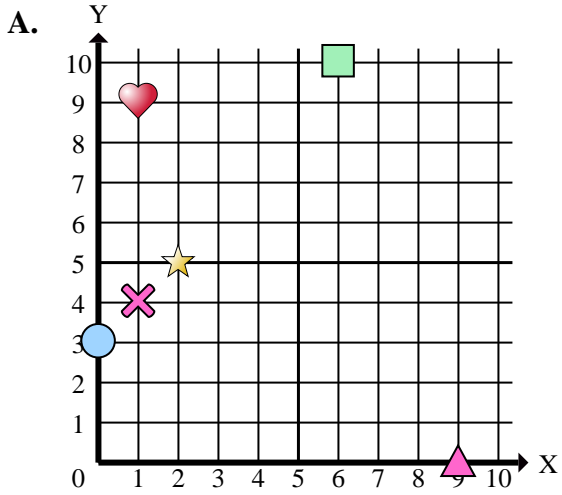
Risposte

1.     **A**
2.     **A**
3.     **D**
4.     **B**
5.     **B**
6.     **D**
7.     **C**
8.     **B**
9.     **C**
10.     **D**
11.     **C**
12.     **C**
13.     **B**
14.     **D**
15.     **C**

- 1) In quale piano cartesiano si trova la forma a (2 ; 5)?
- 2) In quale piano cartesiano si trova la forma a (9 ; 0)?
- 3) In quale piano cartesiano si trova la forma a (3 ; 2)?
- 4) In quale piano cartesiano si trova la forma a (4 ; 5)?
- 5) In quale piano cartesiano si trova la forma a (3 ; 2)?
- 6) In quale piano cartesiano si trova la forma a (0 ; 4)?
- 7) In quale piano cartesiano si trova la forma a (9 ; 7)?
- 8) In quale piano cartesiano si trova la forma a (5 ; 10)?
- 9) In quale piano cartesiano si trova la forma a (6 ; 5)?
- 10) In quale piano cartesiano si trova la forma a (4 ; 7)?
- 11) In quale piano cartesiano si trova la forma a (0 ; 8)?
- 12) In quale piano cartesiano si trova la forma a (3 ; 10)?
- 13) In quale piano cartesiano si trova la forma a (1 ; 9)?
- 14) In quale piano cartesiano si trova la forma a (10 ; 3)?
- 15) In quale piano cartesiano si trova la forma a (3 ; 6)?



Indica a quale piano cartesiano appartengono le forme elencate nelle domande.



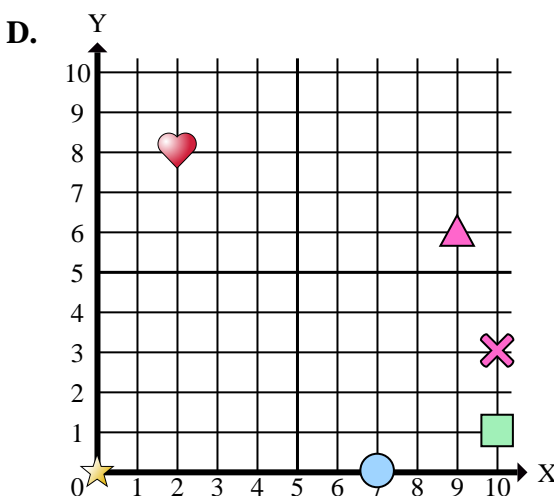
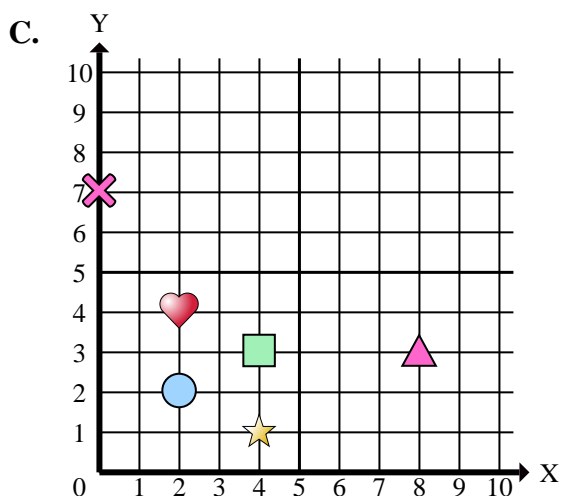
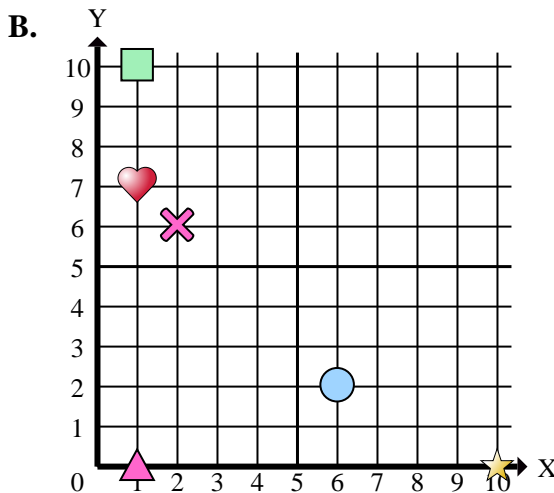
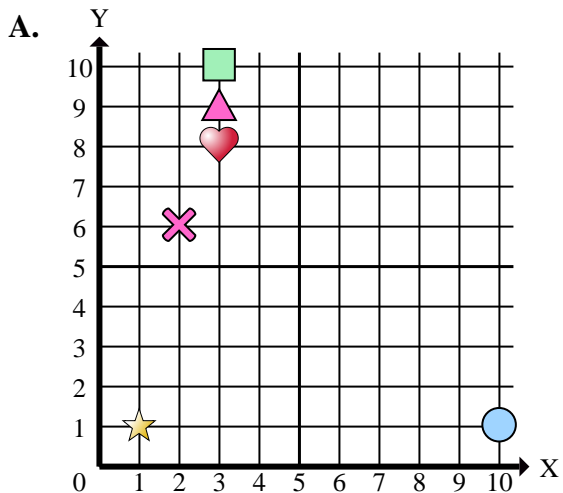
Risposte

1. \_\_\_\_\_
2. \_\_\_\_\_
3. \_\_\_\_\_
4. \_\_\_\_\_
5. \_\_\_\_\_
6. \_\_\_\_\_
7. \_\_\_\_\_
8. \_\_\_\_\_
9. \_\_\_\_\_
10. \_\_\_\_\_

- 1) Quali coordinate piane ha la star a (2 ; 5)?
- 2) Quali coordinate piane ha la triangle a (9 ; 0)?
- 3) Quali coordinate piane ha la circle a (3 ; 2)?
- 4) Quali coordinate piane ha la star a (4 ; 5)?
- 5) Quali coordinate piane ha la cross a (3 ; 2)?
- 6) Quali coordinate piane ha la heart a (0 ; 4)?
- 7) Quali coordinate piane ha la rectangle a (9 ; 7)?
- 8) Quali coordinate piane ha la rectangle a (5 ; 10)?
- 9) Quali coordinate piane ha la triangle a (6 ; 5)?
- 10) Quali coordinate piane ha la rectangle a (4 ; 7)?



Indica a quale piano cartesiano appartengono le forme elencate nelle domande.



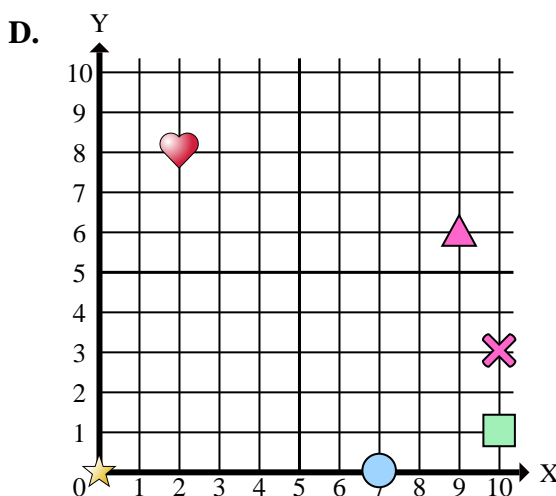
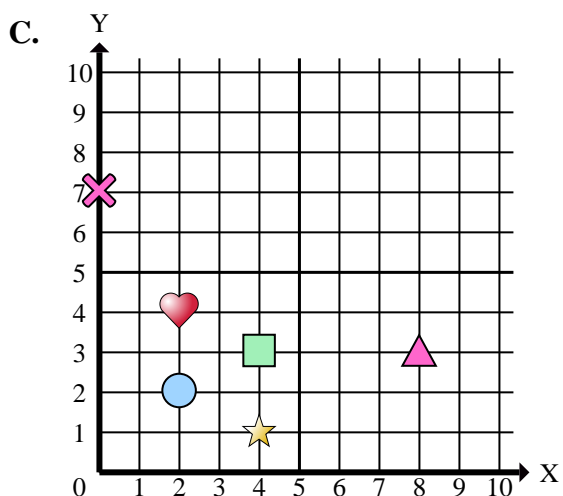
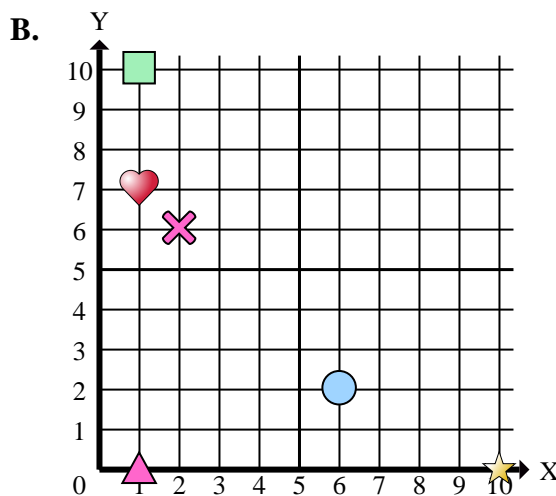
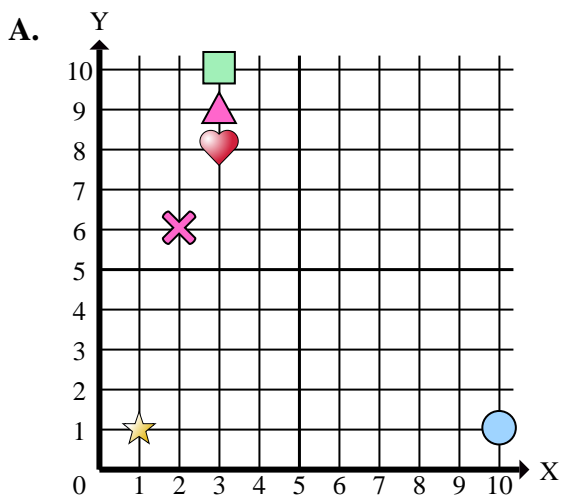
Risposte

1. \_\_\_\_\_
2. \_\_\_\_\_
3. \_\_\_\_\_
4. \_\_\_\_\_
5. \_\_\_\_\_
6. \_\_\_\_\_
7. \_\_\_\_\_
8. \_\_\_\_\_
9. \_\_\_\_\_
10. \_\_\_\_\_
11. \_\_\_\_\_
12. \_\_\_\_\_
13. \_\_\_\_\_
14. \_\_\_\_\_
15. \_\_\_\_\_

- 1) In quale piano cartesiano si trova la forma a (1 ; 1)?
- 2) In quale piano cartesiano si trova la forma a (10 ; 1)?
- 3) In quale piano cartesiano si trova la forma a (1 ; 10)?
- 4) In quale piano cartesiano si trova la forma a (4 ; 1)?
- 5) In quale piano cartesiano si trova la forma a (2 ; 4)?
- 6) In quale piano cartesiano si trova la forma a (9 ; 6)?
- 7) In quale piano cartesiano si trova la forma a (2 ; 6)?
- 8) In quale piano cartesiano si trova la forma a (10 ; 3)?
- 9) In quale piano cartesiano si trova la forma a (1 ; 7)?
- 10) In quale piano cartesiano si trova la forma a (2 ; 8)?
- 11) In quale piano cartesiano si trova la forma a (3 ; 9)?
- 12) In quale piano cartesiano si trova la forma a (2 ; 2)?
- 13) In quale piano cartesiano si trova la forma a (4 ; 3)?
- 14) In quale piano cartesiano si trova la forma a (3 ; 8)?
- 15) In quale piano cartesiano si trova la forma a (0 ; 0)?



Indica a quale piano cartesiano appartengono le forme elencate nelle domande.



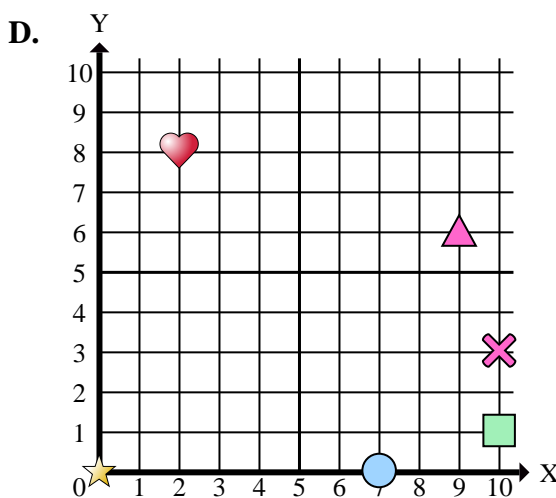
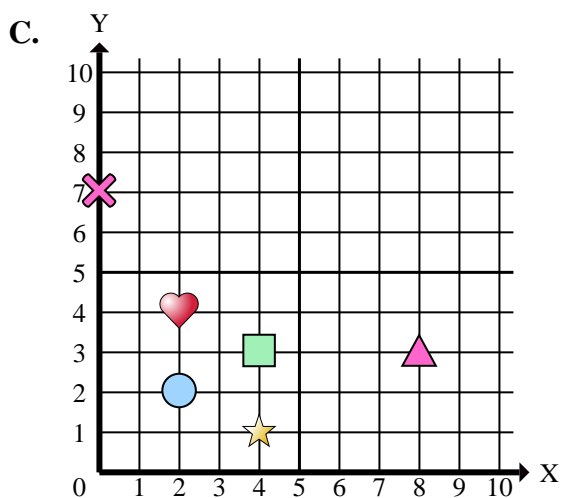
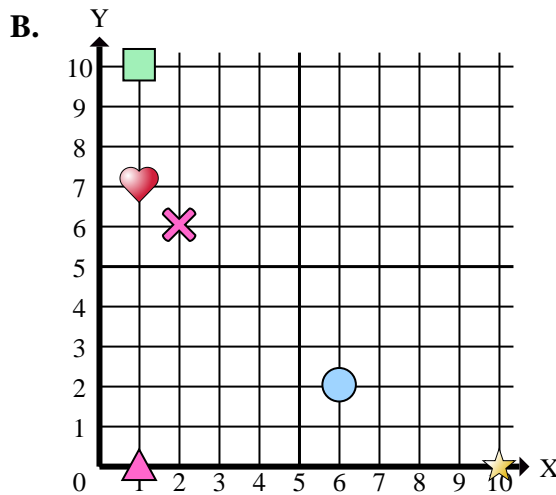
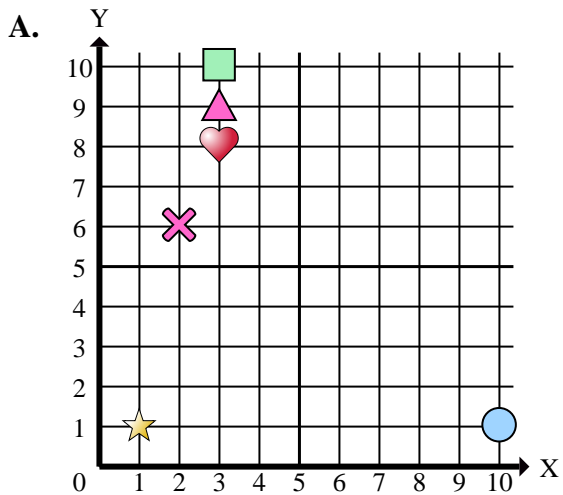
- 1) In quale piano cartesiano si trova la forma a (1 ; 1)?
- 2) In quale piano cartesiano si trova la forma a (10 ; 1)?
- 3) In quale piano cartesiano si trova la forma a (1 ; 10)?
- 4) In quale piano cartesiano si trova la forma a (4 ; 1)?
- 5) In quale piano cartesiano si trova la forma a (2 ; 4)?
- 6) In quale piano cartesiano si trova la forma a (9 ; 6)?
- 7) In quale piano cartesiano si trova la forma a (2 ; 6)?
- 8) In quale piano cartesiano si trova la forma a (10 ; 3)?
- 9) In quale piano cartesiano si trova la forma a (1 ; 7)?
- 10) In quale piano cartesiano si trova la forma a (2 ; 8)?
- 11) In quale piano cartesiano si trova la forma a (3 ; 9)?
- 12) In quale piano cartesiano si trova la forma a (2 ; 2)?
- 13) In quale piano cartesiano si trova la forma a (4 ; 3)?
- 14) In quale piano cartesiano si trova la forma a (3 ; 8)?
- 15) In quale piano cartesiano si trova la forma a (0 ; 0)?

Risposte

1.     **A**
2.     **A**
3.     **B**
4.     **C**
5.     **C**
6.     **D**
7.     **A**
8.     **D**
9.     **B**
10.     **D**
11.     **A**
12.     **C**
13.     **C**
14.     **A**
15.     **D**



Indica a quale piano cartesiano appartengono le forme elencate nelle domande.



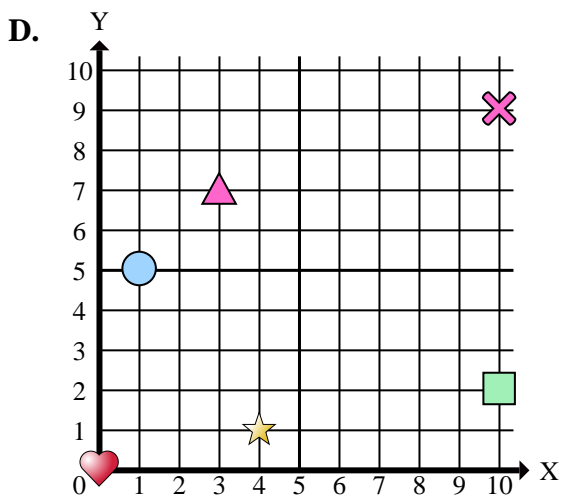
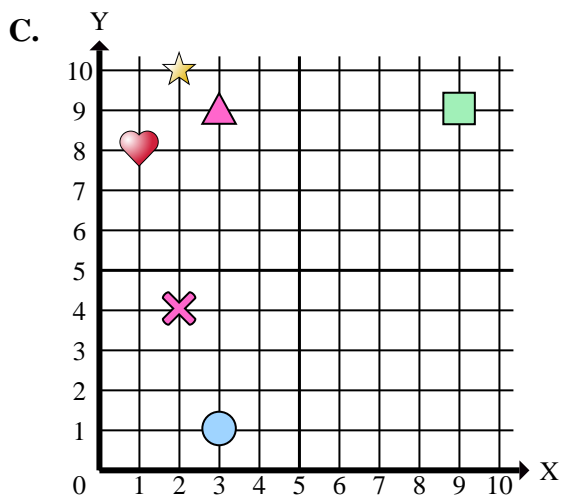
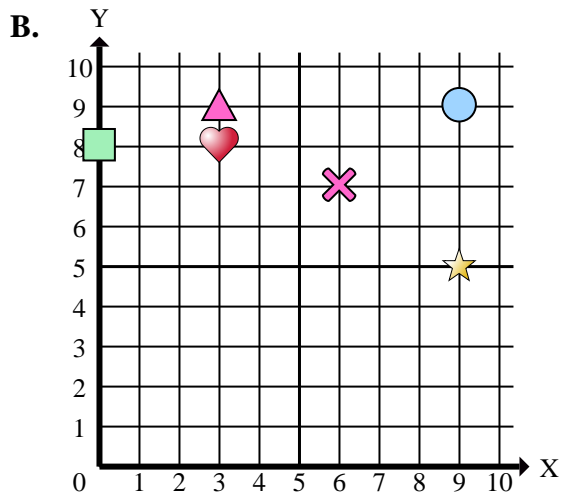
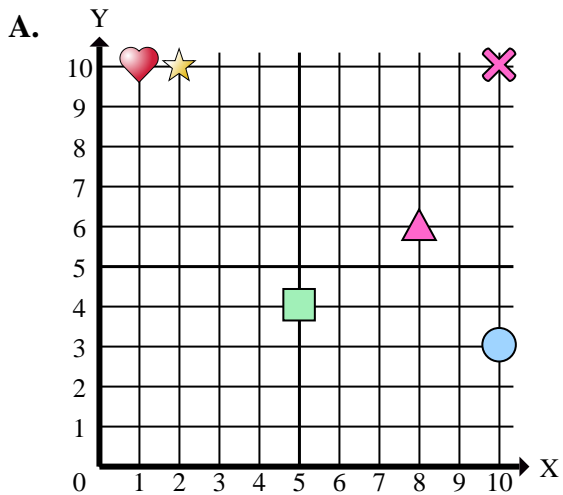
Risposte

1. \_\_\_\_\_
2. \_\_\_\_\_
3. \_\_\_\_\_
4. \_\_\_\_\_
5. \_\_\_\_\_
6. \_\_\_\_\_
7. \_\_\_\_\_
8. \_\_\_\_\_
9. \_\_\_\_\_
10. \_\_\_\_\_

- 1) Quali coordinate piane ha la star a (1 ; 1)?
- 2) Quali coordinate piane ha la circle a (10 ; 1)?
- 3) Quali coordinate piane ha la rectangle a (1 ; 10)?
- 4) Quali coordinate piane ha la star a (4 ; 1)?
- 5) Quali coordinate piane ha la heart a (2 ; 4)?
- 6) Quali coordinate piane ha la triangle a (9 ; 6)?
- 7) Quali coordinate piane ha la cross a (2 ; 6)?
- 8) Quali coordinate piane ha la cross a (10 ; 3)?
- 9) Quali coordinate piane ha la heart a (1 ; 7)?
- 10) Quali coordinate piane ha la heart a (2 ; 8)?



Indica a quale piano cartesiano appartengono le forme elencate nelle domande.



Risposte

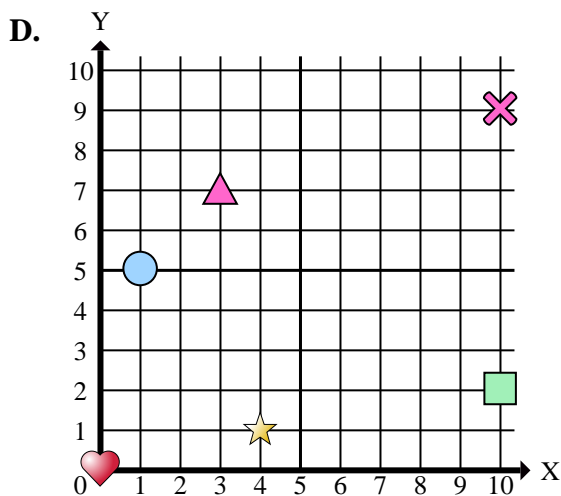
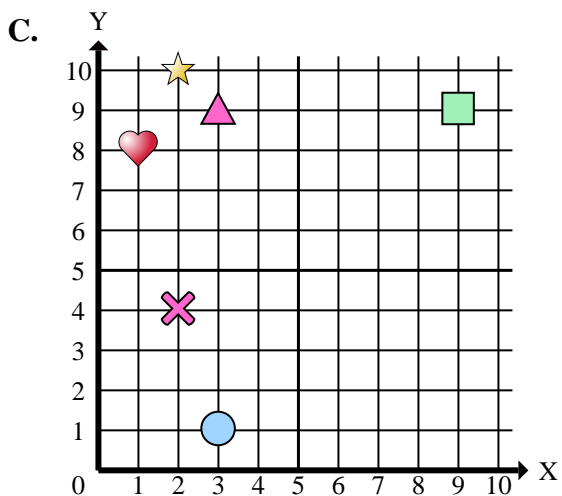
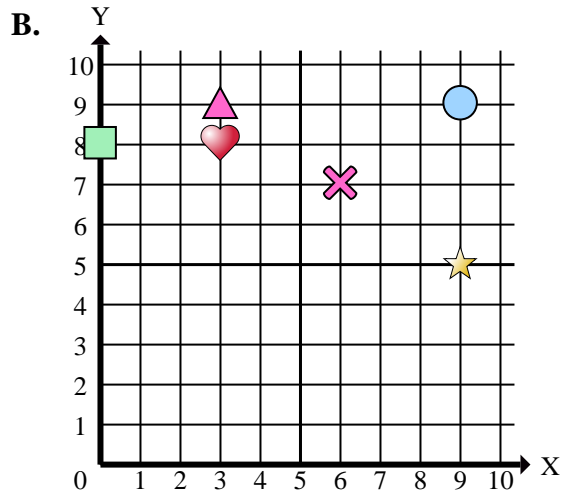
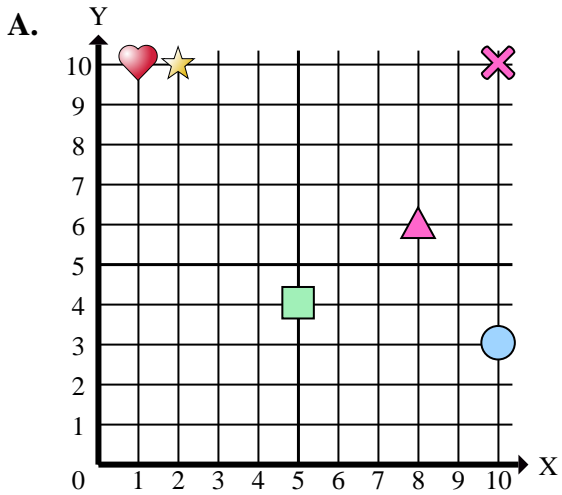
1. \_\_\_\_\_
2. \_\_\_\_\_
3. \_\_\_\_\_
4. \_\_\_\_\_
5. \_\_\_\_\_
6. \_\_\_\_\_
7. \_\_\_\_\_
8. \_\_\_\_\_
9. \_\_\_\_\_
10. \_\_\_\_\_
11. \_\_\_\_\_
12. \_\_\_\_\_
13. \_\_\_\_\_
14. \_\_\_\_\_
15. \_\_\_\_\_

- 1) In quale piano cartesiano si trova la forma a (4 ; 1)?
- 2) In quale piano cartesiano si trova la forma a (3 ; 9)?
- 3) In quale piano cartesiano si trova la forma a (9 ; 9)?
- 4) In quale piano cartesiano si trova la forma a (1 ; 5)?
- 5) In quale piano cartesiano si trova la forma a (2 ; 10)?
- 6) In quale piano cartesiano si trova la forma a (1 ; 10)?
- 7) In quale piano cartesiano si trova la forma a (1 ; 8)?
- 8) In quale piano cartesiano si trova la forma a (10 ; 3)?
- 9) In quale piano cartesiano si trova la forma a (5 ; 4)?
- 10) In quale piano cartesiano si trova la forma a (9 ; 5)?
- 11) In quale piano cartesiano si trova la forma a (2 ; 10)?
- 12) In quale piano cartesiano si trova la forma a (3 ; 9)?
- 13) In quale piano cartesiano si trova la forma a (8 ; 6)?
- 14) In quale piano cartesiano si trova la forma a (3 ; 1)?
- 15) In quale piano cartesiano si trova la forma a (9 ; 9)?





Indica a quale piano cartesiano appartengono le forme elencate nelle domande.



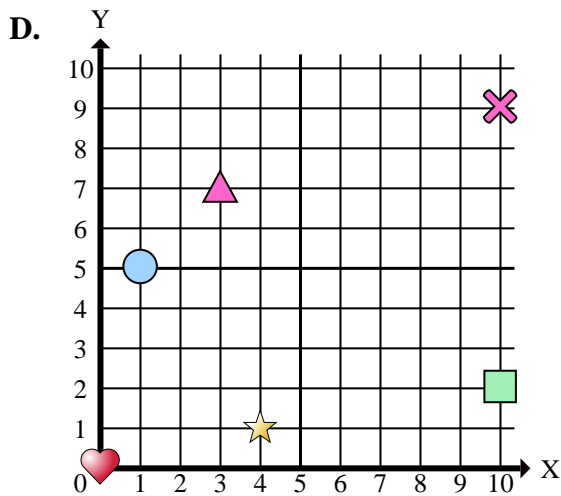
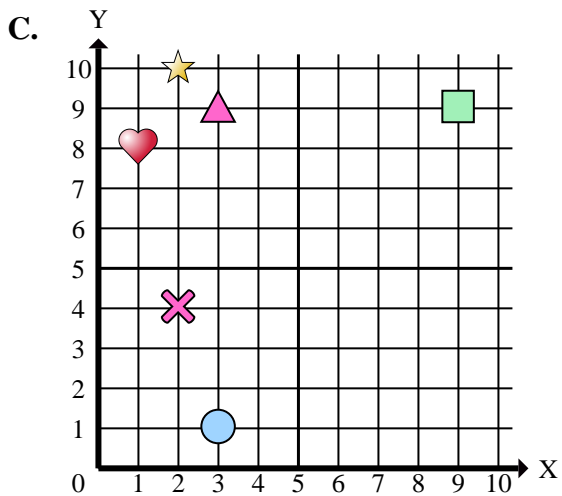
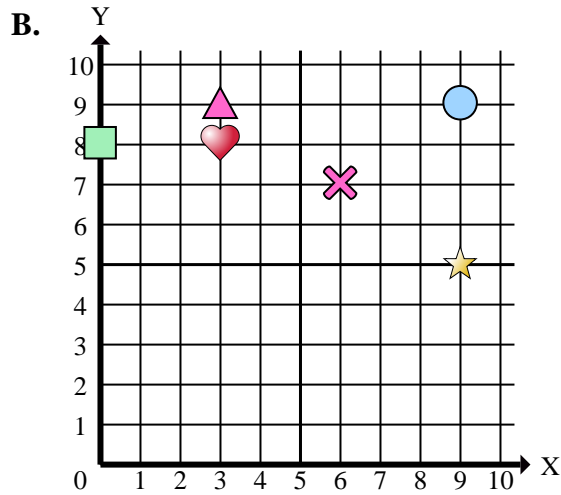
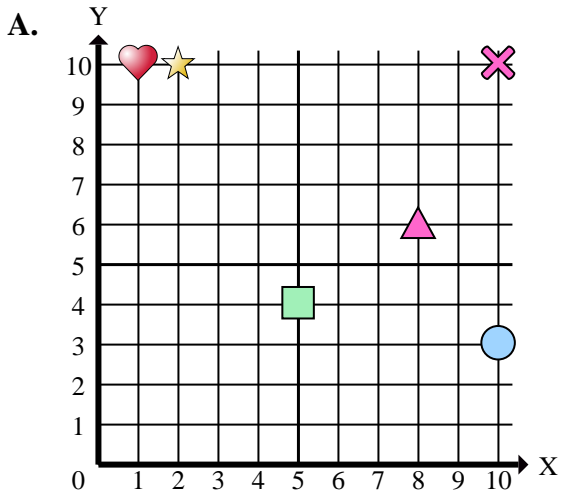
Risposte

1.     **D**
2.     **B**
3.     **B**
4.     **D**
5.     **A**
6.     **A**
7.     **C**
8.     **A**
9.     **A**
10.     **B**
11.     **C**
12.     **C**
13.     **A**
14.     **C**
15.     **C**

- 1) In quale piano cartesiano si trova la forma a (4 ; 1)?
- 2) In quale piano cartesiano si trova la forma a (3 ; 9)?
- 3) In quale piano cartesiano si trova la forma a (9 ; 9)?
- 4) In quale piano cartesiano si trova la forma a (1 ; 5)?
- 5) In quale piano cartesiano si trova la forma a (2 ; 10)?
- 6) In quale piano cartesiano si trova la forma a (1 ; 10)?
- 7) In quale piano cartesiano si trova la forma a (1 ; 8)?
- 8) In quale piano cartesiano si trova la forma a (10 ; 3)?
- 9) In quale piano cartesiano si trova la forma a (5 ; 4)?
- 10) In quale piano cartesiano si trova la forma a (9 ; 5)?
- 11) In quale piano cartesiano si trova la forma a (2 ; 10)?
- 12) In quale piano cartesiano si trova la forma a (3 ; 9)?
- 13) In quale piano cartesiano si trova la forma a (8 ; 6)?
- 14) In quale piano cartesiano si trova la forma a (3 ; 1)?
- 15) In quale piano cartesiano si trova la forma a (9 ; 9)?



Indica a quale piano cartesiano appartengono le forme elencate nelle domande.



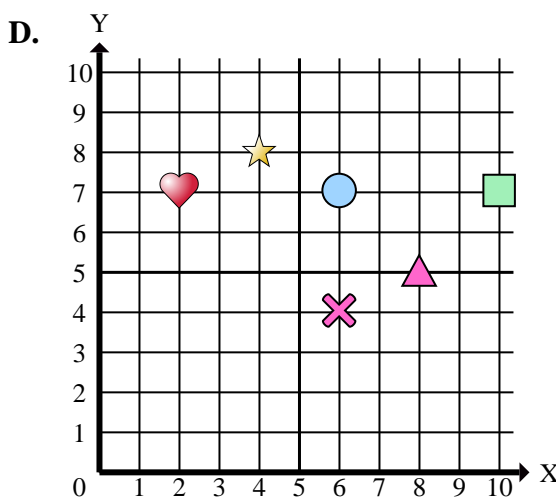
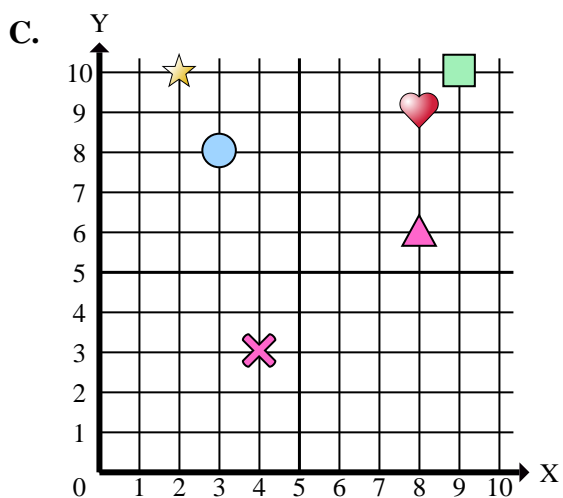
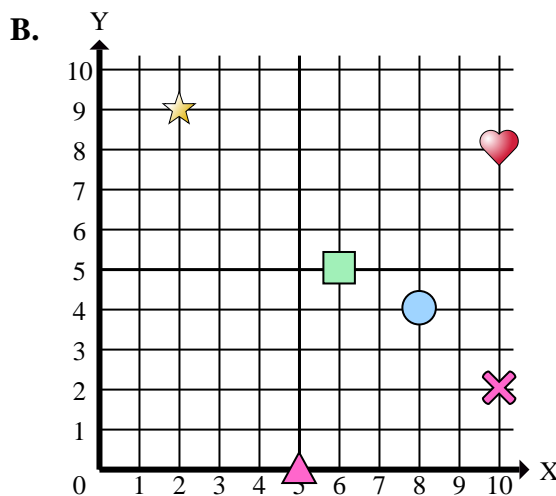
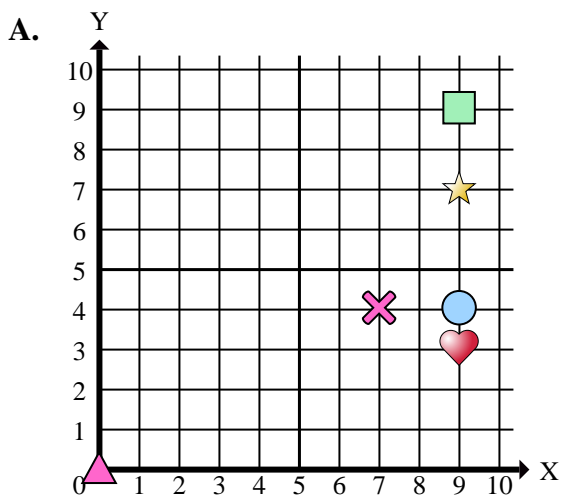
Risposte

1. \_\_\_\_\_
2. \_\_\_\_\_
3. \_\_\_\_\_
4. \_\_\_\_\_
5. \_\_\_\_\_
6. \_\_\_\_\_
7. \_\_\_\_\_
8. \_\_\_\_\_
9. \_\_\_\_\_
10. \_\_\_\_\_

- 1) Quali coordinate piane ha la star a (4 ; 1)?
- 2) Quali coordinate piane ha la triangle a (3 ; 9)?
- 3) Quali coordinate piane ha la circle a (9 ; 9)?
- 4) Quali coordinate piane ha la circle a (1 ; 5)?
- 5) Quali coordinate piane ha la star a (2 ; 10)?
- 6) Quali coordinate piane ha la heart a (1 ; 10)?
- 7) Quali coordinate piane ha la heart a (1 ; 8)?
- 8) Quali coordinate piane ha la circle a (10 ; 3)?
- 9) Quali coordinate piane ha la rectangle a (5 ; 4)?
- 10) Quali coordinate piane ha la star a (9 ; 5)?



Indica a quale piano cartesiano appartengono le forme elencate nelle domande.



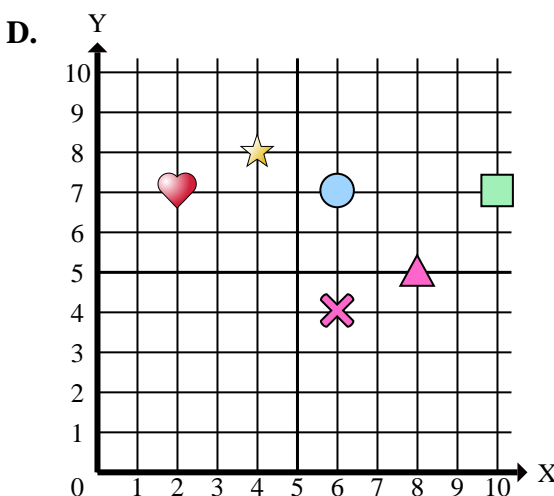
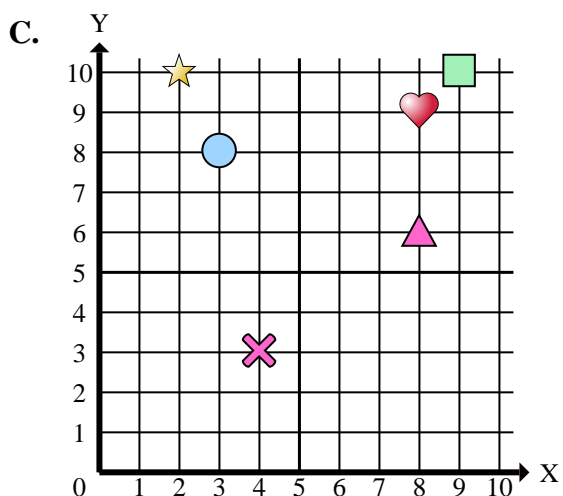
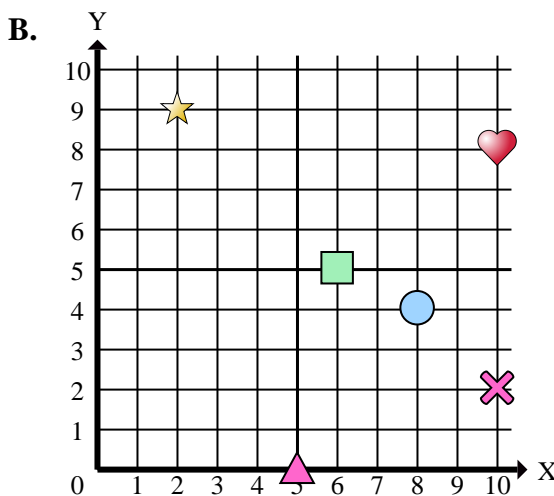
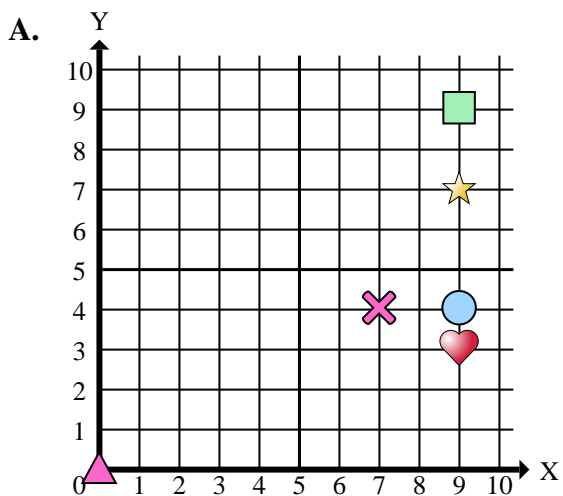
Risposte

1. \_\_\_\_\_
2. \_\_\_\_\_
3. \_\_\_\_\_
4. \_\_\_\_\_
5. \_\_\_\_\_
6. \_\_\_\_\_
7. \_\_\_\_\_
8. \_\_\_\_\_
9. \_\_\_\_\_
10. \_\_\_\_\_
11. \_\_\_\_\_
12. \_\_\_\_\_
13. \_\_\_\_\_
14. \_\_\_\_\_
15. \_\_\_\_\_

- 1) In quale piano cartesiano si trova la forma a (6 ; 5)?
- 2) In quale piano cartesiano si trova la forma a (10 ; 8)?
- 3) In quale piano cartesiano si trova la forma a (9 ; 10)?
- 4) In quale piano cartesiano si trova la forma a (4 ; 8)?
- 5) In quale piano cartesiano si trova la forma a (8 ; 5)?
- 6) In quale piano cartesiano si trova la forma a (10 ; 7)?
- 7) In quale piano cartesiano si trova la forma a (8 ; 6)?
- 8) In quale piano cartesiano si trova la forma a (10 ; 2)?
- 9) In quale piano cartesiano si trova la forma a (2 ; 9)?
- 10) In quale piano cartesiano si trova la forma a (8 ; 9)?
- 11) In quale piano cartesiano si trova la forma a (4 ; 3)?
- 12) In quale piano cartesiano si trova la forma a (2 ; 7)?
- 13) In quale piano cartesiano si trova la forma a (0 ; 0)?
- 14) In quale piano cartesiano si trova la forma a (8 ; 4)?
- 15) In quale piano cartesiano si trova la forma a (9 ; 4)?



Indica a quale piano cartesiano appartengono le forme elencate nelle domande.



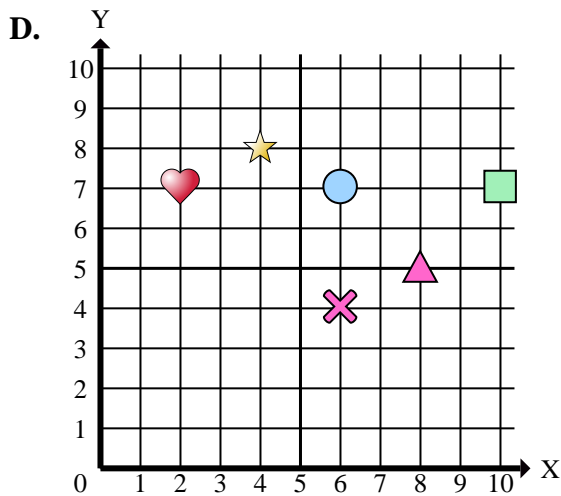
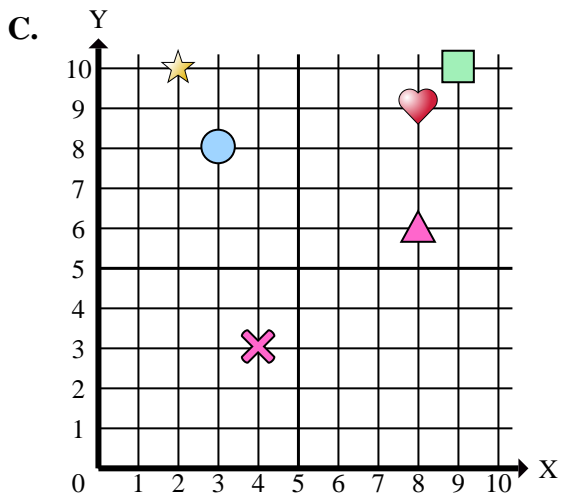
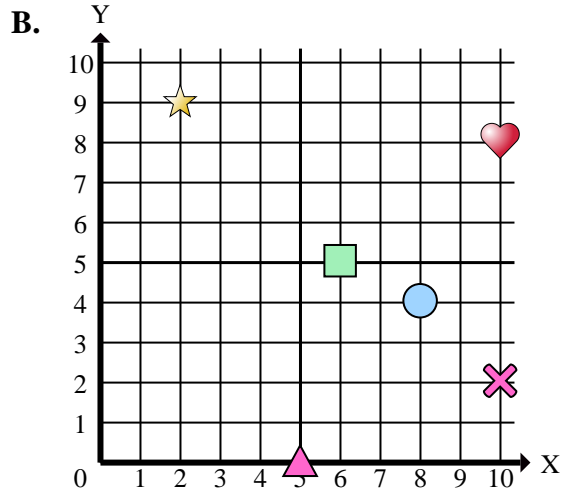
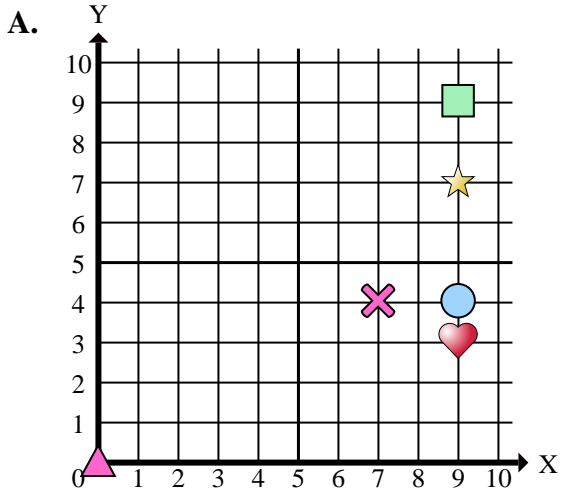
Risposte

1.     **B**
2.     **B**
3.     **C**
4.     **D**
5.     **D**
6.     **D**
7.     **C**
8.     **B**
9.     **B**
10.     **C**
11.     **C**
12.     **D**
13.     **A**
14.     **B**
15.     **A**

- 1) In quale piano cartesiano si trova la forma a (6 ; 5)?
- 2) In quale piano cartesiano si trova la forma a (10 ; 8)?
- 3) In quale piano cartesiano si trova la forma a (9 ; 10)?
- 4) In quale piano cartesiano si trova la forma a (4 ; 8)?
- 5) In quale piano cartesiano si trova la forma a (8 ; 5)?
- 6) In quale piano cartesiano si trova la forma a (10 ; 7)?
- 7) In quale piano cartesiano si trova la forma a (8 ; 6)?
- 8) In quale piano cartesiano si trova la forma a (10 ; 2)?
- 9) In quale piano cartesiano si trova la forma a (2 ; 9)?
- 10) In quale piano cartesiano si trova la forma a (8 ; 9)?
- 11) In quale piano cartesiano si trova la forma a (4 ; 3)?
- 12) In quale piano cartesiano si trova la forma a (2 ; 7)?
- 13) In quale piano cartesiano si trova la forma a (0 ; 0)?
- 14) In quale piano cartesiano si trova la forma a (8 ; 4)?
- 15) In quale piano cartesiano si trova la forma a (9 ; 4)?



Indica a quale piano cartesiano appartengono le forme elencate nelle domande.



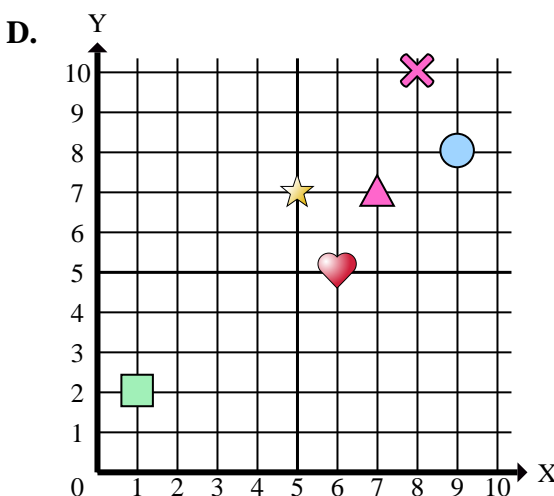
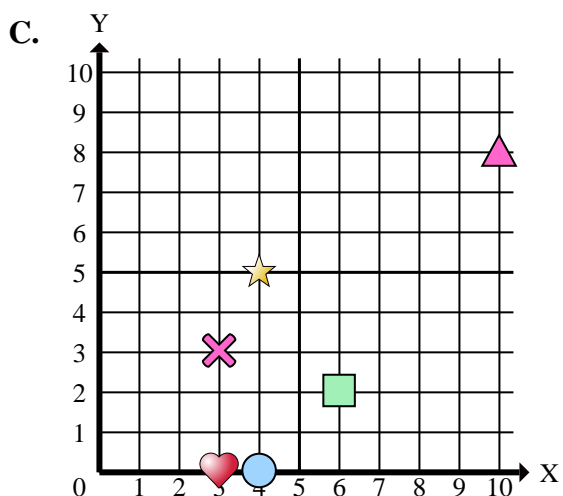
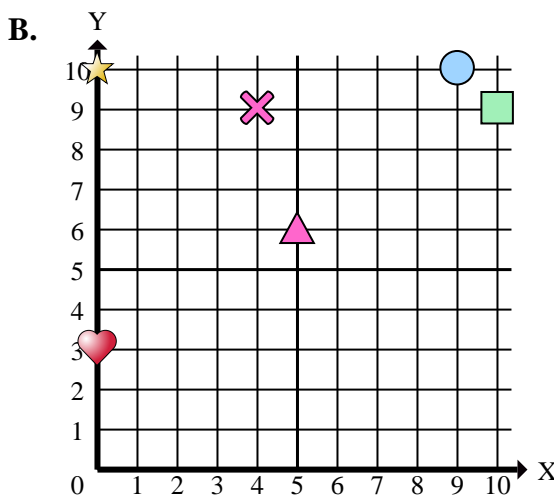
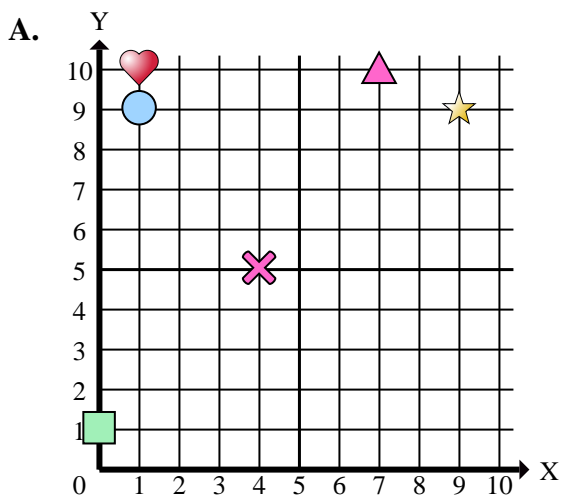
Risposte

1. \_\_\_\_\_
2. \_\_\_\_\_
3. \_\_\_\_\_
4. \_\_\_\_\_
5. \_\_\_\_\_
6. \_\_\_\_\_
7. \_\_\_\_\_
8. \_\_\_\_\_
9. \_\_\_\_\_
10. \_\_\_\_\_

- 1) Quali coordinate piane ha la rectangle a (6 ; 5)?
- 2) Quali coordinate piane ha la heart a (10 ; 8)?
- 3) Quali coordinate piane ha la rectangle a (9 ; 10)?
- 4) Quali coordinate piane ha la star a (4 ; 8)?
- 5) Quali coordinate piane ha la triangle a (8 ; 5)?
- 6) Quali coordinate piane ha la rectangle a (10 ; 7)?
- 7) Quali coordinate piane ha la triangle a (8 ; 6)?
- 8) Quali coordinate piane ha la cross a (10 ; 2)?
- 9) Quali coordinate piane ha la star a (2 ; 9)?
- 10) Quali coordinate piane ha la heart a (8 ; 9)?



Indica a quale piano cartesiano appartengono le forme elencate nelle domande.



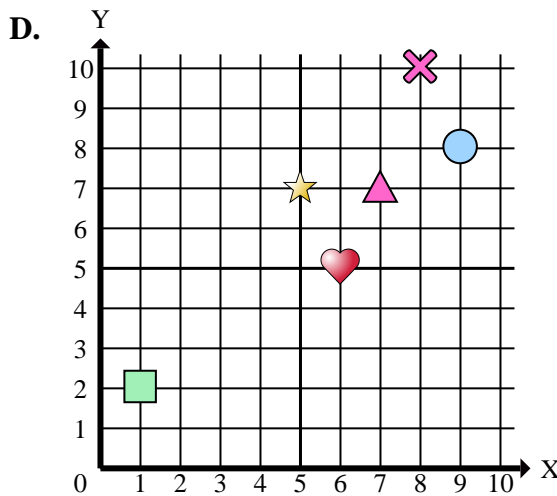
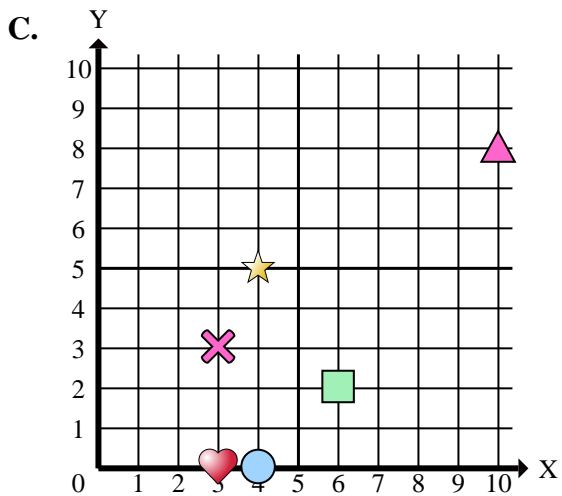
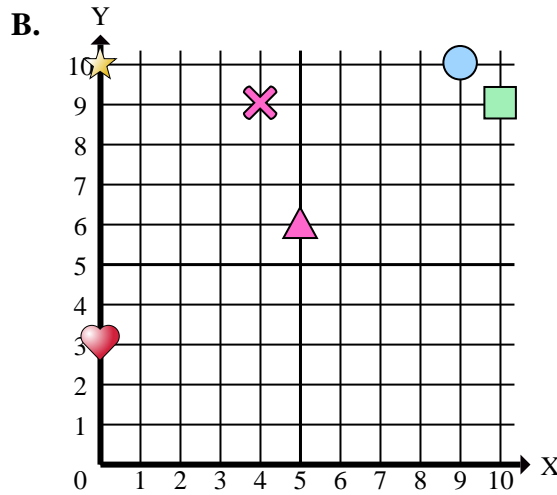
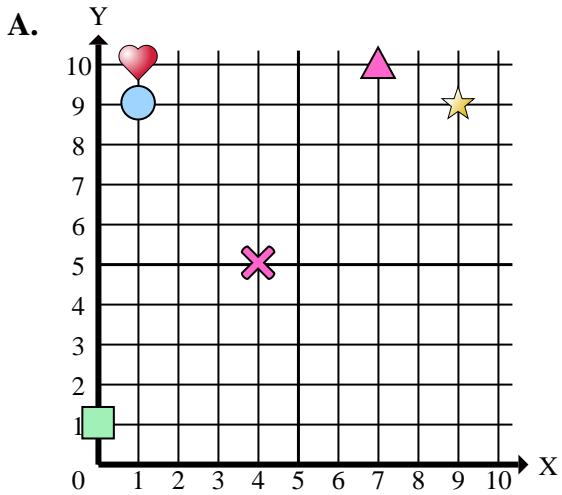
**Risposte**

1. \_\_\_\_\_
2. \_\_\_\_\_
3. \_\_\_\_\_
4. \_\_\_\_\_
5. \_\_\_\_\_
6. \_\_\_\_\_
7. \_\_\_\_\_
8. \_\_\_\_\_
9. \_\_\_\_\_
10. \_\_\_\_\_
11. \_\_\_\_\_
12. \_\_\_\_\_
13. \_\_\_\_\_
14. \_\_\_\_\_
15. \_\_\_\_\_

- 1) In quale piano cartesiano si trova la forma a (8 ; 10)?
- 2) In quale piano cartesiano si trova la forma a (0 ; 3)?
- 3) In quale piano cartesiano si trova la forma a (9 ; 9)?
- 4) In quale piano cartesiano si trova la forma a (1 ; 2)?
- 5) In quale piano cartesiano si trova la forma a (5 ; 6)?
- 6) In quale piano cartesiano si trova la forma a (10 ; 8)?
- 7) In quale piano cartesiano si trova la forma a (4 ; 9)?
- 8) In quale piano cartesiano si trova la forma a (0 ; 1)?
- 9) In quale piano cartesiano si trova la forma a (1 ; 10)?
- 10) In quale piano cartesiano si trova la forma a (1 ; 9)?
- 11) In quale piano cartesiano si trova la forma a (4 ; 5)?
- 12) In quale piano cartesiano si trova la forma a (9 ; 8)?
- 13) In quale piano cartesiano si trova la forma a (7 ; 10)?
- 14) In quale piano cartesiano si trova la forma a (9 ; 10)?
- 15) In quale piano cartesiano si trova la forma a (6 ; 2)?



Indica a quale piano cartesiano appartengono le forme elencate nelle domande.



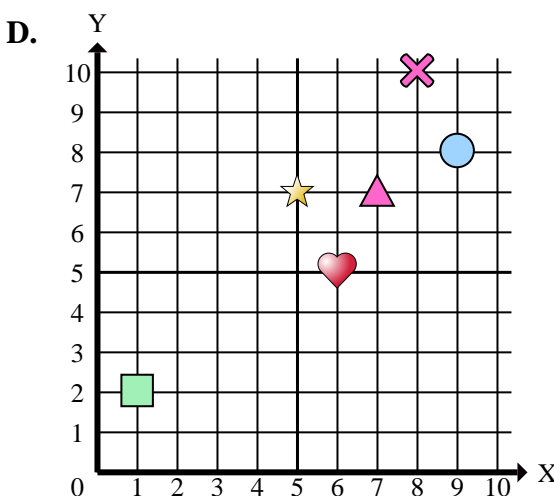
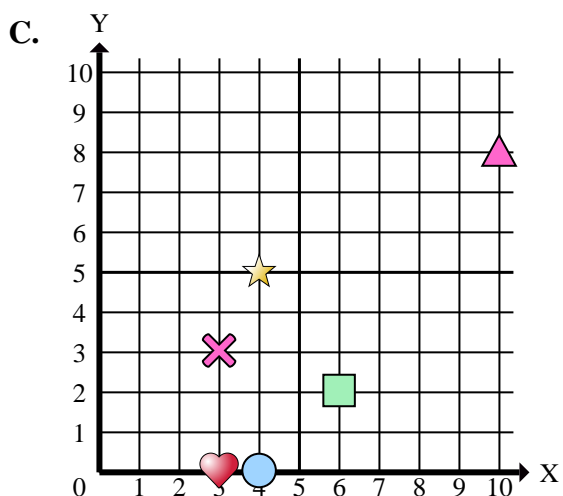
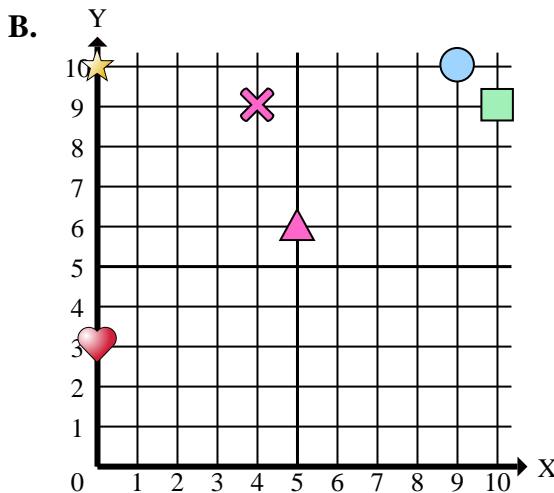
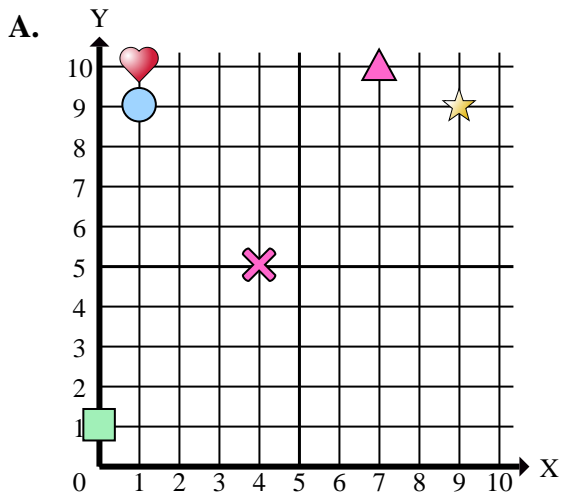
Risposte

1.     **D**
2.     **B**
3.     **A**
4.     **D**
5.     **B**
6.     **C**
7.     **B**
8.     **A**
9.     **A**
10.     **A**
11.     **A**
12.     **D**
13.     **A**
14.     **B**
15.     **C**

- 1) In quale piano cartesiano si trova la forma a (8 ; 10)?
- 2) In quale piano cartesiano si trova la forma a (0 ; 3)?
- 3) In quale piano cartesiano si trova la forma a (9 ; 9)?
- 4) In quale piano cartesiano si trova la forma a (1 ; 2)?
- 5) In quale piano cartesiano si trova la forma a (5 ; 6)?
- 6) In quale piano cartesiano si trova la forma a (10 ; 8)?
- 7) In quale piano cartesiano si trova la forma a (4 ; 9)?
- 8) In quale piano cartesiano si trova la forma a (0 ; 1)?
- 9) In quale piano cartesiano si trova la forma a (1 ; 10)?
- 10) In quale piano cartesiano si trova la forma a (1 ; 9)?
- 11) In quale piano cartesiano si trova la forma a (4 ; 5)?
- 12) In quale piano cartesiano si trova la forma a (9 ; 8)?
- 13) In quale piano cartesiano si trova la forma a (7 ; 10)?
- 14) In quale piano cartesiano si trova la forma a (9 ; 10)?
- 15) In quale piano cartesiano si trova la forma a (6 ; 2)?



Indica a quale piano cartesiano appartengono le forme elencate nelle domande.



Risposte

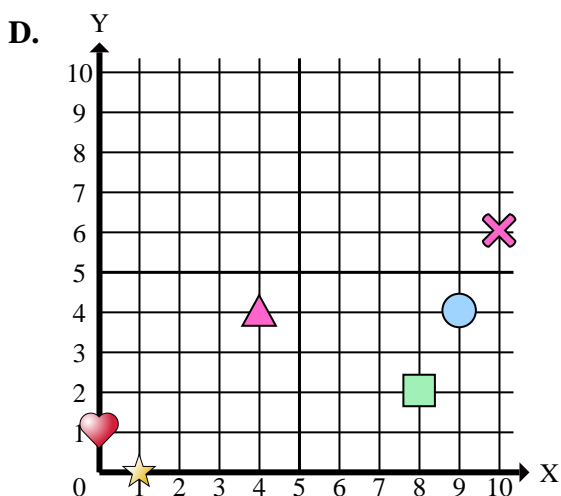
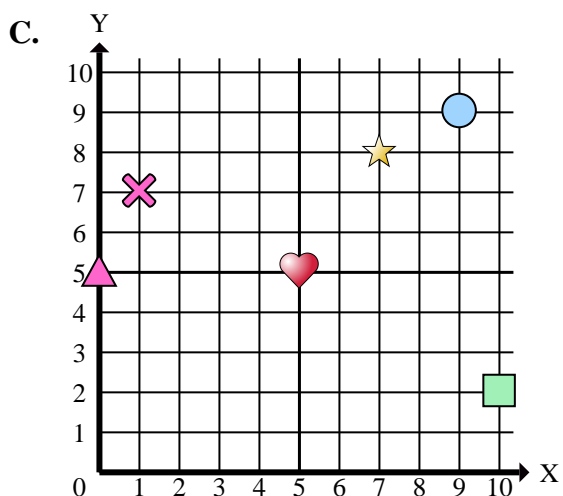
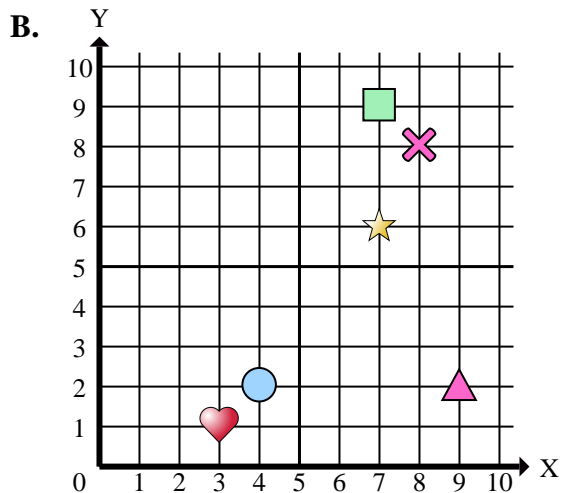
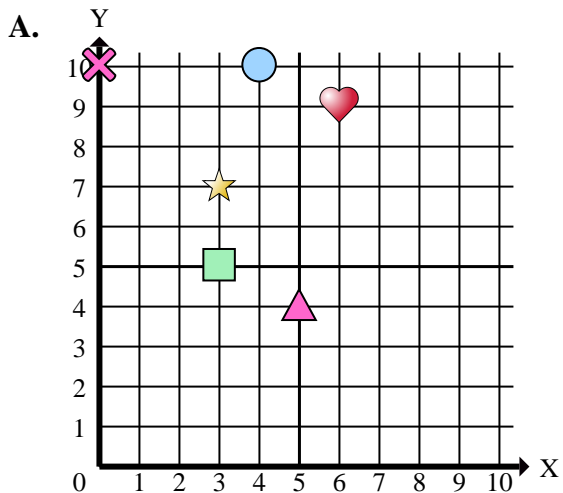
1. \_\_\_\_\_
2. \_\_\_\_\_
3. \_\_\_\_\_
4. \_\_\_\_\_
5. \_\_\_\_\_
6. \_\_\_\_\_
7. \_\_\_\_\_
8. \_\_\_\_\_
9. \_\_\_\_\_
10. \_\_\_\_\_

- 1) Quali coordinate piane ha la cross a (8 ; 10)?
- 2) Quali coordinate piane ha la heart a (0 ; 3)?
- 3) Quali coordinate piane ha la star a (9 ; 9)?
- 4) Quali coordinate piane ha la rectangle a (1 ; 2)?
- 5) Quali coordinate piane ha la triangle a (5 ; 6)?
- 6) Quali coordinate piane ha la triangle a (10 ; 8)?
- 7) Quali coordinate piane ha la cross a (4 ; 9)?
- 8) Quali coordinate piane ha la rectangle a (0 ; 1)?
- 9) Quali coordinate piane ha la heart a (1 ; 10)?
- 10) Quali coordinate piane ha la circle a (1 ; 9)?





Indica a quale piano cartesiano appartengono le forme elencate nelle domande.



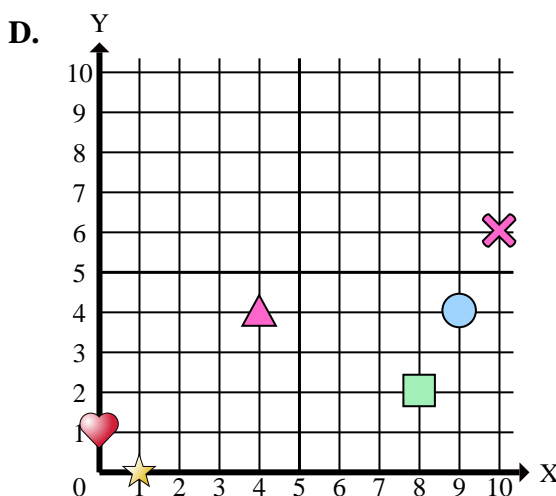
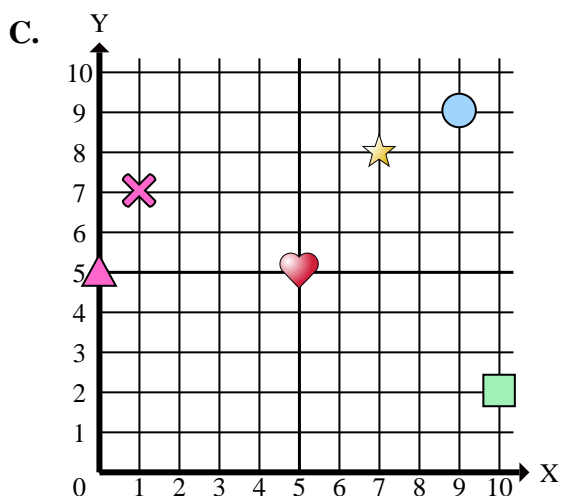
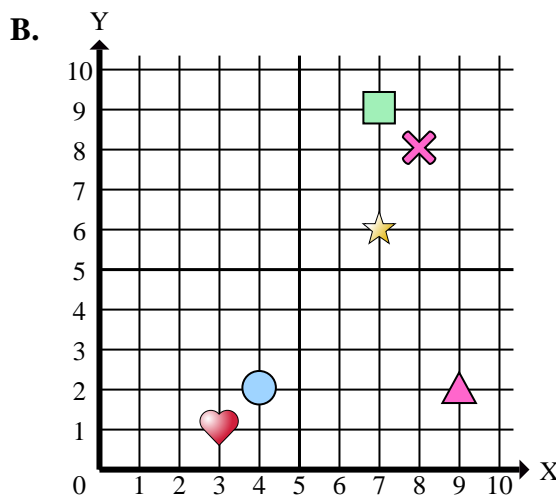
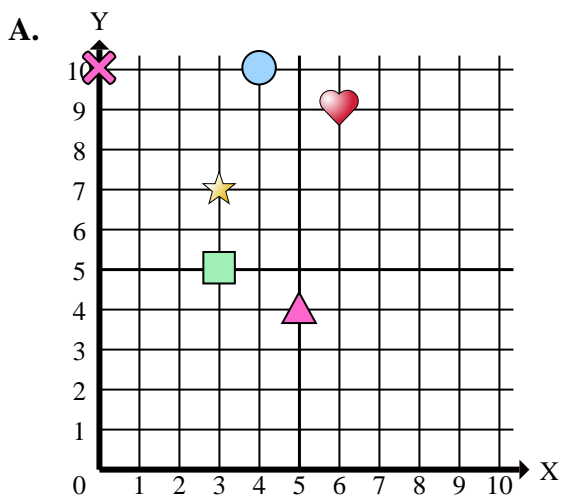
**Risposte**

1. \_\_\_\_\_
2. \_\_\_\_\_
3. \_\_\_\_\_
4. \_\_\_\_\_
5. \_\_\_\_\_
6. \_\_\_\_\_
7. \_\_\_\_\_
8. \_\_\_\_\_
9. \_\_\_\_\_
10. \_\_\_\_\_
11. \_\_\_\_\_
12. \_\_\_\_\_
13. \_\_\_\_\_
14. \_\_\_\_\_
15. \_\_\_\_\_

- 1) In quale piano cartesiano si trova la forma a (0 ; 5)?
- 2) In quale piano cartesiano si trova la forma a (10 ; 6)?
- 3) In quale piano cartesiano si trova la forma a (5 ; 5)?
- 4) In quale piano cartesiano si trova la forma a (4 ; 4)?
- 5) In quale piano cartesiano si trova la forma a (9 ; 9)?
- 6) In quale piano cartesiano si trova la forma a (3 ; 7)?
- 7) In quale piano cartesiano si trova la forma a (4 ; 2)?
- 8) In quale piano cartesiano si trova la forma a (9 ; 2)?
- 9) In quale piano cartesiano si trova la forma a (8 ; 2)?
- 10) In quale piano cartesiano si trova la forma a (3 ; 5)?
- 11) In quale piano cartesiano si trova la forma a (7 ; 8)?
- 12) In quale piano cartesiano si trova la forma a (6 ; 9)?
- 13) In quale piano cartesiano si trova la forma a (0 ; 1)?
- 14) In quale piano cartesiano si trova la forma a (0 ; 10)?
- 15) In quale piano cartesiano si trova la forma a (8 ; 8)?



Indica a quale piano cartesiano appartengono le forme elencate nelle domande.



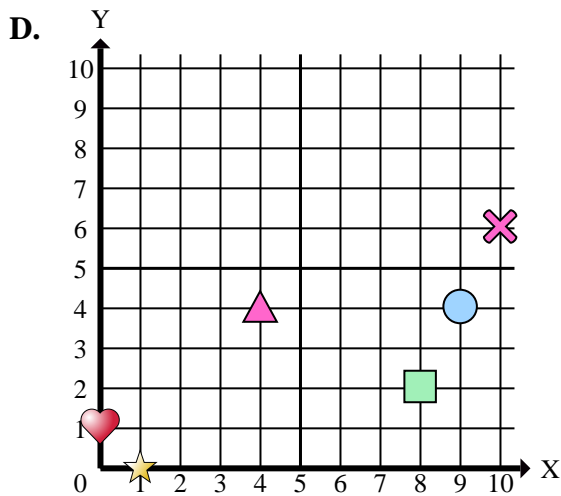
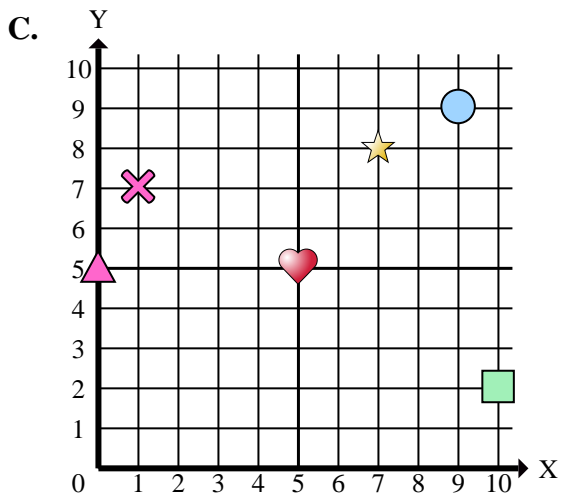
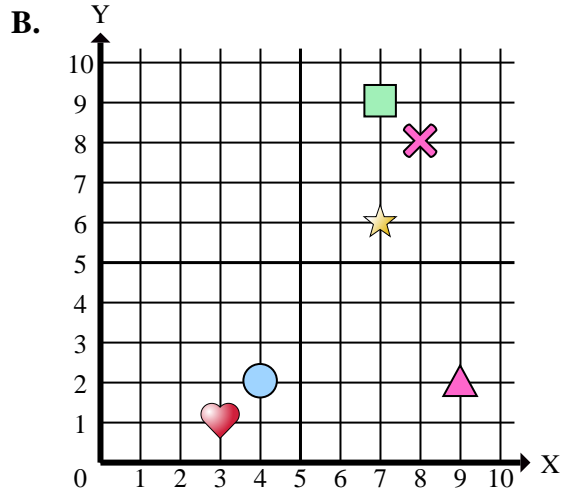
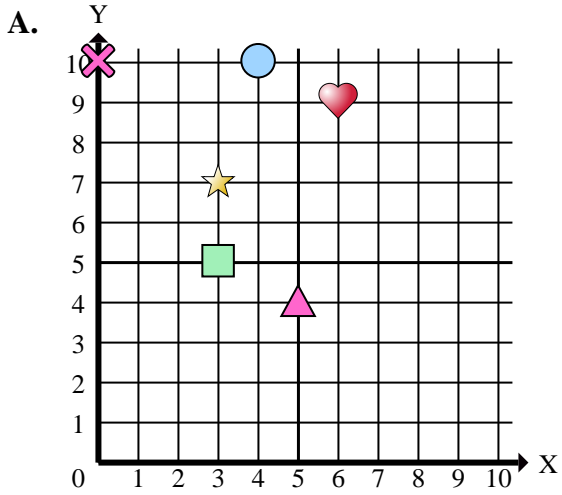
- 1) In quale piano cartesiano si trova la forma a (0 ; 5)?
- 2) In quale piano cartesiano si trova la forma a (10 ; 6)?
- 3) In quale piano cartesiano si trova la forma a (5 ; 5)?
- 4) In quale piano cartesiano si trova la forma a (4 ; 4)?
- 5) In quale piano cartesiano si trova la forma a (9 ; 9)?
- 6) In quale piano cartesiano si trova la forma a (3 ; 7)?
- 7) In quale piano cartesiano si trova la forma a (4 ; 2)?
- 8) In quale piano cartesiano si trova la forma a (9 ; 2)?
- 9) In quale piano cartesiano si trova la forma a (8 ; 2)?
- 10) In quale piano cartesiano si trova la forma a (3 ; 5)?
- 11) In quale piano cartesiano si trova la forma a (7 ; 8)?
- 12) In quale piano cartesiano si trova la forma a (6 ; 9)?
- 13) In quale piano cartesiano si trova la forma a (0 ; 1)?
- 14) In quale piano cartesiano si trova la forma a (0 ; 10)?
- 15) In quale piano cartesiano si trova la forma a (8 ; 8)?

Risposte

1.           **C**
2.           **D**
3.           **C**
4.           **D**
5.           **C**
6.           **A**
7.           **B**
8.           **B**
9.           **D**
10.          **A**
11.           **C**
12.           **A**
13.           **D**
14.           **A**
15.           **B**



Indica a quale piano cartesiano appartengono le forme elencate nelle domande.



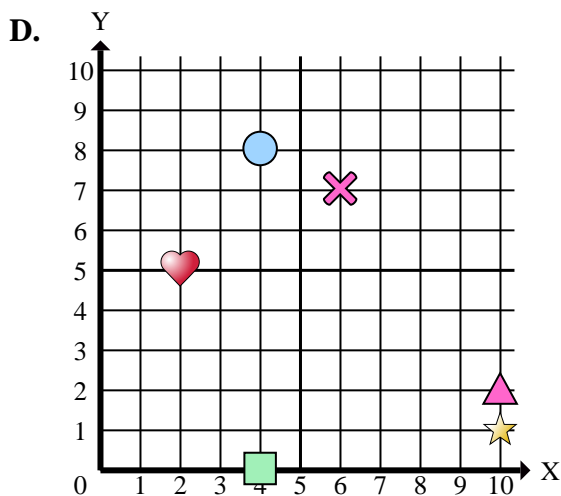
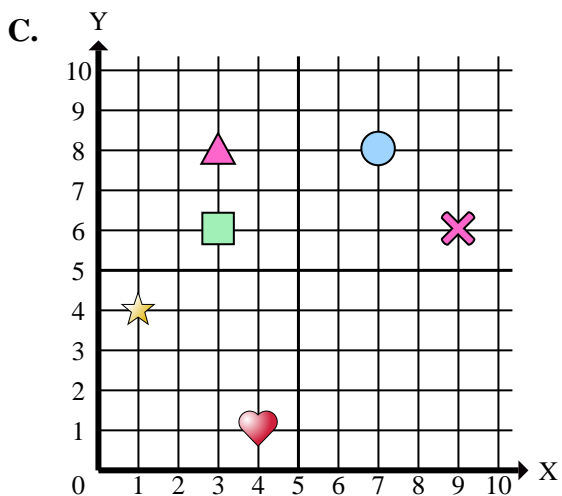
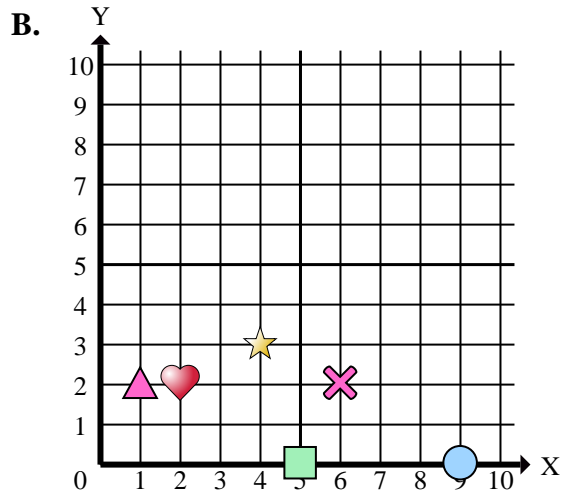
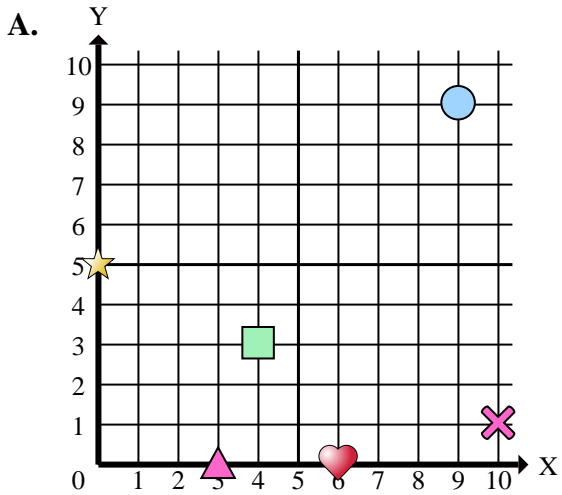
Risposte

1. \_\_\_\_\_
2. \_\_\_\_\_
3. \_\_\_\_\_
4. \_\_\_\_\_
5. \_\_\_\_\_
6. \_\_\_\_\_
7. \_\_\_\_\_
8. \_\_\_\_\_
9. \_\_\_\_\_
10. \_\_\_\_\_

- 1) Quali coordinate piane ha la triangle a (0 ; 5)?
- 2) Quali coordinate piane ha la cross a (10 ; 6)?
- 3) Quali coordinate piane ha la heart a (5 ; 5)?
- 4) Quali coordinate piane ha la triangle a (4 ; 4)?
- 5) Quali coordinate piane ha la circle a (9 ; 9)?
- 6) Quali coordinate piane ha la star a (3 ; 7)?
- 7) Quali coordinate piane ha la circle a (4 ; 2)?
- 8) Quali coordinate piane ha la triangle a (9 ; 2)?
- 9) Quali coordinate piane ha la rectangle a (8 ; 2)?
- 10) Quali coordinate piane ha la rectangle a (3 ; 5)?



Indica a quale piano cartesiano appartengono le forme elencate nelle domande.



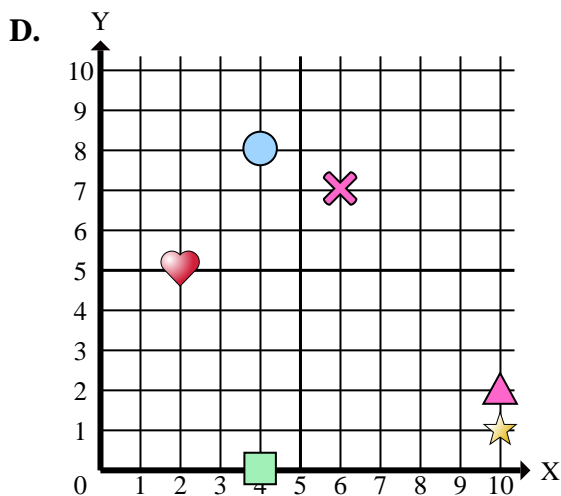
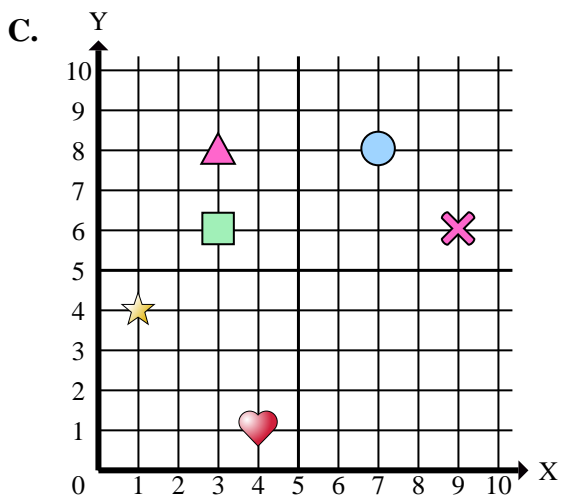
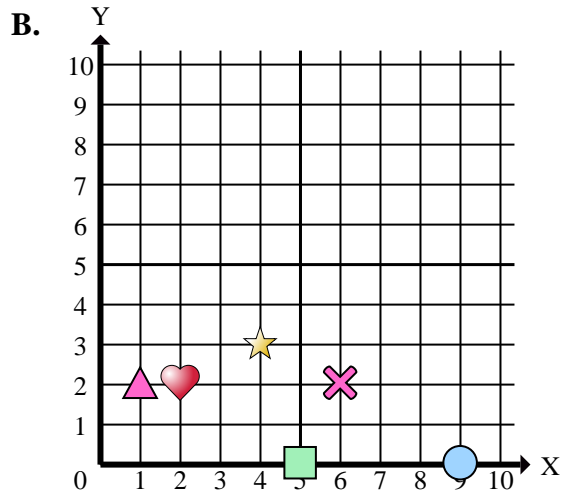
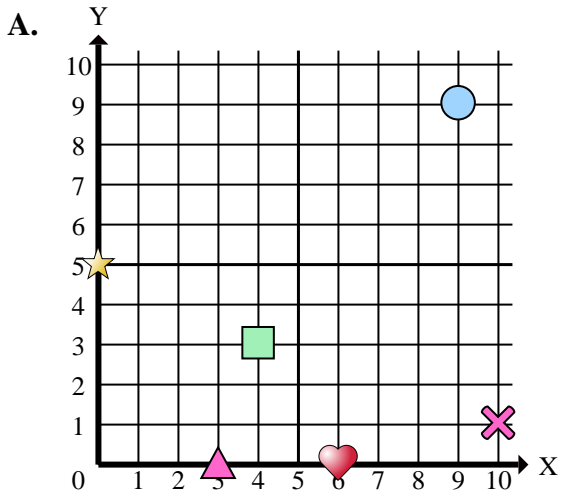
Risposte

1. \_\_\_\_\_
2. \_\_\_\_\_
3. \_\_\_\_\_
4. \_\_\_\_\_
5. \_\_\_\_\_
6. \_\_\_\_\_
7. \_\_\_\_\_
8. \_\_\_\_\_
9. \_\_\_\_\_
10. \_\_\_\_\_
11. \_\_\_\_\_
12. \_\_\_\_\_
13. \_\_\_\_\_
14. \_\_\_\_\_
15. \_\_\_\_\_

- 1) In quale piano cartesiano si trova la forma a (4 ; 1)?
- 2) In quale piano cartesiano si trova la forma a (3 ; 6)?
- 3) In quale piano cartesiano si trova la forma a (6 ; 2)?
- 4) In quale piano cartesiano si trova la forma a (6 ; 0)?
- 5) In quale piano cartesiano si trova la forma a (2 ; 2)?
- 6) In quale piano cartesiano si trova la forma a (9 ; 9)?
- 7) In quale piano cartesiano si trova la forma a (4 ; 3)?
- 8) In quale piano cartesiano si trova la forma a (4 ; 0)?
- 9) In quale piano cartesiano si trova la forma a (5 ; 0)?
- 10) In quale piano cartesiano si trova la forma a (9 ; 0)?
- 11) In quale piano cartesiano si trova la forma a (1 ; 4)?
- 12) In quale piano cartesiano si trova la forma a (7 ; 8)?
- 13) In quale piano cartesiano si trova la forma a (9 ; 6)?
- 14) In quale piano cartesiano si trova la forma a (3 ; 0)?
- 15) In quale piano cartesiano si trova la forma a (1 ; 2)?



Indica a quale piano cartesiano appartengono le forme elencate nelle domande.



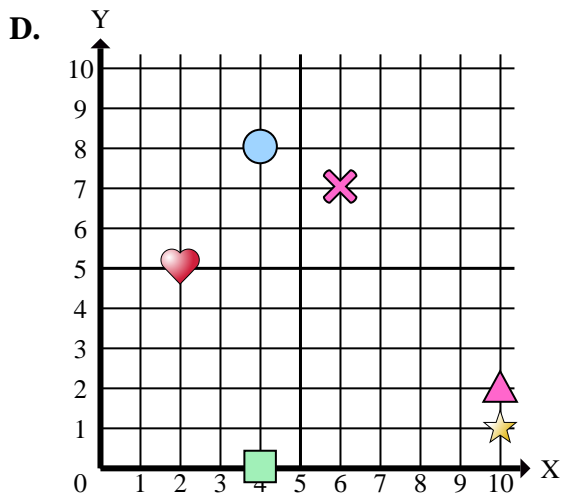
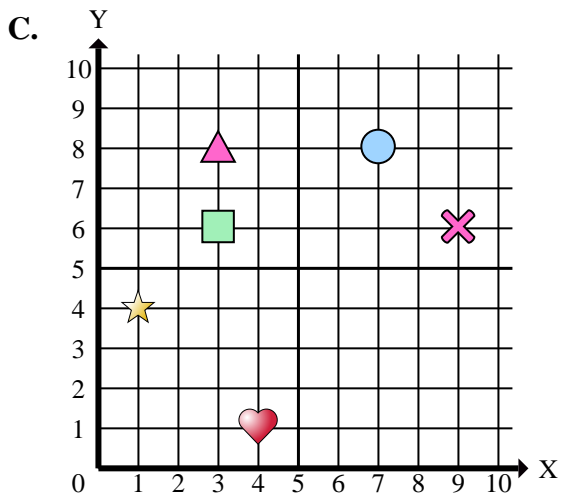
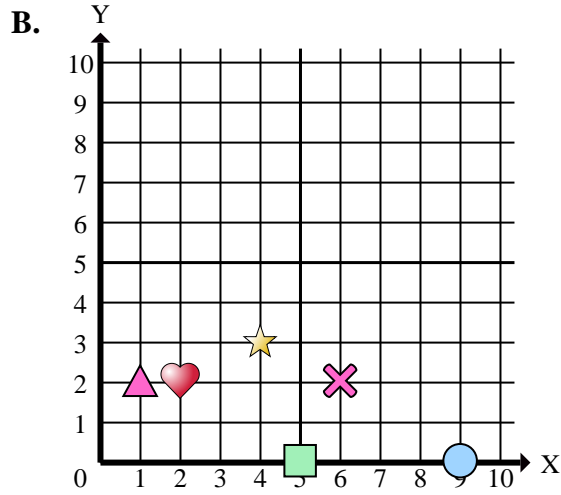
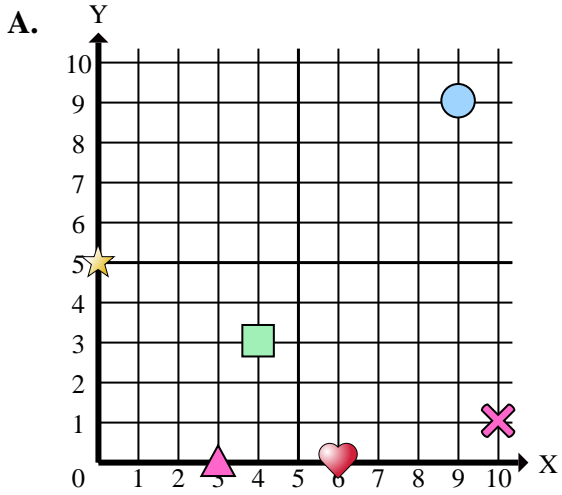
- 1) In quale piano cartesiano si trova la forma a (4 ; 1)?
- 2) In quale piano cartesiano si trova la forma a (3 ; 6)?
- 3) In quale piano cartesiano si trova la forma a (6 ; 2)?
- 4) In quale piano cartesiano si trova la forma a (6 ; 0)?
- 5) In quale piano cartesiano si trova la forma a (2 ; 2)?
- 6) In quale piano cartesiano si trova la forma a (9 ; 9)?
- 7) In quale piano cartesiano si trova la forma a (4 ; 3)?
- 8) In quale piano cartesiano si trova la forma a (4 ; 0)?
- 9) In quale piano cartesiano si trova la forma a (5 ; 0)?
- 10) In quale piano cartesiano si trova la forma a (9 ; 0)?
- 11) In quale piano cartesiano si trova la forma a (1 ; 4)?
- 12) In quale piano cartesiano si trova la forma a (7 ; 8)?
- 13) In quale piano cartesiano si trova la forma a (9 ; 6)?
- 14) In quale piano cartesiano si trova la forma a (3 ; 0)?
- 15) In quale piano cartesiano si trova la forma a (1 ; 2)?

Risposte

1.     **C**
2.     **C**
3.     **B**
4.     **A**
5.     **B**
6.     **A**
7.     **A**
8.     **D**
9.     **B**
10.     **B**
11.     **C**
12.     **C**
13.     **C**
14.     **A**
15.     **B**



Indica a quale piano cartesiano appartengono le forme elencate nelle domande.



Risposte

1. \_\_\_\_\_
2. \_\_\_\_\_
3. \_\_\_\_\_
4. \_\_\_\_\_
5. \_\_\_\_\_
6. \_\_\_\_\_
7. \_\_\_\_\_
8. \_\_\_\_\_
9. \_\_\_\_\_
10. \_\_\_\_\_

- 1) Quali coordinate piane ha la heart a (4 ; 1)?
- 2) Quali coordinate piane ha la rectangle a (3 ; 6)?
- 3) Quali coordinate piane ha la cross a (6 ; 2)?
- 4) Quali coordinate piane ha la heart a (6 ; 0)?
- 5) Quali coordinate piane ha la heart a (2 ; 2)?
- 6) Quali coordinate piane ha la circle a (9 ; 9)?
- 7) Quali coordinate piane ha la rectangle a (4 ; 3)?
- 8) Quali coordinate piane ha la rectangle a (4 ; 0)?
- 9) Quali coordinate piane ha la rectangle a (5 ; 0)?
- 10) Quali coordinate piane ha la circle a (9 ; 0)?