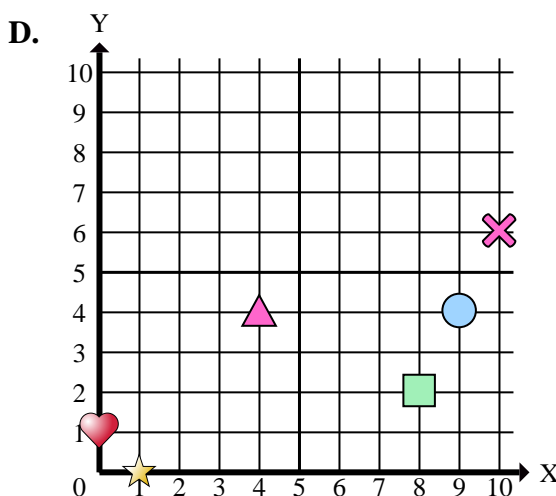
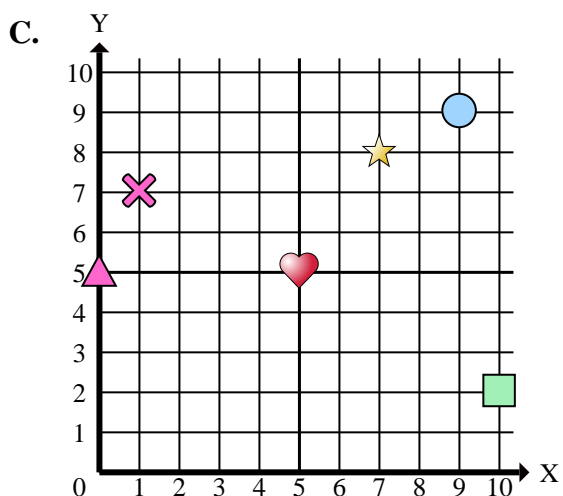
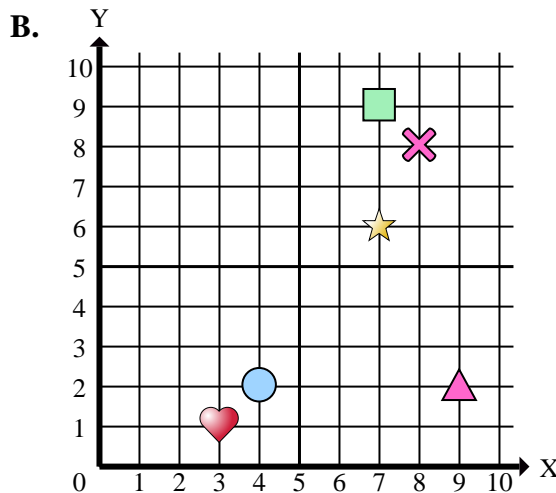
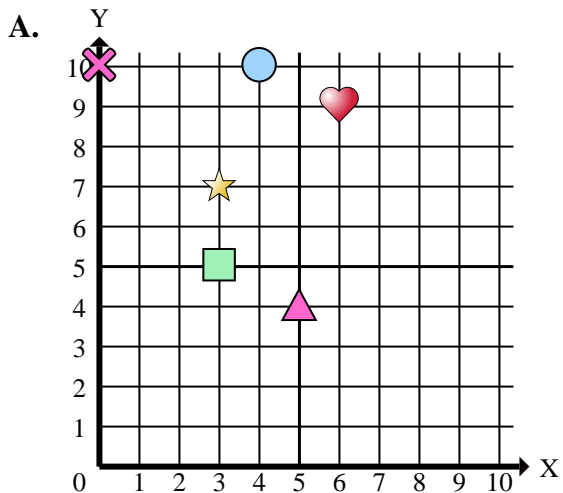




Indica a quale piano cartesiano appartengono le forme elencate nelle domande.



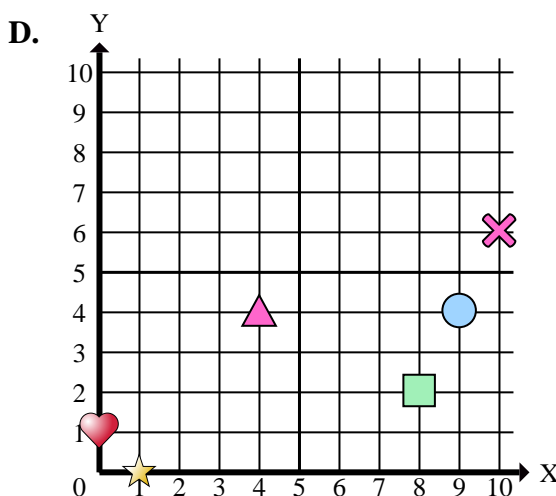
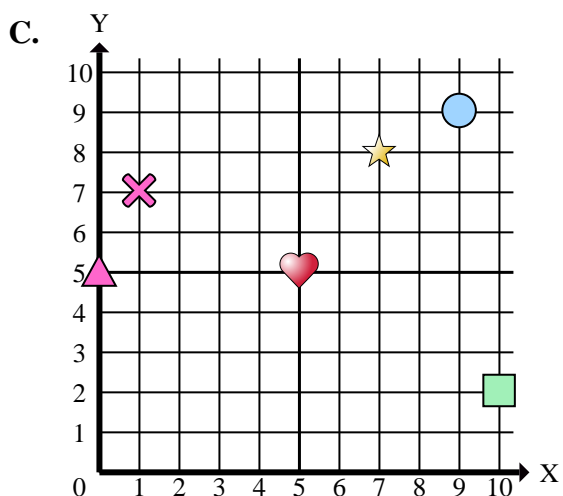
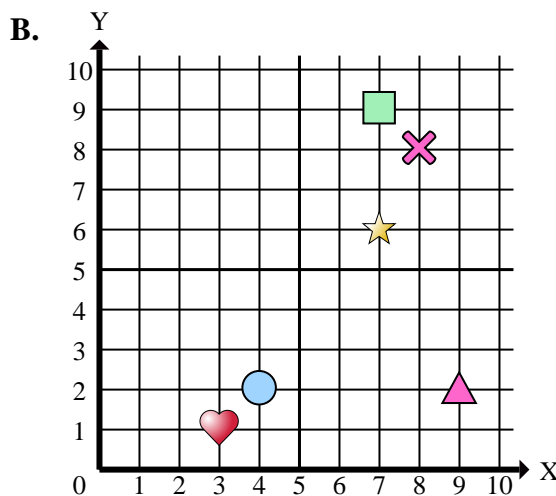
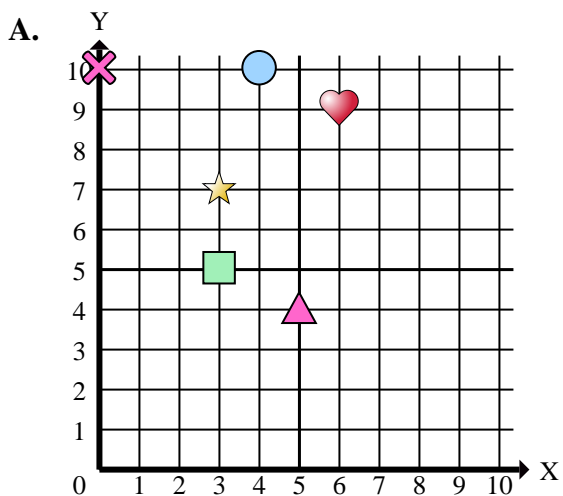
Risposte

1. _____
2. _____
3. _____
4. _____
5. _____
6. _____
7. _____
8. _____
9. _____
10. _____
11. _____
12. _____
13. _____
14. _____
15. _____

- 1) In quale piano cartesiano si trova la forma a (0 ; 5)?
- 2) In quale piano cartesiano si trova la forma a (10 ; 6)?
- 3) In quale piano cartesiano si trova la forma a (5 ; 5)?
- 4) In quale piano cartesiano si trova la forma a (4 ; 4)?
- 5) In quale piano cartesiano si trova la forma a (9 ; 9)?
- 6) In quale piano cartesiano si trova la forma a (3 ; 7)?
- 7) In quale piano cartesiano si trova la forma a (4 ; 2)?
- 8) In quale piano cartesiano si trova la forma a (9 ; 2)?
- 9) In quale piano cartesiano si trova la forma a (8 ; 2)?
- 10) In quale piano cartesiano si trova la forma a (3 ; 5)?
- 11) In quale piano cartesiano si trova la forma a (7 ; 8)?
- 12) In quale piano cartesiano si trova la forma a (6 ; 9)?
- 13) In quale piano cartesiano si trova la forma a (0 ; 1)?
- 14) In quale piano cartesiano si trova la forma a (0 ; 10)?
- 15) In quale piano cartesiano si trova la forma a (8 ; 8)?



Indica a quale piano cartesiano appartengono le forme elencate nelle domande.



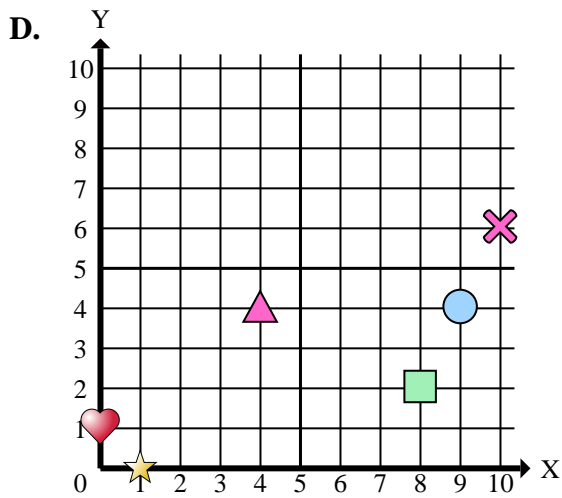
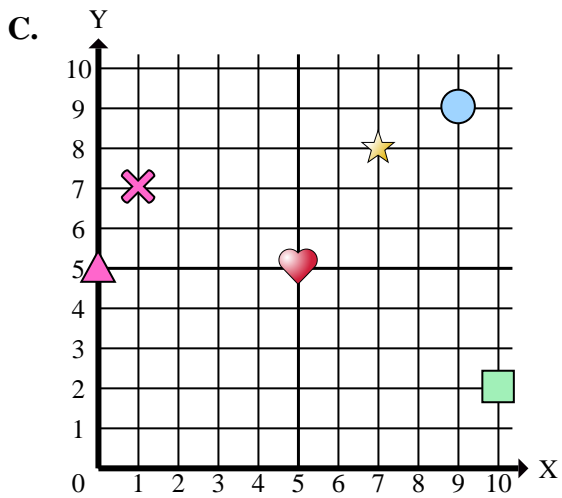
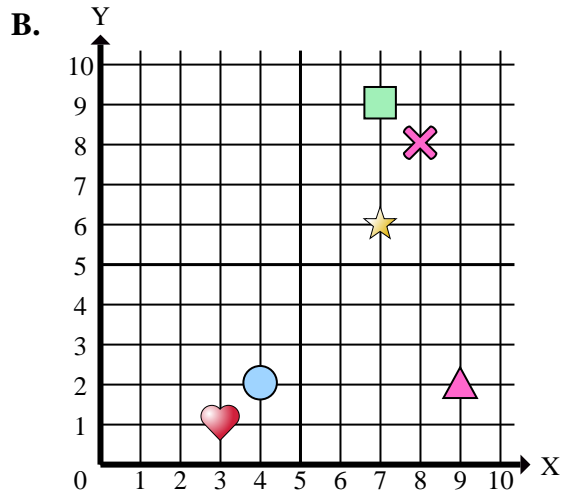
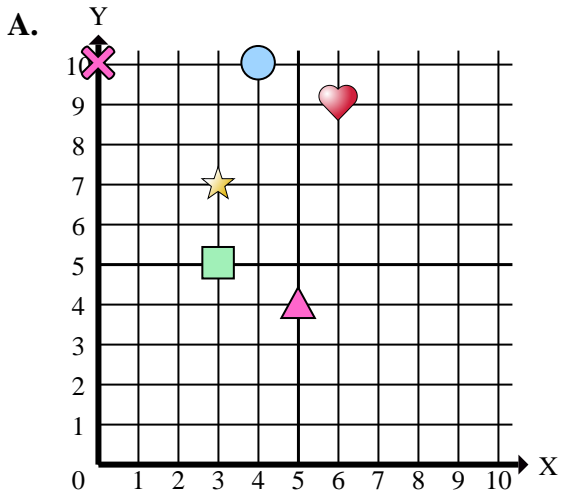
- 1) In quale piano cartesiano si trova la forma a (0 ; 5)?
- 2) In quale piano cartesiano si trova la forma a (10 ; 6)?
- 3) In quale piano cartesiano si trova la forma a (5 ; 5)?
- 4) In quale piano cartesiano si trova la forma a (4 ; 4)?
- 5) In quale piano cartesiano si trova la forma a (9 ; 9)?
- 6) In quale piano cartesiano si trova la forma a (3 ; 7)?
- 7) In quale piano cartesiano si trova la forma a (4 ; 2)?
- 8) In quale piano cartesiano si trova la forma a (9 ; 2)?
- 9) In quale piano cartesiano si trova la forma a (8 ; 2)?
- 10) In quale piano cartesiano si trova la forma a (3 ; 5)?
- 11) In quale piano cartesiano si trova la forma a (7 ; 8)?
- 12) In quale piano cartesiano si trova la forma a (6 ; 9)?
- 13) In quale piano cartesiano si trova la forma a (0 ; 1)?
- 14) In quale piano cartesiano si trova la forma a (0 ; 10)?
- 15) In quale piano cartesiano si trova la forma a (8 ; 8)?

Risposte

1. **C**
2. **D**
3. **C**
4. **D**
5. **C**
6. **A**
7. **B**
8. **B**
9. **D**
10. **A**
11. **C**
12. **A**
13. **D**
14. **A**
15. **B**



Indica a quale piano cartesiano appartengono le forme elencate nelle domande.



Risposte

1. _____
2. _____
3. _____
4. _____
5. _____
6. _____
7. _____
8. _____
9. _____
10. _____

- 1) Quali coordinate piane ha la triangle a (0 ; 5)?
- 2) Quali coordinate piane ha la cross a (10 ; 6)?
- 3) Quali coordinate piane ha la heart a (5 ; 5)?
- 4) Quali coordinate piane ha la triangle a (4 ; 4)?
- 5) Quali coordinate piane ha la circle a (9 ; 9)?
- 6) Quali coordinate piane ha la star a (3 ; 7)?
- 7) Quali coordinate piane ha la circle a (4 ; 2)?
- 8) Quali coordinate piane ha la triangle a (9 ; 2)?
- 9) Quali coordinate piane ha la rectangle a (8 ; 2)?
- 10) Quali coordinate piane ha la rectangle a (3 ; 5)?