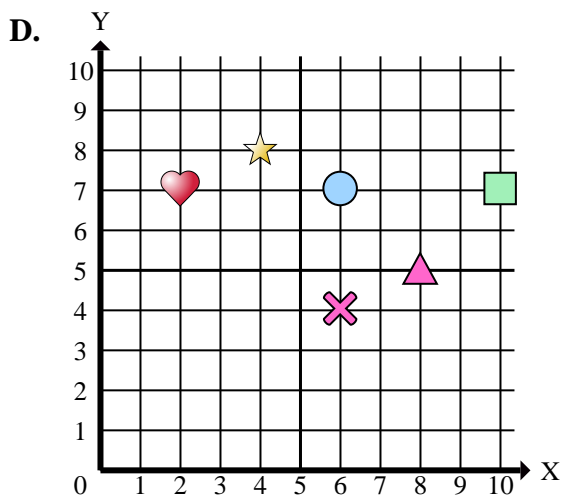
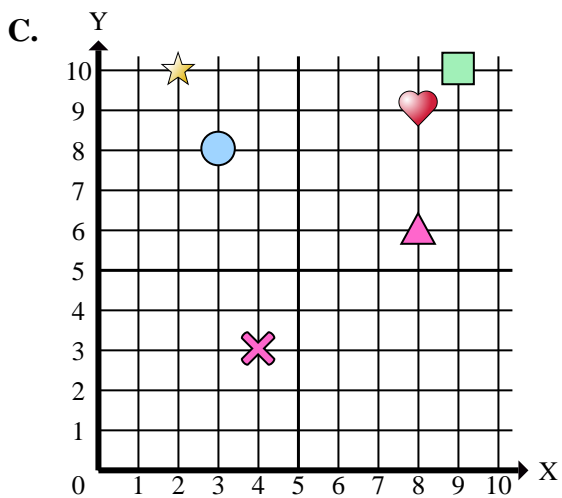
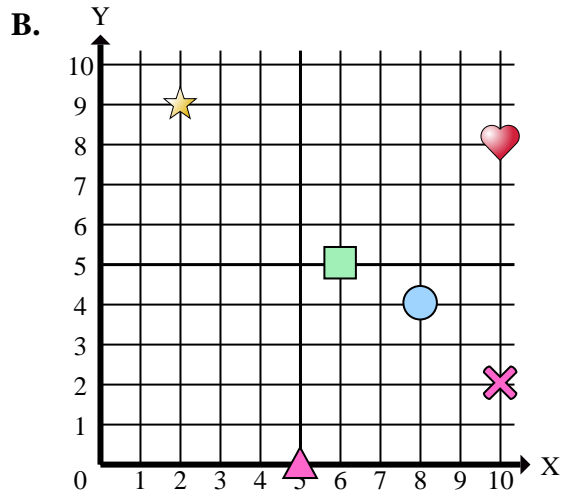
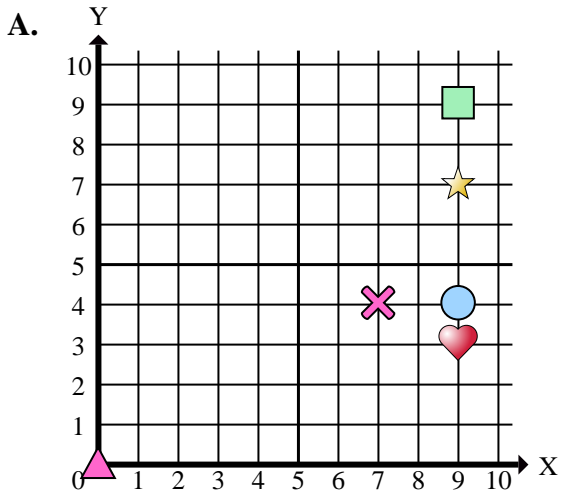




Indica a quale piano cartesiano appartengono le forme elencate nelle domande.



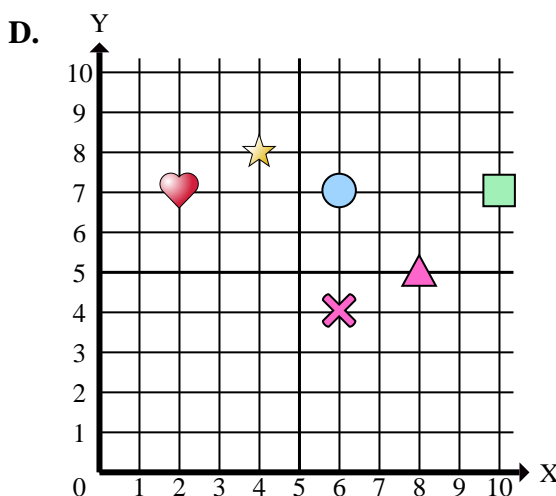
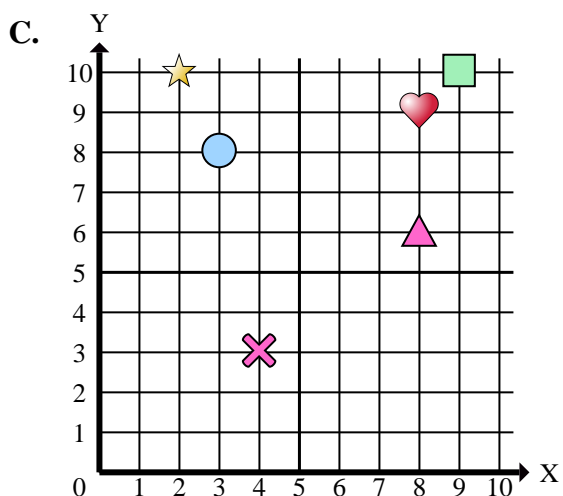
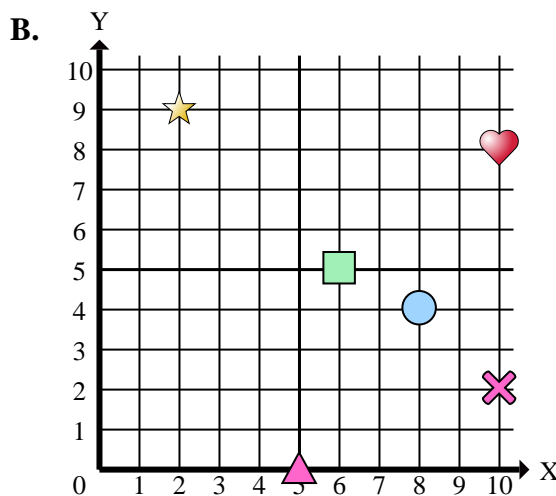
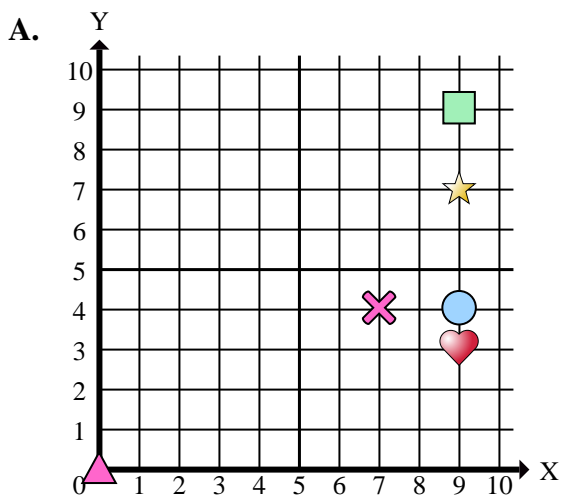
Risposte

1. _____
2. _____
3. _____
4. _____
5. _____
6. _____
7. _____
8. _____
9. _____
10. _____
11. _____
12. _____
13. _____
14. _____
15. _____

- 1) In quale piano cartesiano si trova la forma a (6 ; 5)?
- 2) In quale piano cartesiano si trova la forma a (10 ; 8)?
- 3) In quale piano cartesiano si trova la forma a (9 ; 10)?
- 4) In quale piano cartesiano si trova la forma a (4 ; 8)?
- 5) In quale piano cartesiano si trova la forma a (8 ; 5)?
- 6) In quale piano cartesiano si trova la forma a (10 ; 7)?
- 7) In quale piano cartesiano si trova la forma a (8 ; 6)?
- 8) In quale piano cartesiano si trova la forma a (10 ; 2)?
- 9) In quale piano cartesiano si trova la forma a (2 ; 9)?
- 10) In quale piano cartesiano si trova la forma a (8 ; 9)?
- 11) In quale piano cartesiano si trova la forma a (4 ; 3)?
- 12) In quale piano cartesiano si trova la forma a (2 ; 7)?
- 13) In quale piano cartesiano si trova la forma a (0 ; 0)?
- 14) In quale piano cartesiano si trova la forma a (8 ; 4)?
- 15) In quale piano cartesiano si trova la forma a (9 ; 4)?



Indica a quale piano cartesiano appartengono le forme elencate nelle domande.



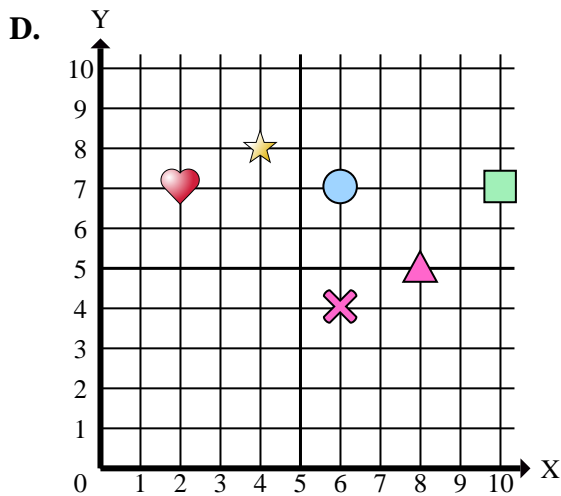
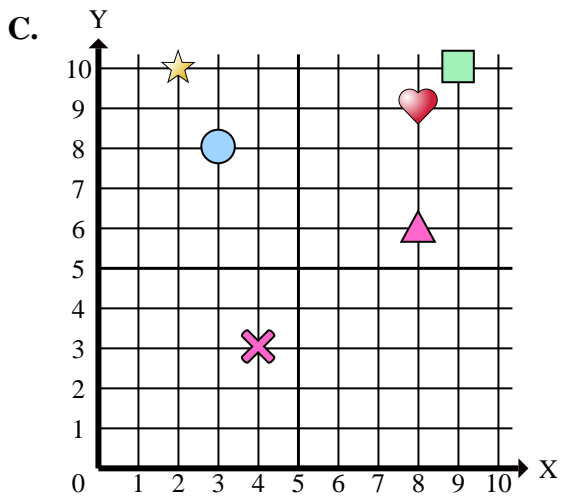
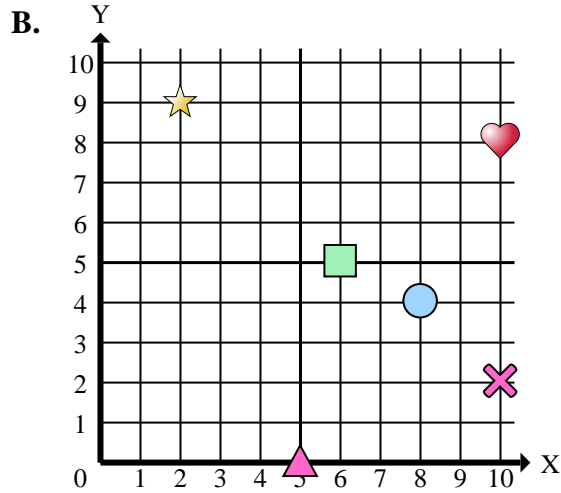
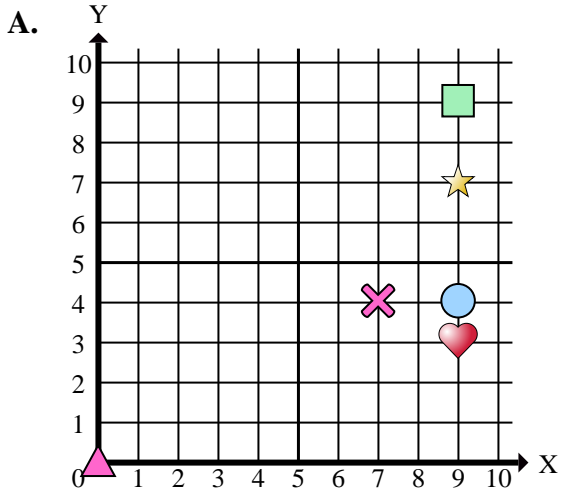
Risposte

1. **B**
2. **B**
3. **C**
4. **D**
5. **D**
6. **D**
7. **C**
8. **B**
9. **B**
10. **C**
11. **C**
12. **D**
13. **A**
14. **B**
15. **A**

- 1) In quale piano cartesiano si trova la forma a (6 ; 5)?
- 2) In quale piano cartesiano si trova la forma a (10 ; 8)?
- 3) In quale piano cartesiano si trova la forma a (9 ; 10)?
- 4) In quale piano cartesiano si trova la forma a (4 ; 8)?
- 5) In quale piano cartesiano si trova la forma a (8 ; 5)?
- 6) In quale piano cartesiano si trova la forma a (10 ; 7)?
- 7) In quale piano cartesiano si trova la forma a (8 ; 6)?
- 8) In quale piano cartesiano si trova la forma a (10 ; 2)?
- 9) In quale piano cartesiano si trova la forma a (2 ; 9)?
- 10) In quale piano cartesiano si trova la forma a (8 ; 9)?
- 11) In quale piano cartesiano si trova la forma a (4 ; 3)?
- 12) In quale piano cartesiano si trova la forma a (2 ; 7)?
- 13) In quale piano cartesiano si trova la forma a (0 ; 0)?
- 14) In quale piano cartesiano si trova la forma a (8 ; 4)?
- 15) In quale piano cartesiano si trova la forma a (9 ; 4)?



Indica a quale piano cartesiano appartengono le forme elencate nelle domande.



Risposte

1. _____
2. _____
3. _____
4. _____
5. _____
6. _____
7. _____
8. _____
9. _____
10. _____

- 1) Quali coordinate piane ha la rectangle a (6 ; 5)?
- 2) Quali coordinate piane ha la heart a (10 ; 8)?
- 3) Quali coordinate piane ha la rectangle a (9 ; 10)?
- 4) Quali coordinate piane ha la star a (4 ; 8)?
- 5) Quali coordinate piane ha la triangle a (8 ; 5)?
- 6) Quali coordinate piane ha la rectangle a (10 ; 7)?
- 7) Quali coordinate piane ha la triangle a (8 ; 6)?
- 8) Quali coordinate piane ha la cross a (10 ; 2)?
- 9) Quali coordinate piane ha la star a (2 ; 9)?
- 10) Quali coordinate piane ha la heart a (8 ; 9)?