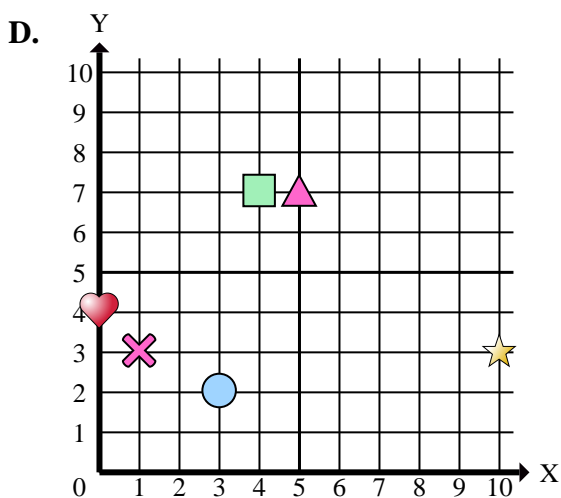
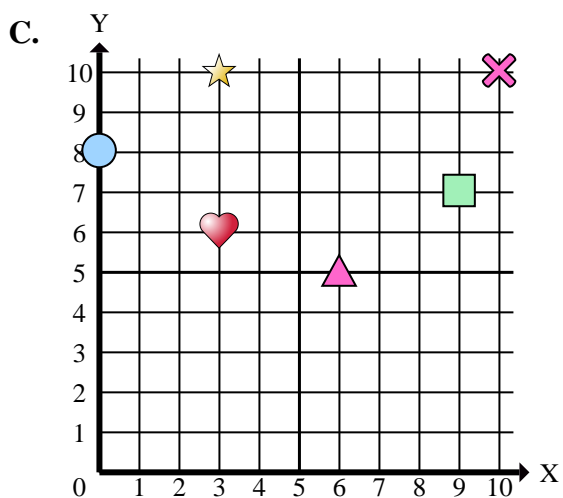
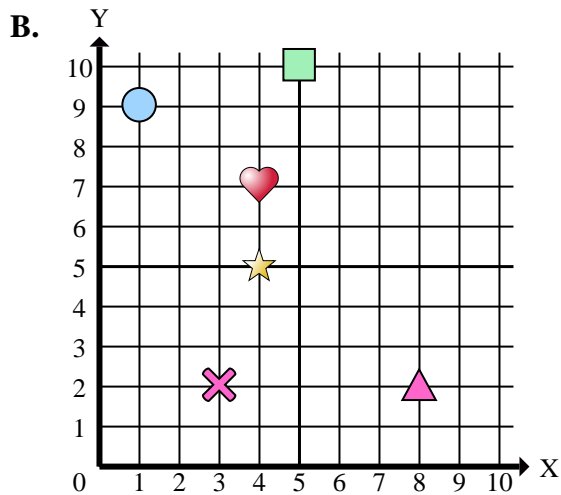
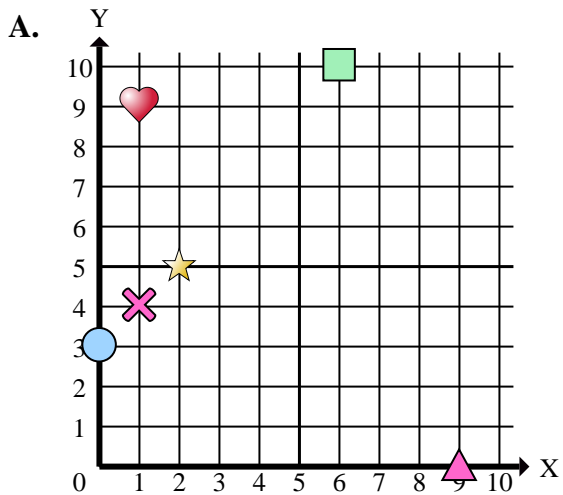




Indica a quale piano cartesiano appartengono le forme elencate nelle domande.



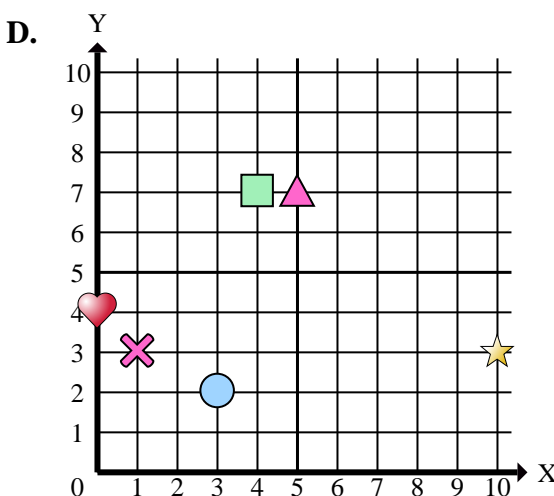
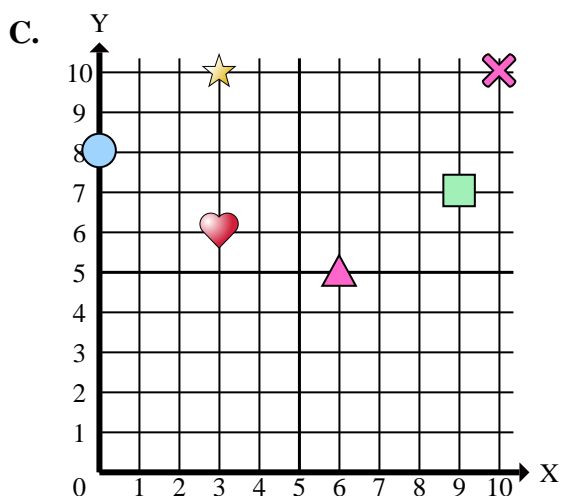
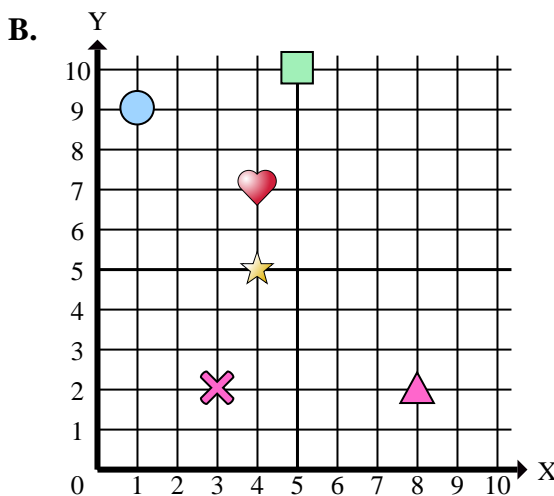
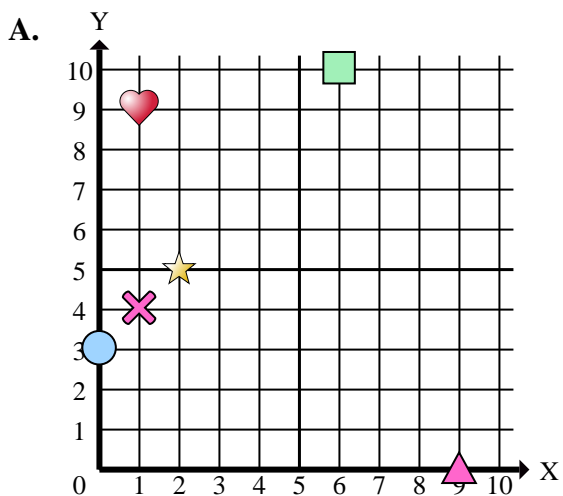
**Risposte**

1. \_\_\_\_\_
2. \_\_\_\_\_
3. \_\_\_\_\_
4. \_\_\_\_\_
5. \_\_\_\_\_
6. \_\_\_\_\_
7. \_\_\_\_\_
8. \_\_\_\_\_
9. \_\_\_\_\_
10. \_\_\_\_\_
11. \_\_\_\_\_
12. \_\_\_\_\_
13. \_\_\_\_\_
14. \_\_\_\_\_
15. \_\_\_\_\_

- 1) In quale piano cartesiano si trova la forma a (2 ; 5)?
- 2) In quale piano cartesiano si trova la forma a (9 ; 0)?
- 3) In quale piano cartesiano si trova la forma a (3 ; 2)?
- 4) In quale piano cartesiano si trova la forma a (4 ; 5)?
- 5) In quale piano cartesiano si trova la forma a (3 ; 2)?
- 6) In quale piano cartesiano si trova la forma a (0 ; 4)?
- 7) In quale piano cartesiano si trova la forma a (9 ; 7)?
- 8) In quale piano cartesiano si trova la forma a (5 ; 10)?
- 9) In quale piano cartesiano si trova la forma a (6 ; 5)?
- 10) In quale piano cartesiano si trova la forma a (4 ; 7)?
- 11) In quale piano cartesiano si trova la forma a (0 ; 8)?
- 12) In quale piano cartesiano si trova la forma a (3 ; 10)?
- 13) In quale piano cartesiano si trova la forma a (1 ; 9)?
- 14) In quale piano cartesiano si trova la forma a (10 ; 3)?
- 15) In quale piano cartesiano si trova la forma a (3 ; 6)?



Indica a quale piano cartesiano appartengono le forme elencate nelle domande.



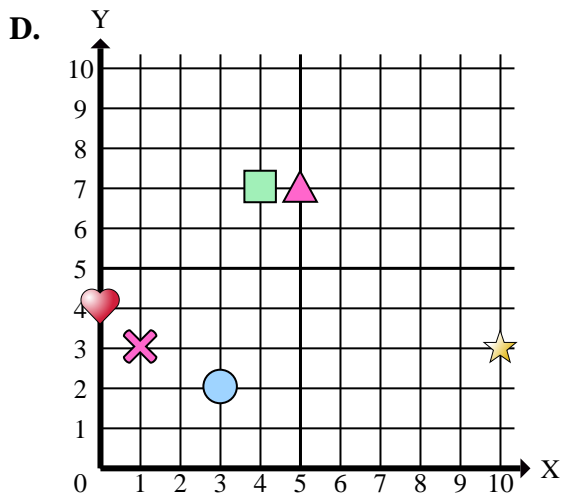
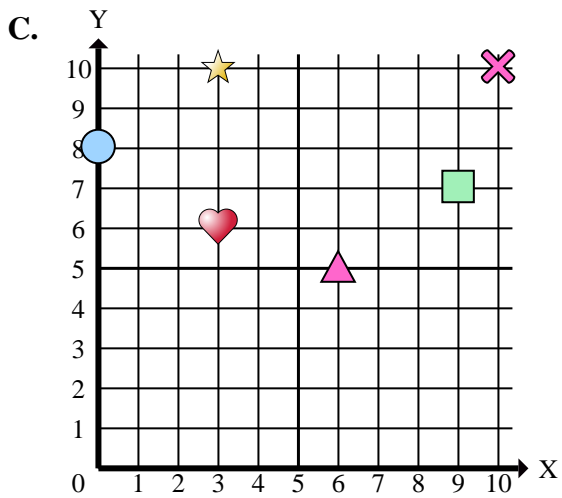
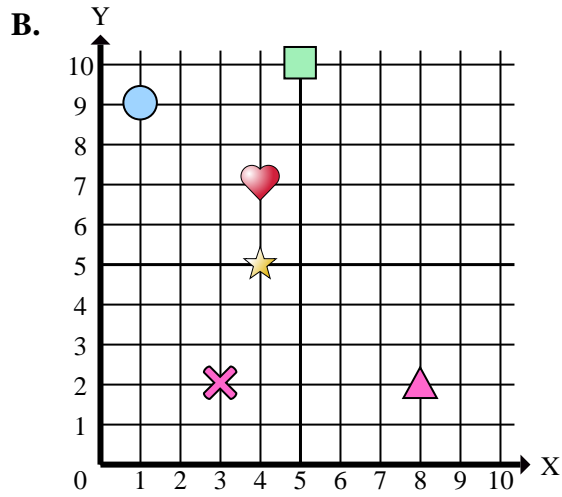
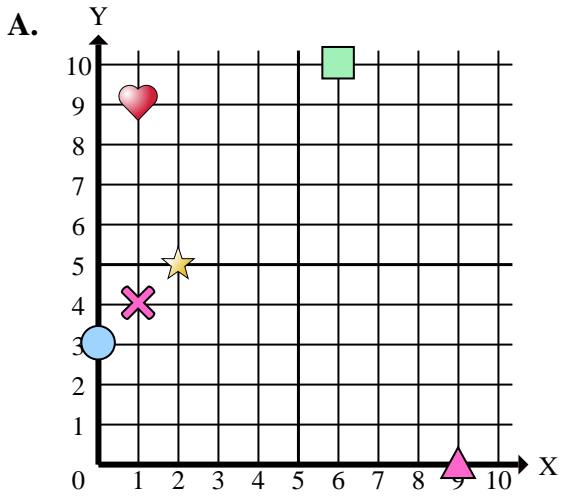
Risposte

1.     **A**
2.     **A**
3.     **D**
4.     **B**
5.     **B**
6.     **D**
7.     **C**
8.     **B**
9.     **C**
10.     **D**
11.     **C**
12.     **C**
13.     **B**
14.     **D**
15.     **C**

- 1) In quale piano cartesiano si trova la forma a (2 ; 5)?
- 2) In quale piano cartesiano si trova la forma a (9 ; 0)?
- 3) In quale piano cartesiano si trova la forma a (3 ; 2)?
- 4) In quale piano cartesiano si trova la forma a (4 ; 5)?
- 5) In quale piano cartesiano si trova la forma a (3 ; 2)?
- 6) In quale piano cartesiano si trova la forma a (0 ; 4)?
- 7) In quale piano cartesiano si trova la forma a (9 ; 7)?
- 8) In quale piano cartesiano si trova la forma a (5 ; 10)?
- 9) In quale piano cartesiano si trova la forma a (6 ; 5)?
- 10) In quale piano cartesiano si trova la forma a (4 ; 7)?
- 11) In quale piano cartesiano si trova la forma a (0 ; 8)?
- 12) In quale piano cartesiano si trova la forma a (3 ; 10)?
- 13) In quale piano cartesiano si trova la forma a (1 ; 9)?
- 14) In quale piano cartesiano si trova la forma a (10 ; 3)?
- 15) In quale piano cartesiano si trova la forma a (3 ; 6)?



Indica a quale piano cartesiano appartengono le forme elencate nelle domande.



Risposte

1. \_\_\_\_\_
2. \_\_\_\_\_
3. \_\_\_\_\_
4. \_\_\_\_\_
5. \_\_\_\_\_
6. \_\_\_\_\_
7. \_\_\_\_\_
8. \_\_\_\_\_
9. \_\_\_\_\_
10. \_\_\_\_\_

- 1) Quali coordinate piane ha la star a (2 ; 5)?
- 2) Quali coordinate piane ha la triangle a (9 ; 0)?
- 3) Quali coordinate piane ha la circle a (3 ; 2)?
- 4) Quali coordinate piane ha la star a (4 ; 5)?
- 5) Quali coordinate piane ha la cross a (3 ; 2)?
- 6) Quali coordinate piane ha la heart a (0 ; 4)?
- 7) Quali coordinate piane ha la rectangle a (9 ; 7)?
- 8) Quali coordinate piane ha la rectangle a (5 ; 10)?
- 9) Quali coordinate piane ha la triangle a (6 ; 5)?
- 10) Quali coordinate piane ha la rectangle a (4 ; 7)?