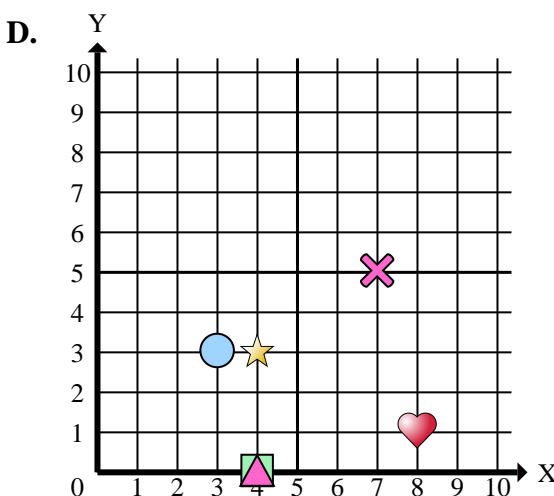
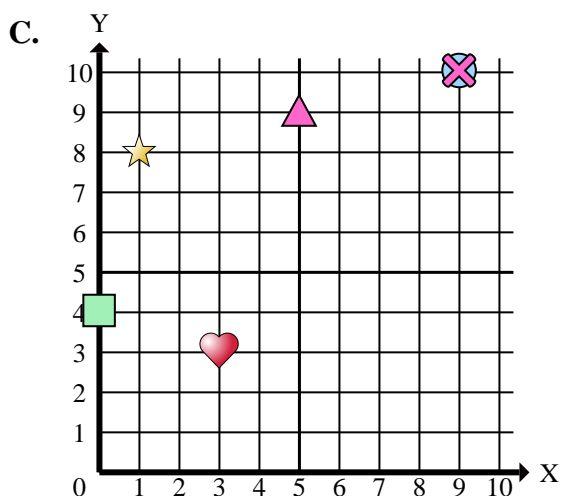
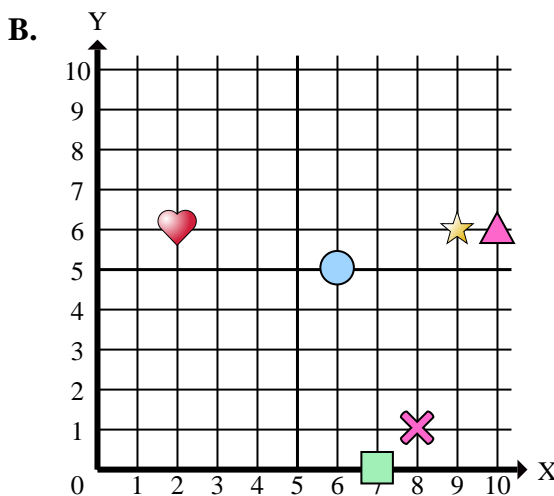
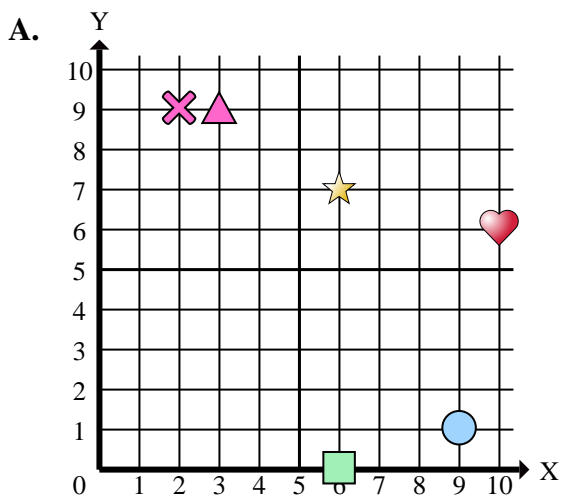




Indica a quale piano cartesiano appartengono le forme elencate nelle domande.



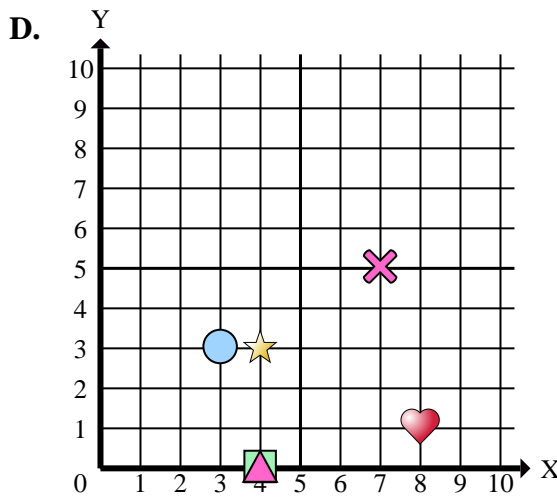
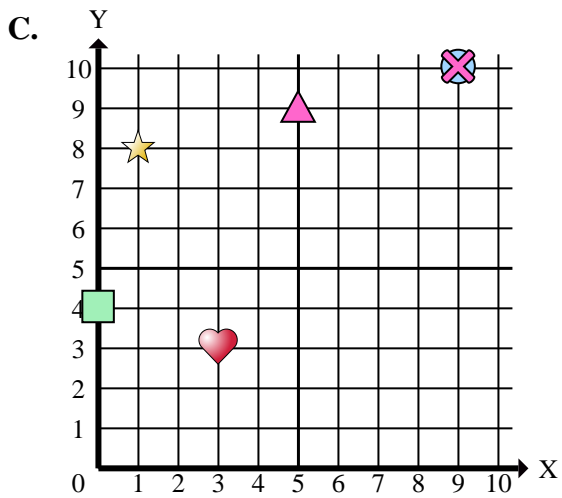
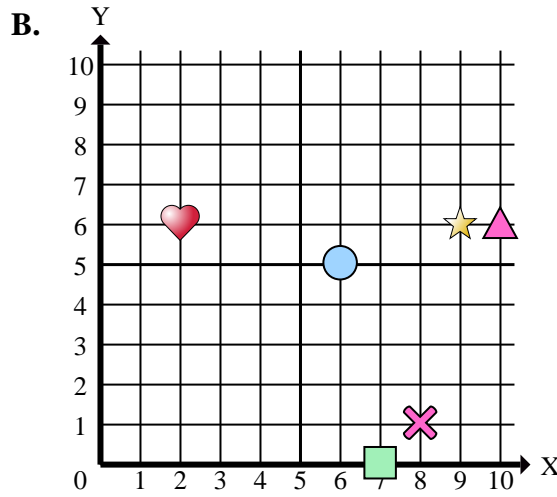
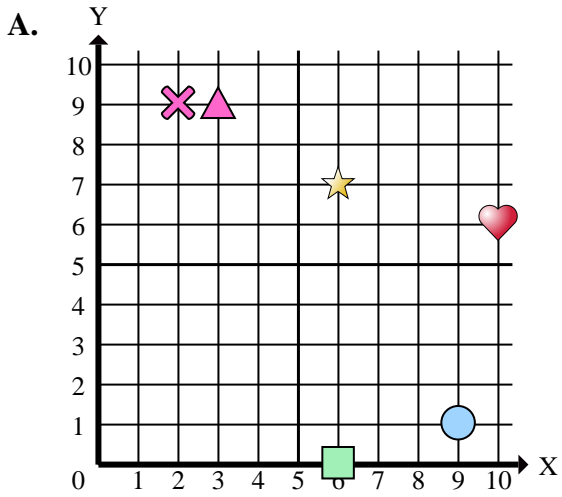
**Risposte**

1. \_\_\_\_\_
2. \_\_\_\_\_
3. \_\_\_\_\_
4. \_\_\_\_\_
5. \_\_\_\_\_
6. \_\_\_\_\_
7. \_\_\_\_\_
8. \_\_\_\_\_
9. \_\_\_\_\_
10. \_\_\_\_\_
11. \_\_\_\_\_
12. \_\_\_\_\_
13. \_\_\_\_\_
14. \_\_\_\_\_
15. \_\_\_\_\_

- 1) In quale piano cartesiano si trova la forma a (3 ; 3)?
- 2) In quale piano cartesiano si trova la forma a (5 ; 9)?
- 3) In quale piano cartesiano si trova la forma a (10 ; 6)?
- 4) In quale piano cartesiano si trova la forma a (10 ; 6)?
- 5) In quale piano cartesiano si trova la forma a (3 ; 9)?
- 6) In quale piano cartesiano si trova la forma a (6 ; 7)?
- 7) In quale piano cartesiano si trova la forma a (0 ; 4)?
- 8) In quale piano cartesiano si trova la forma a (9 ; 10)?
- 9) In quale piano cartesiano si trova la forma a (9 ; 6)?
- 10) In quale piano cartesiano si trova la forma a (1 ; 8)?
- 11) In quale piano cartesiano si trova la forma a (7 ; 0)?
- 12) In quale piano cartesiano si trova la forma a (2 ; 6)?
- 13) In quale piano cartesiano si trova la forma a (9 ; 1)?
- 14) In quale piano cartesiano si trova la forma a (3 ; 3)?
- 15) In quale piano cartesiano si trova la forma a (8 ; 1)?



Indica a quale piano cartesiano appartengono le forme elencate nelle domande.



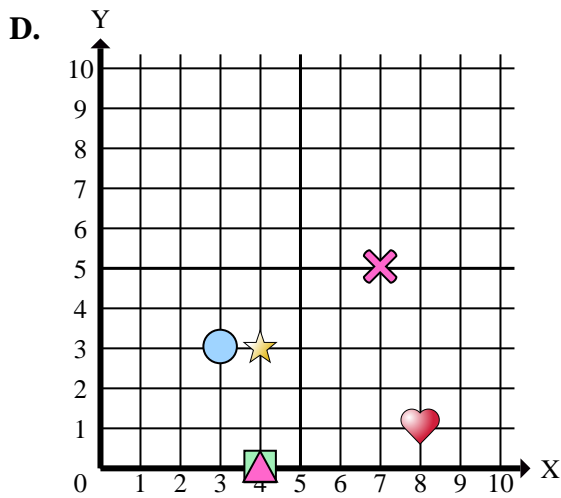
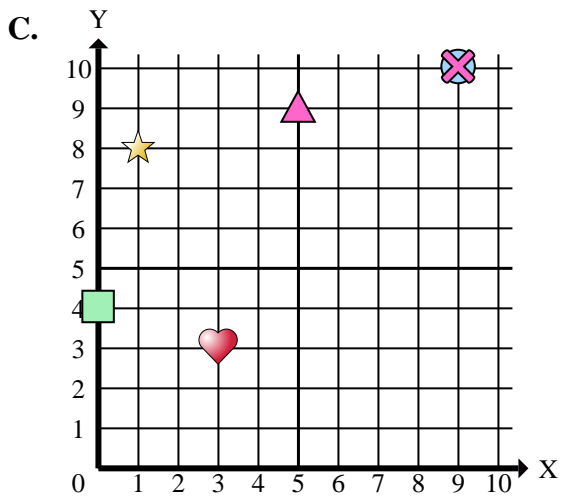
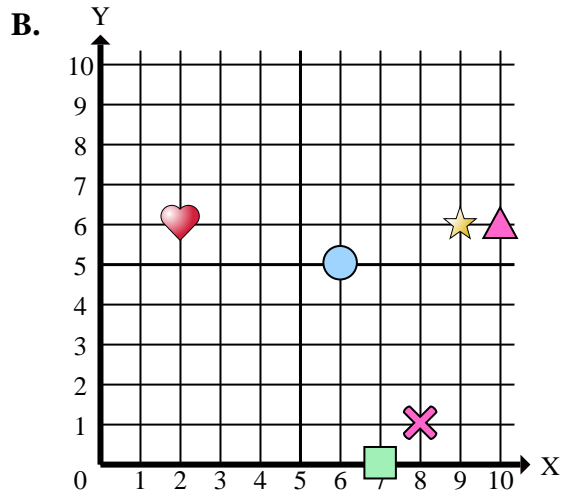
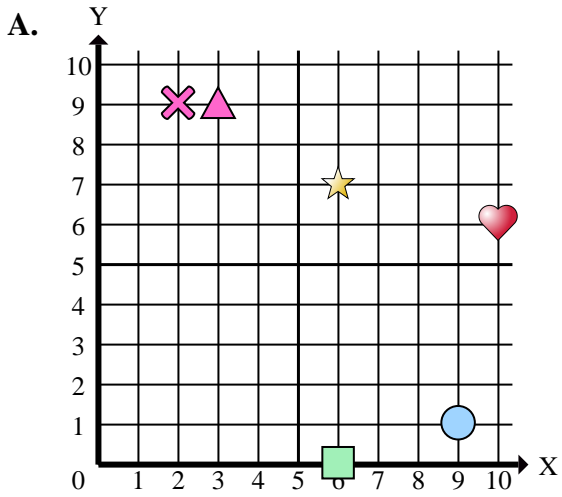
Risposte

1.           **C**
2.           **C**
3.           **B**
4.           **A**
5.           **A**
6.           **A**
7.           **C**
8.           **C**
9.           **B**
10.          **C**
11.          **B**
12.          **B**
13.          **A**
14.          **D**
15.          **D**

- 1) In quale piano cartesiano si trova la forma a (3 ; 3)?
- 2) In quale piano cartesiano si trova la forma a (5 ; 9)?
- 3) In quale piano cartesiano si trova la forma a (10 ; 6)?
- 4) In quale piano cartesiano si trova la forma a (10 ; 6)?
- 5) In quale piano cartesiano si trova la forma a (3 ; 9)?
- 6) In quale piano cartesiano si trova la forma a (6 ; 7)?
- 7) In quale piano cartesiano si trova la forma a (0 ; 4)?
- 8) In quale piano cartesiano si trova la forma a (9 ; 10)?
- 9) In quale piano cartesiano si trova la forma a (9 ; 6)?
- 10) In quale piano cartesiano si trova la forma a (1 ; 8)?
- 11) In quale piano cartesiano si trova la forma a (7 ; 0)?
- 12) In quale piano cartesiano si trova la forma a (2 ; 6)?
- 13) In quale piano cartesiano si trova la forma a (9 ; 1)?
- 14) In quale piano cartesiano si trova la forma a (3 ; 3)?
- 15) In quale piano cartesiano si trova la forma a (8 ; 1)?



Indica a quale piano cartesiano appartengono le forme elencate nelle domande.



Risposte

1. \_\_\_\_\_
2. \_\_\_\_\_
3. \_\_\_\_\_
4. \_\_\_\_\_
5. \_\_\_\_\_
6. \_\_\_\_\_
7. \_\_\_\_\_
8. \_\_\_\_\_
9. \_\_\_\_\_
10. \_\_\_\_\_

- 1) Quali coordinate piane ha la heart a (3 ; 3)?
- 2) Quali coordinate piane ha la triangle a (5 ; 9)?
- 3) Quali coordinate piane ha la triangle a (10 ; 6)?
- 4) Quali coordinate piane ha la heart a (10 ; 6)?
- 5) Quali coordinate piane ha la triangle a (3 ; 9)?
- 6) Quali coordinate piane ha la star a (6 ; 7)?
- 7) Quali coordinate piane ha la rectangle a (0 ; 4)?
- 8) Quali coordinate piane ha la circle a (9 ; 10)?
- 9) Quali coordinate piane ha la star a (9 ; 6)?
- 10) Quali coordinate piane ha la star a (1 ; 8)?