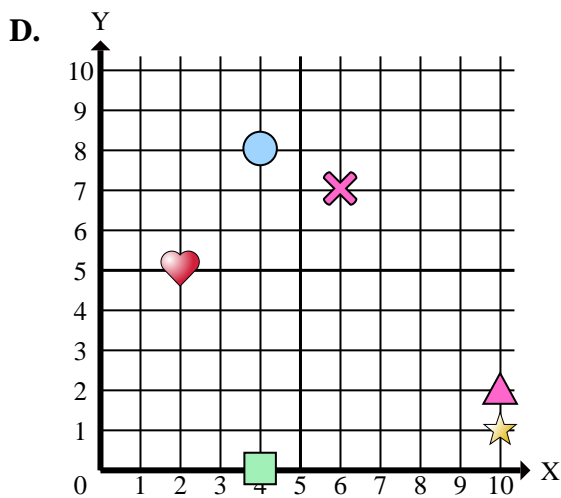
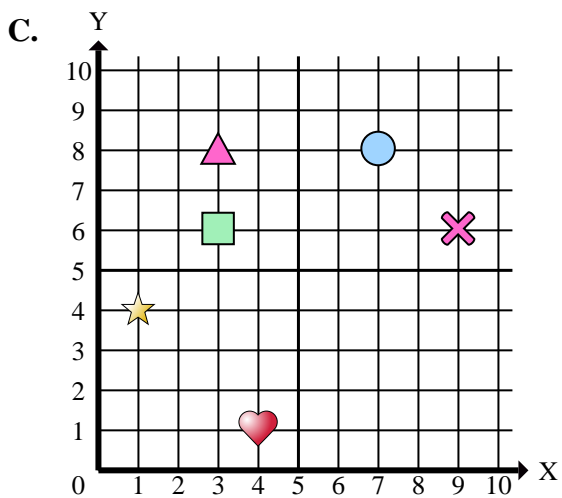
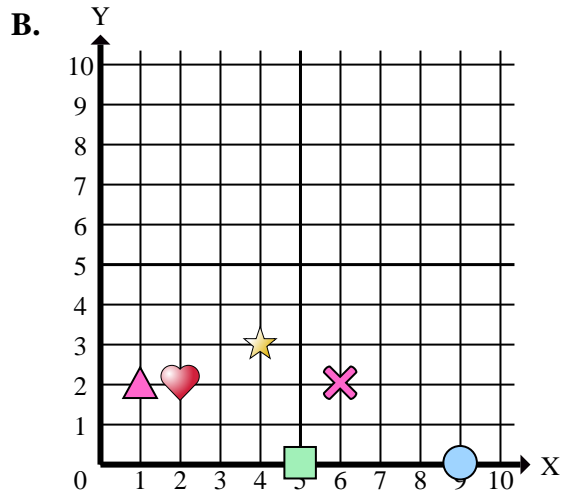
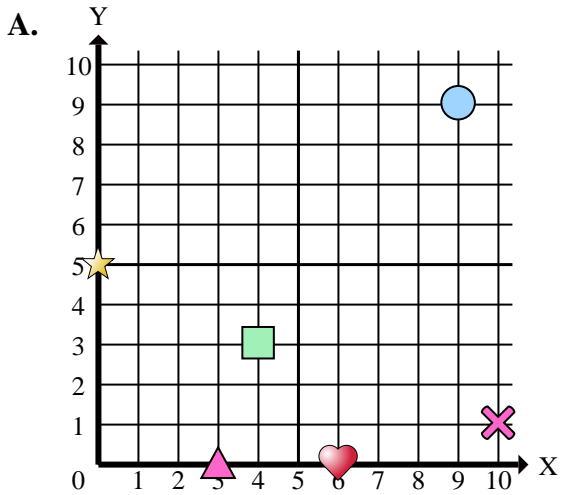




Indica a quale piano cartesiano appartengono le forme elencate nelle domande.



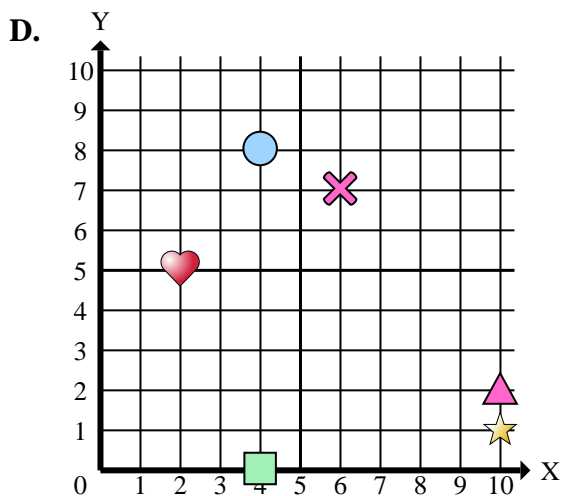
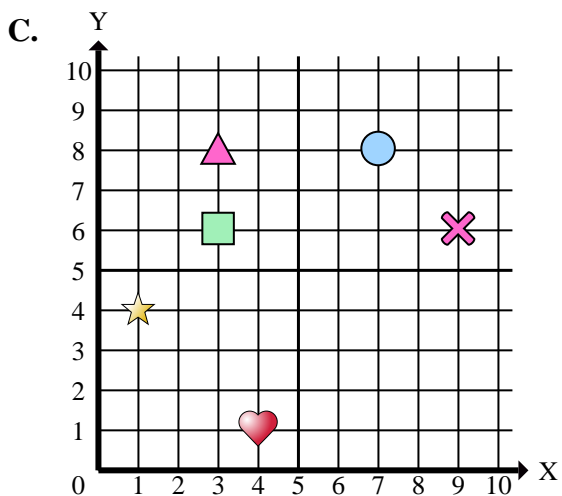
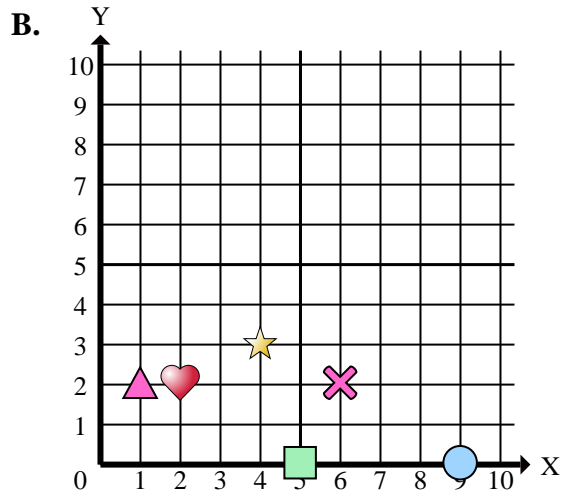
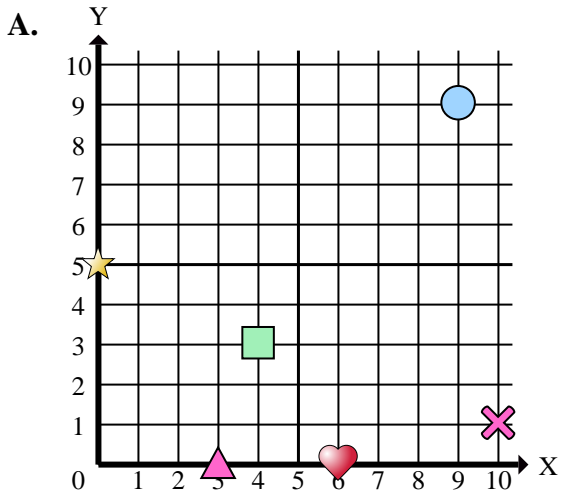
Risposte

1. _____
2. _____
3. _____
4. _____
5. _____
6. _____
7. _____
8. _____
9. _____
10. _____
11. _____
12. _____
13. _____
14. _____
15. _____

- 1) In quale piano cartesiano si trova la forma a (4 ; 1)?
- 2) In quale piano cartesiano si trova la forma a (3 ; 6)?
- 3) In quale piano cartesiano si trova la forma a (6 ; 2)?
- 4) In quale piano cartesiano si trova la forma a (6 ; 0)?
- 5) In quale piano cartesiano si trova la forma a (2 ; 2)?
- 6) In quale piano cartesiano si trova la forma a (9 ; 9)?
- 7) In quale piano cartesiano si trova la forma a (4 ; 3)?
- 8) In quale piano cartesiano si trova la forma a (4 ; 0)?
- 9) In quale piano cartesiano si trova la forma a (5 ; 0)?
- 10) In quale piano cartesiano si trova la forma a (9 ; 0)?
- 11) In quale piano cartesiano si trova la forma a (1 ; 4)?
- 12) In quale piano cartesiano si trova la forma a (7 ; 8)?
- 13) In quale piano cartesiano si trova la forma a (9 ; 6)?
- 14) In quale piano cartesiano si trova la forma a (3 ; 0)?
- 15) In quale piano cartesiano si trova la forma a (1 ; 2)?



Indica a quale piano cartesiano appartengono le forme elencate nelle domande.



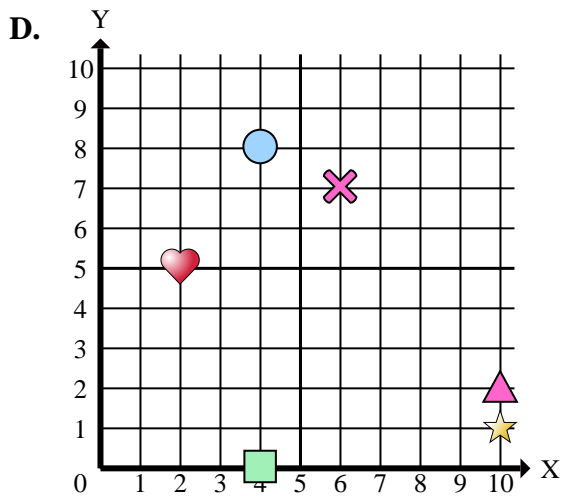
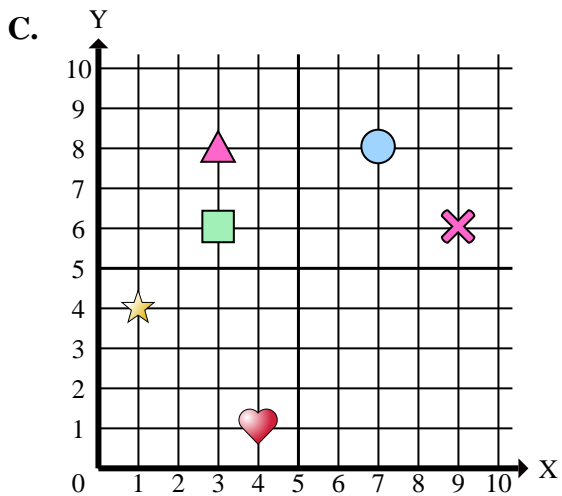
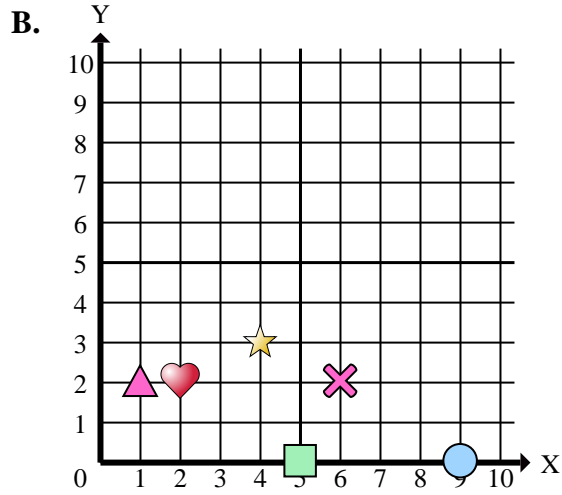
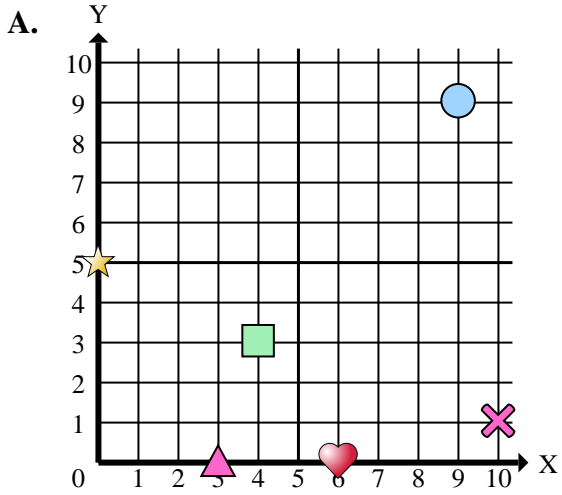
- 1) In quale piano cartesiano si trova la forma a (4 ; 1)?
- 2) In quale piano cartesiano si trova la forma a (3 ; 6)?
- 3) In quale piano cartesiano si trova la forma a (6 ; 2)?
- 4) In quale piano cartesiano si trova la forma a (6 ; 0)?
- 5) In quale piano cartesiano si trova la forma a (2 ; 2)?
- 6) In quale piano cartesiano si trova la forma a (9 ; 9)?
- 7) In quale piano cartesiano si trova la forma a (4 ; 3)?
- 8) In quale piano cartesiano si trova la forma a (4 ; 0)?
- 9) In quale piano cartesiano si trova la forma a (5 ; 0)?
- 10) In quale piano cartesiano si trova la forma a (9 ; 0)?
- 11) In quale piano cartesiano si trova la forma a (1 ; 4)?
- 12) In quale piano cartesiano si trova la forma a (7 ; 8)?
- 13) In quale piano cartesiano si trova la forma a (9 ; 6)?
- 14) In quale piano cartesiano si trova la forma a (3 ; 0)?
- 15) In quale piano cartesiano si trova la forma a (1 ; 2)?

Risposte

1. **C**
2. **C**
3. **B**
4. **A**
5. **B**
6. **A**
7. **A**
8. **D**
9. **B**
10. **B**
11. **C**
12. **C**
13. **C**
14. **A**
15. **B**



Indica a quale piano cartesiano appartengono le forme elencate nelle domande.



Risposte

1. _____
2. _____
3. _____
4. _____
5. _____
6. _____
7. _____
8. _____
9. _____
10. _____

- 1) Quali coordinate piane ha la heart a (4 ; 1)?
- 2) Quali coordinate piane ha la rectangle a (3 ; 6)?
- 3) Quali coordinate piane ha la cross a (6 ; 2)?
- 4) Quali coordinate piane ha la heart a (6 ; 0)?
- 5) Quali coordinate piane ha la heart a (2 ; 2)?
- 6) Quali coordinate piane ha la circle a (9 ; 9)?
- 7) Quali coordinate piane ha la rectangle a (4 ; 3)?
- 8) Quali coordinate piane ha la rectangle a (4 ; 0)?
- 9) Quali coordinate piane ha la rectangle a (5 ; 0)?
- 10) Quali coordinate piane ha la circle a (9 ; 0)?