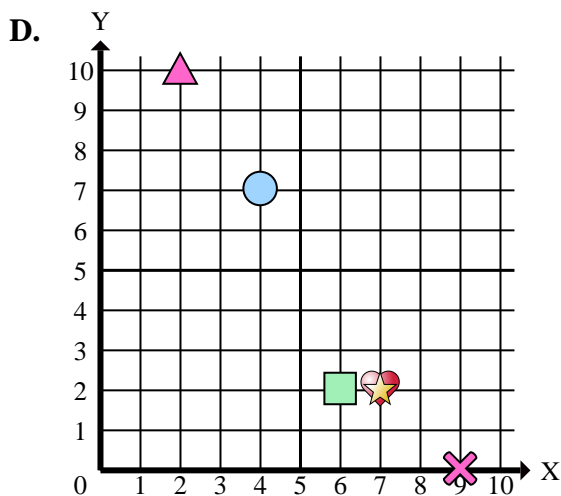
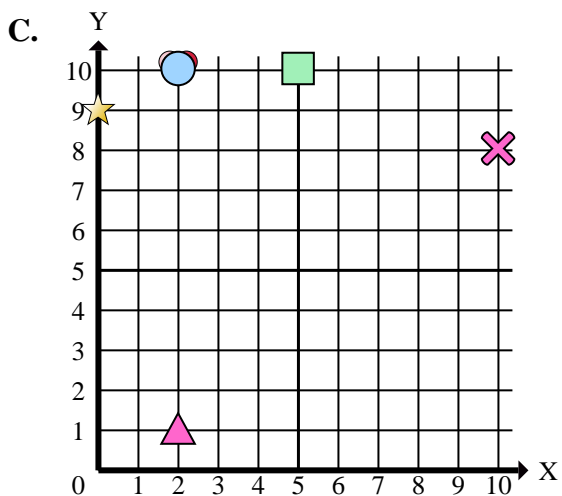
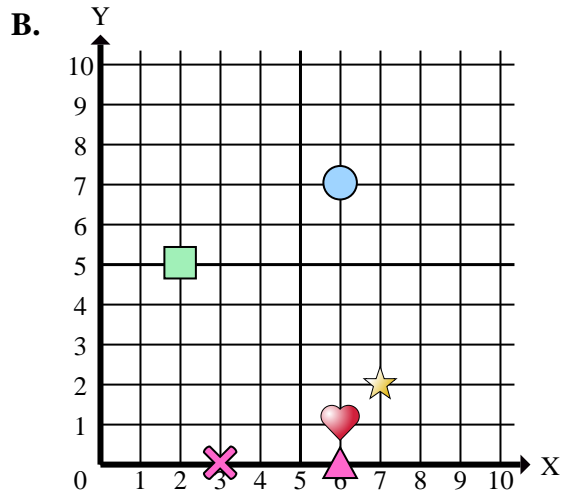
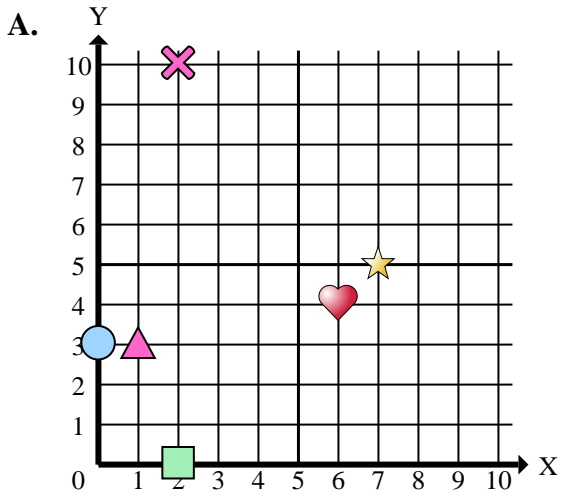




Indica a quale piano cartesiano appartengono le forme elencate nelle domande.



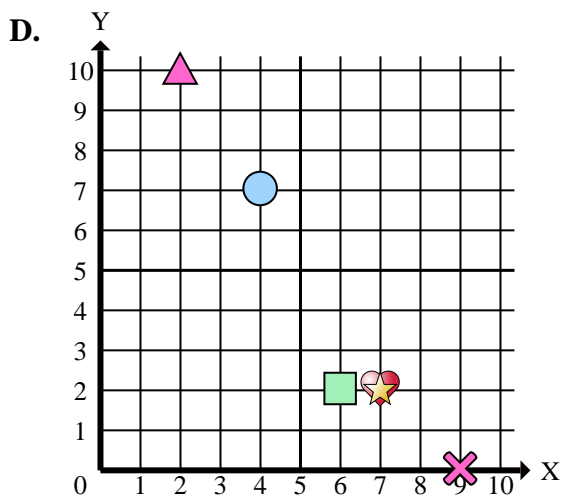
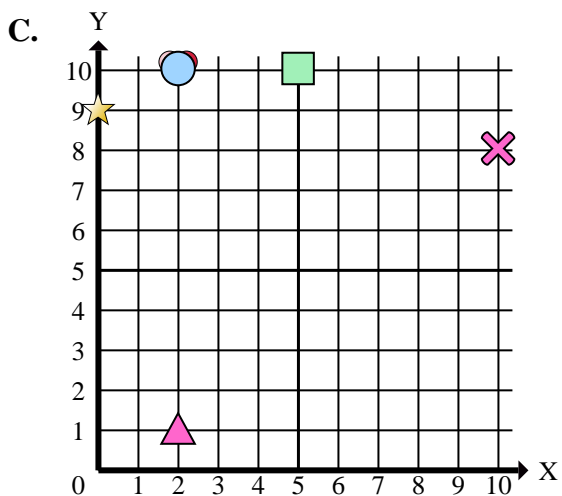
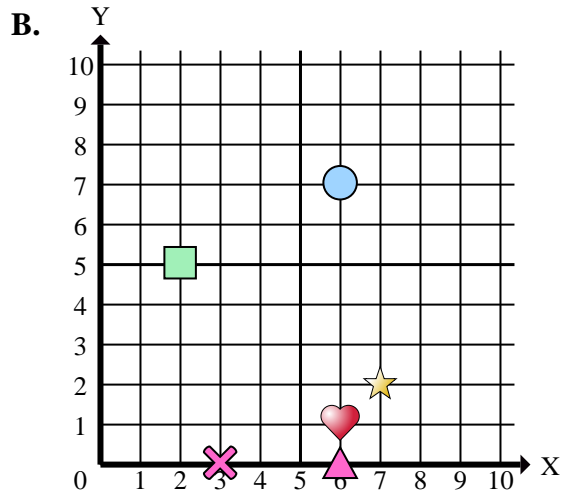
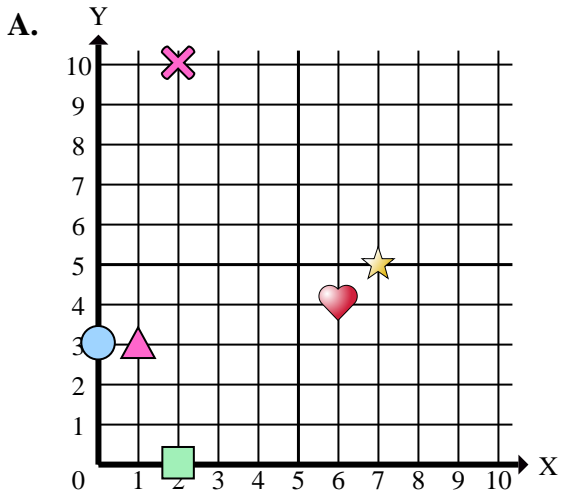
Risposte

1. _____
2. _____
3. _____
4. _____
5. _____
6. _____
7. _____
8. _____
9. _____
10. _____
11. _____
12. _____
13. _____
14. _____
15. _____

- 1) In quale piano cartesiano si trova la forma a (6 ; 0)?
- 2) In quale piano cartesiano si trova la forma a (2 ; 0)?
- 3) In quale piano cartesiano si trova la forma a (6 ; 1)?
- 4) In quale piano cartesiano si trova la forma a (7 ; 5)?
- 5) In quale piano cartesiano si trova la forma a (2 ; 1)?
- 6) In quale piano cartesiano si trova la forma a (5 ; 10)?
- 7) In quale piano cartesiano si trova la forma a (6 ; 4)?
- 8) In quale piano cartesiano si trova la forma a (2 ; 10)?
- 9) In quale piano cartesiano si trova la forma a (2 ; 10)?
- 10) In quale piano cartesiano si trova la forma a (7 ; 2)?
- 11) In quale piano cartesiano si trova la forma a (4 ; 7)?
- 12) In quale piano cartesiano si trova la forma a (2 ; 10)?
- 13) In quale piano cartesiano si trova la forma a (2 ; 5)?
- 14) In quale piano cartesiano si trova la forma a (2 ; 10)?
- 15) In quale piano cartesiano si trova la forma a (9 ; 0)?



Indica a quale piano cartesiano appartengono le forme elencate nelle domande.



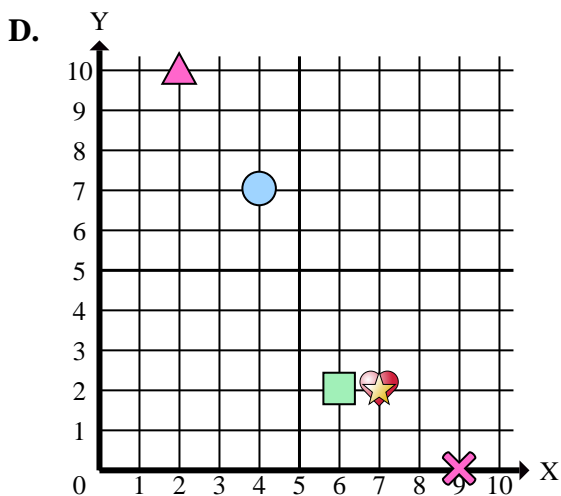
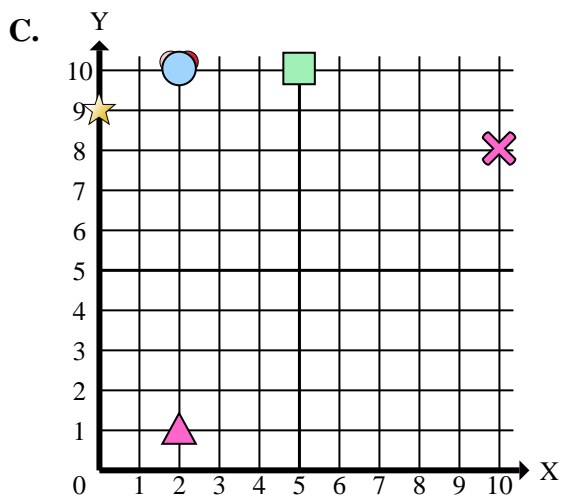
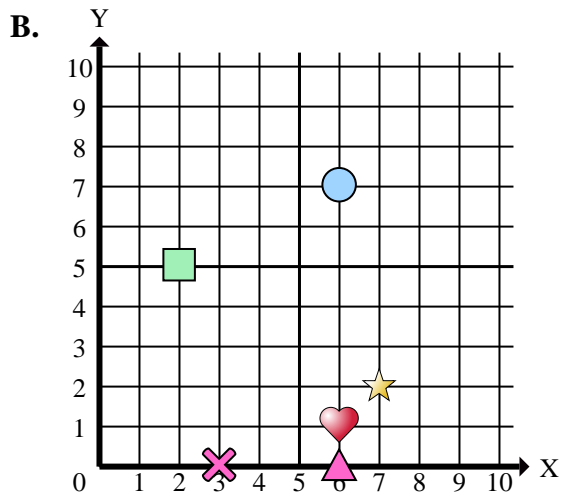
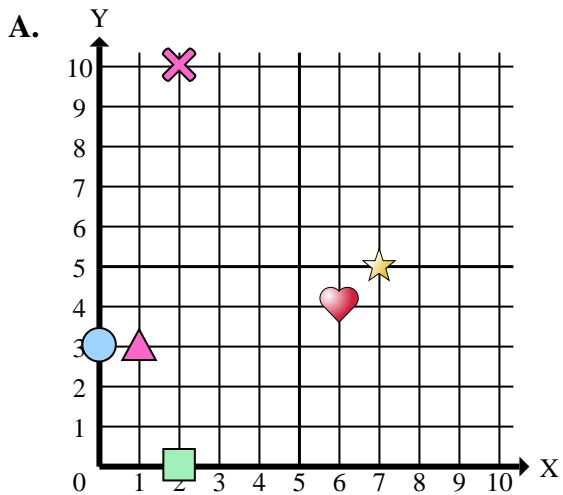
Risposte

1. **B**
2. **A**
3. **B**
4. **A**
5. **C**
6. **C**
7. **A**
8. **D**
9. **A**
10. **D**
11. **D**
12. **C**
13. **B**
14. **C**
15. **D**

- 1) In quale piano cartesiano si trova la forma a (6 ; 0)?
- 2) In quale piano cartesiano si trova la forma a (2 ; 0)?
- 3) In quale piano cartesiano si trova la forma a (6 ; 1)?
- 4) In quale piano cartesiano si trova la forma a (7 ; 5)?
- 5) In quale piano cartesiano si trova la forma a (2 ; 1)?
- 6) In quale piano cartesiano si trova la forma a (5 ; 10)?
- 7) In quale piano cartesiano si trova la forma a (6 ; 4)?
- 8) In quale piano cartesiano si trova la forma a (2 ; 10)?
- 9) In quale piano cartesiano si trova la forma a (2 ; 10)?
- 10) In quale piano cartesiano si trova la forma a (7 ; 2)?
- 11) In quale piano cartesiano si trova la forma a (4 ; 7)?
- 12) In quale piano cartesiano si trova la forma a (2 ; 10)?
- 13) In quale piano cartesiano si trova la forma a (2 ; 5)?
- 14) In quale piano cartesiano si trova la forma a (2 ; 10)?
- 15) In quale piano cartesiano si trova la forma a (9 ; 0)?



Indica a quale piano cartesiano appartengono le forme elencate nelle domande.



Risposte

1. _____
2. _____
3. _____
4. _____
5. _____
6. _____
7. _____
8. _____
9. _____
10. _____

- 1) Quali coordinate piane ha la triangle a (6 ; 0)?
- 2) Quali coordinate piane ha la rectangle a (2 ; 0)?
- 3) Quali coordinate piane ha la heart a (6 ; 1)?
- 4) Quali coordinate piane ha la star a (7 ; 5)?
- 5) Quali coordinate piane ha la triangle a (2 ; 1)?
- 6) Quali coordinate piane ha la rectangle a (5 ; 10)?
- 7) Quali coordinate piane ha la heart a (6 ; 4)?
- 8) Quali coordinate piane ha la triangle a (2 ; 10)?
- 9) Quali coordinate piane ha la cross a (2 ; 10)?
- 10) Quali coordinate piane ha la heart a (7 ; 2)?