

**Risposte**

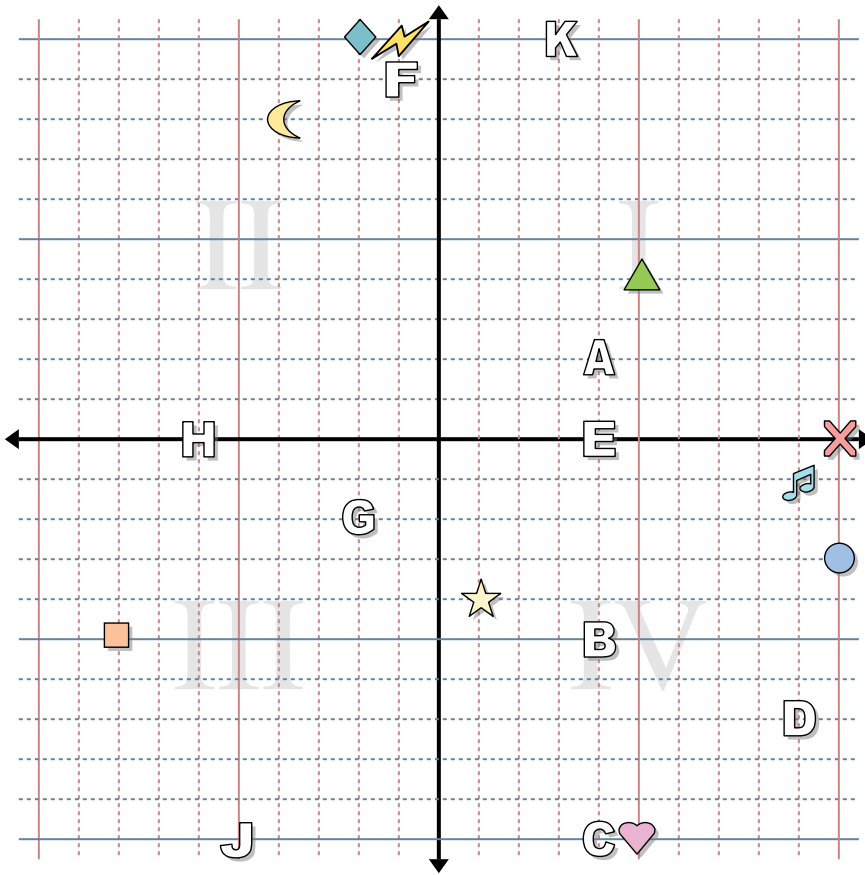
1. \_\_\_\_\_
2. \_\_\_\_\_
3. \_\_\_\_\_
4. \_\_\_\_\_
5. \_\_\_\_\_
6. \_\_\_\_\_
7. \_\_\_\_\_
8. \_\_\_\_\_
9. \_\_\_\_\_
10. \_\_\_\_\_
11. \_\_\_\_\_
12. \_\_\_\_\_
13. \_\_\_\_\_
14. \_\_\_\_\_
15. \_\_\_\_\_
16. \_\_\_\_\_
17. \_\_\_\_\_
18. \_\_\_\_\_
19. \_\_\_\_\_
20. \_\_\_\_\_

Indica le coordinate di ogni figura.

- |             |                   |
|-------------|-------------------|
| 1) Stella   | 2) Fulmine        |
| 3) Cerchio  | 4) Cuore          |
| 5) Croce    | 6) Triangolo      |
| 7) Luna     | 8) Quadrato       |
| 9) Diamante | 10) Nota Musicale |

Indica quale lettera corrisponde a ciascuna coordinata.

- |                |               |
|----------------|---------------|
| 11) (4 ; 0)    | 12) (-1 ; 9)  |
| 13) (-5 ; -10) | 14) (9 ; -7)  |
| 15) (4 ; 2)    | 16) (-6 ; 0)  |
| 17) (4 ; -10)  | 18) (-2 ; -2) |
| 19) (4 ; -5)   | 20) (3 ; 10)  |



**Risposte**

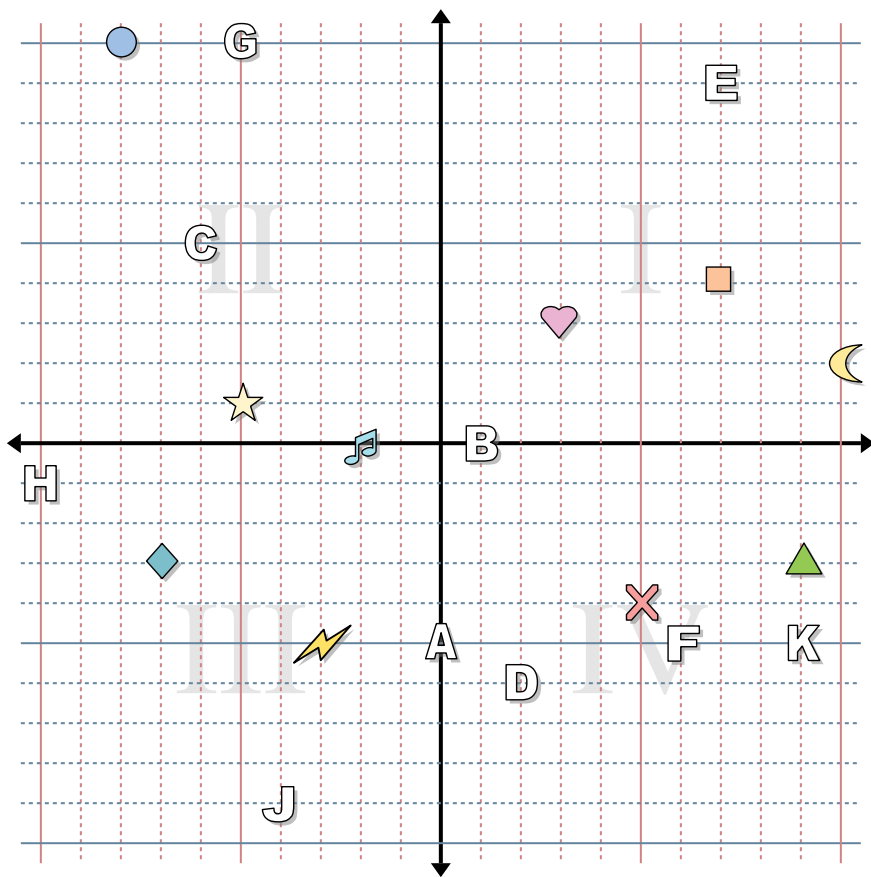
1. (1 ; -4)
2. (-1 ; 10)
3. (10 ; -3)
4. (5 ; -10)
5. (10 ; 0)
6. (5 ; 4)
7. (-4 ; 8)
8. (-8 ; -5)
9. (-2 ; 10)
10. (9 ; -1)
11. E
12. F
13. J
14. D
15. A
16. H
17. C
18. G
19. B
20. K

Indica le coordinate di ogni figura.

- |             |                   |
|-------------|-------------------|
| 1) Stella   | 2) Fulmine        |
| 3) Cerchio  | 4) Cuore          |
| 5) Croce    | 6) Triangolo      |
| 7) Luna     | 8) Quadrato       |
| 9) Diamante | 10) Nota Musicale |

Indica quale lettera corrisponde a ciascuna coordinata.

- |                |               |
|----------------|---------------|
| 11) (4 ; 0)    | 12) (-1 ; 9)  |
| 13) (-5 ; -10) | 14) (9 ; -7)  |
| 15) (4 ; 2)    | 16) (-6 ; 0)  |
| 17) (4 ; -10)  | 18) (-2 ; -2) |
| 19) (4 ; -5)   | 20) (3 ; 10)  |



**Risposte**

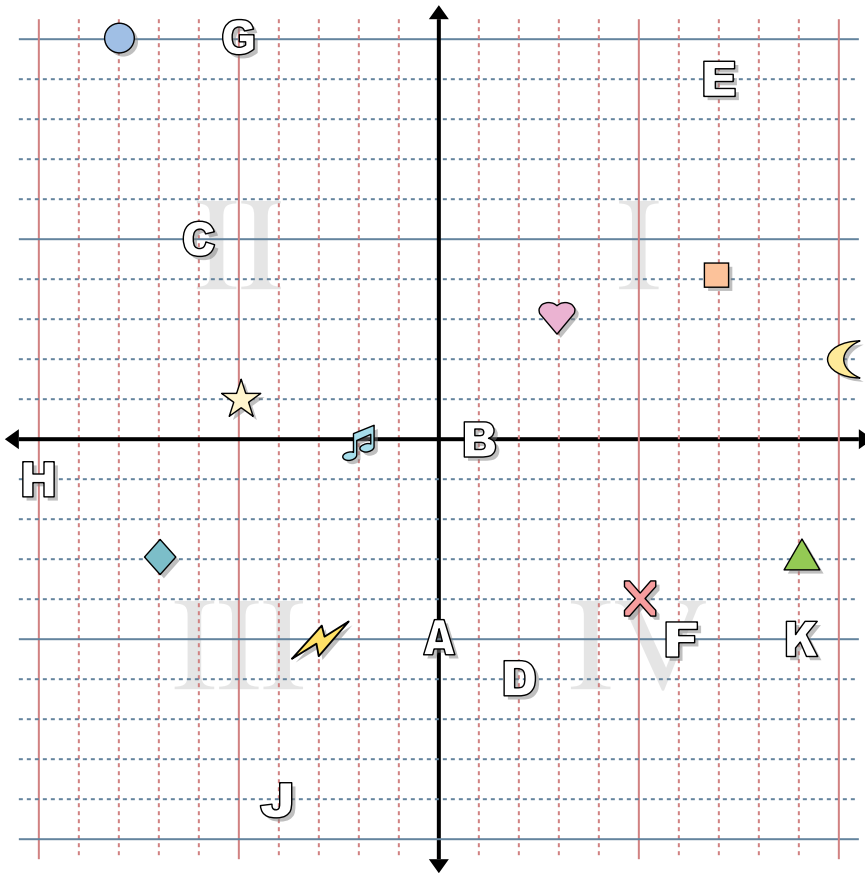
1. \_\_\_\_\_
2. \_\_\_\_\_
3. \_\_\_\_\_
4. \_\_\_\_\_
5. \_\_\_\_\_
6. \_\_\_\_\_
7. \_\_\_\_\_
8. \_\_\_\_\_
9. \_\_\_\_\_
10. \_\_\_\_\_
11. \_\_\_\_\_
12. \_\_\_\_\_
13. \_\_\_\_\_
14. \_\_\_\_\_
15. \_\_\_\_\_
16. \_\_\_\_\_
17. \_\_\_\_\_
18. \_\_\_\_\_
19. \_\_\_\_\_
20. \_\_\_\_\_

Indica le coordinate di ogni figura.

- |             |                   |
|-------------|-------------------|
| 1) Stella   | 2) Fulmine        |
| 3) Cerchio  | 4) Cuore          |
| 5) Croce    | 6) Triangolo      |
| 7) Luna     | 8) Quadrato       |
| 9) Diamante | 10) Nota Musicale |

Indica quale lettera corrisponde a ciascuna coordinata.

- |               |                |
|---------------|----------------|
| 11) (6 ; -5)  | 12) (-4 ; -9)  |
| 13) (7 ; 9)   | 14) (-10 ; -1) |
| 15) (-5 ; 10) | 16) (9 ; -5)   |
| 17) (0 ; -5)  | 18) (-6 ; 5)   |
| 19) (2 ; -6)  | 20) (1 ; 0)    |



Indica le coordinate di ogni figura.

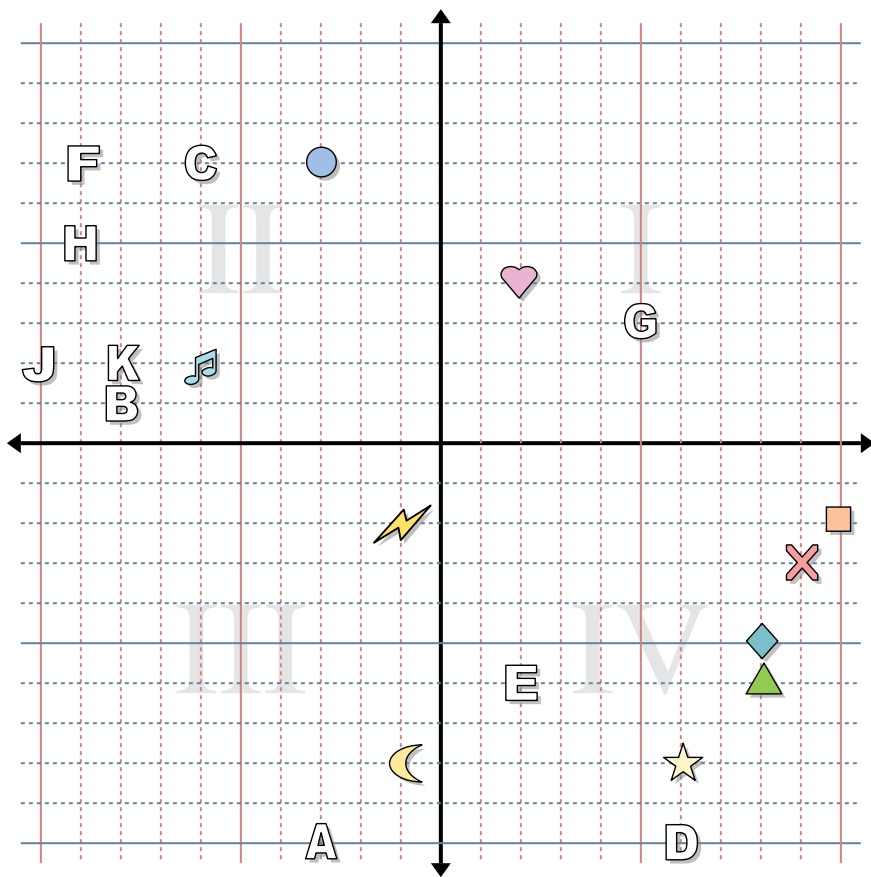
- |             |                   |
|-------------|-------------------|
| 1) Stella   | 2) Fulmine        |
| 3) Cerchio  | 4) Cuore          |
| 5) Croce    | 6) Triangolo      |
| 7) Luna     | 8) Quadrato       |
| 9) Diamante | 10) Nota Musicale |

Indica quale lettera corrisponde a ciascuna coordinata.

- |               |                |
|---------------|----------------|
| 11) (6 ; -5)  | 12) (-4 ; -9)  |
| 13) (7 ; 9)   | 14) (-10 ; -1) |
| 15) (-5 ; 10) | 16) (9 ; -5)   |
| 17) (0 ; -5)  | 18) (-6 ; 5)   |
| 19) (2 ; -6)  | 20) (1 ; 0)    |

**Risposte**

1. **(-5 ; 1)**
2. **(-3 ; -5)**
3. **(-8 ; 10)**
4. **(3 ; 3)**
5. **(5 ; -4)**
6. **(9 ; -3)**
7. **(10 ; 2)**
8. **(7 ; 4)**
9. **(-7 ; -3)**
10. **(-2 ; 0)**
11. **F**
12. **J**
13. **E**
14. **H**
15. **G**
16. **K**
17. **A**
18. **C**
19. **D**
20. **B**



**Risposte**

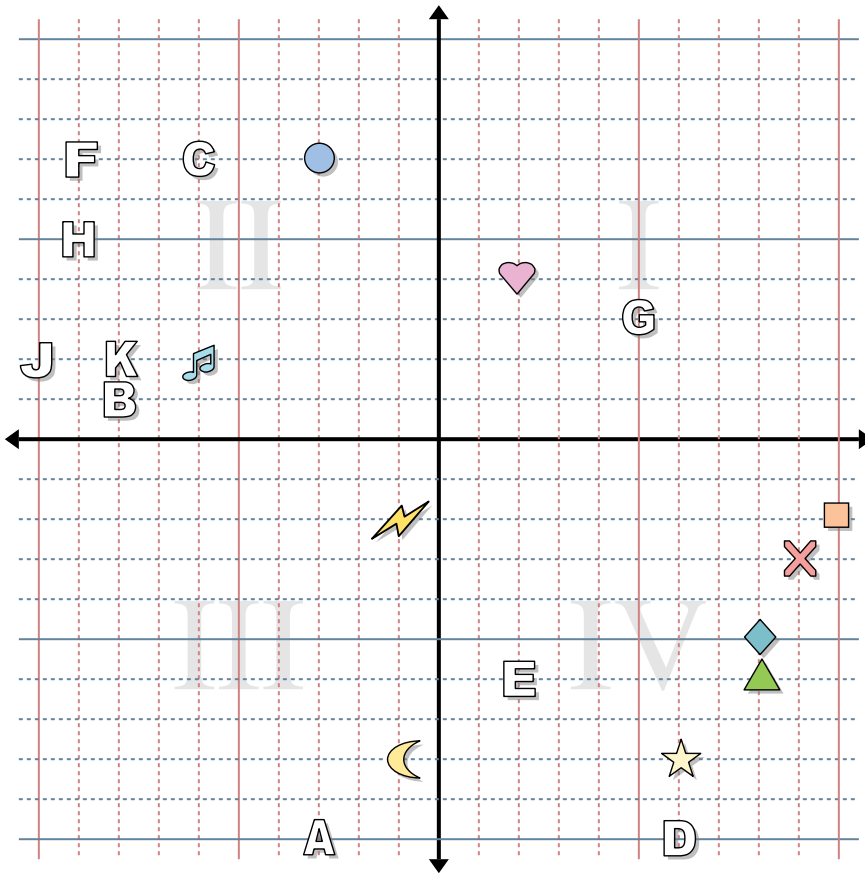
1. \_\_\_\_\_
2. \_\_\_\_\_
3. \_\_\_\_\_
4. \_\_\_\_\_
5. \_\_\_\_\_
6. \_\_\_\_\_
7. \_\_\_\_\_
8. \_\_\_\_\_
9. \_\_\_\_\_
10. \_\_\_\_\_
11. \_\_\_\_\_
12. \_\_\_\_\_
13. \_\_\_\_\_
14. \_\_\_\_\_
15. \_\_\_\_\_
16. \_\_\_\_\_
17. \_\_\_\_\_
18. \_\_\_\_\_
19. \_\_\_\_\_
20. \_\_\_\_\_

Indica le coordinate di ogni figura.

- |             |                   |
|-------------|-------------------|
| 1) Stella   | 2) Fulmine        |
| 3) Cerchio  | 4) Cuore          |
| 5) Croce    | 6) Triangolo      |
| 7) Luna     | 8) Quadrato       |
| 9) Diamante | 10) Nota Musicale |

Indica quale lettera corrisponde a ciascuna coordinata.

- |               |                |
|---------------|----------------|
| 11) (5 ; 3)   | 12) (-9 ; 7)   |
| 13) (-8 ; 1)  | 14) (-6 ; 7)   |
| 15) (-8 ; 2)  | 16) (6 ; -10)  |
| 17) (-10 ; 2) | 18) (-3 ; -10) |
| 19) (2 ; -6)  | 20) (-9 ; 5)   |



**Risposte**

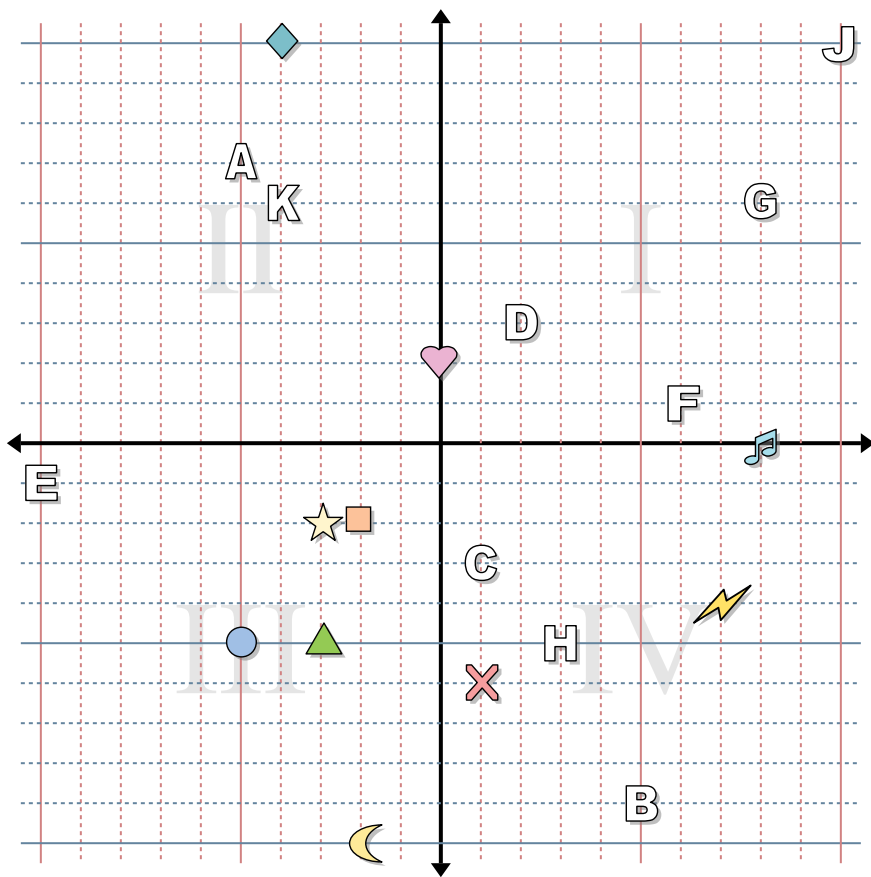
1. (6 ; -8)
2. (-1 ; -2)
3. (-3 ; 7)
4. (2 ; 4)
5. (9 ; -3)
6. (8 ; -6)
7. (-1 ; -8)
8. (10 ; -2)
9. (8 ; -5)
10. (-6 ; 2)
11. G
12. F
13. B
14. C
15. K
16. D
17. J
18. A
19. E
20. H

Indica le coordinate di ogni figura.

- |             |                   |
|-------------|-------------------|
| 1) Stella   | 2) Fulmine        |
| 3) Cerchio  | 4) Cuore          |
| 5) Croce    | 6) Triangolo      |
| 7) Luna     | 8) Quadrato       |
| 9) Diamante | 10) Nota Musicale |

Indica quale lettera corrisponde a ciascuna coordinata.

- |               |                |
|---------------|----------------|
| 11) (5 ; 3)   | 12) (-9 ; 7)   |
| 13) (-8 ; 1)  | 14) (-6 ; 7)   |
| 15) (-8 ; 2)  | 16) (6 ; -10)  |
| 17) (-10 ; 2) | 18) (-3 ; -10) |
| 19) (2 ; -6)  | 20) (-9 ; 5)   |



**Risposte**

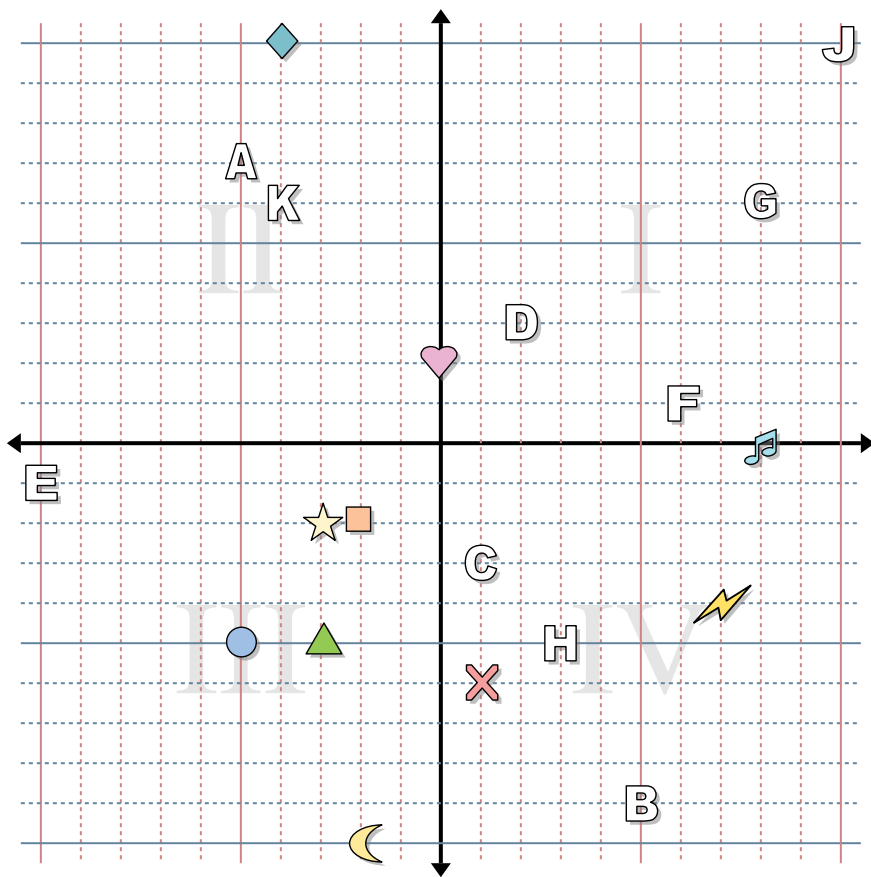
1. \_\_\_\_\_
2. \_\_\_\_\_
3. \_\_\_\_\_
4. \_\_\_\_\_
5. \_\_\_\_\_
6. \_\_\_\_\_
7. \_\_\_\_\_
8. \_\_\_\_\_
9. \_\_\_\_\_
10. \_\_\_\_\_
11. \_\_\_\_\_
12. \_\_\_\_\_
13. \_\_\_\_\_
14. \_\_\_\_\_
15. \_\_\_\_\_
16. \_\_\_\_\_
17. \_\_\_\_\_
18. \_\_\_\_\_
19. \_\_\_\_\_
20. \_\_\_\_\_

Indica le coordinate di ogni figura.

- |             |                   |
|-------------|-------------------|
| 1) Stella   | 2) Fulmine        |
| 3) Cerchio  | 4) Cuore          |
| 5) Croce    | 6) Triangolo      |
| 7) Luna     | 8) Quadrato       |
| 9) Diamante | 10) Nota Musicale |

Indica quale lettera corrisponde a ciascuna coordinata.

- |               |                |
|---------------|----------------|
| 11) (10 ; 10) | 12) (2 ; 3)    |
| 13) (3 ; -5)  | 14) (-4 ; 6)   |
| 15) (-5 ; 7)  | 16) (8 ; 6)    |
| 17) (1 ; -3)  | 18) (6 ; 1)    |
| 19) (5 ; -9)  | 20) (-10 ; -1) |



**Risposte**

1. **(-3 ; -2)**
2. **(7 ; -4)**
3. **(-5 ; -5)**
4. **(0 ; 2)**
5. **(1 ; -6)**
6. **(-3 ; -5)**
7. **(-2 ; -10)**
8. **(-2 ; -2)**
9. **(-4 ; 10)**
10. **(8 ; 0)**
11. **J**
12. **D**
13. **H**
14. **K**
15. **A**
16. **G**
17. **C**
18. **F**
19. **B**
20. **E**

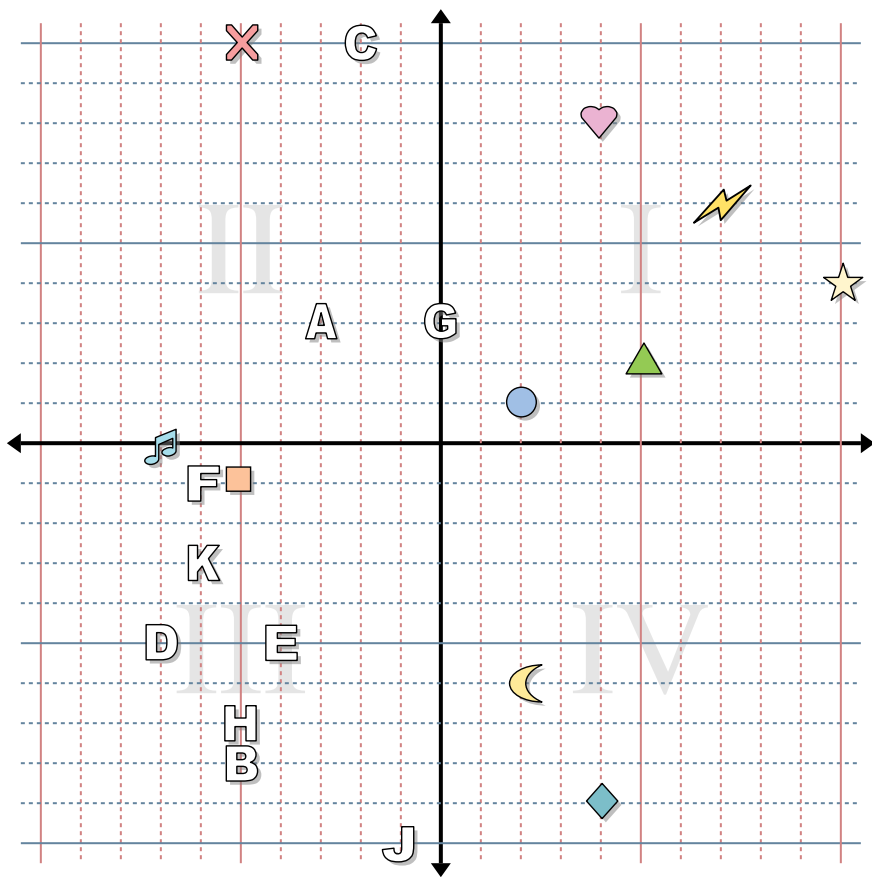
Indica le coordinate di ogni figura.

- |             |                   |
|-------------|-------------------|
| 1) Stella   | 2) Fulmine        |
| 3) Cerchio  | 4) Cuore          |
| 5) Croce    | 6) Triangolo      |
| 7) Luna     | 8) Quadrato       |
| 9) Diamante | 10) Nota Musicale |

Indica quale lettera corrisponde a ciascuna coordinata.

- |               |                |
|---------------|----------------|
| 11) (10 ; 10) | 12) (2 ; 3)    |
| 13) (3 ; -5)  | 14) (-4 ; 6)   |
| 15) (-5 ; 7)  | 16) (8 ; 6)    |
| 17) (1 ; -3)  | 18) (6 ; 1)    |
| 19) (5 ; -9)  | 20) (-10 ; -1) |





**Risposte**

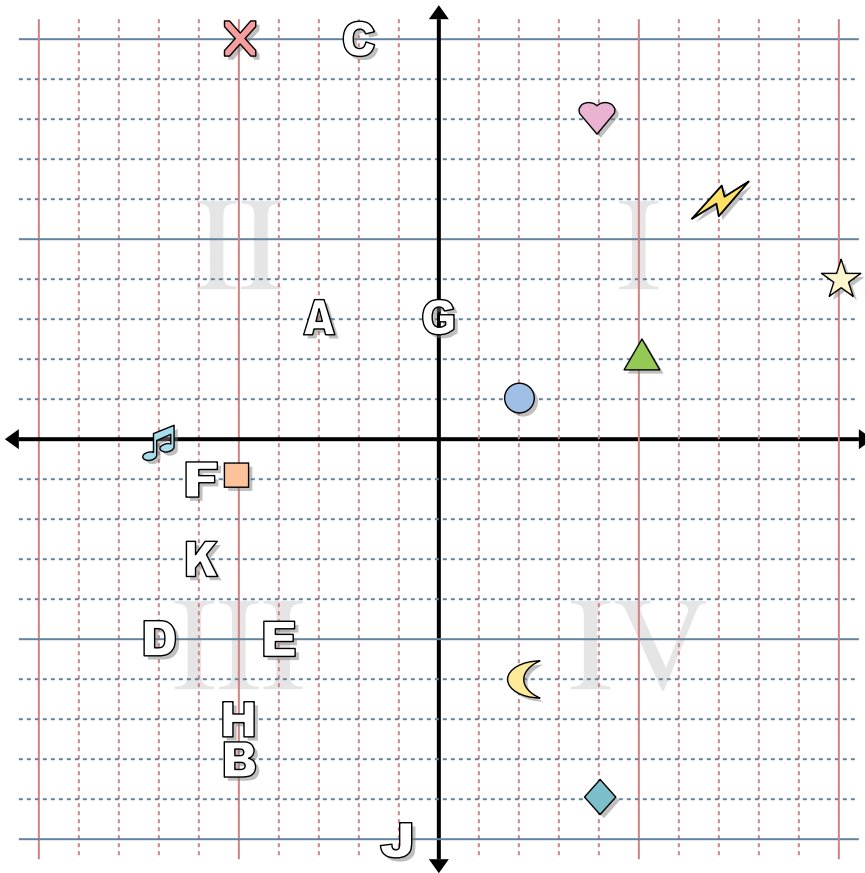
1. \_\_\_\_\_
2. \_\_\_\_\_
3. \_\_\_\_\_
4. \_\_\_\_\_
5. \_\_\_\_\_
6. \_\_\_\_\_
7. \_\_\_\_\_
8. \_\_\_\_\_
9. \_\_\_\_\_
10. \_\_\_\_\_
11. \_\_\_\_\_
12. \_\_\_\_\_
13. \_\_\_\_\_
14. \_\_\_\_\_
15. \_\_\_\_\_
16. \_\_\_\_\_
17. \_\_\_\_\_
18. \_\_\_\_\_
19. \_\_\_\_\_
20. \_\_\_\_\_

Indica le coordinate di ogni figura.

- |             |                   |
|-------------|-------------------|
| 1) Stella   | 2) Fulmine        |
| 3) Cerchio  | 4) Cuore          |
| 5) Croce    | 6) Triangolo      |
| 7) Luna     | 8) Quadrato       |
| 9) Diamante | 10) Nota Musicale |

Indica quale lettera corrisponde a ciascuna coordinata.

- |               |                |
|---------------|----------------|
| 11) (-2 ; 10) | 12) (-1 ; -10) |
| 13) (-5 ; -7) | 14) (-4 ; -5)  |
| 15) (-7 ; -5) | 16) (-3 ; 3)   |
| 17) (-6 ; -1) | 18) (0 ; 3)    |
| 19) (-6 ; -3) | 20) (-5 ; -8)  |



**Risposte**

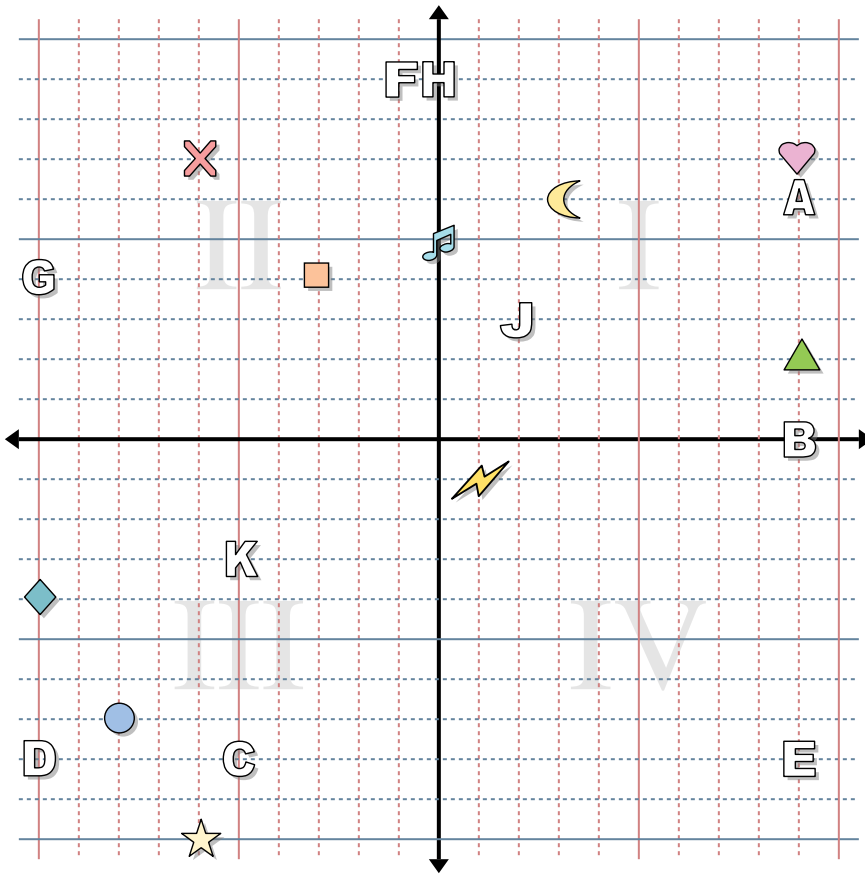
1. (10 ; 4)
2. (7 ; 6)
3. (2 ; 1)
4. (4 ; 8)
5. (-5 ; 10)
6. (5 ; 2)
7. (2 ; -6)
8. (-5 ; -1)
9. (4 ; -9)
10. (-7 ; 0)
11. C
12. J
13. H
14. E
15. D
16. A
17. F
18. G
19. K
20. B

Indica le coordinate di ogni figura.

- |             |                   |
|-------------|-------------------|
| 1) Stella   | 2) Fulmine        |
| 3) Cerchio  | 4) Cuore          |
| 5) Croce    | 6) Triangolo      |
| 7) Luna     | 8) Quadrato       |
| 9) Diamante | 10) Nota Musicale |

Indica quale lettera corrisponde a ciascuna coordinata.

- |               |                |
|---------------|----------------|
| 11) (-2 ; 10) | 12) (-1 ; -10) |
| 13) (-5 ; -7) | 14) (-4 ; -5)  |
| 15) (-7 ; -5) | 16) (-3 ; 3)   |
| 17) (-6 ; -1) | 18) (0 ; 3)    |
| 19) (-6 ; -3) | 20) (-5 ; -8)  |



**Risposte**

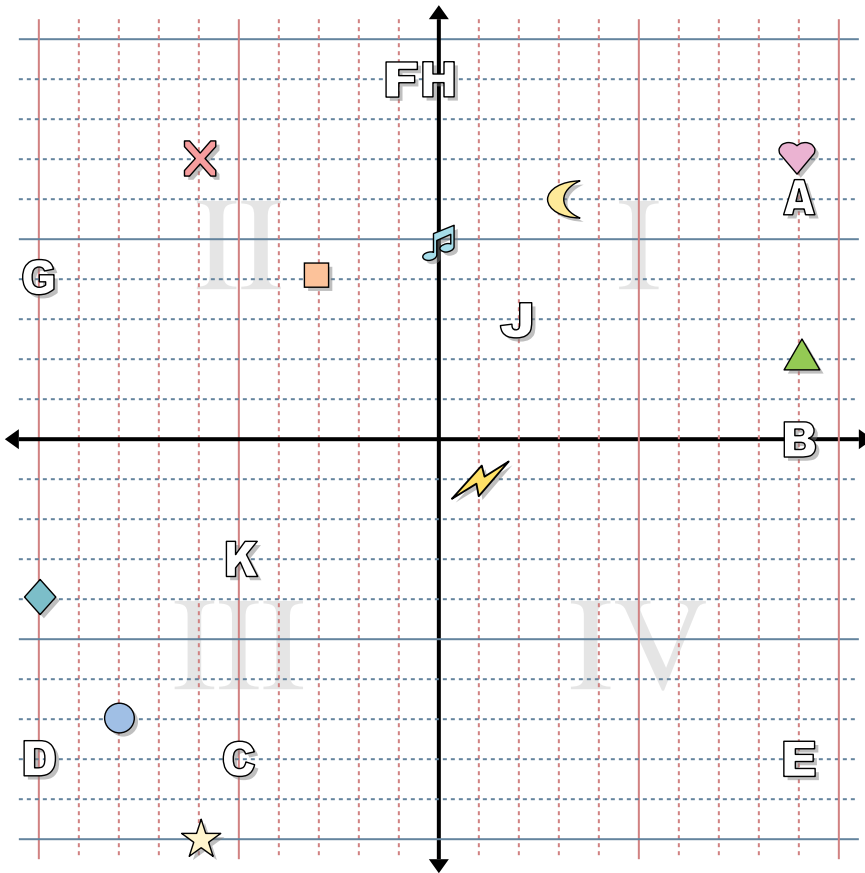
1. \_\_\_\_\_
2. \_\_\_\_\_
3. \_\_\_\_\_
4. \_\_\_\_\_
5. \_\_\_\_\_
6. \_\_\_\_\_
7. \_\_\_\_\_
8. \_\_\_\_\_
9. \_\_\_\_\_
10. \_\_\_\_\_
11. \_\_\_\_\_
12. \_\_\_\_\_
13. \_\_\_\_\_
14. \_\_\_\_\_
15. \_\_\_\_\_
16. \_\_\_\_\_
17. \_\_\_\_\_
18. \_\_\_\_\_
19. \_\_\_\_\_
20. \_\_\_\_\_

Indica le coordinate di ogni figura.

- |             |                   |
|-------------|-------------------|
| 1) Stella   | 2) Fulmine        |
| 3) Cerchio  | 4) Cuore          |
| 5) Croce    | 6) Triangolo      |
| 7) Luna     | 8) Quadrato       |
| 9) Diamante | 10) Nota Musicale |

Indica quale lettera corrisponde a ciascuna coordinata.

- |               |                |
|---------------|----------------|
| 11) (-5 ; -3) | 12) (9 ; -8)   |
| 13) (2 ; 3)   | 14) (9 ; 6)    |
| 15) (-1 ; 9)  | 16) (9 ; 0)    |
| 17) (0 ; 9)   | 18) (-5 ; -8)  |
| 19) (-10 ; 4) | 20) (-10 ; -8) |



**Risposte**

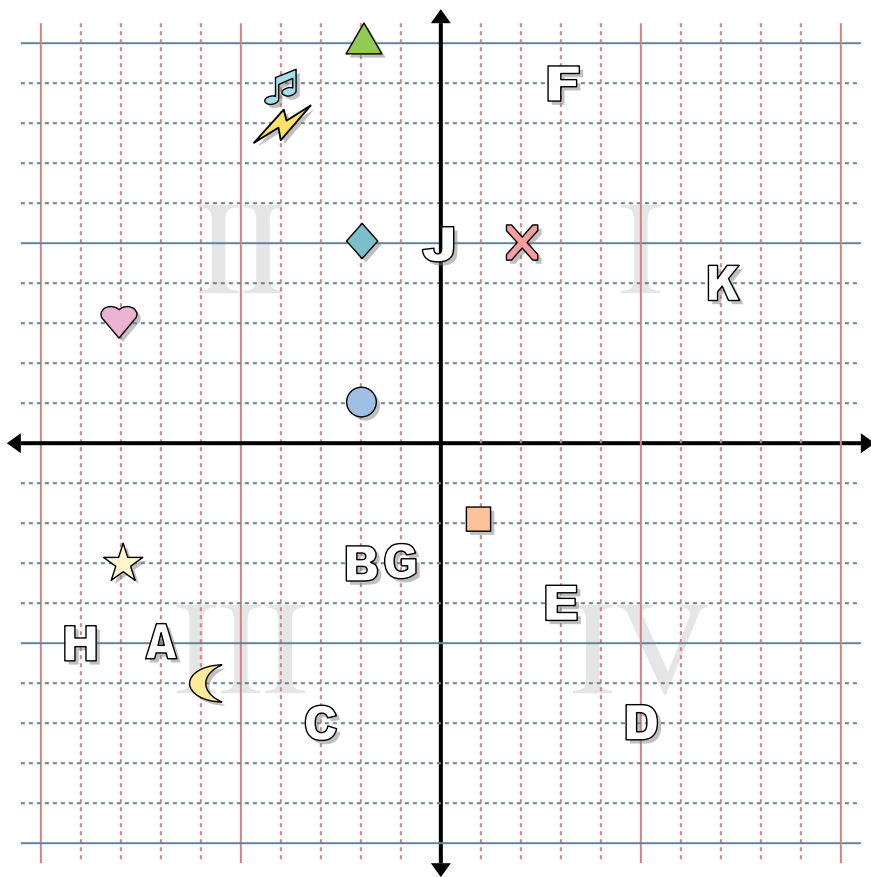
1. **(-6 ; -10)**
2. **(1 ; -1)**
3. **(-8 ; -7)**
4. **(9 ; 7)**
5. **(-6 ; 7)**
6. **(9 ; 2)**
7. **(3 ; 6)**
8. **(-3 ; 4)**
9. **(-10 ; -4)**
10. **(0 ; 5)**
11. **K**
12. **E**
13. **J**
14. **A**
15. **F**
16. **B**
17. **H**
18. **C**
19. **G**
20. **D**

Indica le coordinate di ogni figura.

- |             |                   |
|-------------|-------------------|
| 1) Stella   | 2) Fulmine        |
| 3) Cerchio  | 4) Cuore          |
| 5) Croce    | 6) Triangolo      |
| 7) Luna     | 8) Quadrato       |
| 9) Diamante | 10) Nota Musicale |

Indica quale lettera corrisponde a ciascuna coordinata.

- |               |                |
|---------------|----------------|
| 11) (-5 ; -3) | 12) (9 ; -8)   |
| 13) (2 ; 3)   | 14) (9 ; 6)    |
| 15) (-1 ; 9)  | 16) (9 ; 0)    |
| 17) (0 ; 9)   | 18) (-5 ; -8)  |
| 19) (-10 ; 4) | 20) (-10 ; -8) |



**Risposte**

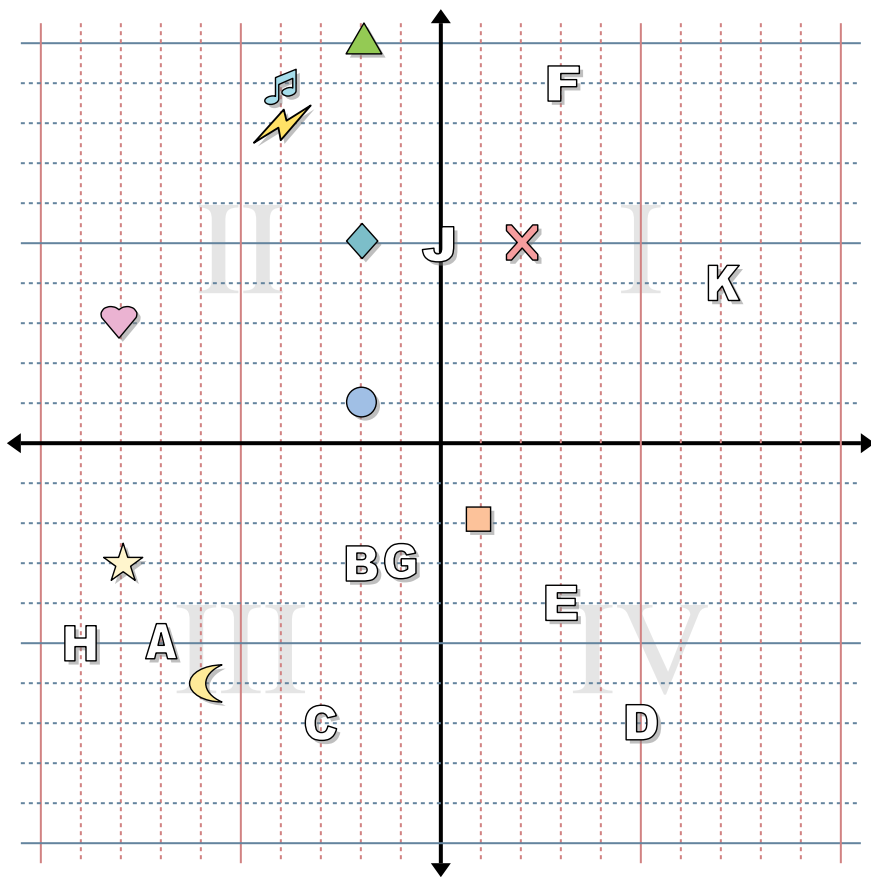
1. \_\_\_\_\_
2. \_\_\_\_\_
3. \_\_\_\_\_
4. \_\_\_\_\_
5. \_\_\_\_\_
6. \_\_\_\_\_
7. \_\_\_\_\_
8. \_\_\_\_\_
9. \_\_\_\_\_
10. \_\_\_\_\_
11. \_\_\_\_\_
12. \_\_\_\_\_
13. \_\_\_\_\_
14. \_\_\_\_\_
15. \_\_\_\_\_
16. \_\_\_\_\_
17. \_\_\_\_\_
18. \_\_\_\_\_
19. \_\_\_\_\_
20. \_\_\_\_\_

Indica le coordinate di ogni figura.

- |             |                   |
|-------------|-------------------|
| 1) Stella   | 2) Fulmine        |
| 3) Cerchio  | 4) Cuore          |
| 5) Croce    | 6) Triangolo      |
| 7) Luna     | 8) Quadrato       |
| 9) Diamante | 10) Nota Musicale |

Indica quale lettera corrisponde a ciascuna coordinata.

- |               |               |
|---------------|---------------|
| 11) (-7 ; -5) | 12) (7 ; 4)   |
| 13) (3 ; -4)  | 14) (0 ; 5)   |
| 15) (3 ; 9)   | 16) (-3 ; -7) |
| 17) (-1 ; -3) | 18) (-2 ; -3) |
| 19) (5 ; -7)  | 20) (-9 ; -5) |



Indica le coordinate di ogni figura.

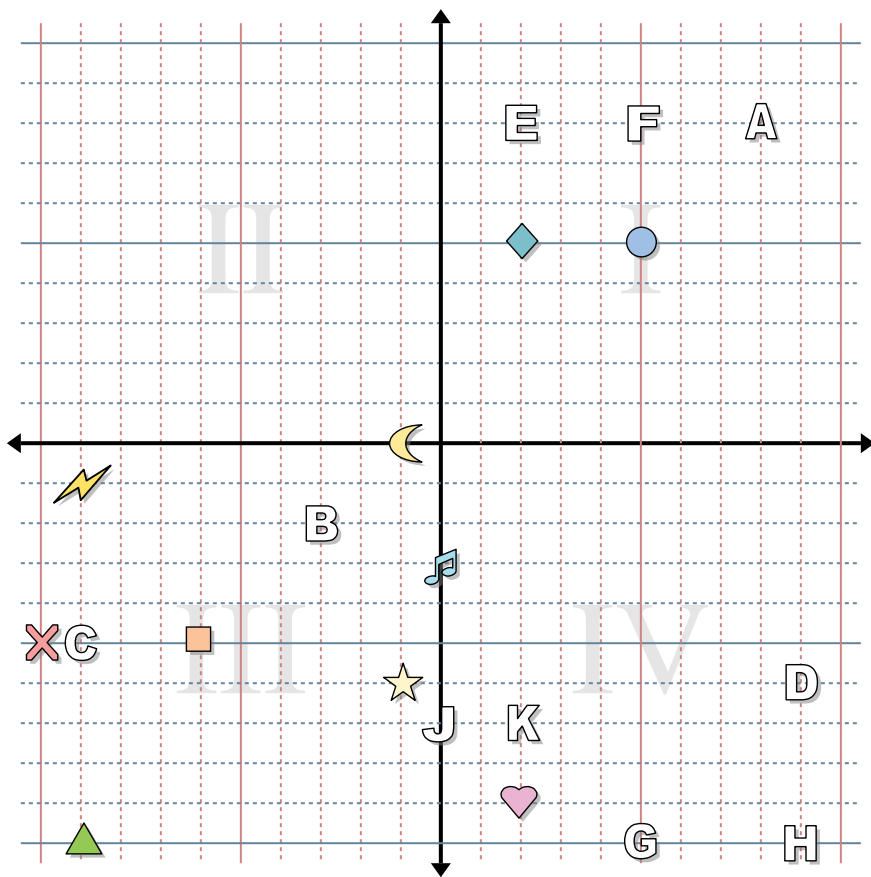
- 1) Stella
- 2) Fulmine
- 3) Cerchio
- 4) Cuore
- 5) Croce
- 6) Triangolo
- 7) Luna
- 8) Quadrato
- 9) Diamante
- 10) Nota Musicale

Indica quale lettera corrisponde a ciascuna coordinata.

- 11) (-7 ; -5)
- 12) (7 ; 4)
- 13) (3 ; -4)
- 14) (0 ; 5)
- 15) (3 ; 9)
- 16) (-3 ; -7)
- 17) (-1 ; -3)
- 18) (-2 ; -3)
- 19) (5 ; -7)
- 20) (-9 ; -5)

**Risposte**

- 1. **(-8 ; -3)**
- 2. **(-4 ; 8)**
- 3. **(-2 ; 1)**
- 4. **(-8 ; 3)**
- 5. **(2 ; 5)**
- 6. **(-2 ; 10)**
- 7. **(-6 ; -6)**
- 8. **(1 ; -2)**
- 9. **(-2 ; 5)**
- 10. **(-4 ; 9)**
- 11. **A**
- 12. **K**
- 13. **E**
- 14. **J**
- 15. **F**
- 16. **C**
- 17. **G**
- 18. **B**
- 19. **D**
- 20. **H**



**Risposte**

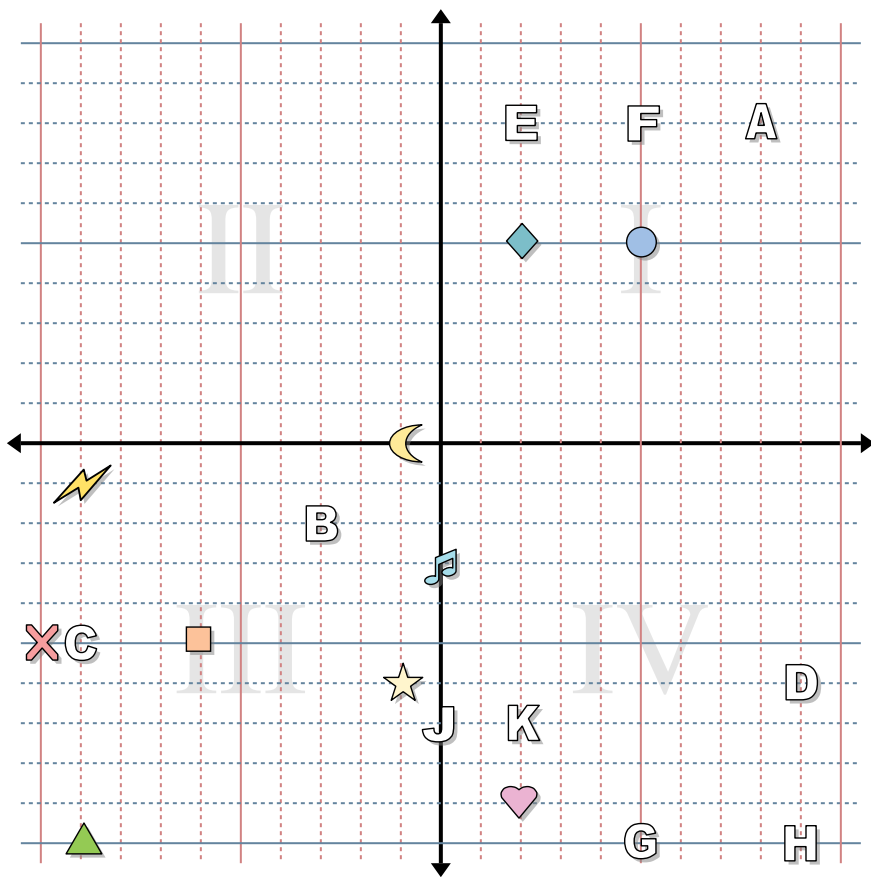
1. \_\_\_\_\_
2. \_\_\_\_\_
3. \_\_\_\_\_
4. \_\_\_\_\_
5. \_\_\_\_\_
6. \_\_\_\_\_
7. \_\_\_\_\_
8. \_\_\_\_\_
9. \_\_\_\_\_
10. \_\_\_\_\_
11. \_\_\_\_\_
12. \_\_\_\_\_
13. \_\_\_\_\_
14. \_\_\_\_\_
15. \_\_\_\_\_
16. \_\_\_\_\_
17. \_\_\_\_\_
18. \_\_\_\_\_
19. \_\_\_\_\_
20. \_\_\_\_\_

Indica le coordinate di ogni figura.

- |             |                   |
|-------------|-------------------|
| 1) Stella   | 2) Fulmine        |
| 3) Cerchio  | 4) Cuore          |
| 5) Croce    | 6) Triangolo      |
| 7) Luna     | 8) Quadrato       |
| 9) Diamante | 10) Nota Musicale |

Indica quale lettera corrisponde a ciascuna coordinata.

- |               |               |
|---------------|---------------|
| 11) (-9 ; -5) | 12) (0 ; -7)  |
| 13) (9 ; -6)  | 14) (5 ; -10) |
| 15) (8 ; 8)   | 16) (9 ; -10) |
| 17) (2 ; 8)   | 18) (2 ; -7)  |
| 19) (-3 ; -2) | 20) (5 ; 8)   |



**Risposte**

1. **(-1 ; -6)**
2. **(-9 ; -1)**
3. **(5 ; 5)**
4. **(2 ; -9)**
5. **(-10 ; -5)**
6. **(-9 ; -10)**
7. **(-1 ; 0)**
8. **(-6 ; -5)**
9. **(2 ; 5)**
10. **(0 ; -3)**
11. **C**
12. **J**
13. **D**
14. **G**
15. **A**
16. **H**
17. **E**
18. **K**
19. **B**
20. **F**

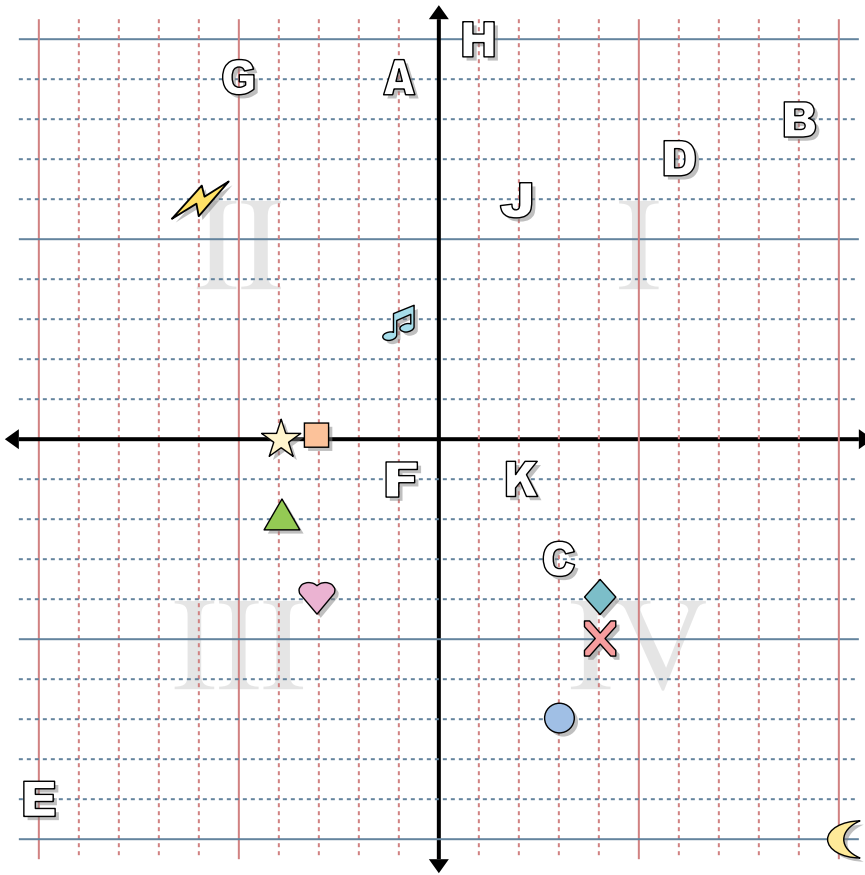
Indica le coordinate di ogni figura.

- |             |                   |
|-------------|-------------------|
| 1) Stella   | 2) Fulmine        |
| 3) Cerchio  | 4) Cuore          |
| 5) Croce    | 6) Triangolo      |
| 7) Luna     | 8) Quadrato       |
| 9) Diamante | 10) Nota Musicale |

Indica quale lettera corrisponde a ciascuna coordinata.

- |               |               |
|---------------|---------------|
| 11) (-9 ; -5) | 12) (0 ; -7)  |
| 13) (9 ; -6)  | 14) (5 ; -10) |
| 15) (8 ; 8)   | 16) (9 ; -10) |
| 17) (2 ; 8)   | 18) (2 ; -7)  |
| 19) (-3 ; -2) | 20) (5 ; 8)   |





**Risposte**

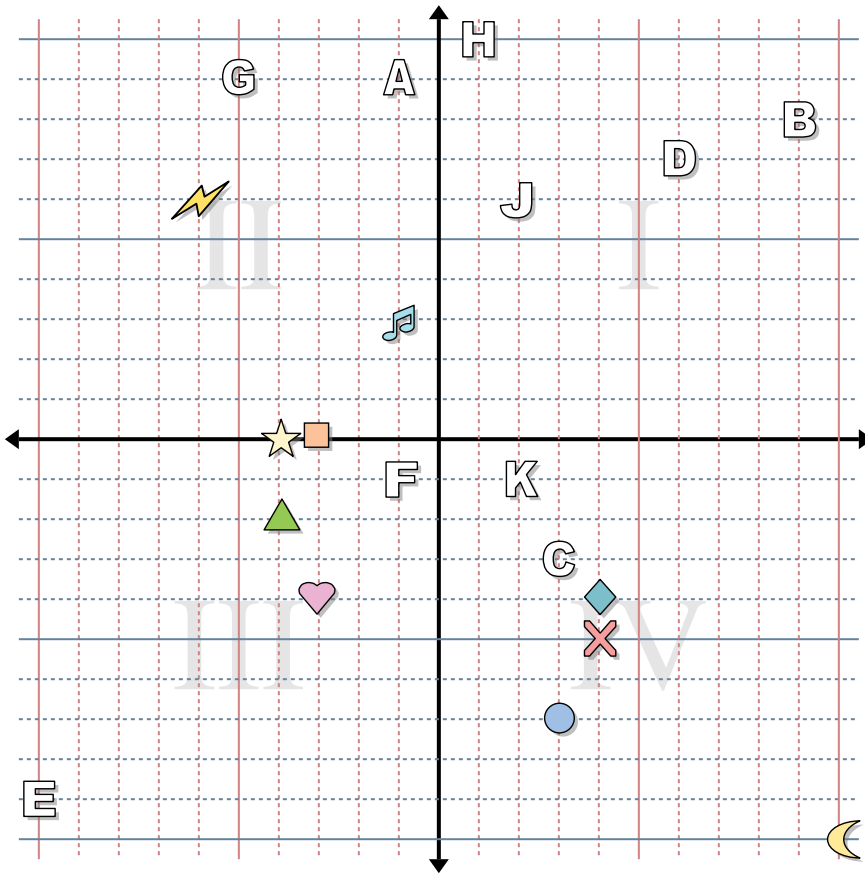
1. \_\_\_\_\_
2. \_\_\_\_\_
3. \_\_\_\_\_
4. \_\_\_\_\_
5. \_\_\_\_\_
6. \_\_\_\_\_
7. \_\_\_\_\_
8. \_\_\_\_\_
9. \_\_\_\_\_
10. \_\_\_\_\_
11. \_\_\_\_\_
12. \_\_\_\_\_
13. \_\_\_\_\_
14. \_\_\_\_\_
15. \_\_\_\_\_
16. \_\_\_\_\_
17. \_\_\_\_\_
18. \_\_\_\_\_
19. \_\_\_\_\_
20. \_\_\_\_\_

Indica le coordinate di ogni figura.

- |             |                   |
|-------------|-------------------|
| 1) Stella   | 2) Fulmine        |
| 3) Cerchio  | 4) Cuore          |
| 5) Croce    | 6) Triangolo      |
| 7) Luna     | 8) Quadrato       |
| 9) Diamante | 10) Nota Musicale |

Indica quale lettera corrisponde a ciascuna coordinata.

- |                |              |
|----------------|--------------|
| 11) (2 ; -1)   | 12) (3 ; -3) |
| 13) (1 ; 10)   | 14) (9 ; 8)  |
| 15) (2 ; 6)    | 16) (-1 ; 9) |
| 17) (-10 ; -9) | 18) (-5 ; 9) |
| 19) (-1 ; -1)  | 20) (6 ; 7)  |



**Risposte**

1. **(-4 ; 0)**
2. **(-6 ; 6)**
3. **(3 ; -7)**
4. **(-3 ; -4)**
5. **(4 ; -5)**
6. **(-4 ; -2)**
7. **(10 ; -10)**
8. **(-3 ; 0)**
9. **(4 ; -4)**
10. **(-1 ; 3)**
11. **K**
12. **C**
13. **H**
14. **B**
15. **J**
16. **A**
17. **E**
18. **G**
19. **F**
20. **D**

Indica le coordinate di ogni figura.

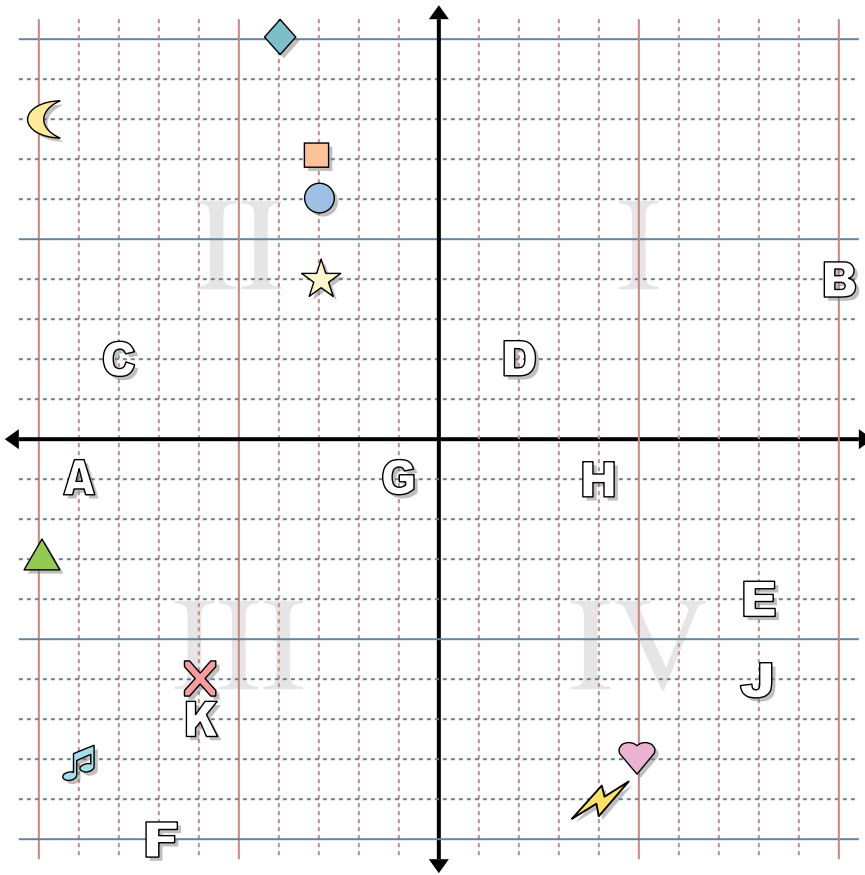
- |             |                   |
|-------------|-------------------|
| 1) Stella   | 2) Fulmine        |
| 3) Cerchio  | 4) Cuore          |
| 5) Croce    | 6) Triangolo      |
| 7) Luna     | 8) Quadrato       |
| 9) Diamante | 10) Nota Musicale |

Indica quale lettera corrisponde a ciascuna coordinata.

- |                |              |
|----------------|--------------|
| 11) (2 ; -1)   | 12) (3 ; -3) |
| 13) (1 ; 10)   | 14) (9 ; 8)  |
| 15) (2 ; 6)    | 16) (-1 ; 9) |
| 17) (-10 ; -9) | 18) (-5 ; 9) |
| 19) (-1 ; -1)  | 20) (6 ; 7)  |



**Risposte**



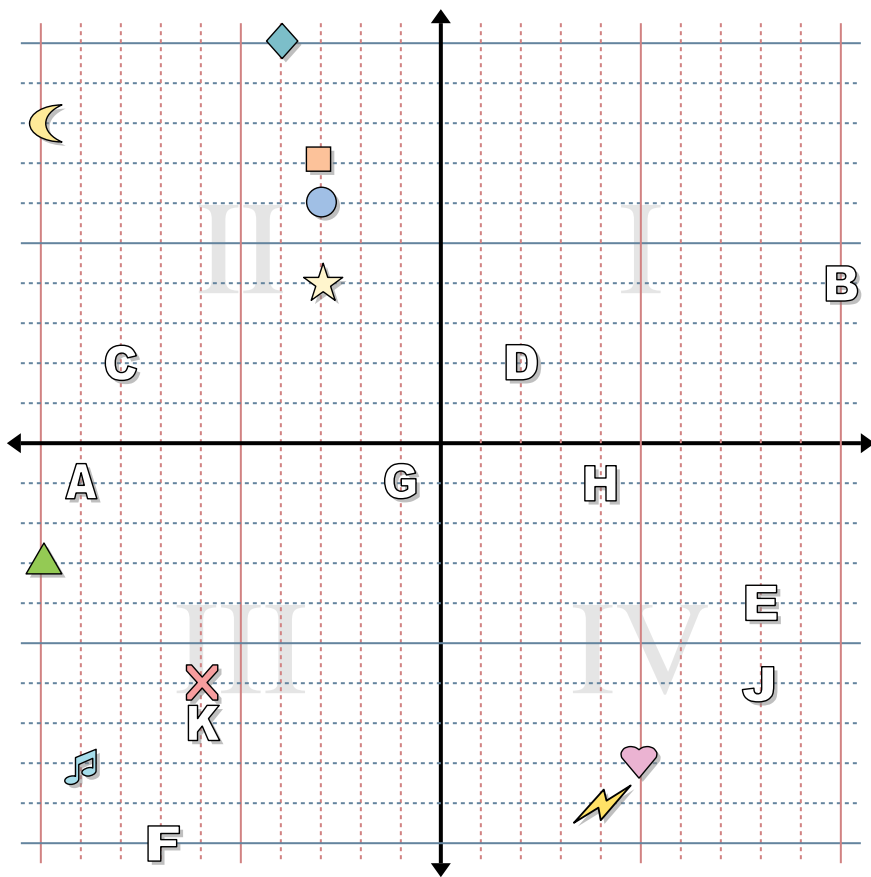
Indica le coordinate di ogni figura.

- 1) Stella
- 2) Fulmine
- 3) Cerchio
- 4) Cuore
- 5) Croce
- 6) Triangolo
- 7) Luna
- 8) Quadrato
- 9) Diamante
- 10) Nota Musicale

Indica quale lettera corrisponde a ciascuna coordinata.

- 11) (4 ; -1)
- 12) (2 ; 2)
- 13) (10 ; 4)
- 14) (8 ; -6)
- 15) (8 ; -4)
- 16) (-6 ; -7)
- 17) (-7 ; -10)
- 18) (-9 ; -1)
- 19) (-1 ; -1)
- 20) (-8 ; 2)

1. \_\_\_\_\_
2. \_\_\_\_\_
3. \_\_\_\_\_
4. \_\_\_\_\_
5. \_\_\_\_\_
6. \_\_\_\_\_
7. \_\_\_\_\_
8. \_\_\_\_\_
9. \_\_\_\_\_
10. \_\_\_\_\_
11. \_\_\_\_\_
12. \_\_\_\_\_
13. \_\_\_\_\_
14. \_\_\_\_\_
15. \_\_\_\_\_
16. \_\_\_\_\_
17. \_\_\_\_\_
18. \_\_\_\_\_
19. \_\_\_\_\_
20. \_\_\_\_\_



Indica le coordinate di ogni figura.

- |             |                   |
|-------------|-------------------|
| 1) Stella   | 2) Fulmine        |
| 3) Cerchio  | 4) Cuore          |
| 5) Croce    | 6) Triangolo      |
| 7) Luna     | 8) Quadrato       |
| 9) Diamante | 10) Nota Musicale |

Indica quale lettera corrisponde a ciascuna coordinata.

- |                |               |
|----------------|---------------|
| 11) (4 ; -1)   | 12) (2 ; 2)   |
| 13) (10 ; 4)   | 14) (8 ; -6)  |
| 15) (8 ; -4)   | 16) (-6 ; -7) |
| 17) (-7 ; -10) | 18) (-9 ; -1) |
| 19) (-1 ; -1)  | 20) (-8 ; 2)  |

**Risposte**

1. (-3 ; 4)
2. (4 ; -9)
3. (-3 ; 6)
4. (5 ; -8)
5. (-6 ; -6)
6. (-10 ; -3)
7. (-10 ; 8)
8. (-3 ; 7)
9. (-4 ; 10)
10. (-9 ; -8)
11. H
12. D
13. B
14. J
15. E
16. K
17. F
18. A
19. G
20. C