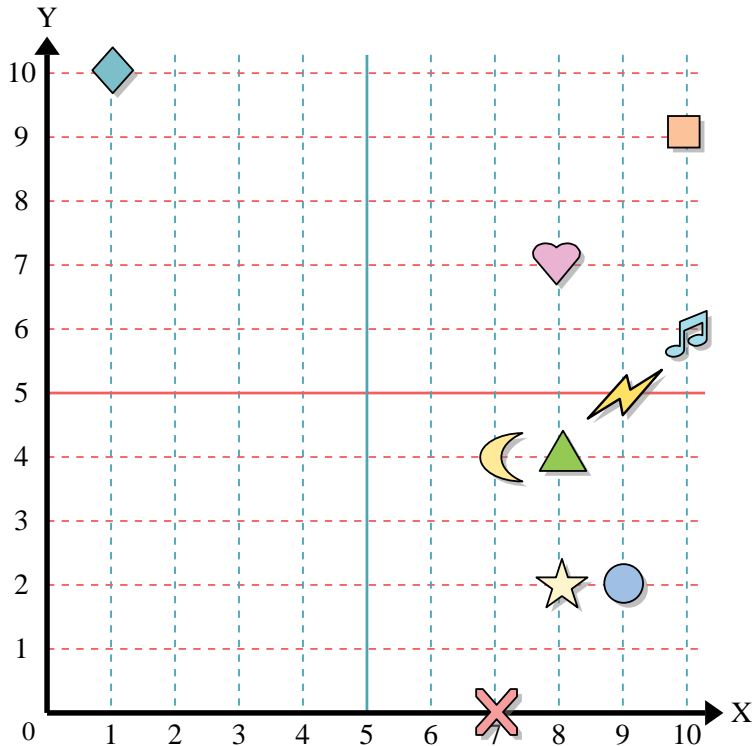




Usa la griglia sottostante per determinare le coordinate del punto dove è posizionata ogni figura.



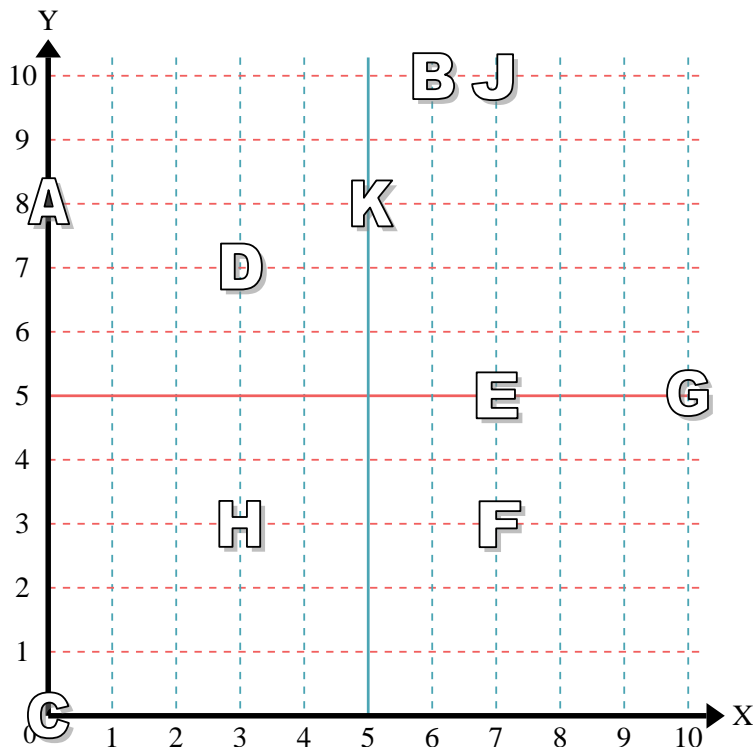
- 1) Stella \_\_\_\_\_
- 2) Fulmine \_\_\_\_\_
- 3) Cerchio \_\_\_\_\_
- 4) Cuore \_\_\_\_\_
- 5) Croce \_\_\_\_\_
- 6) Triangolo \_\_\_\_\_
- 7) Luna \_\_\_\_\_
- 8) Quadrato \_\_\_\_\_
- 9) Diamante \_\_\_\_\_
- 10) Nota Musicale \_\_\_\_\_

**Risposte**

- 1. \_\_\_\_\_
- 2. \_\_\_\_\_
- 3. \_\_\_\_\_
- 4. \_\_\_\_\_
- 5. \_\_\_\_\_
- 6. \_\_\_\_\_
- 7. \_\_\_\_\_
- 8. \_\_\_\_\_
- 9. \_\_\_\_\_
- 10. \_\_\_\_\_
- 11. \_\_\_\_\_
- 12. \_\_\_\_\_
- 13. \_\_\_\_\_
- 14. \_\_\_\_\_
- 15. \_\_\_\_\_
- 16. \_\_\_\_\_
- 17. \_\_\_\_\_
- 18. \_\_\_\_\_
- 19. \_\_\_\_\_
- 20. \_\_\_\_\_

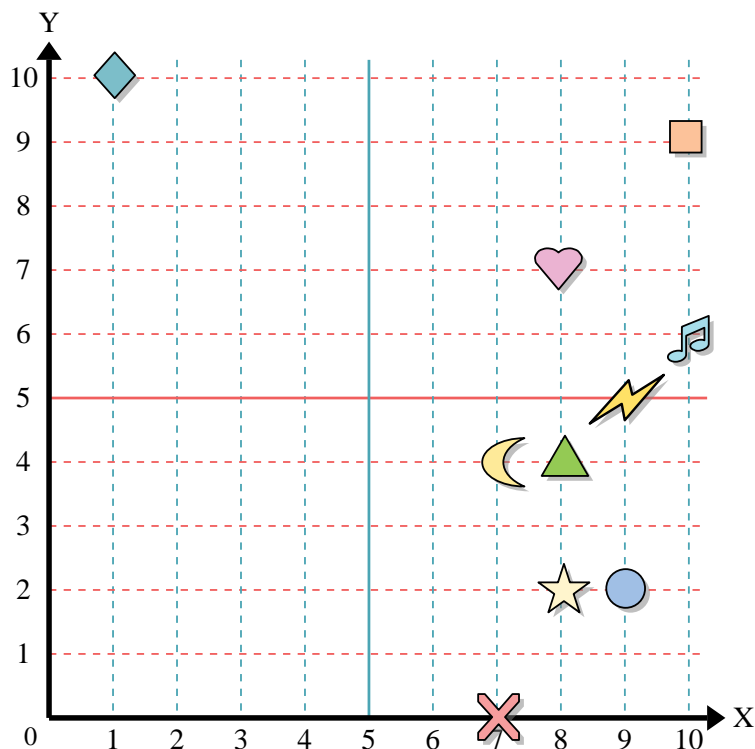
Indica quale lettera corrisponde ad ogni coordinata secondo il grafico seguente.

- 11) (5;8) \_\_\_\_\_
- 12) (0;8) \_\_\_\_\_
- 13) (7;5) \_\_\_\_\_
- 14) (6;10) \_\_\_\_\_
- 15) (3;3) \_\_\_\_\_
- 16) (7;3) \_\_\_\_\_
- 17) (0;0) \_\_\_\_\_
- 18) (10;5) \_\_\_\_\_
- 19) (7;10) \_\_\_\_\_
- 20) (3;7) \_\_\_\_\_





Usa la griglia sottostante per determinare le coordinate del punto dove è posizionata ogni figura.



- 1) Stella (8 ; 2)
- 2) Fulmine (9 ; 5)
- 3) Cerchio (9 ; 2)
- 4) Cuore (8 ; 7)
- 5) Croce (7 ; 0)
- 6) Triangolo (8 ; 4)
- 7) Luna (7 ; 4)
- 8) Quadrato (10 ; 9)
- 9) Diamante (1 ; 10)
- 10) Nota Musicale (10 ; 6)

**Risposte**

- 1. (8 ; 2)
- 2. (9 ; 5)
- 3. (9 ; 2)
- 4. (8 ; 7)
- 5. (7 ; 0)
- 6. (8 ; 4)
- 7. (7 ; 4)
- 8. (10 ; 9)
- 9. (1 ; 10)
- 10. (10 ; 6)
- 11. K
- 12. A
- 13. E
- 14. B
- 15. H
- 16. F
- 17. C
- 18. G
- 19. J
- 20. D

Indica quale lettera corrisponde ad ogni coordinata secondo il grafico seguente.

- 11) (5;8) K
- 12) (0;8) A
- 13) (7;5) E
- 14) (6;10) B
- 15) (3;3) H
- 16) (7;3) F
- 17) (0;0) C
- 18) (10;5) G
- 19) (7;10) J
- 20) (3;7) D

