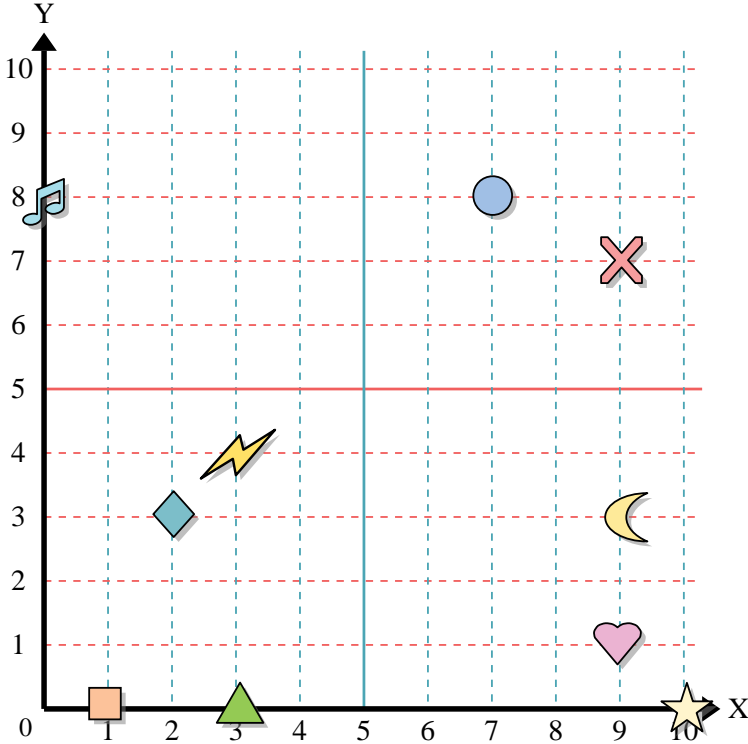




Usa la griglia sottostante per determinare le coordinate del punto dove è posizionata ogni figura.



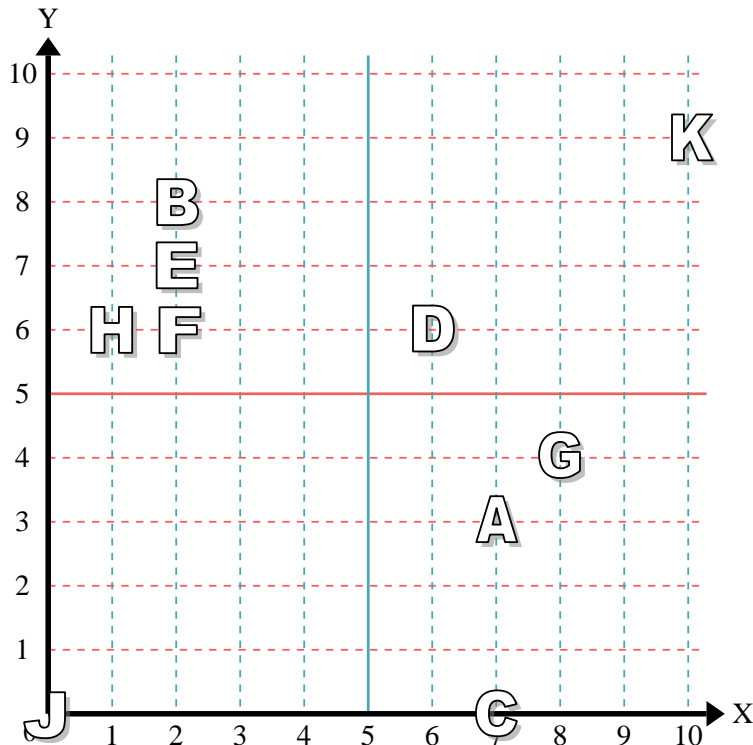
- 1) Stella _____
- 2) Fulmine _____
- 3) Cerchio _____
- 4) Cuore _____
- 5) Croce _____
- 6) Triangolo _____
- 7) Luna _____
- 8) Quadrato _____
- 9) Diamante _____
- 10) Nota Musicale _____

Risposte

- 1. _____
- 2. _____
- 3. _____
- 4. _____
- 5. _____
- 6. _____
- 7. _____
- 8. _____
- 9. _____
- 10. _____
- 11. _____
- 12. _____
- 13. _____
- 14. _____
- 15. _____
- 16. _____
- 17. _____
- 18. _____
- 19. _____
- 20. _____

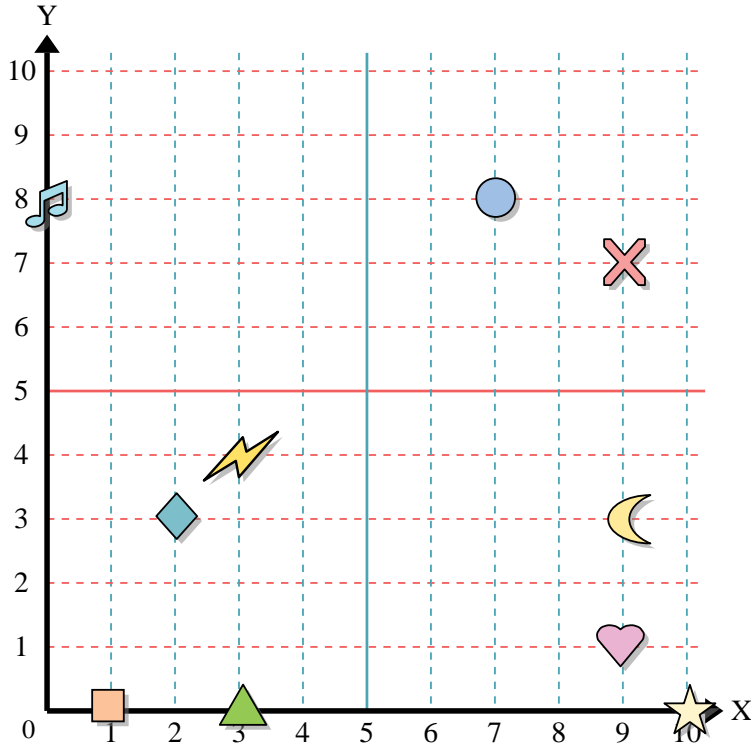
Indica quale lettera corrisponde ad ogni coordinata secondo il grafico seguente.

- 11) (10;9) _____
- 12) (7;0) _____
- 13) (2;8) _____
- 14) (0;0) _____
- 15) (7;3) _____
- 16) (2;7) _____
- 17) (6;6) _____
- 18) (8;4) _____
- 19) (1;6) _____
- 20) (2;6) _____





Usa la griglia sottostante per determinare le coordinate del punto dove è posizionata ogni figura.



- 1) Stella (10 ; 0)
- 2) Fulmine (3 ; 4)
- 3) Cerchio (7 ; 8)
- 4) Cuore (9 ; 1)
- 5) Croce (9 ; 7)
- 6) Triangolo (3 ; 0)
- 7) Luna (9 ; 3)
- 8) Quadrato (1 ; 0)
- 9) Diamante (2 ; 3)
- 10) Nota Musicale (0 ; 8)

Risposte

- 1. (10 ; 0)
- 2. (3 ; 4)
- 3. (7 ; 8)
- 4. (9 ; 1)
- 5. (9 ; 7)
- 6. (3 ; 0)
- 7. (9 ; 3)
- 8. (1 ; 0)
- 9. (2 ; 3)
- 10. (0 ; 8)
- 11. K
- 12. C
- 13. B
- 14. J
- 15. A
- 16. E
- 17. D
- 18. G
- 19. H
- 20. F

Indica quale lettera corrisponde ad ogni coordinata secondo il grafico seguente.

- 11) (10;9) K
- 12) (7;0) C
- 13) (2;8) B
- 14) (0;0) J
- 15) (7;3) A
- 16) (2;7) E
- 17) (6;6) D
- 18) (8;4) G
- 19) (1;6) H
- 20) (2;6) F

