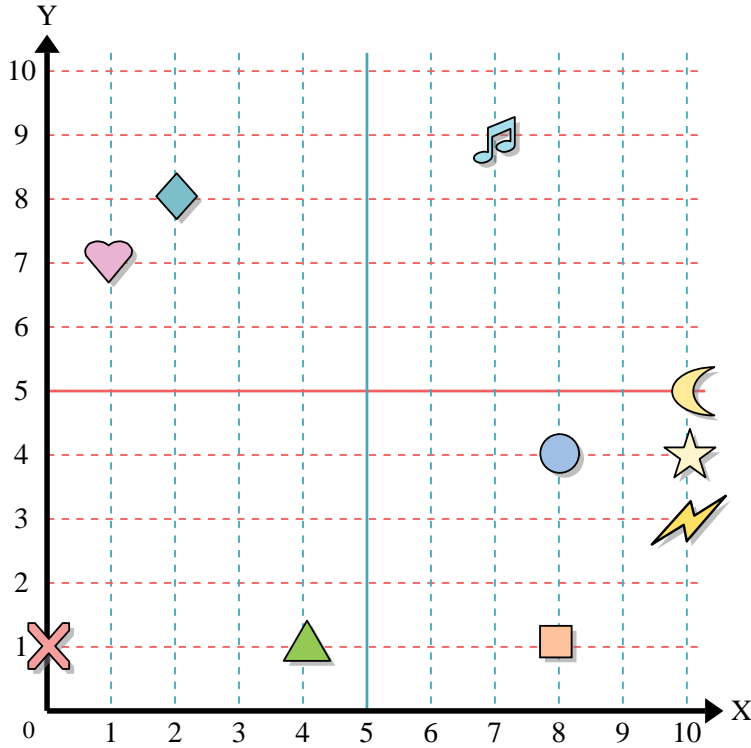




Usa la griglia sottostante per determinare le coordinate del punto dove è posizionata ogni figura.



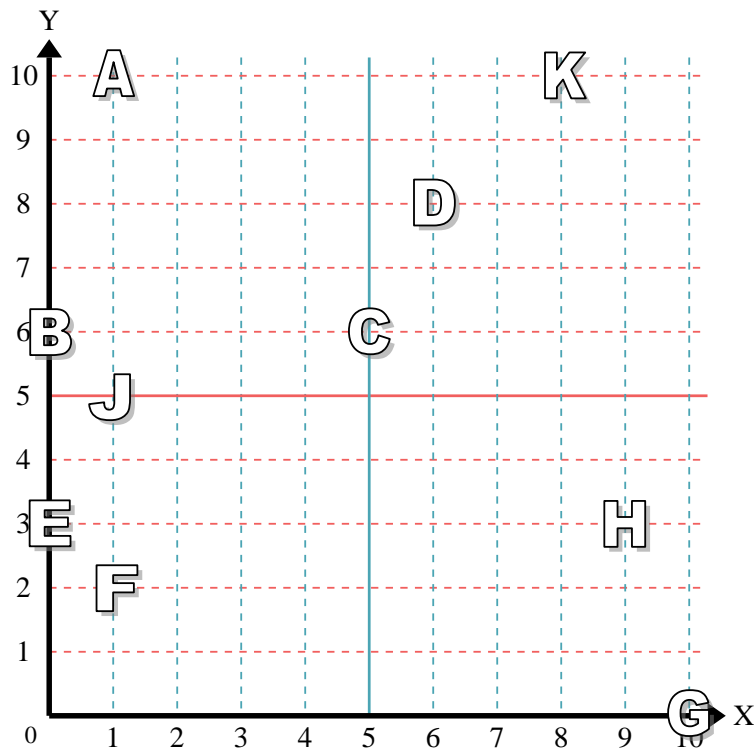
- 1) Stella \_\_\_\_\_
- 2) Fulmine \_\_\_\_\_
- 3) Cerchio \_\_\_\_\_
- 4) Cuore \_\_\_\_\_
- 5) Croce \_\_\_\_\_
- 6) Triangolo \_\_\_\_\_
- 7) Luna \_\_\_\_\_
- 8) Quadrato \_\_\_\_\_
- 9) Diamante \_\_\_\_\_
- 10) Nota Musicale \_\_\_\_\_

**Risposte**

- 1. \_\_\_\_\_
- 2. \_\_\_\_\_
- 3. \_\_\_\_\_
- 4. \_\_\_\_\_
- 5. \_\_\_\_\_
- 6. \_\_\_\_\_
- 7. \_\_\_\_\_
- 8. \_\_\_\_\_
- 9. \_\_\_\_\_
- 10. \_\_\_\_\_
- 11. \_\_\_\_\_
- 12. \_\_\_\_\_
- 13. \_\_\_\_\_
- 14. \_\_\_\_\_
- 15. \_\_\_\_\_
- 16. \_\_\_\_\_
- 17. \_\_\_\_\_
- 18. \_\_\_\_\_
- 19. \_\_\_\_\_
- 20. \_\_\_\_\_

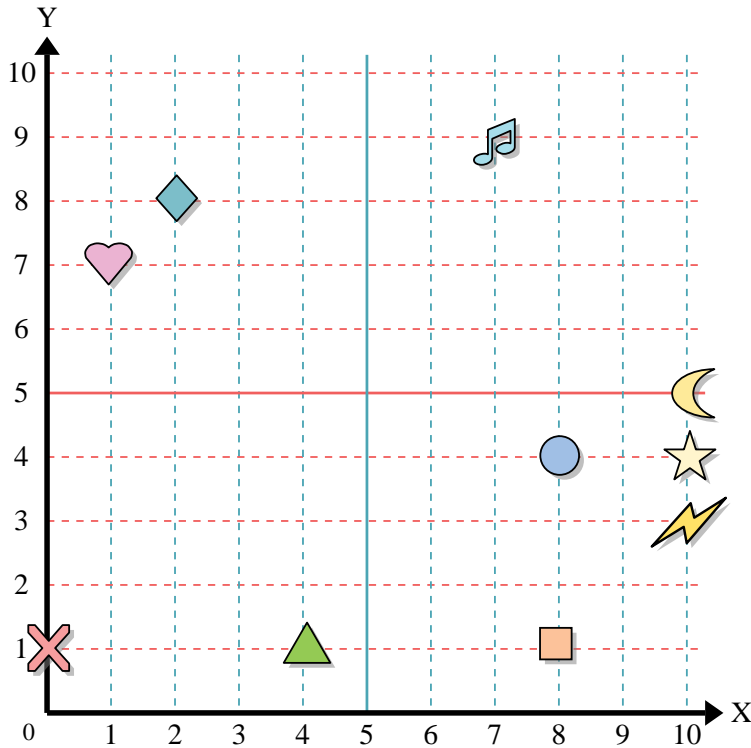
indica quale lettera corrisponde ad ogni coordinata secondo il grafico seguente.

- 11) (5 ; 6) \_\_\_\_\_
- 12) (6 ; 8) \_\_\_\_\_
- 13) (0 ; 3) \_\_\_\_\_
- 14) (10 ; 0) \_\_\_\_\_
- 15) (9 ; 3) \_\_\_\_\_
- 16) (0 ; 6) \_\_\_\_\_
- 17) (1 ; 2) \_\_\_\_\_
- 18) (8 ; 10) \_\_\_\_\_
- 19) (1 ; 5) \_\_\_\_\_
- 20) (1 ; 10) \_\_\_\_\_





Usa la griglia sottostante per determinare le coordinate del punto dove è posizionata ogni figura.



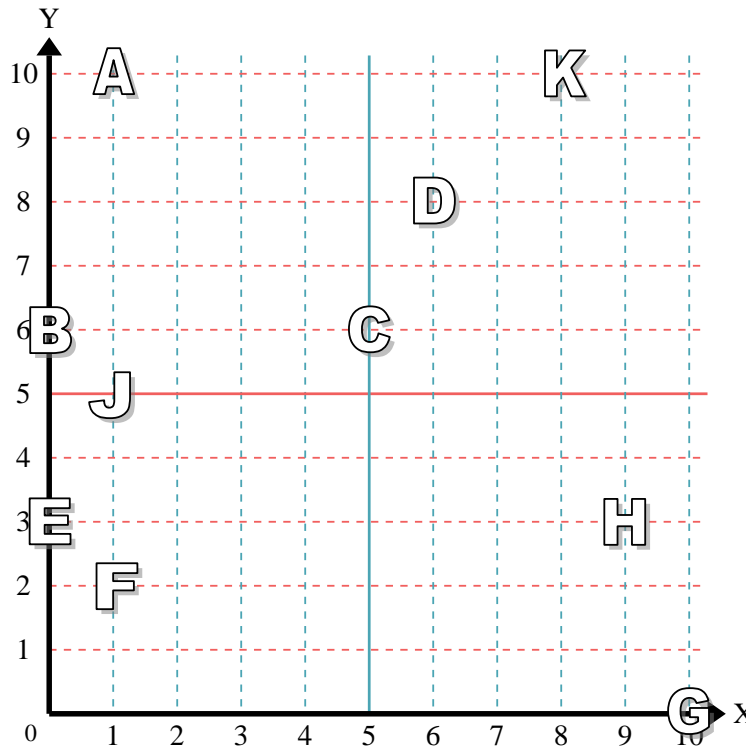
- 1) Stella (10 ; 4)
- 2) Fulmine (10 ; 3)
- 3) Cerchio (8 ; 4)
- 4) Cuore (1 ; 7)
- 5) Croce (0 ; 1)
- 6) Triangolo (4 ; 1)
- 7) Luna (10 ; 5)
- 8) Quadrato (8 ; 1)
- 9) Diamante (2 ; 8)
- 10) Nota Musicale (7 ; 9)

**Risposte**

- 1. (10 ; 4)
- 2. (10 ; 3)
- 3. (8 ; 4)
- 4. (1 ; 7)
- 5. (0 ; 1)
- 6. (4 ; 1)
- 7. (10 ; 5)
- 8. (8 ; 1)
- 9. (2 ; 8)
- 10. (7 ; 9)
- 11. C
- 12. D
- 13. E
- 14. G
- 15. H
- 16. B
- 17. F
- 18. K
- 19. J
- 20. A

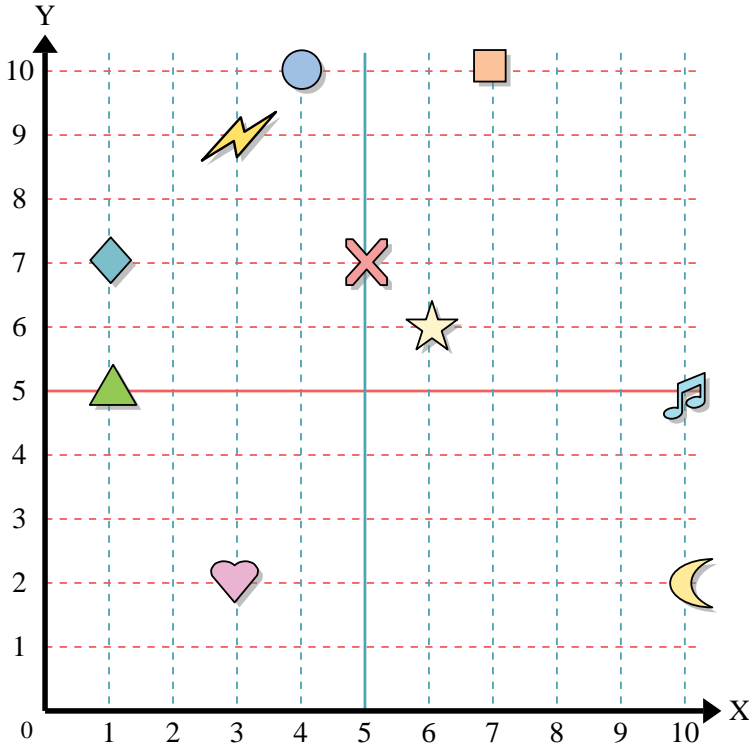
indica quale lettera corrisponde ad ogni coordinata secondo il grafico seguente.

- 11) (5 ; 6) C
- 12) (6 ; 8) D
- 13) (0 ; 3) E
- 14) (10 ; 0) G
- 15) (9 ; 3) H
- 16) (0 ; 6) B
- 17) (1 ; 2) F
- 18) (8 ; 10) K
- 19) (1 ; 5) J
- 20) (1 ; 10) A





Usa la griglia sottostante per determinare le coordinate del punto dove è posizionata ogni figura.



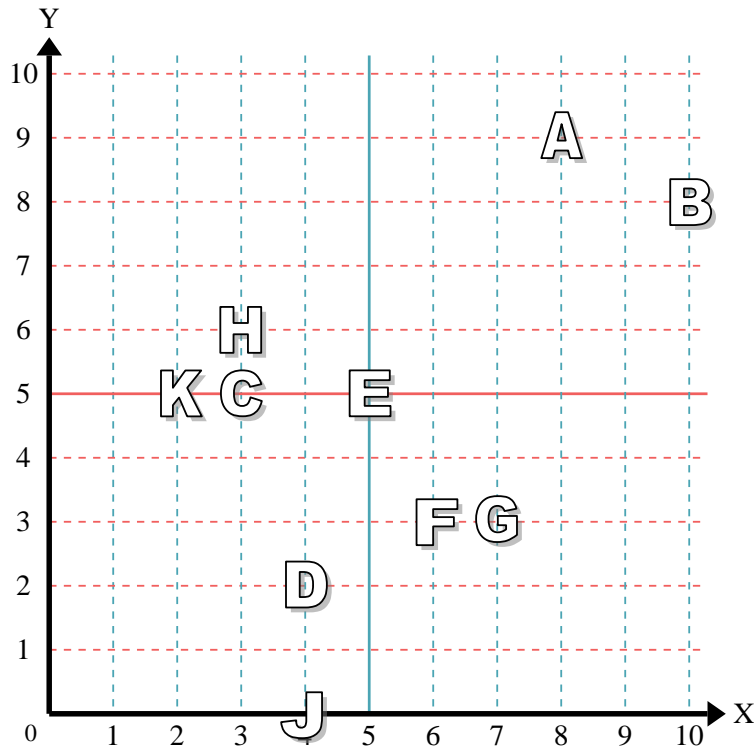
- 1) Stella \_\_\_\_\_
- 2) Fulmine \_\_\_\_\_
- 3) Cerchio \_\_\_\_\_
- 4) Cuore \_\_\_\_\_
- 5) Croce \_\_\_\_\_
- 6) Triangolo \_\_\_\_\_
- 7) Luna \_\_\_\_\_
- 8) Quadrato \_\_\_\_\_
- 9) Diamante \_\_\_\_\_
- 10) Nota Musicale \_\_\_\_\_

**Risposte**

- 1. \_\_\_\_\_
- 2. \_\_\_\_\_
- 3. \_\_\_\_\_
- 4. \_\_\_\_\_
- 5. \_\_\_\_\_
- 6. \_\_\_\_\_
- 7. \_\_\_\_\_
- 8. \_\_\_\_\_
- 9. \_\_\_\_\_
- 10. \_\_\_\_\_
- 11. \_\_\_\_\_
- 12. \_\_\_\_\_
- 13. \_\_\_\_\_
- 14. \_\_\_\_\_
- 15. \_\_\_\_\_
- 16. \_\_\_\_\_
- 17. \_\_\_\_\_
- 18. \_\_\_\_\_
- 19. \_\_\_\_\_
- 20. \_\_\_\_\_

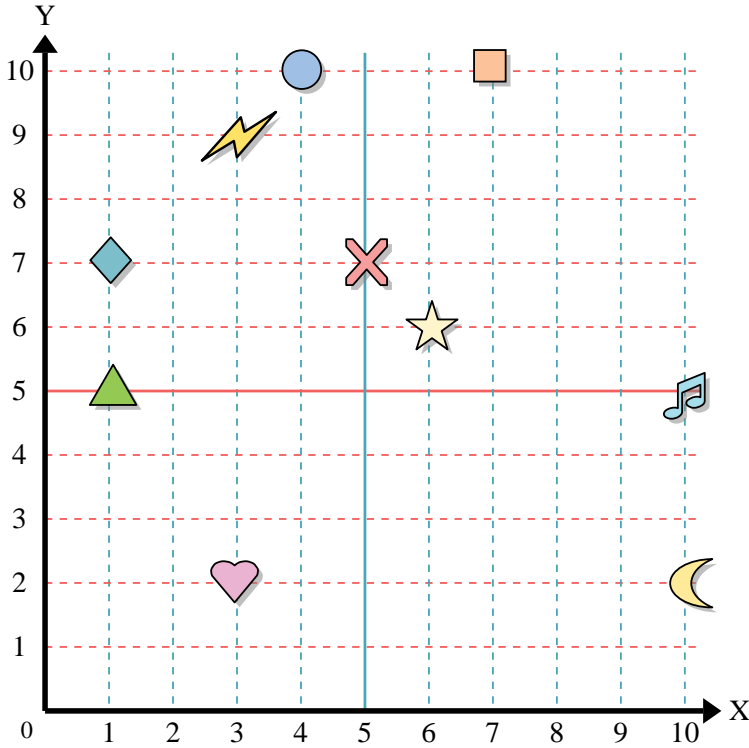
indica quale lettera corrisponde ad ogni coordinata secondo il grafico seguente.

- 11) (2 ; 5) \_\_\_\_\_
- 12) (3 ; 6) \_\_\_\_\_
- 13) (4 ; 2) \_\_\_\_\_
- 14) (5 ; 5) \_\_\_\_\_
- 15) (6 ; 3) \_\_\_\_\_
- 16) (10 ; 8) \_\_\_\_\_
- 17) (3 ; 5) \_\_\_\_\_
- 18) (4 ; 0) \_\_\_\_\_
- 19) (7 ; 3) \_\_\_\_\_
- 20) (8 ; 9) \_\_\_\_\_





Usa la griglia sottostante per determinare le coordinate del punto dove è posizionata ogni figura.



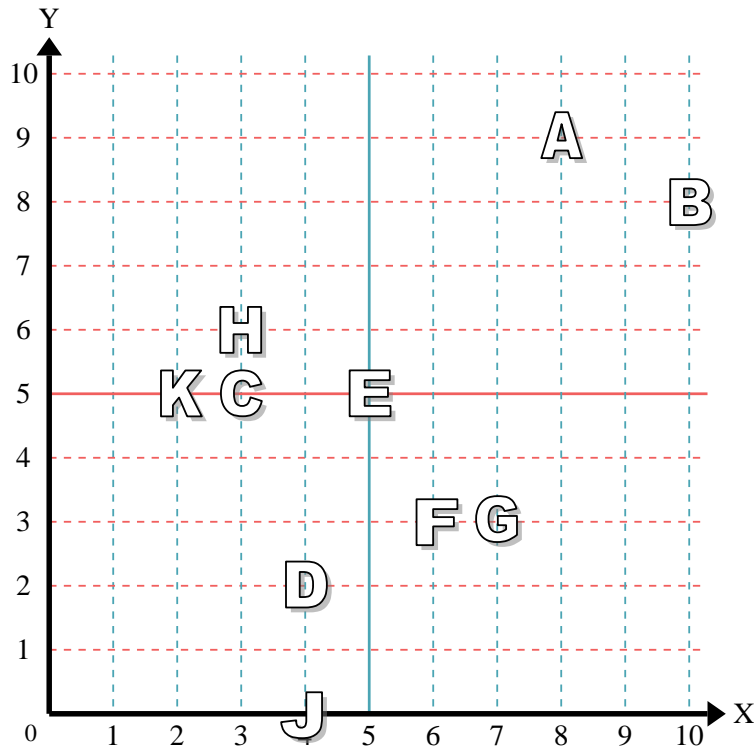
- 1) Stella (6;6)
- 2) Fulmine (3;9)
- 3) Cerchio (4;10)
- 4) Cuore (3;2)
- 5) Croce (5;7)
- 6) Triangolo (1;5)
- 7) Luna (10;2)
- 8) Quadrato (7;10)
- 9) Diamante (1;7)
- 10) Nota Musicale (10;5)

**Risposte**

- 1. (6;6)
- 2. (3;9)
- 3. (4;10)
- 4. (3;2)
- 5. (5;7)
- 6. (1;5)
- 7. (10;2)
- 8. (7;10)
- 9. (1;7)
- 10. (10;5)
- 11. K
- 12. H
- 13. D
- 14. E
- 15. F
- 16. B
- 17. C
- 18. J
- 19. G
- 20. A

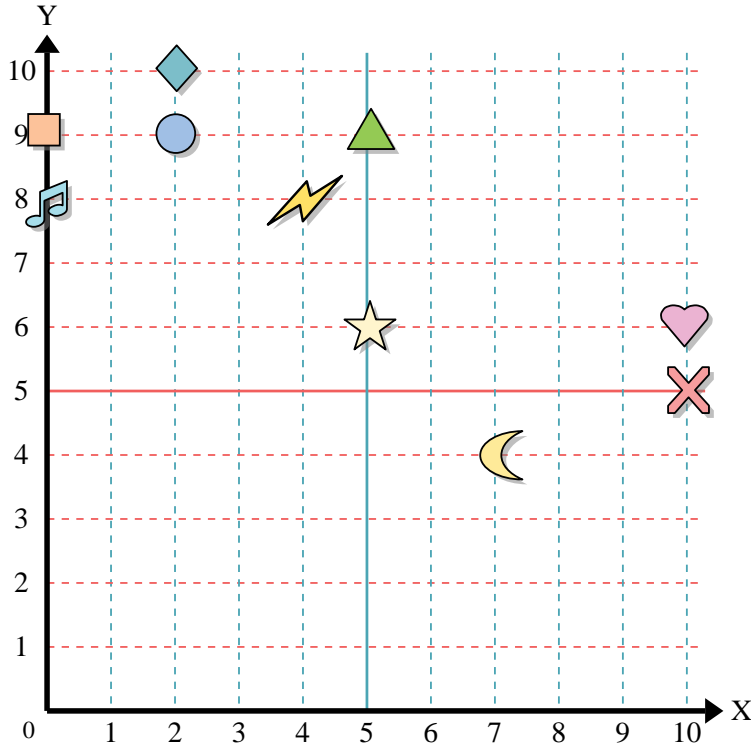
indica quale lettera corrisponde ad ogni coordinata secondo il grafico seguente.

- 11) (2;5) K
- 12) (3;6) H
- 13) (4;2) D
- 14) (5;5) E
- 15) (6;3) F
- 16) (10;8) B
- 17) (3;5) C
- 18) (4;0) J
- 19) (7;3) G
- 20) (8;9) A





Usa la griglia sottostante per determinare le coordinate del punto dove è posizionata ogni figura.



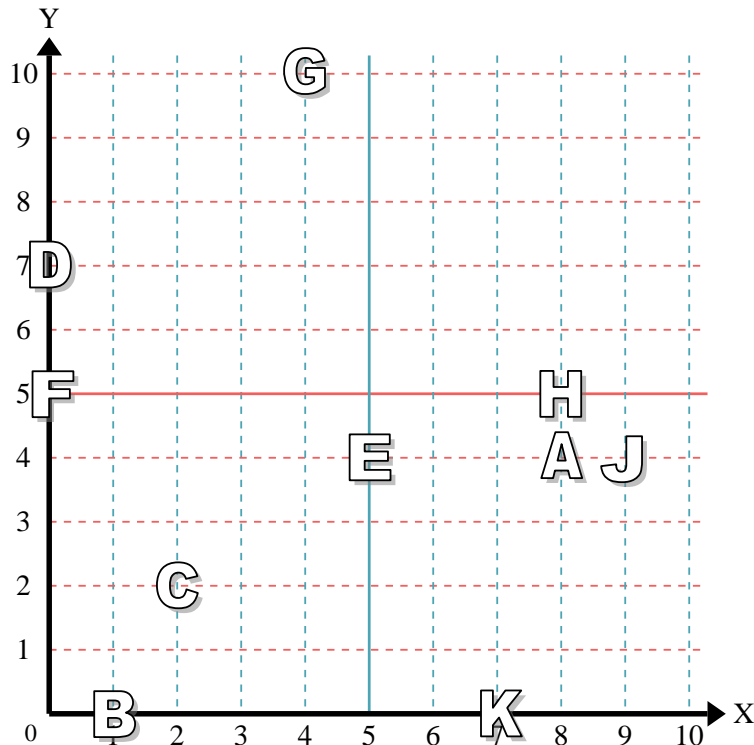
- 1) Stella \_\_\_\_\_
- 2) Fulmine \_\_\_\_\_
- 3) Cerchio \_\_\_\_\_
- 4) Cuore \_\_\_\_\_
- 5) Croce \_\_\_\_\_
- 6) Triangolo \_\_\_\_\_
- 7) Luna \_\_\_\_\_
- 8) Quadrato \_\_\_\_\_
- 9) Diamante \_\_\_\_\_
- 10) Nota Musicale \_\_\_\_\_

**Risposte**

- 1. \_\_\_\_\_
- 2. \_\_\_\_\_
- 3. \_\_\_\_\_
- 4. \_\_\_\_\_
- 5. \_\_\_\_\_
- 6. \_\_\_\_\_
- 7. \_\_\_\_\_
- 8. \_\_\_\_\_
- 9. \_\_\_\_\_
- 10. \_\_\_\_\_
- 11. \_\_\_\_\_
- 12. \_\_\_\_\_
- 13. \_\_\_\_\_
- 14. \_\_\_\_\_
- 15. \_\_\_\_\_
- 16. \_\_\_\_\_
- 17. \_\_\_\_\_
- 18. \_\_\_\_\_
- 19. \_\_\_\_\_
- 20. \_\_\_\_\_

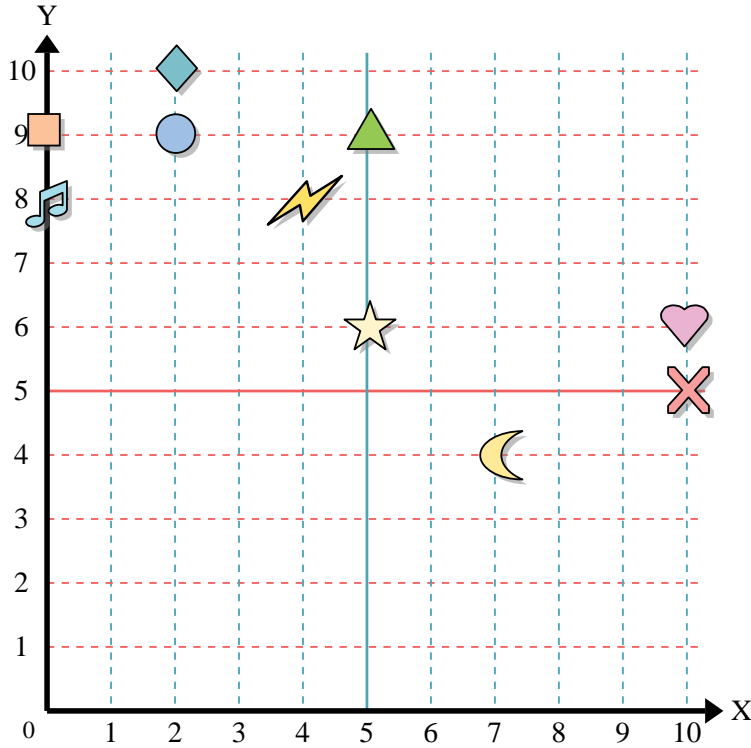
indica quale lettera corrisponde ad ogni coordinata secondo il grafico seguente.

- 11) (4 ; 10) \_\_\_\_\_
- 12) (2 ; 2) \_\_\_\_\_
- 13) (0 ; 5) \_\_\_\_\_
- 14) (7 ; 0) \_\_\_\_\_
- 15) (5 ; 4) \_\_\_\_\_
- 16) (9 ; 4) \_\_\_\_\_
- 17) (1 ; 0) \_\_\_\_\_
- 18) (0 ; 7) \_\_\_\_\_
- 19) (8 ; 4) \_\_\_\_\_
- 20) (8 ; 5) \_\_\_\_\_





Usa la griglia sottostante per determinare le coordinate del punto dove è posizionata ogni figura.



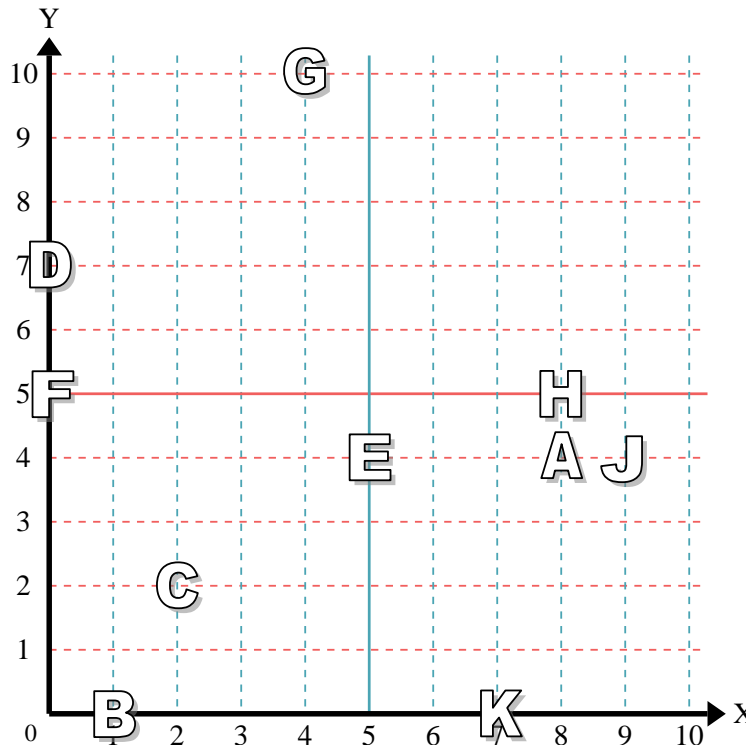
- 1) Stella (5 ; 6)
- 2) Fulmine (4 ; 8)
- 3) Cerchio (2 ; 9)
- 4) Cuore (10 ; 6)
- 5) Croce (10 ; 5)
- 6) Triangolo (5 ; 9)
- 7) Luna (7 ; 4)
- 8) Quadrato (0 ; 9)
- 9) Diamante (2 ; 10)
- 10) Nota Musicale (0 ; 8)

**Risposte**

- 1. (5 ; 6)
- 2. (4 ; 8)
- 3. (2 ; 9)
- 4. (10 ; 6)
- 5. (10 ; 5)
- 6. (5 ; 9)
- 7. (7 ; 4)
- 8. (0 ; 9)
- 9. (2 ; 10)
- 10. (0 ; 8)
- 11. G
- 12. C
- 13. F
- 14. K
- 15. E
- 16. J
- 17. B
- 18. D
- 19. A
- 20. H

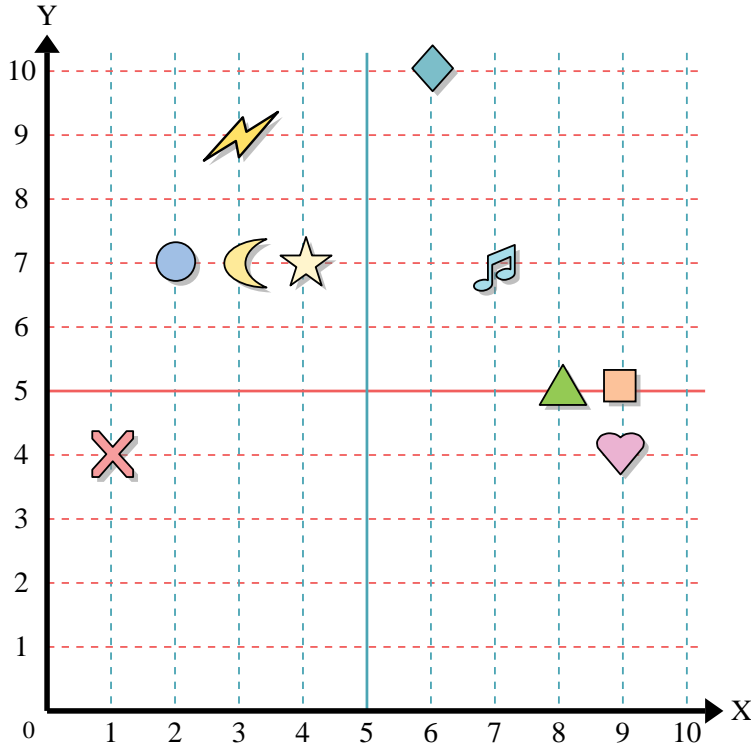
indica quale lettera corrisponde ad ogni coordinata secondo il grafico seguente.

- 11) (4 ; 10) G
- 12) (2 ; 2) C
- 13) (0 ; 5) F
- 14) (7 ; 0) K
- 15) (5 ; 4) E
- 16) (9 ; 4) J
- 17) (1 ; 0) B
- 18) (0 ; 7) D
- 19) (8 ; 4) A
- 20) (8 ; 5) H





Usa la griglia sottostante per determinare le coordinate del punto dove è posizionata ogni figura.



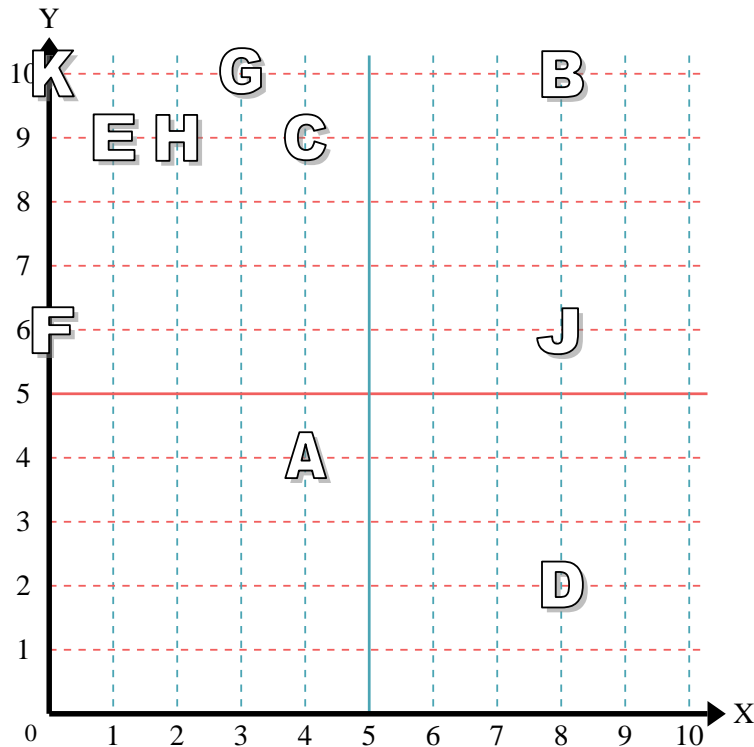
- 1) Stella \_\_\_\_\_
- 2) Fulmine \_\_\_\_\_
- 3) Cerchio \_\_\_\_\_
- 4) Cuore \_\_\_\_\_
- 5) Croce \_\_\_\_\_
- 6) Triangolo \_\_\_\_\_
- 7) Luna \_\_\_\_\_
- 8) Quadrato \_\_\_\_\_
- 9) Diamante \_\_\_\_\_
- 10) Nota Musicale \_\_\_\_\_

Risposte

- 1. \_\_\_\_\_
- 2. \_\_\_\_\_
- 3. \_\_\_\_\_
- 4. \_\_\_\_\_
- 5. \_\_\_\_\_
- 6. \_\_\_\_\_
- 7. \_\_\_\_\_
- 8. \_\_\_\_\_
- 9. \_\_\_\_\_
- 10. \_\_\_\_\_
- 11. \_\_\_\_\_
- 12. \_\_\_\_\_
- 13. \_\_\_\_\_
- 14. \_\_\_\_\_
- 15. \_\_\_\_\_
- 16. \_\_\_\_\_
- 17. \_\_\_\_\_
- 18. \_\_\_\_\_
- 19. \_\_\_\_\_
- 20. \_\_\_\_\_

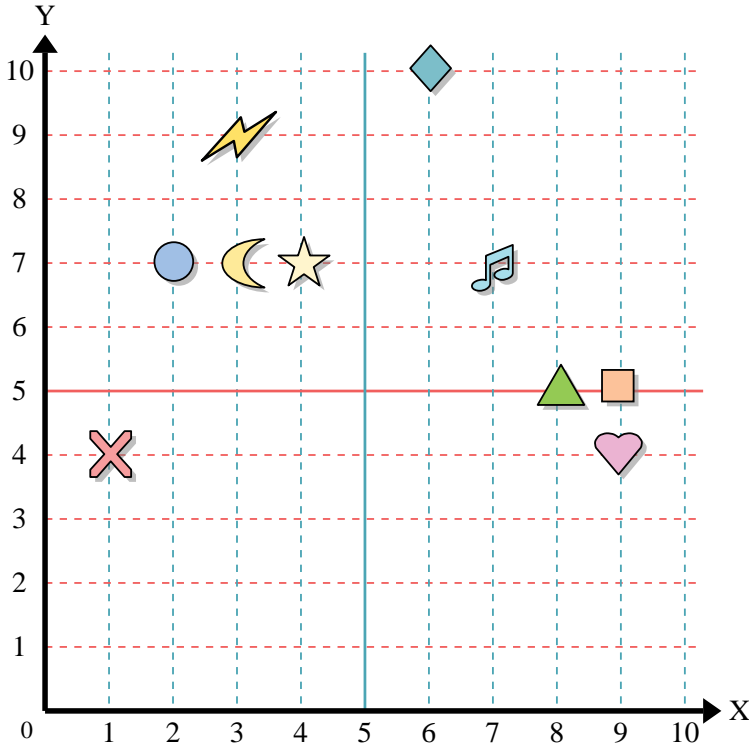
indica quale lettera corrisponde ad ogni coordinata secondo il grafico seguente.

- 11) (8 ; 6) \_\_\_\_\_
- 12) (4 ; 9) \_\_\_\_\_
- 13) (0 ; 10) \_\_\_\_\_
- 14) (0 ; 6) \_\_\_\_\_
- 15) (3 ; 10) \_\_\_\_\_
- 16) (8 ; 2) \_\_\_\_\_
- 17) (1 ; 9) \_\_\_\_\_
- 18) (8 ; 10) \_\_\_\_\_
- 19) (2 ; 9) \_\_\_\_\_
- 20) (4 ; 4) \_\_\_\_\_





Usa la griglia sottostante per determinare le coordinate del punto dove è posizionata ogni figura.



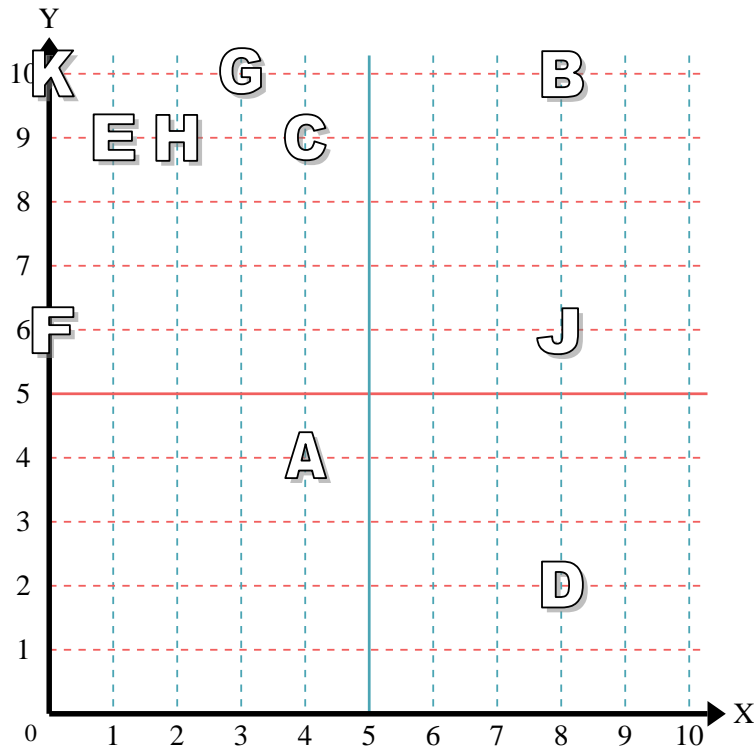
- 1) Stella (4;7)
- 2) Fulmine (3;9)
- 3) Cerchio (2;7)
- 4) Cuore (9;4)
- 5) Croce (1;4)
- 6) Triangolo (8;5)
- 7) Luna (3;7)
- 8) Quadrato (9;5)
- 9) Diamante (6;10)
- 10) Nota Musicale (7;7)

**Risposte**

- 1. (4;7)
- 2. (3;9)
- 3. (2;7)
- 4. (9;4)
- 5. (1;4)
- 6. (8;5)
- 7. (3;7)
- 8. (9;5)
- 9. (6;10)
- 10. (7;7)
- 11. J
- 12. C
- 13. K
- 14. F
- 15. G
- 16. D
- 17. E
- 18. B
- 19. H
- 20. A

indica quale lettera corrisponde ad ogni coordinata secondo il grafico seguente.

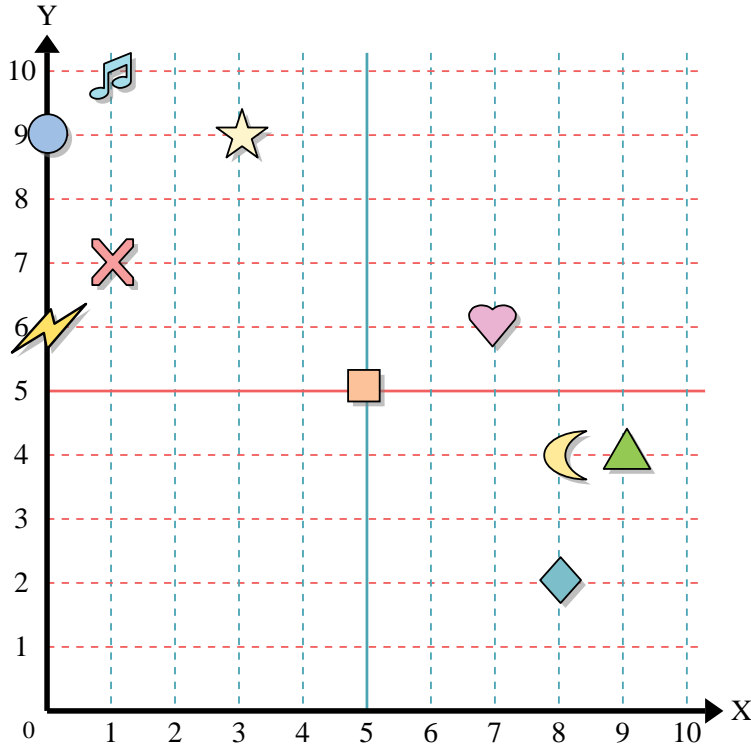
- 11) (8;6) J
- 12) (4;9) C
- 13) (0;10) K
- 14) (0;6) F
- 15) (3;10) G
- 16) (8;2) D
- 17) (1;9) E
- 18) (8;10) B
- 19) (2;9) H
- 20) (4;4) A







Usa la griglia sottostante per determinare le coordinate del punto dove è posizionata ogni figura.



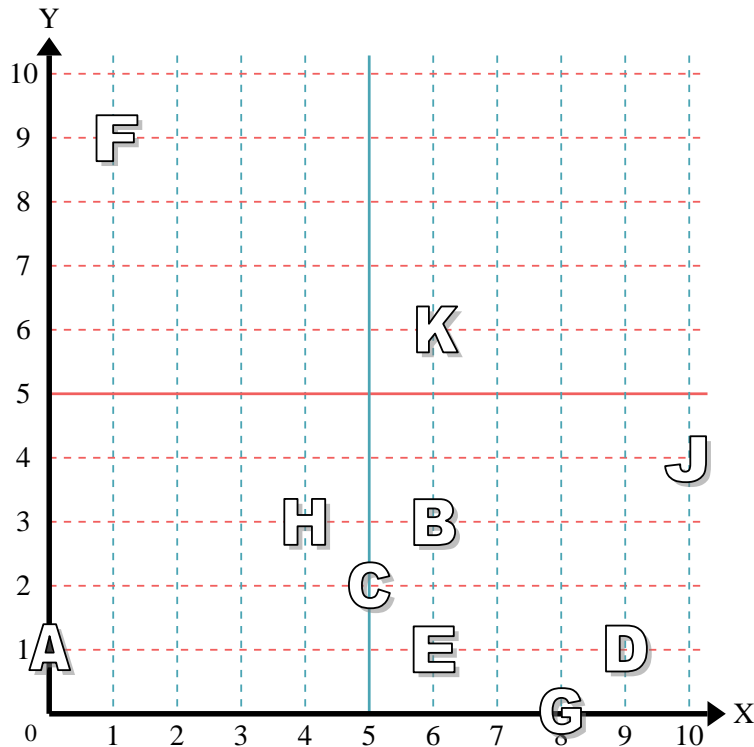
- 1) Stella \_\_\_\_\_
- 2) Fulmine \_\_\_\_\_
- 3) Cerchio \_\_\_\_\_
- 4) Cuore \_\_\_\_\_
- 5) Croce \_\_\_\_\_
- 6) Triangolo \_\_\_\_\_
- 7) Luna \_\_\_\_\_
- 8) Quadrato \_\_\_\_\_
- 9) Diamante \_\_\_\_\_
- 10) Nota Musicale \_\_\_\_\_

**Risposte**

- 1. \_\_\_\_\_
- 2. \_\_\_\_\_
- 3. \_\_\_\_\_
- 4. \_\_\_\_\_
- 5. \_\_\_\_\_
- 6. \_\_\_\_\_
- 7. \_\_\_\_\_
- 8. \_\_\_\_\_
- 9. \_\_\_\_\_
- 10. \_\_\_\_\_
- 11. \_\_\_\_\_
- 12. \_\_\_\_\_
- 13. \_\_\_\_\_
- 14. \_\_\_\_\_
- 15. \_\_\_\_\_
- 16. \_\_\_\_\_
- 17. \_\_\_\_\_
- 18. \_\_\_\_\_
- 19. \_\_\_\_\_
- 20. \_\_\_\_\_

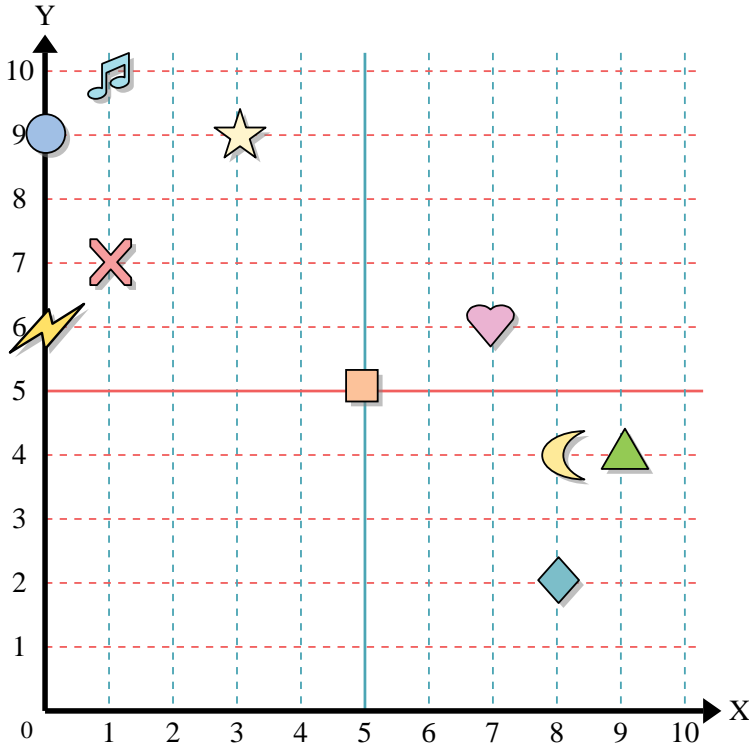
indica quale lettera corrisponde ad ogni coordinata secondo il grafico seguente.

- 11) (6 ; 1) \_\_\_\_\_
- 12) (10 ; 4) \_\_\_\_\_
- 13) (4 ; 3) \_\_\_\_\_
- 14) (9 ; 1) \_\_\_\_\_
- 15) (6 ; 3) \_\_\_\_\_
- 16) (1 ; 9) \_\_\_\_\_
- 17) (6 ; 6) \_\_\_\_\_
- 18) (8 ; 0) \_\_\_\_\_
- 19) (0 ; 1) \_\_\_\_\_
- 20) (5 ; 2) \_\_\_\_\_





Usa la griglia sottostante per determinare le coordinate del punto dove è posizionata ogni figura.



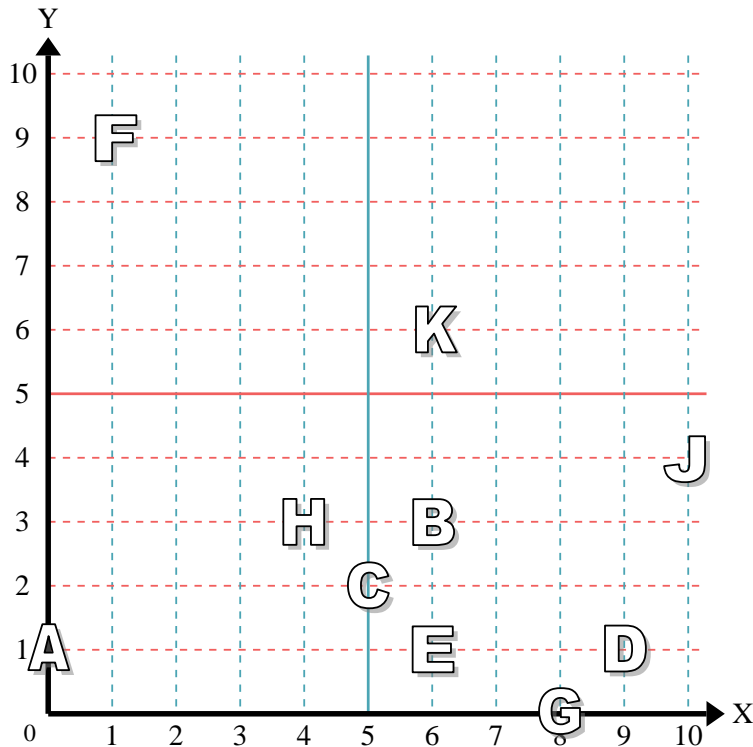
- 1) Stella (3;9)
- 2) Fulmine (0;6)
- 3) Cerchio (0;9)
- 4) Cuore (7;6)
- 5) Croce (1;7)
- 6) Triangolo (9;4)
- 7) Luna (8;4)
- 8) Quadrato (5;5)
- 9) Diamante (8;2)
- 10) Nota Musicale (1;10)

**Risposte**

- 1. (3;9)
- 2. (0;6)
- 3. (0;9)
- 4. (7;6)
- 5. (1;7)
- 6. (9;4)
- 7. (8;4)
- 8. (5;5)
- 9. (8;2)
- 10. (1;10)

indica quale lettera corrisponde ad ogni coordinata secondo il grafico seguente.

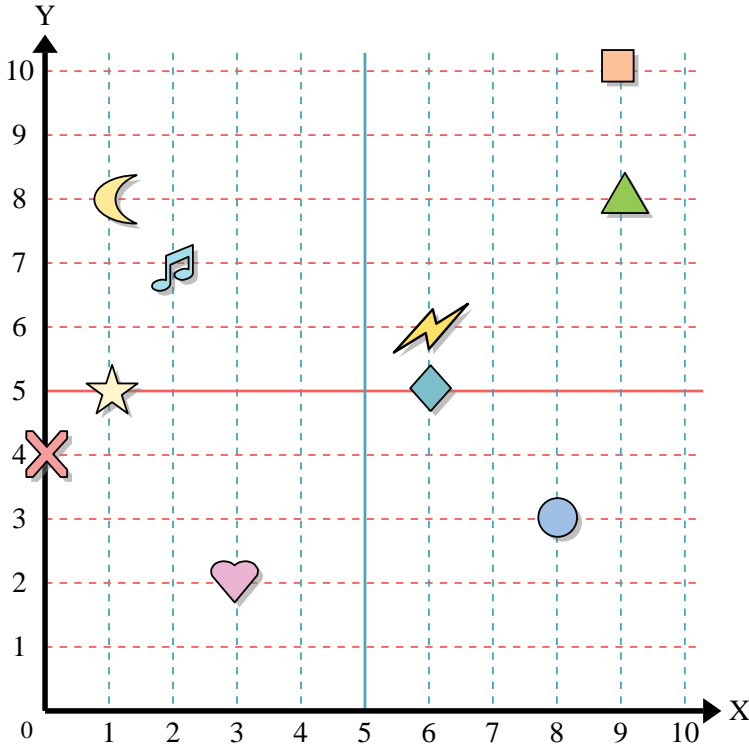
- 11) (6;1) E
- 12) (10;4) J
- 13) (4;3) H
- 14) (9;1) D
- 15) (6;3) B
- 16) (1;9) F
- 17) (6;6) K
- 18) (8;0) G
- 19) (0;1) A
- 20) (5;2) C



- 11. E
- 12. J
- 13. H
- 14. D
- 15. B
- 16. F
- 17. K
- 18. G
- 19. A
- 20. C



Usa la griglia sottostante per determinare le coordinate del punto dove è posizionata ogni figura.



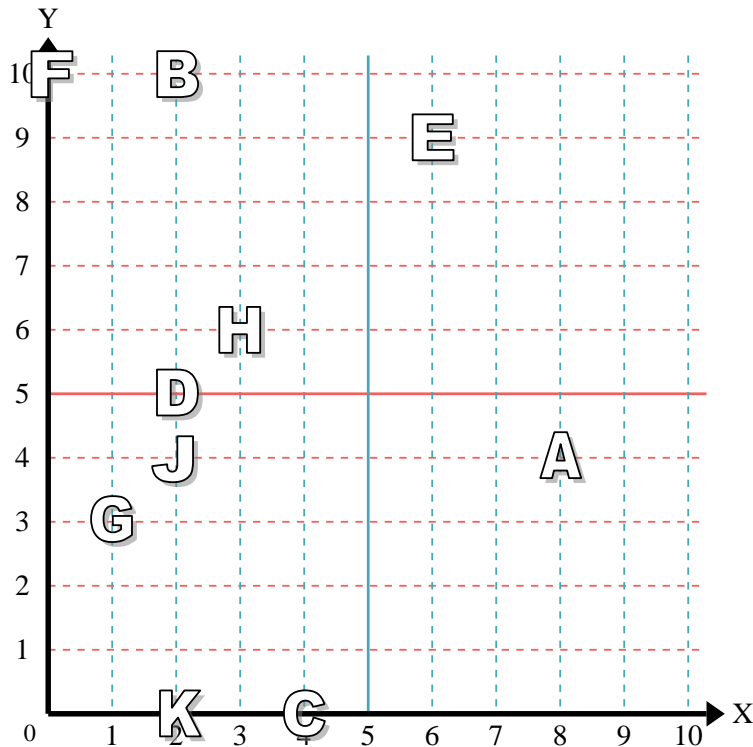
- 1) Stella \_\_\_\_\_
- 2) Fulmine \_\_\_\_\_
- 3) Cerchio \_\_\_\_\_
- 4) Cuore \_\_\_\_\_
- 5) Croce \_\_\_\_\_
- 6) Triangolo \_\_\_\_\_
- 7) Luna \_\_\_\_\_
- 8) Quadrato \_\_\_\_\_
- 9) Diamante \_\_\_\_\_
- 10) Nota Musicale \_\_\_\_\_

**Risposte**

- 1. \_\_\_\_\_
- 2. \_\_\_\_\_
- 3. \_\_\_\_\_
- 4. \_\_\_\_\_
- 5. \_\_\_\_\_
- 6. \_\_\_\_\_
- 7. \_\_\_\_\_
- 8. \_\_\_\_\_
- 9. \_\_\_\_\_
- 10. \_\_\_\_\_
- 11. \_\_\_\_\_
- 12. \_\_\_\_\_
- 13. \_\_\_\_\_
- 14. \_\_\_\_\_
- 15. \_\_\_\_\_
- 16. \_\_\_\_\_
- 17. \_\_\_\_\_
- 18. \_\_\_\_\_
- 19. \_\_\_\_\_
- 20. \_\_\_\_\_

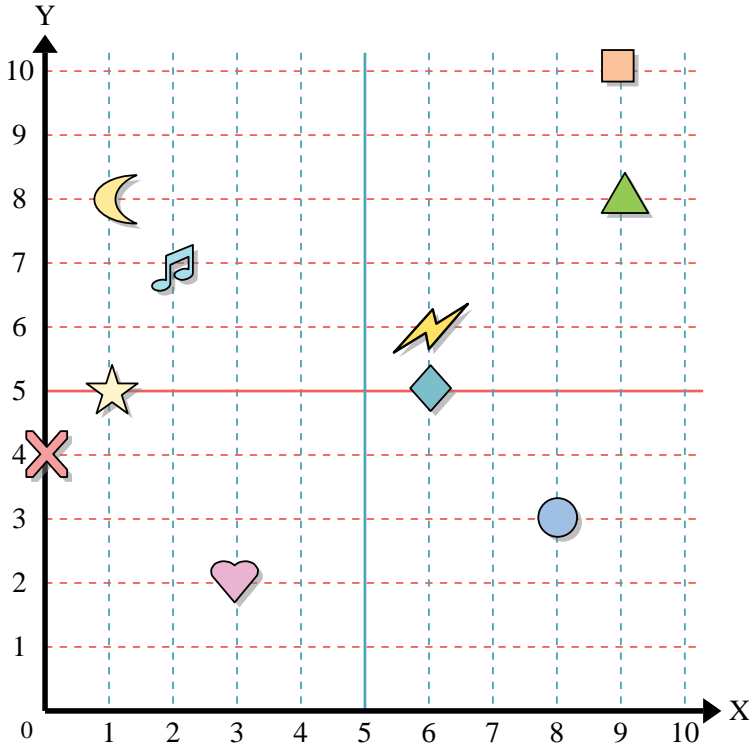
indica quale lettera corrisponde ad ogni coordinata secondo il grafico seguente.

- 11) (3 ; 6) \_\_\_\_\_
- 12) (8 ; 4) \_\_\_\_\_
- 13) (2 ; 0) \_\_\_\_\_
- 14) (2 ; 4) \_\_\_\_\_
- 15) (0 ; 10) \_\_\_\_\_
- 16) (2 ; 5) \_\_\_\_\_
- 17) (1 ; 3) \_\_\_\_\_
- 18) (2 ; 10) \_\_\_\_\_
- 19) (6 ; 9) \_\_\_\_\_
- 20) (4 ; 0) \_\_\_\_\_





Usa la griglia sottostante per determinare le coordinate del punto dove è posizionata ogni figura.



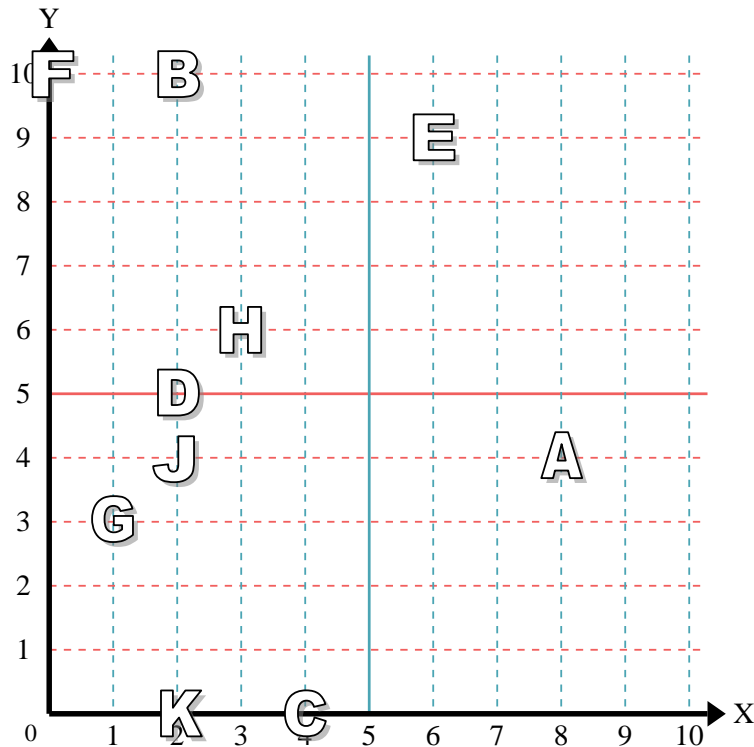
- 1) Stella (1;5)
- 2) Fulmine (6;6)
- 3) Cerchio (8;3)
- 4) Cuore (3;2)
- 5) Croce (0;4)
- 6) Triangolo (9;8)
- 7) Luna (1;8)
- 8) Quadrato (9;10)
- 9) Diamante (6;5)
- 10) Nota Musicale (2;7)

**Risposte**

- 1. (1;5)
- 2. (6;6)
- 3. (8;3)
- 4. (3;2)
- 5. (0;4)
- 6. (9;8)
- 7. (1;8)
- 8. (9;10)
- 9. (6;5)
- 10. (2;7)
- 11. H
- 12. A
- 13. K
- 14. J
- 15. F
- 16. D
- 17. G
- 18. B
- 19. E
- 20. C

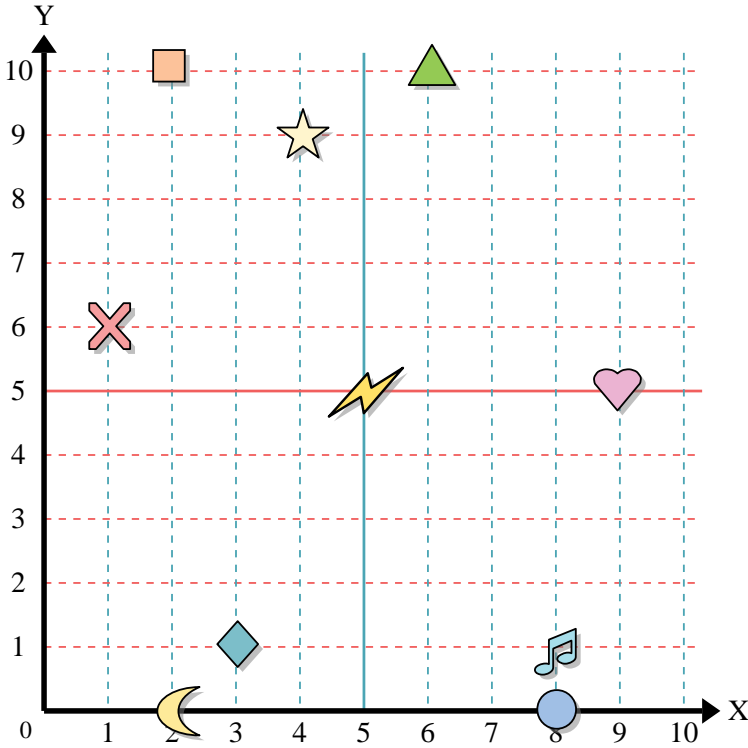
indica quale lettera corrisponde ad ogni coordinata secondo il grafico seguente.

- 11) (3;6) H
- 12) (8;4) A
- 13) (2;0) K
- 14) (2;4) J
- 15) (0;10) F
- 16) (2;5) D
- 17) (1;3) G
- 18) (2;10) B
- 19) (6;9) E
- 20) (4;0) C





Usa la griglia sottostante per determinare le coordinate del punto dove è posizionata ogni figura.



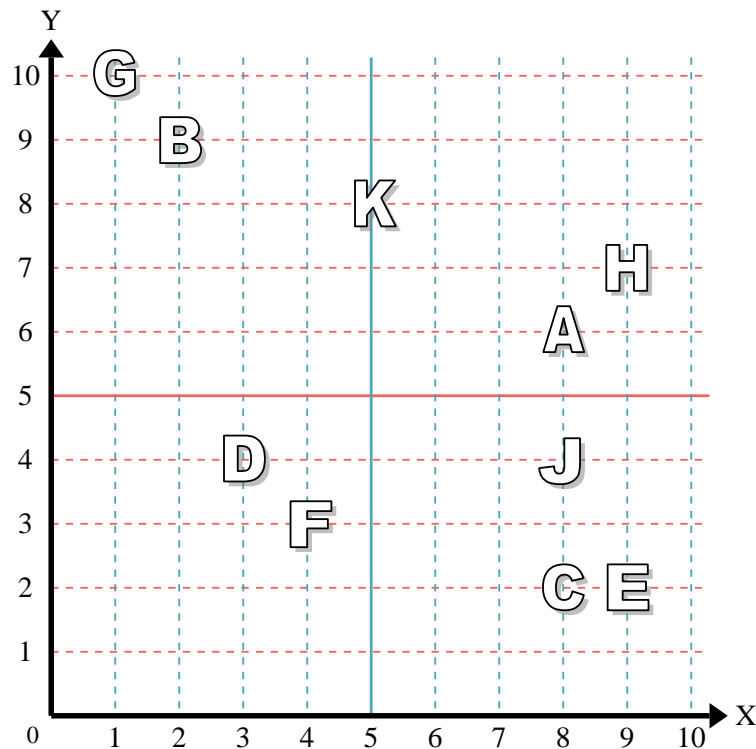
- 1) Stella \_\_\_\_\_
- 2) Fulmine \_\_\_\_\_
- 3) Cerchio \_\_\_\_\_
- 4) Cuore \_\_\_\_\_
- 5) Croce \_\_\_\_\_
- 6) Triangolo \_\_\_\_\_
- 7) Luna \_\_\_\_\_
- 8) Quadrato \_\_\_\_\_
- 9) Diamante \_\_\_\_\_
- 10) Nota Musicale \_\_\_\_\_

**Risposte**

- 1. \_\_\_\_\_
- 2. \_\_\_\_\_
- 3. \_\_\_\_\_
- 4. \_\_\_\_\_
- 5. \_\_\_\_\_
- 6. \_\_\_\_\_
- 7. \_\_\_\_\_
- 8. \_\_\_\_\_
- 9. \_\_\_\_\_
- 10. \_\_\_\_\_
- 11. \_\_\_\_\_
- 12. \_\_\_\_\_
- 13. \_\_\_\_\_
- 14. \_\_\_\_\_
- 15. \_\_\_\_\_
- 16. \_\_\_\_\_
- 17. \_\_\_\_\_
- 18. \_\_\_\_\_
- 19. \_\_\_\_\_
- 20. \_\_\_\_\_

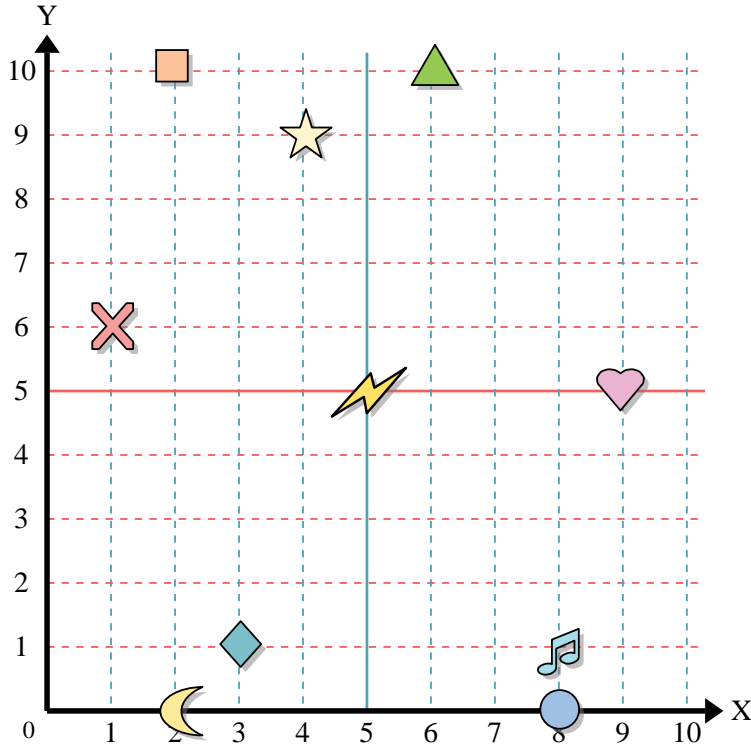
indica quale lettera corrisponde ad ogni coordinata secondo il grafico seguente.

- 11) (5 ; 8) \_\_\_\_\_
- 12) (1 ; 10) \_\_\_\_\_
- 13) (8 ; 4) \_\_\_\_\_
- 14) (4 ; 3) \_\_\_\_\_
- 15) (2 ; 9) \_\_\_\_\_
- 16) (3 ; 4) \_\_\_\_\_
- 17) (9 ; 7) \_\_\_\_\_
- 18) (9 ; 2) \_\_\_\_\_
- 19) (8 ; 2) \_\_\_\_\_
- 20) (8 ; 6) \_\_\_\_\_





Usa la griglia sottostante per determinare le coordinate del punto dove è posizionata ogni figura.



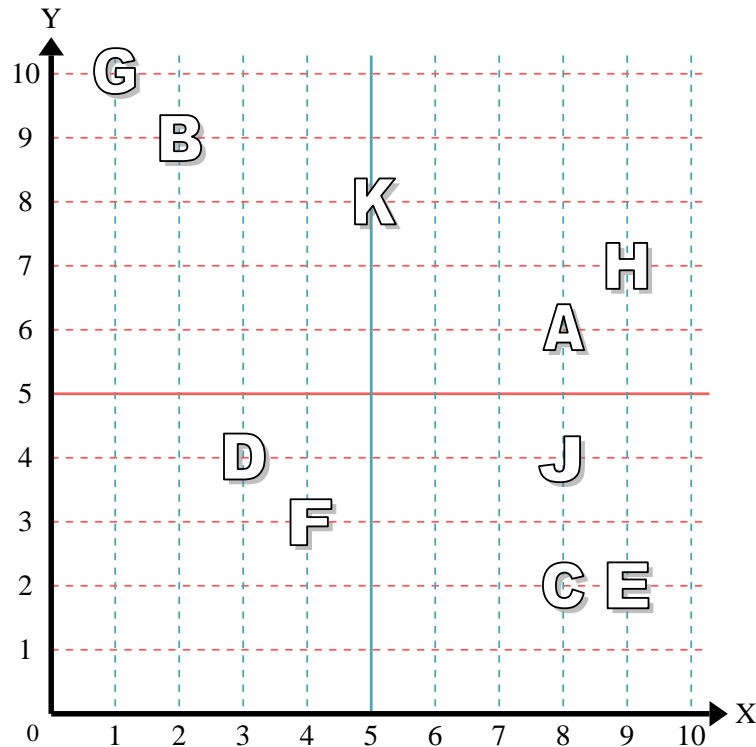
- 1) Stella (4; 9)
- 2) Fulmine (5; 5)
- 3) Cerchio (8; 0)
- 4) Cuore (9; 5)
- 5) Croce (1; 6)
- 6) Triangolo (6; 10)
- 7) Luna (2; 0)
- 8) Quadrato (2; 10)
- 9) Diamante (3; 1)
- 10) Nota Musicale (8; 1)

**Risposte**

- 1. (4; 9)
- 2. (5; 5)
- 3. (8; 0)
- 4. (9; 5)
- 5. (1; 6)
- 6. (6; 10)
- 7. (2; 0)
- 8. (2; 10)
- 9. (3; 1)
- 10. (8; 1)
- 11. K
- 12. G
- 13. J
- 14. F
- 15. B
- 16. D
- 17. H
- 18. E
- 19. C
- 20. A

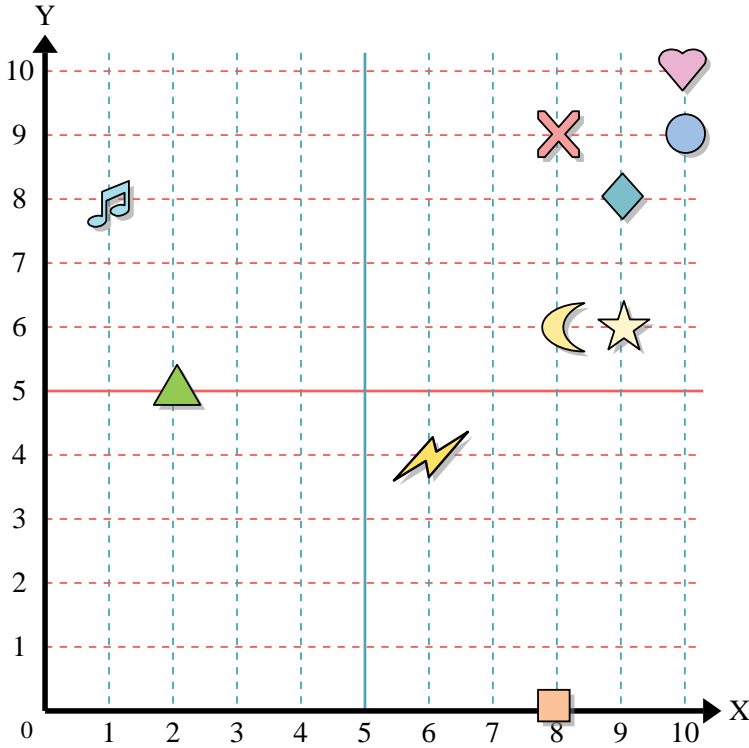
indica quale lettera corrisponde ad ogni coordinata secondo il grafico seguente.

- 11) (5; 8) K
- 12) (1; 10) G
- 13) (8; 4) J
- 14) (4; 3) F
- 15) (2; 9) B
- 16) (3; 4) D
- 17) (9; 7) H
- 18) (9; 2) E
- 19) (8; 2) C
- 20) (8; 6) A





Usa la griglia sottostante per determinare le coordinate del punto dove è posizionata ogni figura.



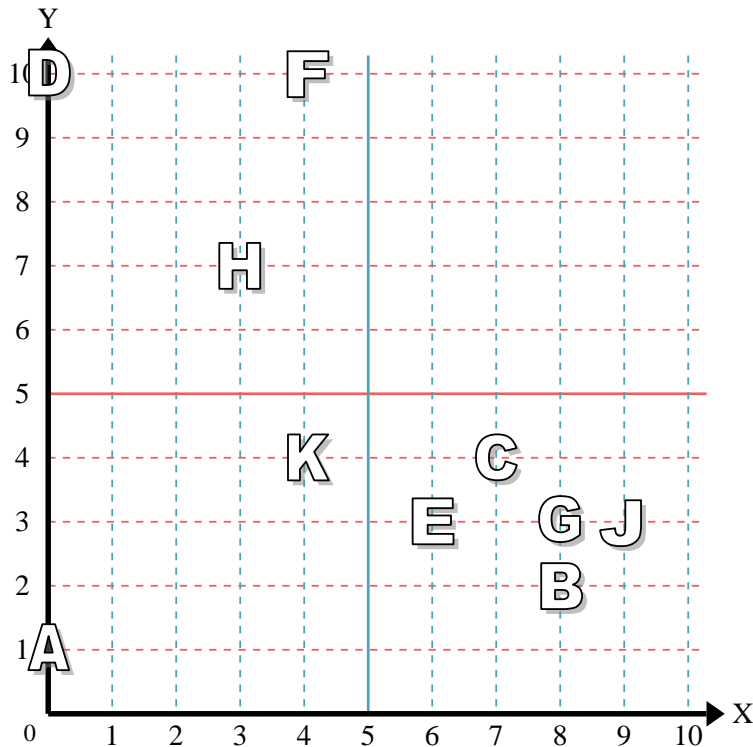
- 1) Stella \_\_\_\_\_
- 2) Fulmine \_\_\_\_\_
- 3) Cerchio \_\_\_\_\_
- 4) Cuore \_\_\_\_\_
- 5) Croce \_\_\_\_\_
- 6) Triangolo \_\_\_\_\_
- 7) Luna \_\_\_\_\_
- 8) Quadrato \_\_\_\_\_
- 9) Diamante \_\_\_\_\_
- 10) Nota Musicale \_\_\_\_\_

**Risposte**

- 1. \_\_\_\_\_
- 2. \_\_\_\_\_
- 3. \_\_\_\_\_
- 4. \_\_\_\_\_
- 5. \_\_\_\_\_
- 6. \_\_\_\_\_
- 7. \_\_\_\_\_
- 8. \_\_\_\_\_
- 9. \_\_\_\_\_
- 10. \_\_\_\_\_
- 11. \_\_\_\_\_
- 12. \_\_\_\_\_
- 13. \_\_\_\_\_
- 14. \_\_\_\_\_
- 15. \_\_\_\_\_
- 16. \_\_\_\_\_
- 17. \_\_\_\_\_
- 18. \_\_\_\_\_
- 19. \_\_\_\_\_
- 20. \_\_\_\_\_

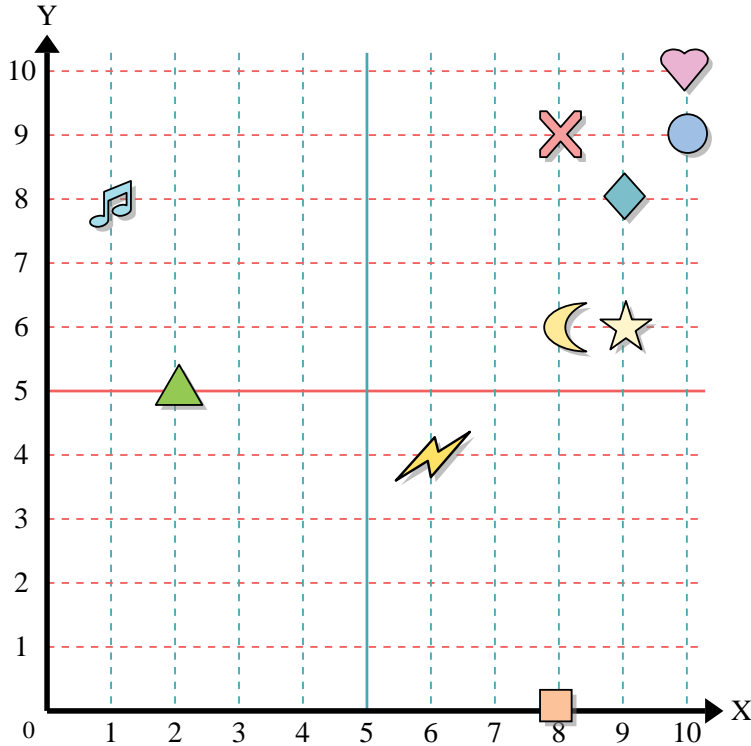
indica quale lettera corrisponde ad ogni coordinata secondo il grafico seguente.

- 11) (3 ; 7) \_\_\_\_\_
- 12) (7 ; 4) \_\_\_\_\_
- 13) (0 ; 10) \_\_\_\_\_
- 14) (0 ; 1) \_\_\_\_\_
- 15) (8 ; 2) \_\_\_\_\_
- 16) (8 ; 3) \_\_\_\_\_
- 17) (9 ; 3) \_\_\_\_\_
- 18) (4 ; 4) \_\_\_\_\_
- 19) (6 ; 3) \_\_\_\_\_
- 20) (4 ; 10) \_\_\_\_\_





Usa la griglia sottostante per determinare le coordinate del punto dove è posizionata ogni figura.



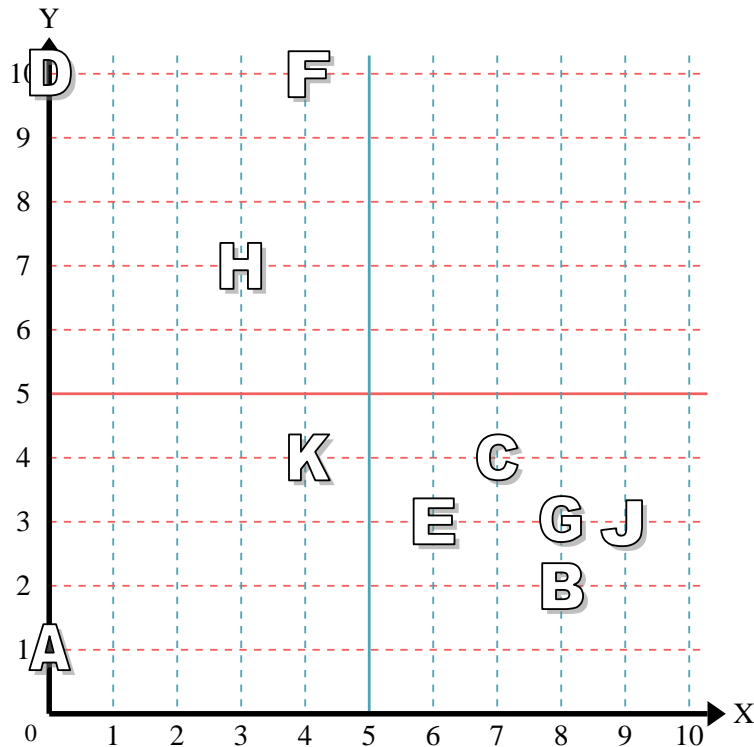
- 1) Stella (9; 6)
- 2) Fulmine (6; 4)
- 3) Cerchio (10; 9)
- 4) Cuore (10; 10)
- 5) Croce (8; 9)
- 6) Triangolo (2; 5)
- 7) Luna (8; 6)
- 8) Quadrato (8; 0)
- 9) Diamante (9; 8)
- 10) Nota Musicale (1; 8)

**Risposte**

- 1. (9; 6)
- 2. (6; 4)
- 3. (10; 9)
- 4. (10; 10)
- 5. (8; 9)
- 6. (2; 5)
- 7. (8; 6)
- 8. (8; 0)
- 9. (9; 8)
- 10. (1; 8)

indica quale lettera corrisponde ad ogni coordinata secondo il grafico seguente.

- 11) (3; 7) H
- 12) (7; 4) C
- 13) (0; 10) D
- 14) (0; 1) A
- 15) (8; 2) B
- 16) (8; 3) G
- 17) (9; 3) J
- 18) (4; 4) K
- 19) (6; 3) E
- 20) (4; 10) F

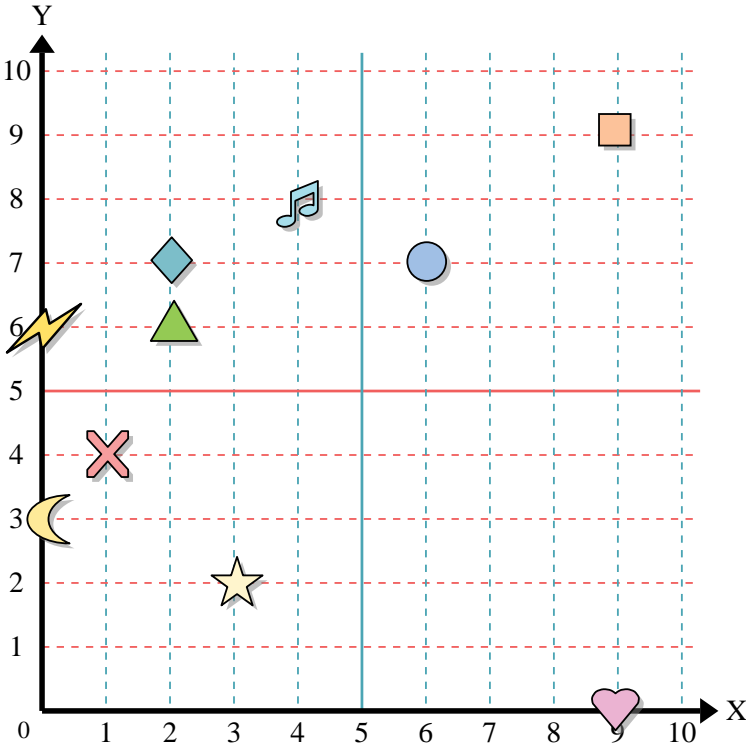


- 11. H
- 12. C
- 13. D
- 14. A
- 15. B
- 16. G
- 17. J
- 18. K
- 19. E
- 20. F





Usa la griglia sottostante per determinare le coordinate del punto dove è posizionata ogni figura.



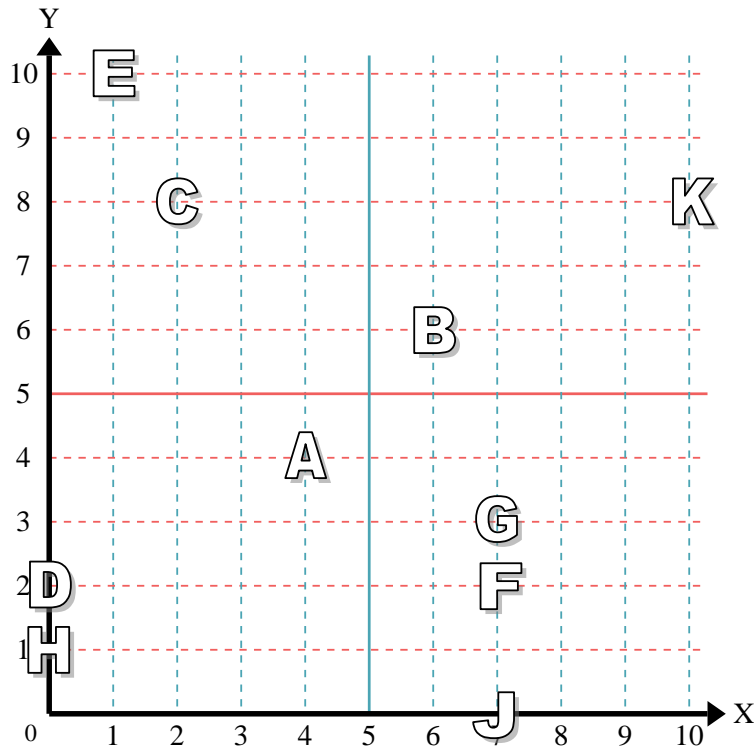
- 1) Stella \_\_\_\_\_
- 2) Fulmine \_\_\_\_\_
- 3) Cerchio \_\_\_\_\_
- 4) Cuore \_\_\_\_\_
- 5) Croce \_\_\_\_\_
- 6) Triangolo \_\_\_\_\_
- 7) Luna \_\_\_\_\_
- 8) Quadrato \_\_\_\_\_
- 9) Diamante \_\_\_\_\_
- 10) Nota Musicale \_\_\_\_\_

**Risposte**

- 1. \_\_\_\_\_
- 2. \_\_\_\_\_
- 3. \_\_\_\_\_
- 4. \_\_\_\_\_
- 5. \_\_\_\_\_
- 6. \_\_\_\_\_
- 7. \_\_\_\_\_
- 8. \_\_\_\_\_
- 9. \_\_\_\_\_
- 10. \_\_\_\_\_
- 11. \_\_\_\_\_
- 12. \_\_\_\_\_
- 13. \_\_\_\_\_
- 14. \_\_\_\_\_
- 15. \_\_\_\_\_
- 16. \_\_\_\_\_
- 17. \_\_\_\_\_
- 18. \_\_\_\_\_
- 19. \_\_\_\_\_
- 20. \_\_\_\_\_

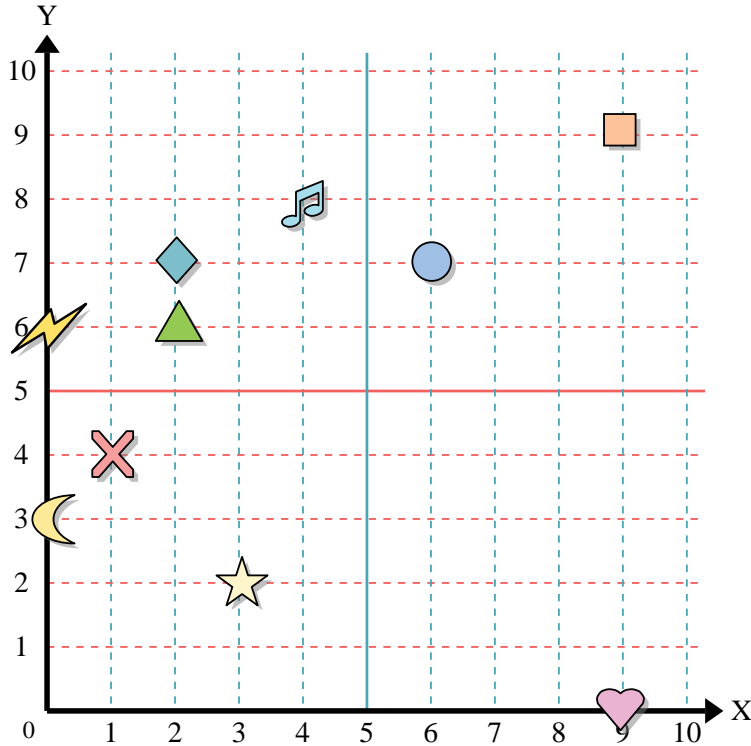
indica quale lettera corrisponde ad ogni coordinata secondo il grafico seguente.

- 11) (0 ; 2) \_\_\_\_\_
- 12) (7 ; 3) \_\_\_\_\_
- 13) (10 ; 8) \_\_\_\_\_
- 14) (6 ; 6) \_\_\_\_\_
- 15) (7 ; 0) \_\_\_\_\_
- 16) (2 ; 8) \_\_\_\_\_
- 17) (4 ; 4) \_\_\_\_\_
- 18) (7 ; 2) \_\_\_\_\_
- 19) (1 ; 10) \_\_\_\_\_
- 20) (0 ; 1) \_\_\_\_\_





Usa la griglia sottostante per determinare le coordinate del punto dove è posizionata ogni figura.



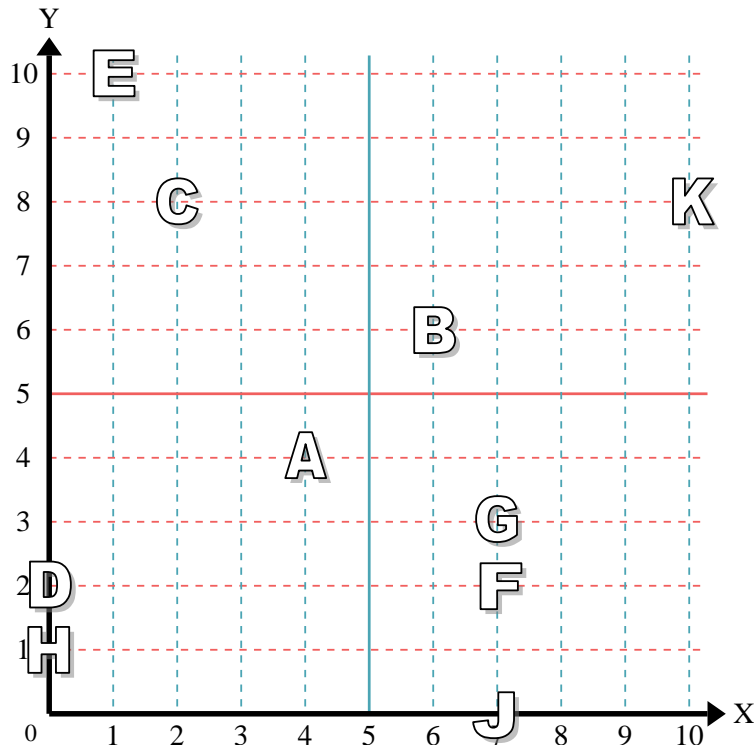
- 1) Stella (3;2)
- 2) Fulmine (0;6)
- 3) Cerchio (6;7)
- 4) Cuore (9;0)
- 5) Croce (1;4)
- 6) Triangolo (2;6)
- 7) Luna (0;3)
- 8) Quadrato (9;9)
- 9) Diamante (2;7)
- 10) Nota Musicale (4;8)

**Risposte**

- 1. (3;2)
- 2. (0;6)
- 3. (6;7)
- 4. (9;0)
- 5. (1;4)
- 6. (2;6)
- 7. (0;3)
- 8. (9;9)
- 9. (2;7)
- 10. (4;8)
- 11. D
- 12. G
- 13. K
- 14. B
- 15. J
- 16. C
- 17. A
- 18. F
- 19. E
- 20. H

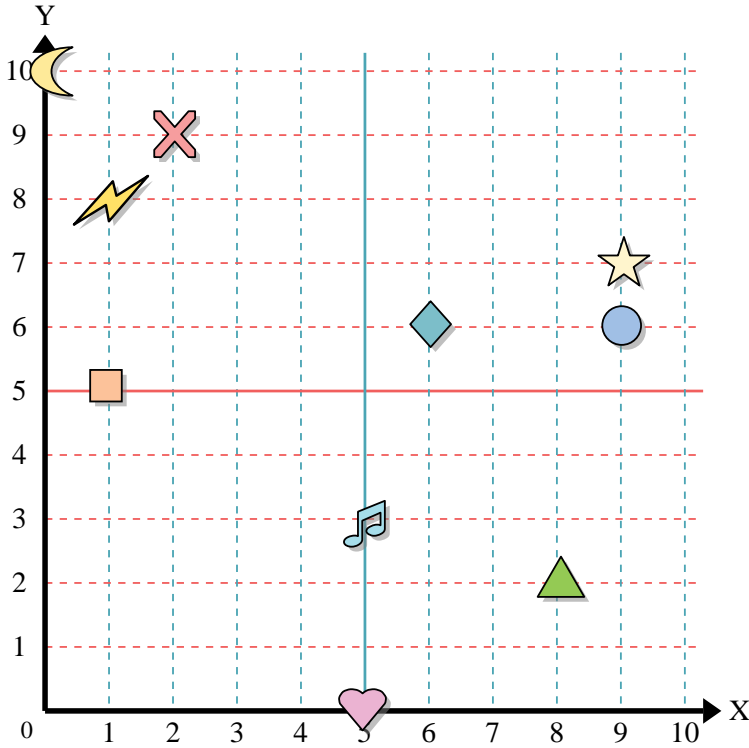
indica quale lettera corrisponde ad ogni coordinata secondo il grafico seguente.

- 11) (0;2) D
- 12) (7;3) G
- 13) (10;8) K
- 14) (6;6) B
- 15) (7;0) J
- 16) (2;8) C
- 17) (4;4) A
- 18) (7;2) F
- 19) (1;10) E
- 20) (0;1) H





Usa la griglia sottostante per determinare le coordinate del punto dove è posizionata ogni figura.



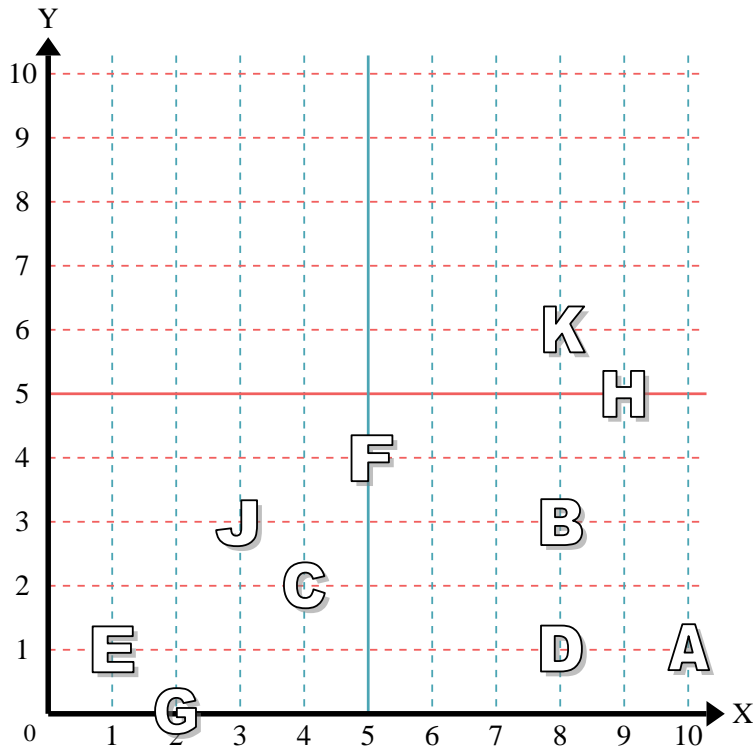
- 1) Stella \_\_\_\_\_
- 2) Fulmine \_\_\_\_\_
- 3) Cerchio \_\_\_\_\_
- 4) Cuore \_\_\_\_\_
- 5) Croce \_\_\_\_\_
- 6) Triangolo \_\_\_\_\_
- 7) Luna \_\_\_\_\_
- 8) Quadrato \_\_\_\_\_
- 9) Diamante \_\_\_\_\_
- 10) Nota Musicale \_\_\_\_\_

**Risposte**

- 1. \_\_\_\_\_
- 2. \_\_\_\_\_
- 3. \_\_\_\_\_
- 4. \_\_\_\_\_
- 5. \_\_\_\_\_
- 6. \_\_\_\_\_
- 7. \_\_\_\_\_
- 8. \_\_\_\_\_
- 9. \_\_\_\_\_
- 10. \_\_\_\_\_
- 11. \_\_\_\_\_
- 12. \_\_\_\_\_
- 13. \_\_\_\_\_
- 14. \_\_\_\_\_
- 15. \_\_\_\_\_
- 16. \_\_\_\_\_
- 17. \_\_\_\_\_
- 18. \_\_\_\_\_
- 19. \_\_\_\_\_
- 20. \_\_\_\_\_

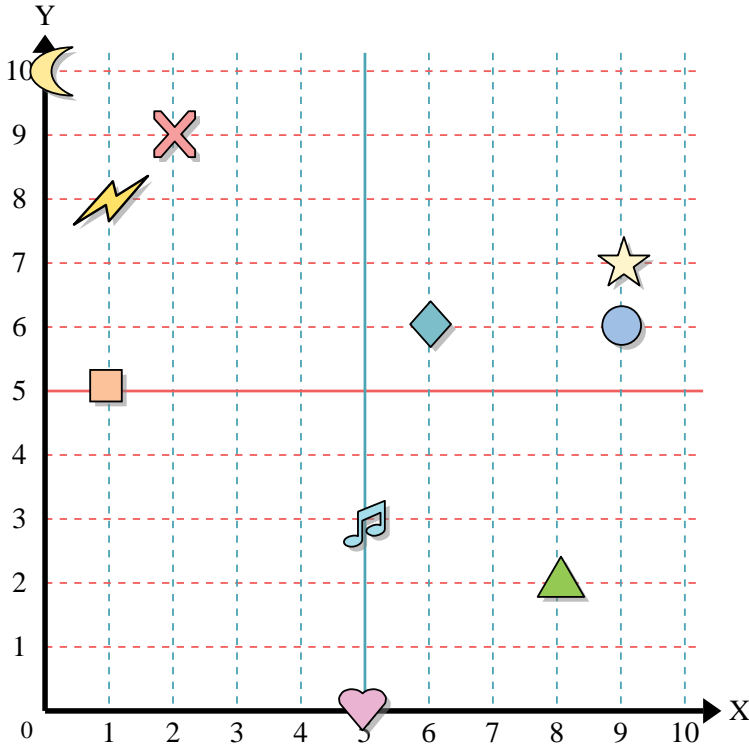
indica quale lettera corrisponde ad ogni coordinata secondo il grafico seguente.

- 11) (3 ; 3) \_\_\_\_\_
- 12) (10 ; 1) \_\_\_\_\_
- 13) (8 ; 3) \_\_\_\_\_
- 14) (2 ; 0) \_\_\_\_\_
- 15) (9 ; 5) \_\_\_\_\_
- 16) (1 ; 1) \_\_\_\_\_
- 17) (5 ; 4) \_\_\_\_\_
- 18) (8 ; 6) \_\_\_\_\_
- 19) (4 ; 2) \_\_\_\_\_
- 20) (8 ; 1) \_\_\_\_\_





Usa la griglia sottostante per determinare le coordinate del punto dove è posizionata ogni figura.



- 1) Stella (9; 7)
- 2) Fulmine (1; 8)
- 3) Cerchio (9; 6)
- 4) Cuore (5; 0)
- 5) Croce (2; 9)
- 6) Triangolo (8; 2)
- 7) Luna (0; 10)
- 8) Quadrato (1; 5)
- 9) Diamante (6; 6)
- 10) Nota Musicale (5; 3)

**Risposte**

- 1. (9; 7)
- 2. (1; 8)
- 3. (9; 6)
- 4. (5; 0)
- 5. (2; 9)
- 6. (8; 2)
- 7. (0; 10)
- 8. (1; 5)
- 9. (6; 6)
- 10. (5; 3)
- 11. J
- 12. A
- 13. B
- 14. G
- 15. H
- 16. E
- 17. F
- 18. K
- 19. C
- 20. D

indica quale lettera corrisponde ad ogni coordinata secondo il grafico seguente.

- 11) (3; 3) J
- 12) (10; 1) A
- 13) (8; 3) B
- 14) (2; 0) G
- 15) (9; 5) H
- 16) (1; 1) E
- 17) (5; 4) F
- 18) (8; 6) K
- 19) (4; 2) C
- 20) (8; 1) D

