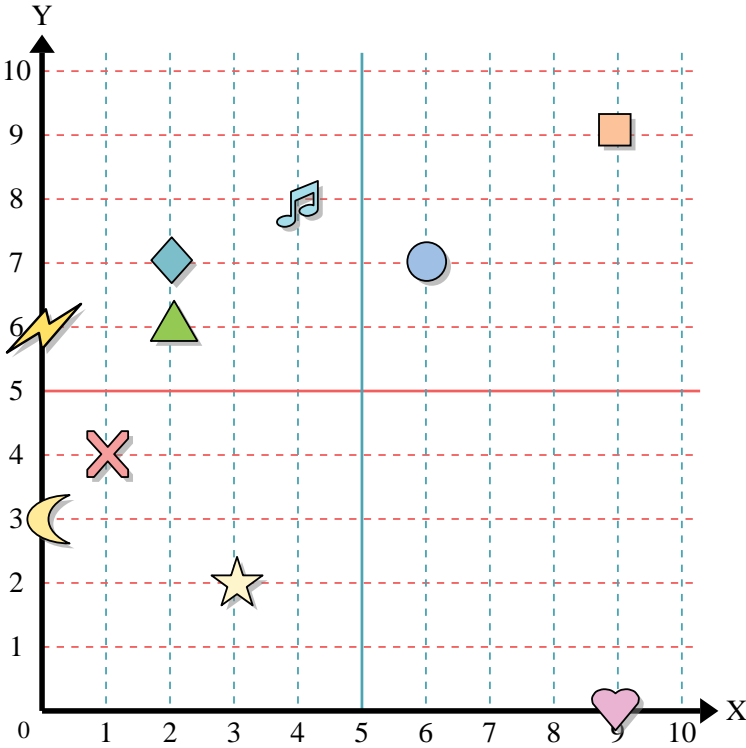




Usa la griglia sottostante per determinare le coordinate del punto dove è posizionata ogni figura.



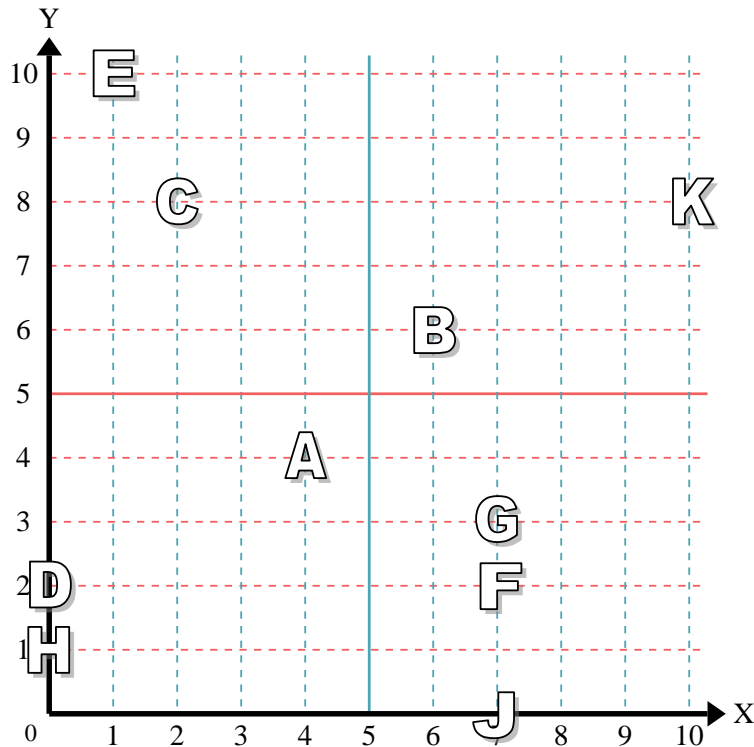
- 1) Stella _____
- 2) Fulmine _____
- 3) Cerchio _____
- 4) Cuore _____
- 5) Croce _____
- 6) Triangolo _____
- 7) Luna _____
- 8) Quadrato _____
- 9) Diamante _____
- 10) Nota Musicale _____

Risposte

- 1. _____
- 2. _____
- 3. _____
- 4. _____
- 5. _____
- 6. _____
- 7. _____
- 8. _____
- 9. _____
- 10. _____
- 11. _____
- 12. _____
- 13. _____
- 14. _____
- 15. _____
- 16. _____
- 17. _____
- 18. _____
- 19. _____
- 20. _____

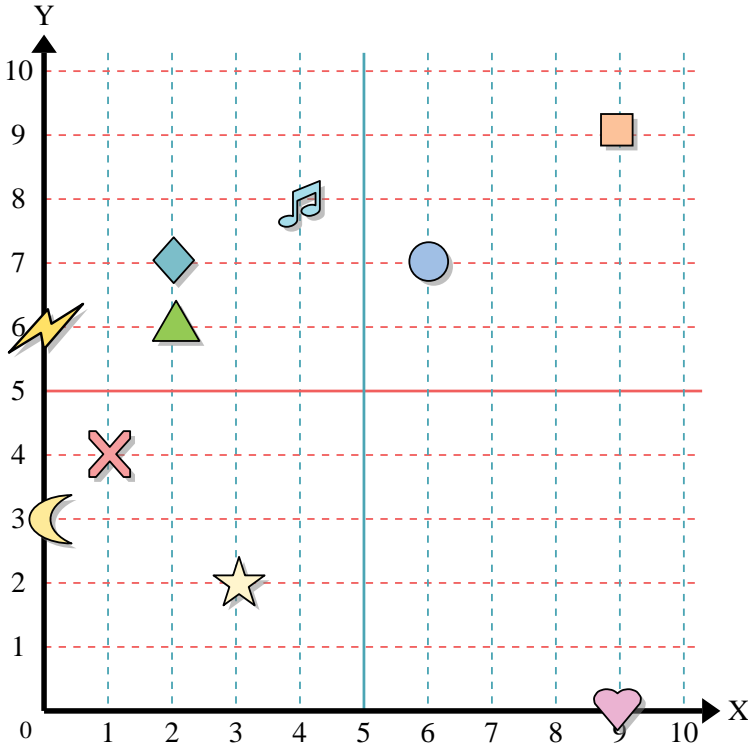
indica quale lettera corrisponde ad ogni coordinata secondo il grafico seguente.

- 11) (0 ; 2) _____
- 12) (7 ; 3) _____
- 13) (10 ; 8) _____
- 14) (6 ; 6) _____
- 15) (7 ; 0) _____
- 16) (2 ; 8) _____
- 17) (4 ; 4) _____
- 18) (7 ; 2) _____
- 19) (1 ; 10) _____
- 20) (0 ; 1) _____





Usa la griglia sottostante per determinare le coordinate del punto dove è posizionata ogni figura.



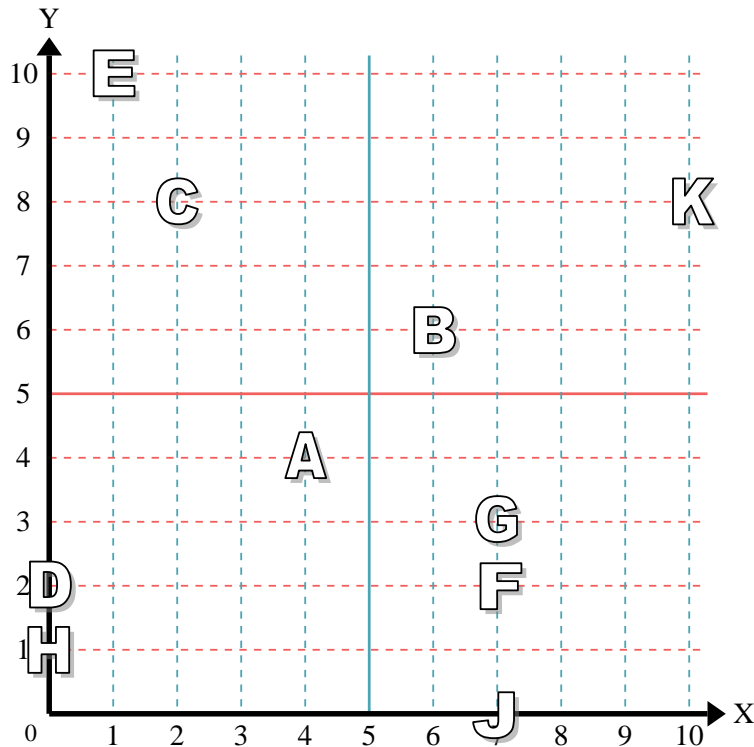
- 1) Stella (3;2)
- 2) Fulmine (0;6)
- 3) Cerchio (6;7)
- 4) Cuore (9;0)
- 5) Croce (1;4)
- 6) Triangolo (2;6)
- 7) Luna (0;3)
- 8) Quadrato (9;9)
- 9) Diamante (2;7)
- 10) Nota Musicale (4;8)

Risposte

- 1. (3;2)
- 2. (0;6)
- 3. (6;7)
- 4. (9;0)
- 5. (1;4)
- 6. (2;6)
- 7. (0;3)
- 8. (9;9)
- 9. (2;7)
- 10. (4;8)

indica quale lettera corrisponde ad ogni coordinata secondo il grafico seguente.

- 11) (0;2) D
- 12) (7;3) G
- 13) (10;8) K
- 14) (6;6) B
- 15) (7;0) J
- 16) (2;8) C
- 17) (4;4) A
- 18) (7;2) F
- 19) (1;10) E
- 20) (0;1) H



- 11. D
- 12. G
- 13. K
- 14. B
- 15. J
- 16. C
- 17. A
- 18. F
- 19. E
- 20. H