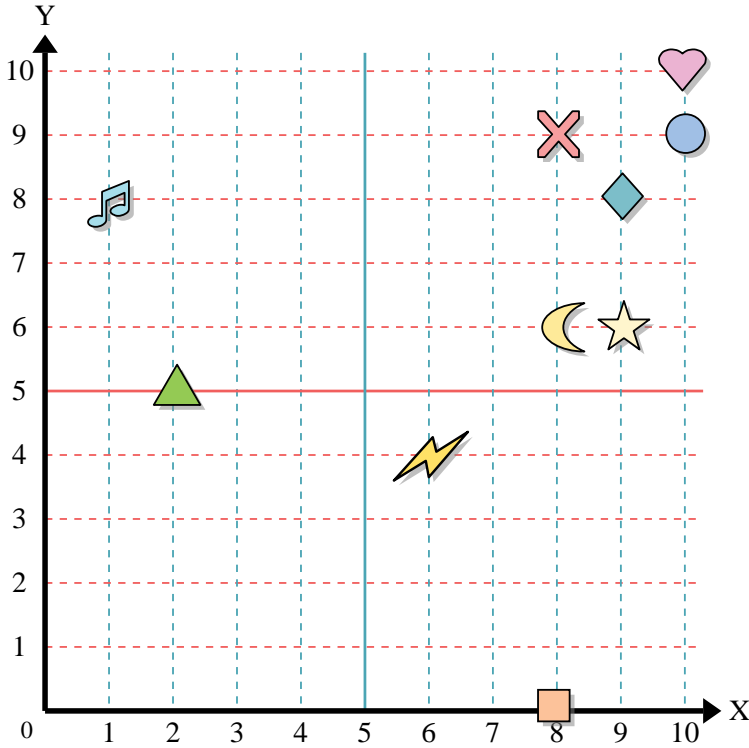




Usa la griglia sottostante per determinare le coordinate del punto dove è posizionata ogni figura.



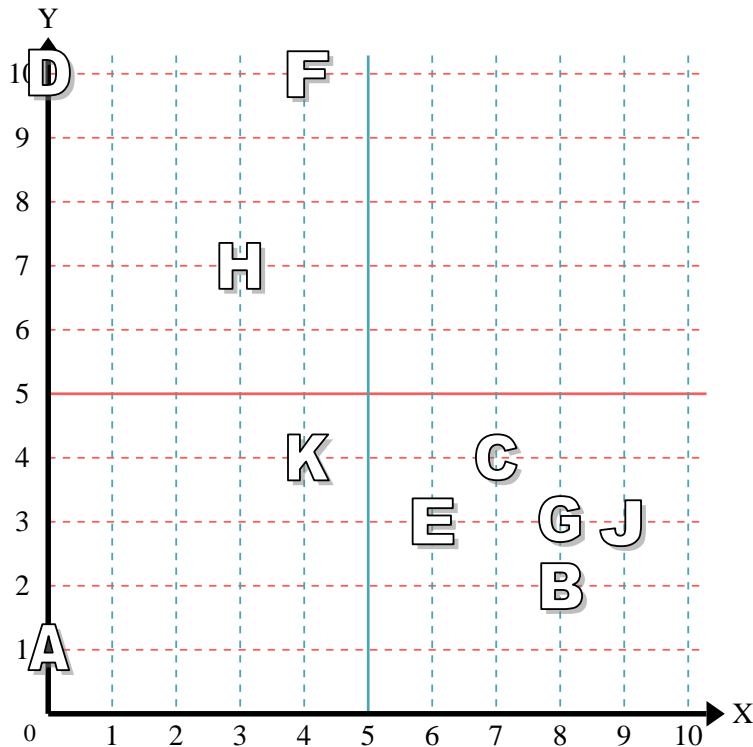
- 1) Stella _____
- 2) Fulmine _____
- 3) Cerchio _____
- 4) Cuore _____
- 5) Croce _____
- 6) Triangolo _____
- 7) Luna _____
- 8) Quadrato _____
- 9) Diamante _____
- 10) Nota Musicale _____

Risposte

- 1. _____
- 2. _____
- 3. _____
- 4. _____
- 5. _____
- 6. _____
- 7. _____
- 8. _____
- 9. _____
- 10. _____
- 11. _____
- 12. _____
- 13. _____
- 14. _____
- 15. _____
- 16. _____
- 17. _____
- 18. _____
- 19. _____
- 20. _____

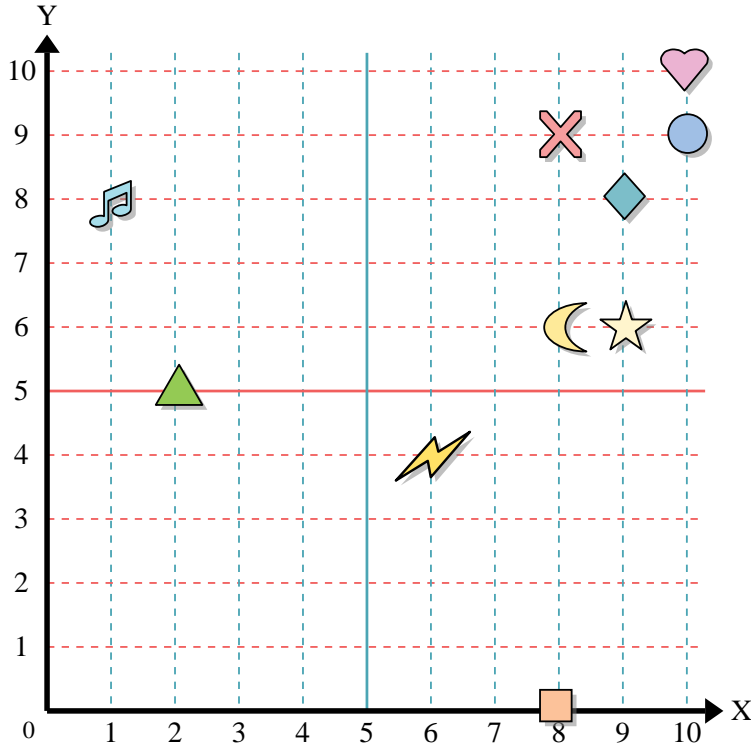
indica quale lettera corrisponde ad ogni coordinata secondo il grafico seguente.

- 11) (3 ; 7) _____
- 12) (7 ; 4) _____
- 13) (0 ; 10) _____
- 14) (0 ; 1) _____
- 15) (8 ; 2) _____
- 16) (8 ; 3) _____
- 17) (9 ; 3) _____
- 18) (4 ; 4) _____
- 19) (6 ; 3) _____
- 20) (4 ; 10) _____





Usa la griglia sottostante per determinare le coordinate del punto dove è posizionata ogni figura.



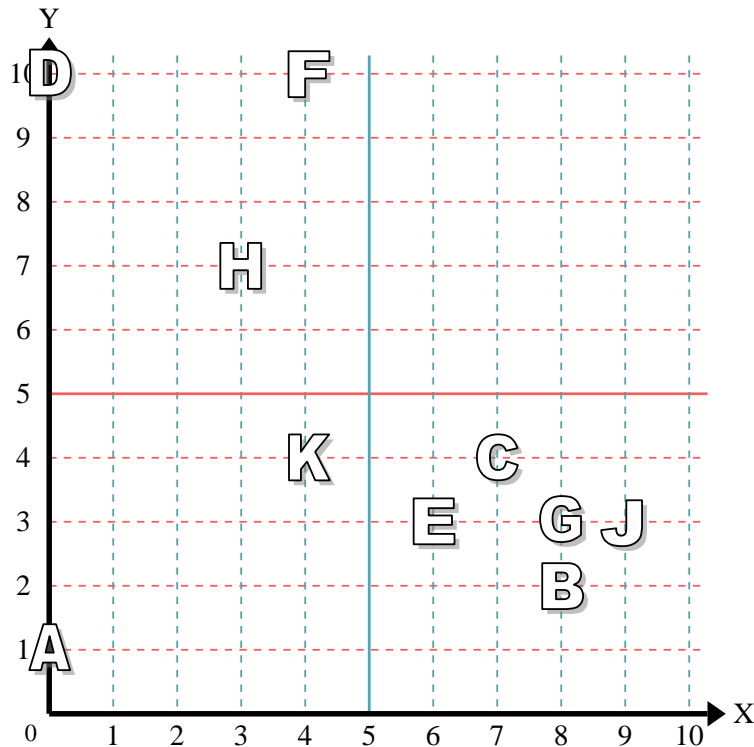
- 1) Stella (9; 6)
- 2) Fulmine (6; 4)
- 3) Cerchio (10; 9)
- 4) Cuore (10; 10)
- 5) Croce (8; 9)
- 6) Triangolo (2; 5)
- 7) Luna (8; 6)
- 8) Quadrato (8; 0)
- 9) Diamante (9; 8)
- 10) Nota Musicale (1; 8)

Risposte

- 1. (9; 6)
- 2. (6; 4)
- 3. (10; 9)
- 4. (10; 10)
- 5. (8; 9)
- 6. (2; 5)
- 7. (8; 6)
- 8. (8; 0)
- 9. (9; 8)
- 10. (1; 8)

indica quale lettera corrisponde ad ogni coordinata secondo il grafico seguente.

- 11) (3; 7) H
- 12) (7; 4) C
- 13) (0; 10) D
- 14) (0; 1) A
- 15) (8; 2) B
- 16) (8; 3) G
- 17) (9; 3) J
- 18) (4; 4) K
- 19) (6; 3) E
- 20) (4; 10) F



- 11. H
- 12. C
- 13. D
- 14. A
- 15. B
- 16. G
- 17. J
- 18. K
- 19. E
- 20. F