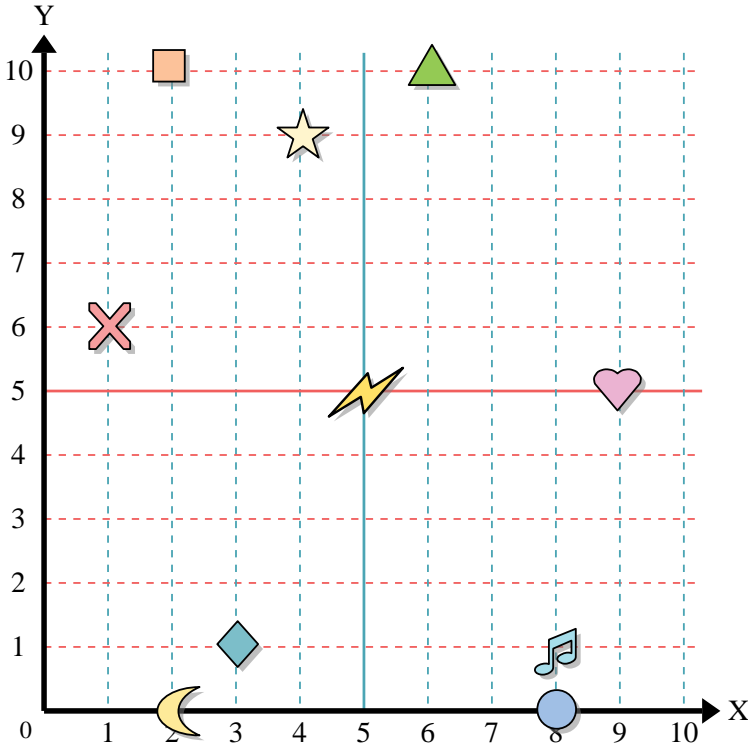




Usa la griglia sottostante per determinare le coordinate del punto dove è posizionata ogni figura.



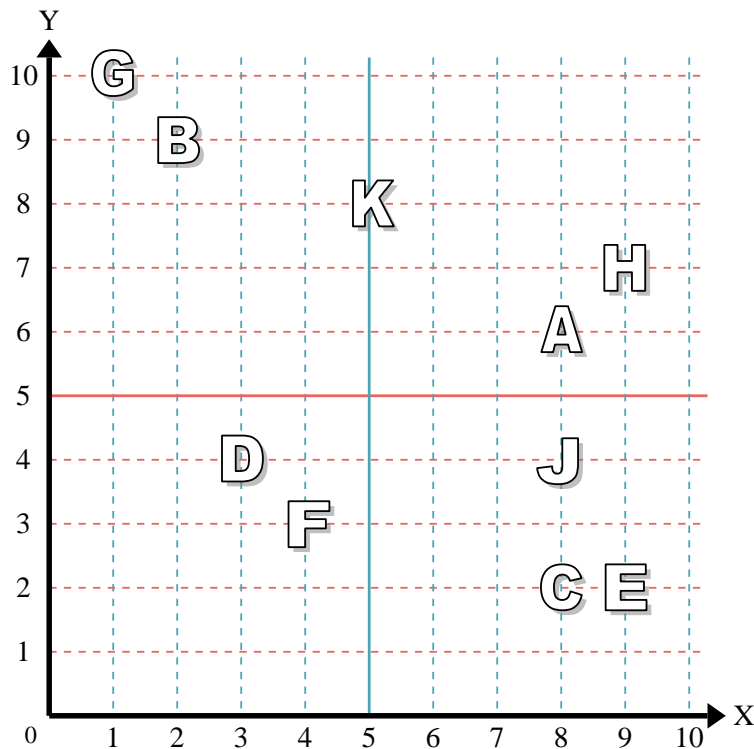
- 1) Stella _____
- 2) Fulmine _____
- 3) Cerchio _____
- 4) Cuore _____
- 5) Croce _____
- 6) Triangolo _____
- 7) Luna _____
- 8) Quadrato _____
- 9) Diamante _____
- 10) Nota Musicale _____

Risposte

- 1. _____
- 2. _____
- 3. _____
- 4. _____
- 5. _____
- 6. _____
- 7. _____
- 8. _____
- 9. _____
- 10. _____
- 11. _____
- 12. _____
- 13. _____
- 14. _____
- 15. _____
- 16. _____
- 17. _____
- 18. _____
- 19. _____
- 20. _____

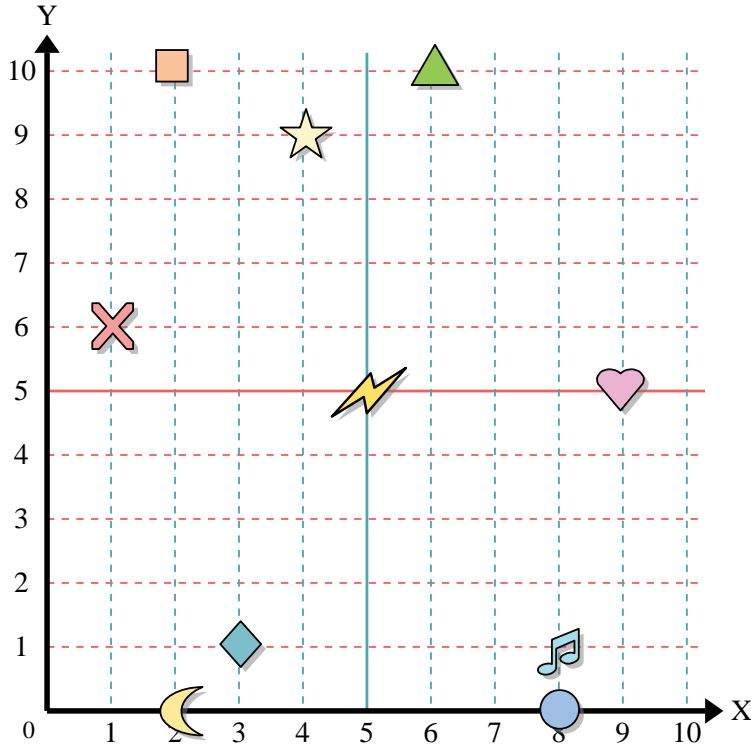
indica quale lettera corrisponde ad ogni coordinata secondo il grafico seguente.

- 11) (5 ; 8) _____
- 12) (1 ; 10) _____
- 13) (8 ; 4) _____
- 14) (4 ; 3) _____
- 15) (2 ; 9) _____
- 16) (3 ; 4) _____
- 17) (9 ; 7) _____
- 18) (9 ; 2) _____
- 19) (8 ; 2) _____
- 20) (8 ; 6) _____





Usa la griglia sottostante per determinare le coordinate del punto dove è posizionata ogni figura.



- 1) Stella (4;9)
- 2) Fulmine (5;5)
- 3) Cerchio (8;0)
- 4) Cuore (9;5)
- 5) Croce (1;6)
- 6) Triangolo (6;10)
- 7) Luna (2;0)
- 8) Quadrato (2;10)
- 9) Diamante (3;1)
- 10) Nota Musicale (8;1)

Risposte

- 1. (4;9)
- 2. (5;5)
- 3. (8;0)
- 4. (9;5)
- 5. (1;6)
- 6. (6;10)
- 7. (2;0)
- 8. (2;10)
- 9. (3;1)
- 10. (8;1)
- 11. K
- 12. G
- 13. J
- 14. F
- 15. B
- 16. D
- 17. H
- 18. E
- 19. C
- 20. A

indica quale lettera corrisponde ad ogni coordinata secondo il grafico seguente.

- 11) (5;8) K
- 12) (1;10) G
- 13) (8;4) J
- 14) (4;3) F
- 15) (2;9) B
- 16) (3;4) D
- 17) (9;7) H
- 18) (9;2) E
- 19) (8;2) C
- 20) (8;6) A

