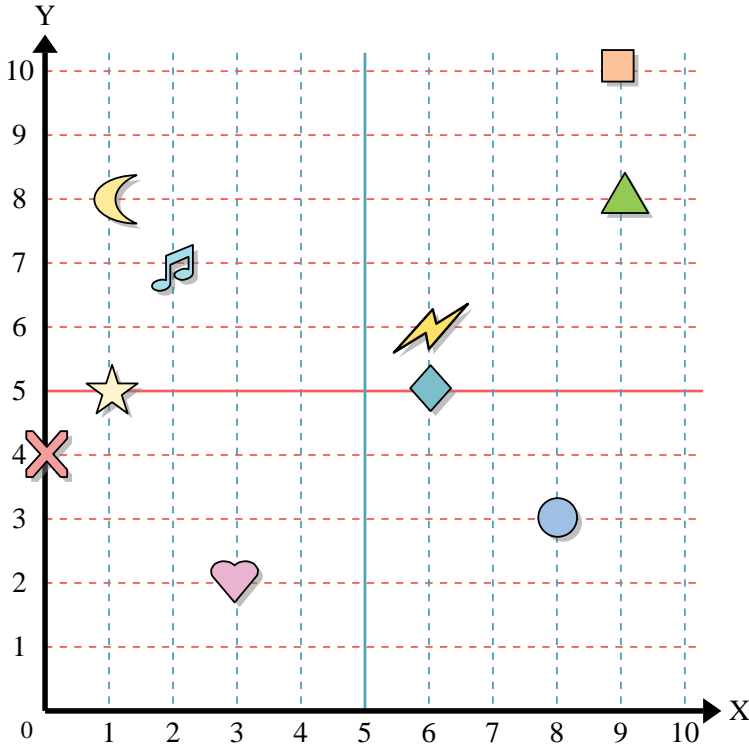




Usa la griglia sottostante per determinare le coordinate del punto dove è posizionata ogni figura.



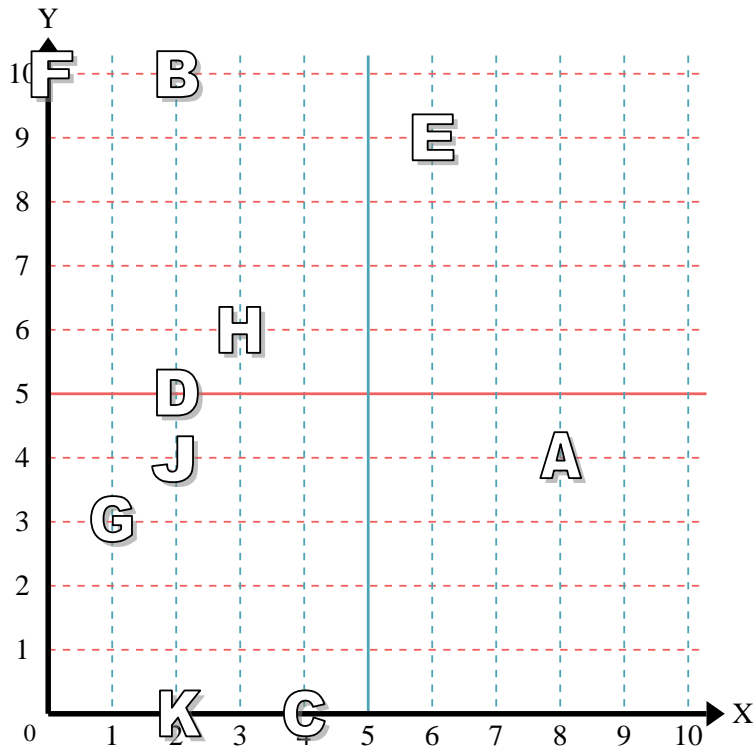
- 1) Stella _____
- 2) Fulmine _____
- 3) Cerchio _____
- 4) Cuore _____
- 5) Croce _____
- 6) Triangolo _____
- 7) Luna _____
- 8) Quadrato _____
- 9) Diamante _____
- 10) Nota Musicale _____

Risposte

- 1. _____
- 2. _____
- 3. _____
- 4. _____
- 5. _____
- 6. _____
- 7. _____
- 8. _____
- 9. _____
- 10. _____
- 11. _____
- 12. _____
- 13. _____
- 14. _____
- 15. _____
- 16. _____
- 17. _____
- 18. _____
- 19. _____
- 20. _____

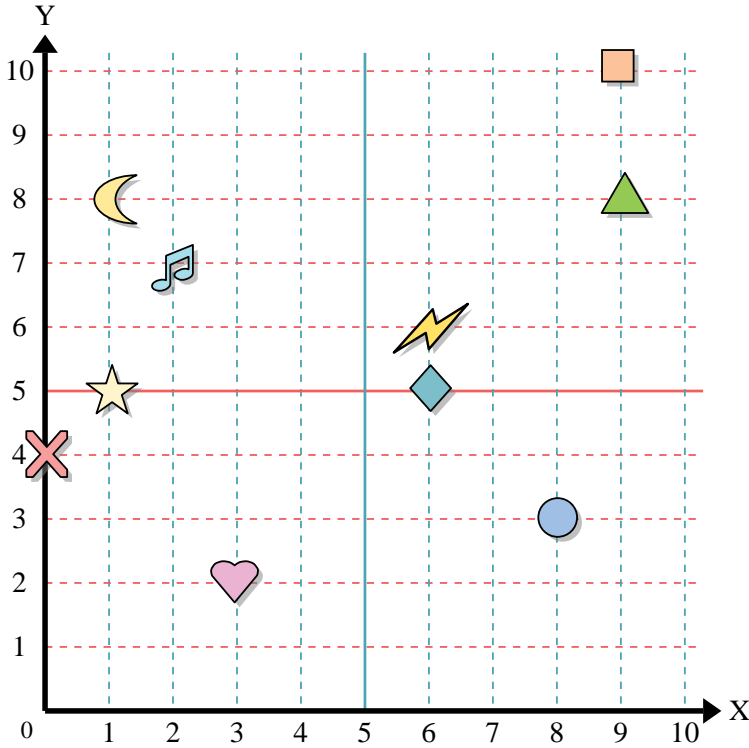
indica quale lettera corrisponde ad ogni coordinata secondo il grafico seguente.

- 11) (3 ; 6) _____
- 12) (8 ; 4) _____
- 13) (2 ; 0) _____
- 14) (2 ; 4) _____
- 15) (0 ; 10) _____
- 16) (2 ; 5) _____
- 17) (1 ; 3) _____
- 18) (2 ; 10) _____
- 19) (6 ; 9) _____
- 20) (4 ; 0) _____





Usa la griglia sottostante per determinare le coordinate del punto dove è posizionata ogni figura.



- 1) Stella (1;5)
- 2) Fulmine (6;6)
- 3) Cerchio (8;3)
- 4) Cuore (3;2)
- 5) Croce (0;4)
- 6) Triangolo (9;8)
- 7) Luna (1;8)
- 8) Quadrato (9;10)
- 9) Diamante (6;5)
- 10) Nota Musicale (2;7)

Risposte

- 1. (1;5)
- 2. (6;6)
- 3. (8;3)
- 4. (3;2)
- 5. (0;4)
- 6. (9;8)
- 7. (1;8)
- 8. (9;10)
- 9. (6;5)
- 10. (2;7)
- 11. H
- 12. A
- 13. K
- 14. J
- 15. F
- 16. D
- 17. G
- 18. B
- 19. E
- 20. C

indica quale lettera corrisponde ad ogni coordinata secondo il grafico seguente.

- 11) (3;6) H
- 12) (8;4) A
- 13) (2;0) K
- 14) (2;4) J
- 15) (0;10) F
- 16) (2;5) D
- 17) (1;3) G
- 18) (2;10) B
- 19) (6;9) E
- 20) (4;0) C

