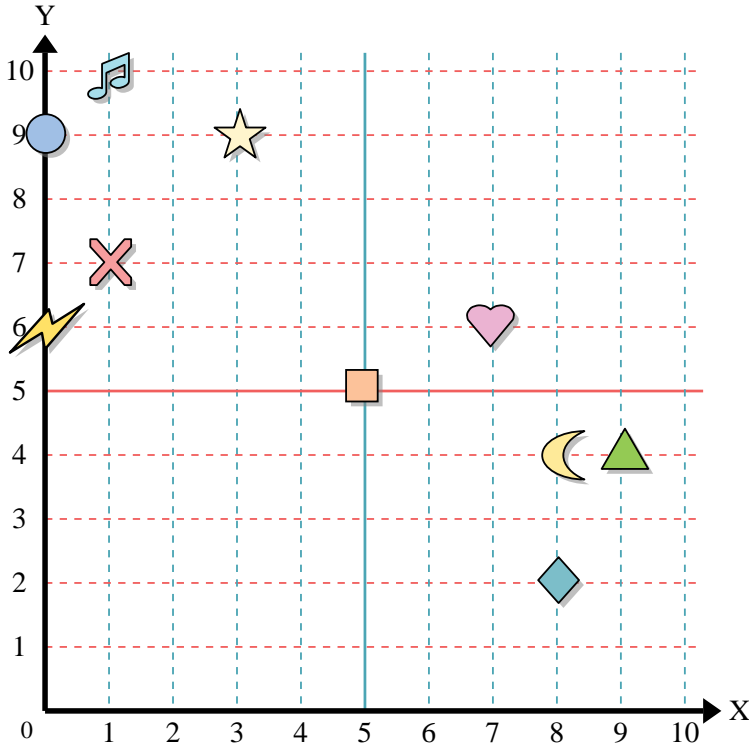




Usa la griglia sottostante per determinare le coordinate del punto dove è posizionata ogni figura.



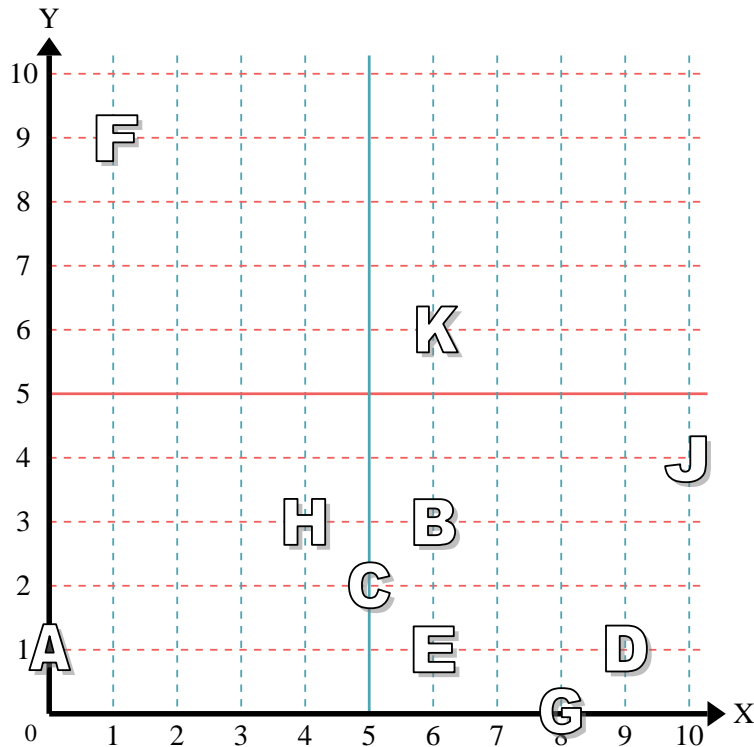
- 1) Stella _____
- 2) Fulmine _____
- 3) Cerchio _____
- 4) Cuore _____
- 5) Croce _____
- 6) Triangolo _____
- 7) Luna _____
- 8) Quadrato _____
- 9) Diamante _____
- 10) Nota Musicale _____

Risposte

- 1. _____
- 2. _____
- 3. _____
- 4. _____
- 5. _____
- 6. _____
- 7. _____
- 8. _____
- 9. _____
- 10. _____
- 11. _____
- 12. _____
- 13. _____
- 14. _____
- 15. _____
- 16. _____
- 17. _____
- 18. _____
- 19. _____
- 20. _____

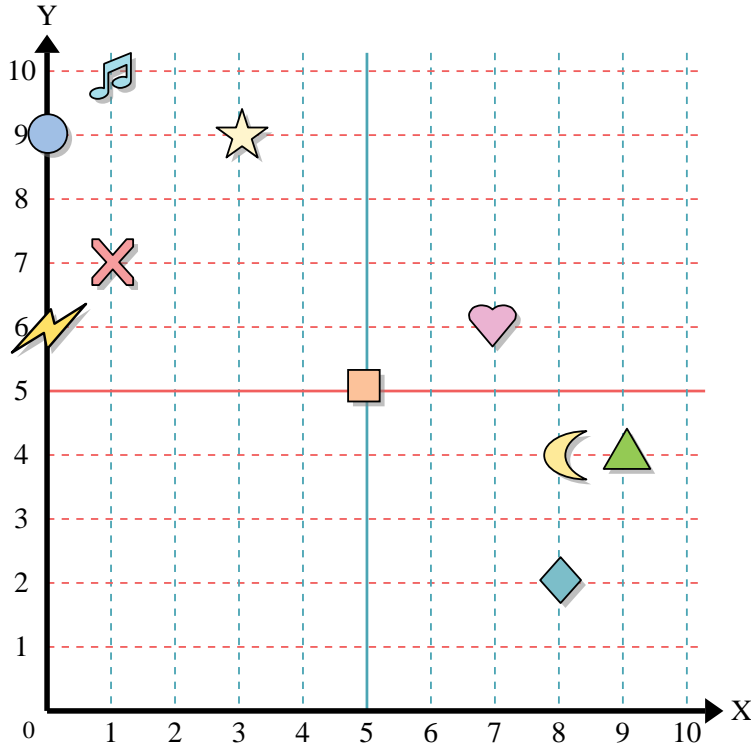
indica quale lettera corrisponde ad ogni coordinata secondo il grafico seguente.

- 11) (6 ; 1) _____
- 12) (10 ; 4) _____
- 13) (4 ; 3) _____
- 14) (9 ; 1) _____
- 15) (6 ; 3) _____
- 16) (1 ; 9) _____
- 17) (6 ; 6) _____
- 18) (8 ; 0) _____
- 19) (0 ; 1) _____
- 20) (5 ; 2) _____





Usa la griglia sottostante per determinare le coordinate del punto dove è posizionata ogni figura.



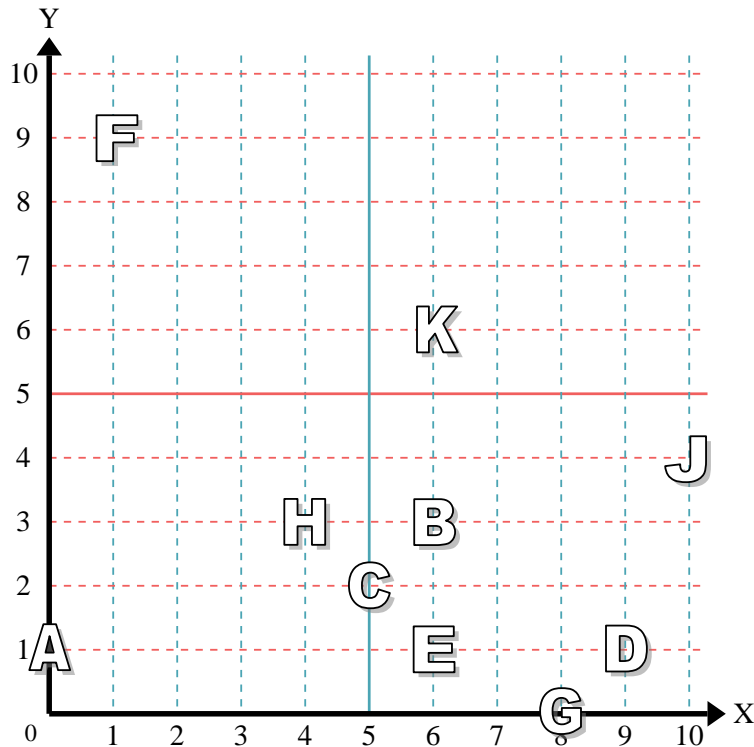
- 1) Stella (3;9)
- 2) Fulmine (0;6)
- 3) Cerchio (0;9)
- 4) Cuore (7;6)
- 5) Croce (1;7)
- 6) Triangolo (9;4)
- 7) Luna (8;4)
- 8) Quadrato (5;5)
- 9) Diamante (8;2)
- 10) Nota Musicale (1;10)

Risposte

- 1. (3;9)
- 2. (0;6)
- 3. (0;9)
- 4. (7;6)
- 5. (1;7)
- 6. (9;4)
- 7. (8;4)
- 8. (5;5)
- 9. (8;2)
- 10. (1;10)

indica quale lettera corrisponde ad ogni coordinata secondo il grafico seguente.

- 11) (6;1) E
- 12) (10;4) J
- 13) (4;3) H
- 14) (9;1) D
- 15) (6;3) B
- 16) (1;9) F
- 17) (6;6) K
- 18) (8;0) G
- 19) (0;1) A
- 20) (5;2) C



- 11. E
- 12. J
- 13. H
- 14. D
- 15. B
- 16. F
- 17. K
- 18. G
- 19. A
- 20. C