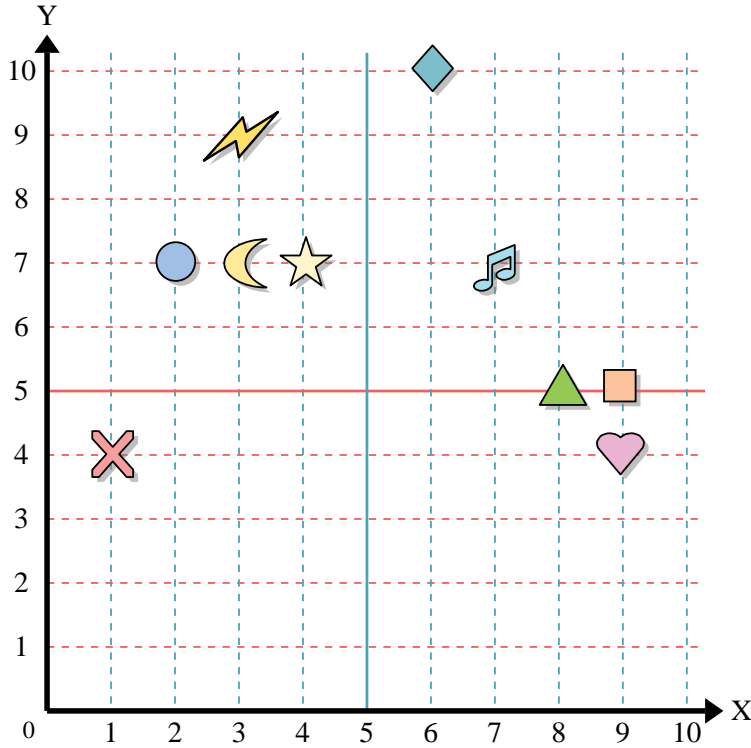




Usa la griglia sottostante per determinare le coordinate del punto dove è posizionata ogni figura.



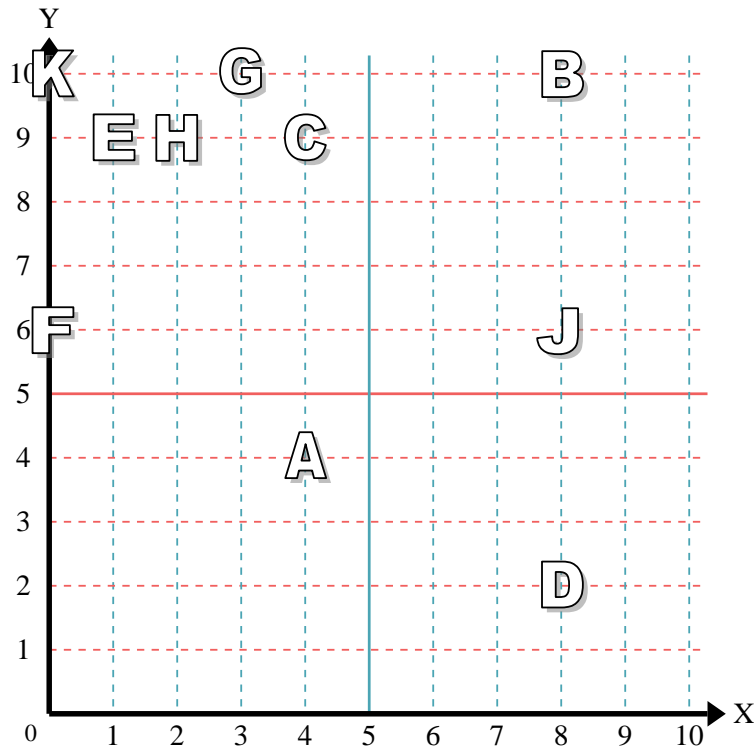
- 1) Stella \_\_\_\_\_
- 2) Fulmine \_\_\_\_\_
- 3) Cerchio \_\_\_\_\_
- 4) Cuore \_\_\_\_\_
- 5) Croce \_\_\_\_\_
- 6) Triangolo \_\_\_\_\_
- 7) Luna \_\_\_\_\_
- 8) Quadrato \_\_\_\_\_
- 9) Diamante \_\_\_\_\_
- 10) Nota Musicale \_\_\_\_\_

**Risposte**

- 1. \_\_\_\_\_
- 2. \_\_\_\_\_
- 3. \_\_\_\_\_
- 4. \_\_\_\_\_
- 5. \_\_\_\_\_
- 6. \_\_\_\_\_
- 7. \_\_\_\_\_
- 8. \_\_\_\_\_
- 9. \_\_\_\_\_
- 10. \_\_\_\_\_
- 11. \_\_\_\_\_
- 12. \_\_\_\_\_
- 13. \_\_\_\_\_
- 14. \_\_\_\_\_
- 15. \_\_\_\_\_
- 16. \_\_\_\_\_
- 17. \_\_\_\_\_
- 18. \_\_\_\_\_
- 19. \_\_\_\_\_
- 20. \_\_\_\_\_

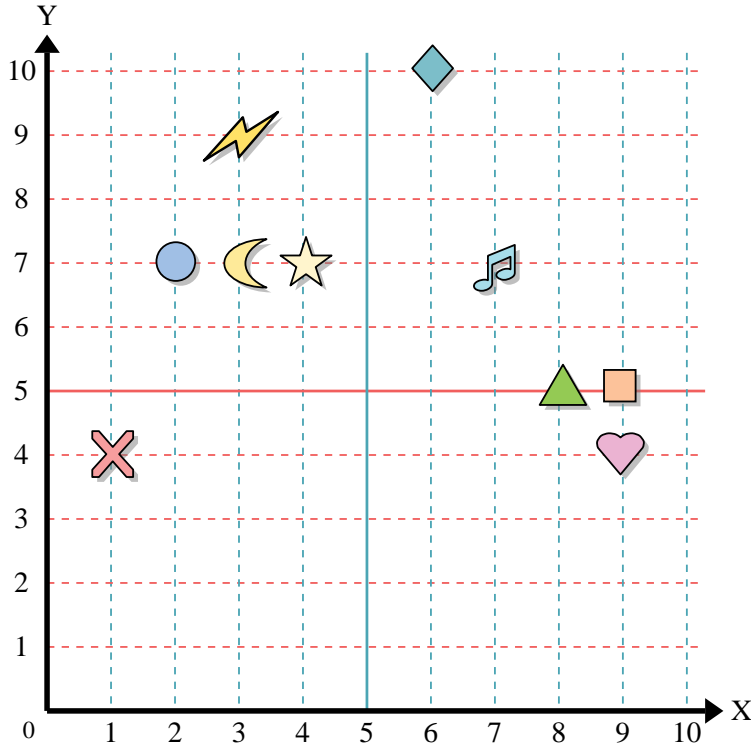
indica quale lettera corrisponde ad ogni coordinata secondo il grafico seguente.

- 11) (8 ; 6) \_\_\_\_\_
- 12) (4 ; 9) \_\_\_\_\_
- 13) (0 ; 10) \_\_\_\_\_
- 14) (0 ; 6) \_\_\_\_\_
- 15) (3 ; 10) \_\_\_\_\_
- 16) (8 ; 2) \_\_\_\_\_
- 17) (1 ; 9) \_\_\_\_\_
- 18) (8 ; 10) \_\_\_\_\_
- 19) (2 ; 9) \_\_\_\_\_
- 20) (4 ; 4) \_\_\_\_\_





Usa la griglia sottostante per determinare le coordinate del punto dove è posizionata ogni figura.



- 1) Stella (4;7)
- 2) Fulmine (3;9)
- 3) Cerchio (2;7)
- 4) Cuore (9;4)
- 5) Croce (1;4)
- 6) Triangolo (8;5)
- 7) Luna (3;7)
- 8) Quadrato (9;5)
- 9) Diamante (6;10)
- 10) Nota Musicale (7;7)

**Risposte**

- 1. (4;7)
- 2. (3;9)
- 3. (2;7)
- 4. (9;4)
- 5. (1;4)
- 6. (8;5)
- 7. (3;7)
- 8. (9;5)
- 9. (6;10)
- 10. (7;7)
- 11. J
- 12. C
- 13. K
- 14. F
- 15. G
- 16. D
- 17. E
- 18. B
- 19. H
- 20. A

indica quale lettera corrisponde ad ogni coordinata secondo il grafico seguente.

- 11) (8;6) J
- 12) (4;9) C
- 13) (0;10) K
- 14) (0;6) F
- 15) (3;10) G
- 16) (8;2) D
- 17) (1;9) E
- 18) (8;10) B
- 19) (2;9) H
- 20) (4;4) A

