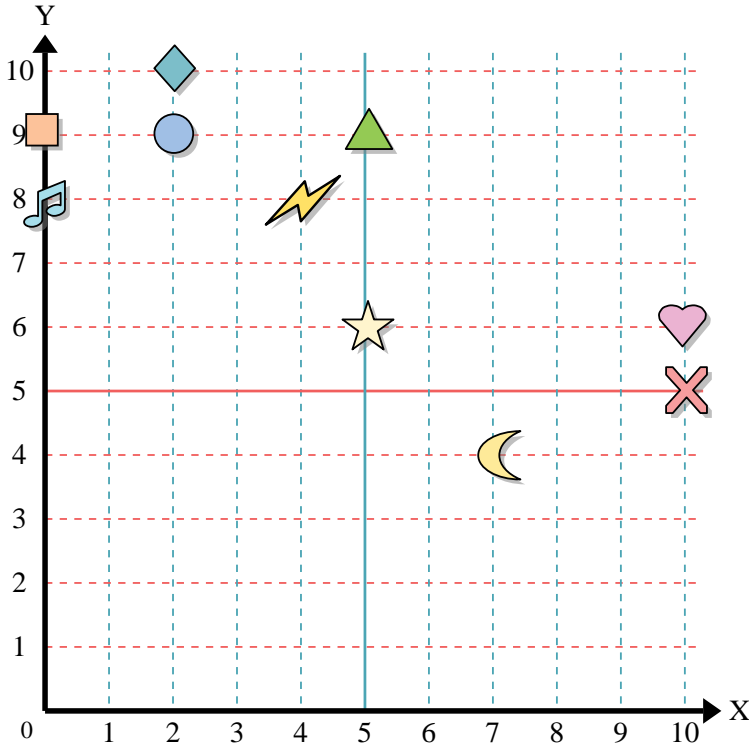




Usa la griglia sottostante per determinare le coordinate del punto dove è posizionata ogni figura.



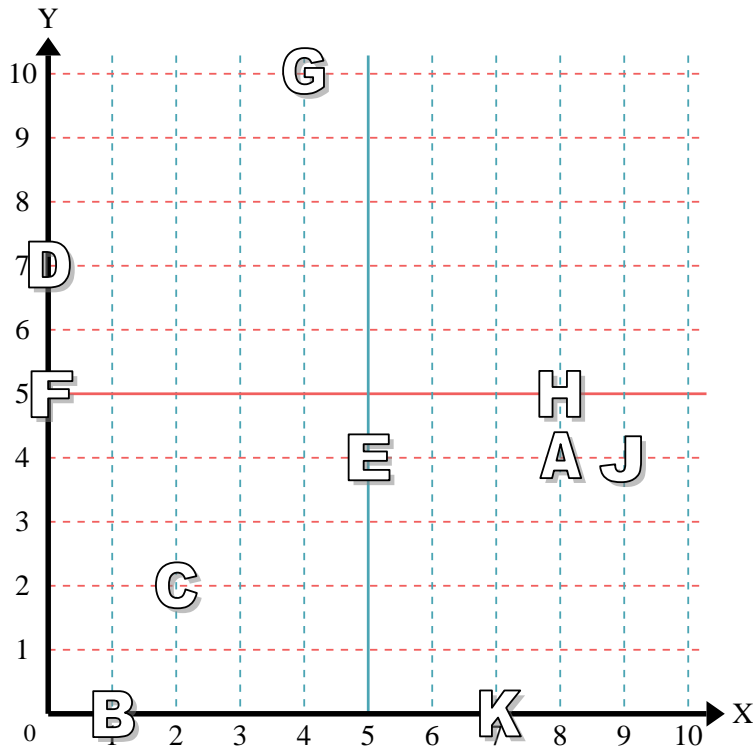
- 1) Stella _____
- 2) Fulmine _____
- 3) Cerchio _____
- 4) Cuore _____
- 5) Croce _____
- 6) Triangolo _____
- 7) Luna _____
- 8) Quadrato _____
- 9) Diamante _____
- 10) Nota Musicale _____

Risposte

- 1. _____
- 2. _____
- 3. _____
- 4. _____
- 5. _____
- 6. _____
- 7. _____
- 8. _____
- 9. _____
- 10. _____
- 11. _____
- 12. _____
- 13. _____
- 14. _____
- 15. _____
- 16. _____
- 17. _____
- 18. _____
- 19. _____
- 20. _____

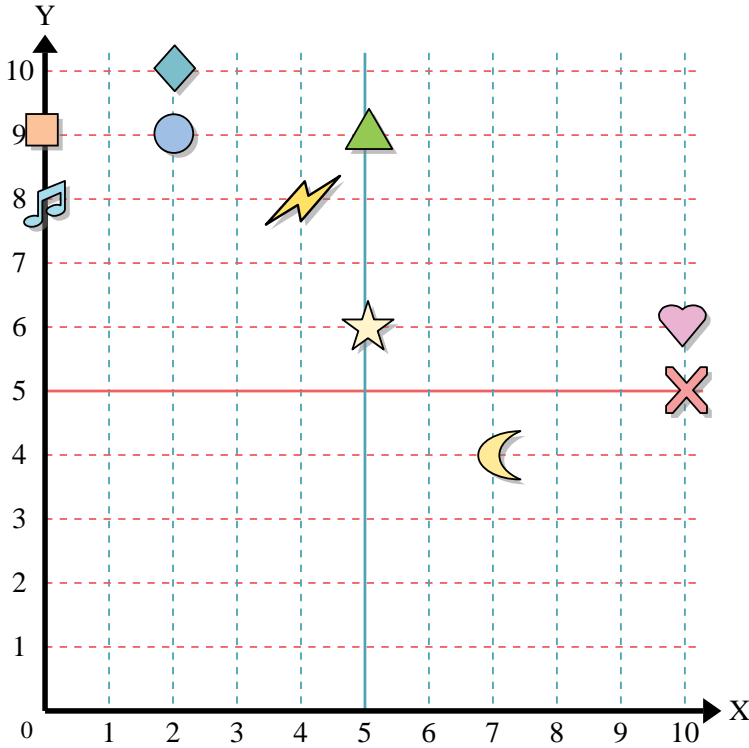
indica quale lettera corrisponde ad ogni coordinata secondo il grafico seguente.

- 11) (4 ; 10) _____
- 12) (2 ; 2) _____
- 13) (0 ; 5) _____
- 14) (7 ; 0) _____
- 15) (5 ; 4) _____
- 16) (9 ; 4) _____
- 17) (1 ; 0) _____
- 18) (0 ; 7) _____
- 19) (8 ; 4) _____
- 20) (8 ; 5) _____





Usa la griglia sottostante per determinare le coordinate del punto dove è posizionata ogni figura.



- 1) Stella (5 ; 6)
- 2) Fulmine (4 ; 8)
- 3) Cerchio (2 ; 9)
- 4) Cuore (10 ; 6)
- 5) Croce (10 ; 5)
- 6) Triangolo (5 ; 9)
- 7) Luna (7 ; 4)
- 8) Quadrato (0 ; 9)
- 9) Diamante (2 ; 10)
- 10) Nota Musicale (0 ; 8)

Risposte

- 1. (5 ; 6)
- 2. (4 ; 8)
- 3. (2 ; 9)
- 4. (10 ; 6)
- 5. (10 ; 5)
- 6. (5 ; 9)
- 7. (7 ; 4)
- 8. (0 ; 9)
- 9. (2 ; 10)
- 10. (0 ; 8)
- 11. G
- 12. C
- 13. F
- 14. K
- 15. E
- 16. J
- 17. B
- 18. D
- 19. A
- 20. H

indica quale lettera corrisponde ad ogni coordinata secondo il grafico seguente.

- 11) (4 ; 10) G
- 12) (2 ; 2) C
- 13) (0 ; 5) F
- 14) (7 ; 0) K
- 15) (5 ; 4) E
- 16) (9 ; 4) J
- 17) (1 ; 0) B
- 18) (0 ; 7) D
- 19) (8 ; 4) A
- 20) (8 ; 5) H

