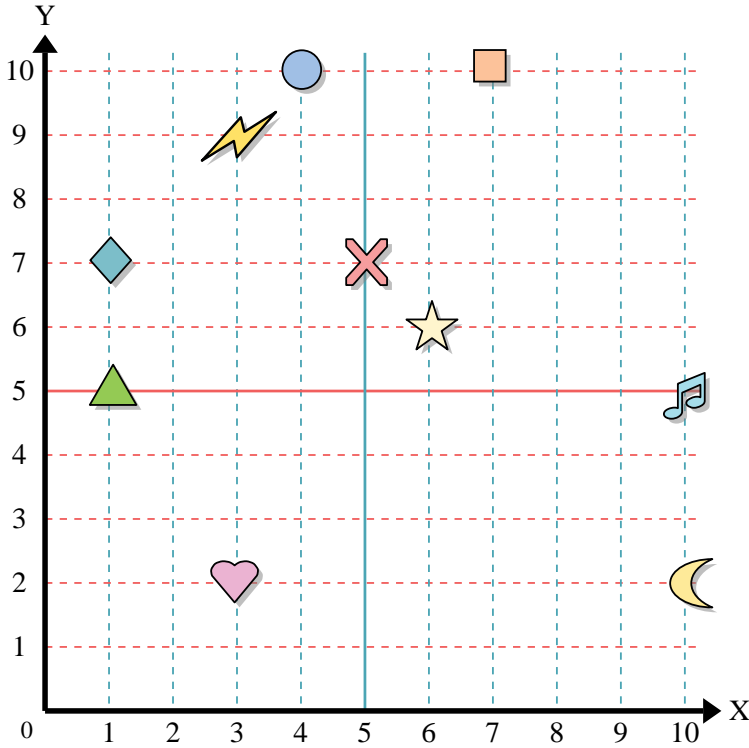




Usa la griglia sottostante per determinare le coordinate del punto dove è posizionata ogni figura.



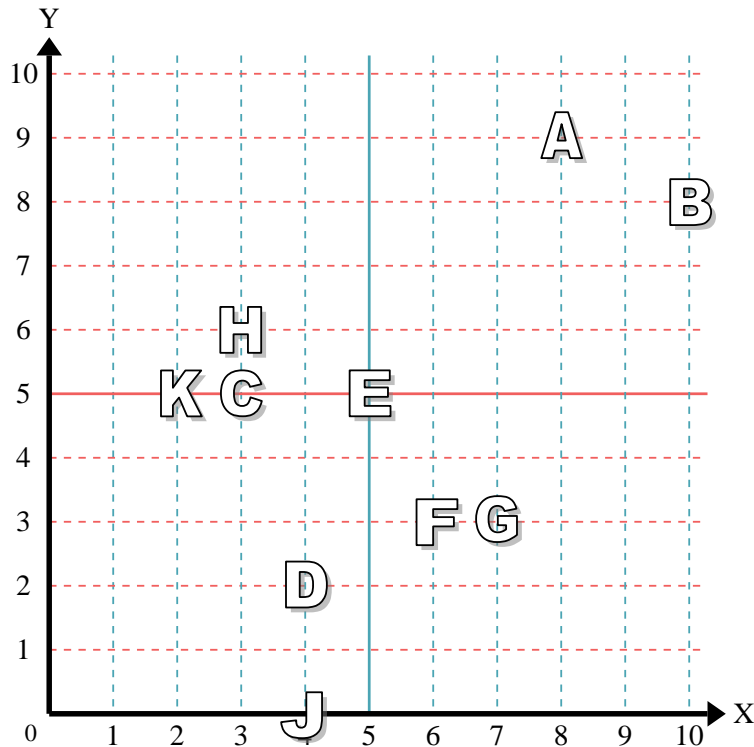
- 1) Stella _____
- 2) Fulmine _____
- 3) Cerchio _____
- 4) Cuore _____
- 5) Croce _____
- 6) Triangolo _____
- 7) Luna _____
- 8) Quadrato _____
- 9) Diamante _____
- 10) Nota Musicale _____

Risposte

- 1. _____
- 2. _____
- 3. _____
- 4. _____
- 5. _____
- 6. _____
- 7. _____
- 8. _____
- 9. _____
- 10. _____
- 11. _____
- 12. _____
- 13. _____
- 14. _____
- 15. _____
- 16. _____
- 17. _____
- 18. _____
- 19. _____
- 20. _____

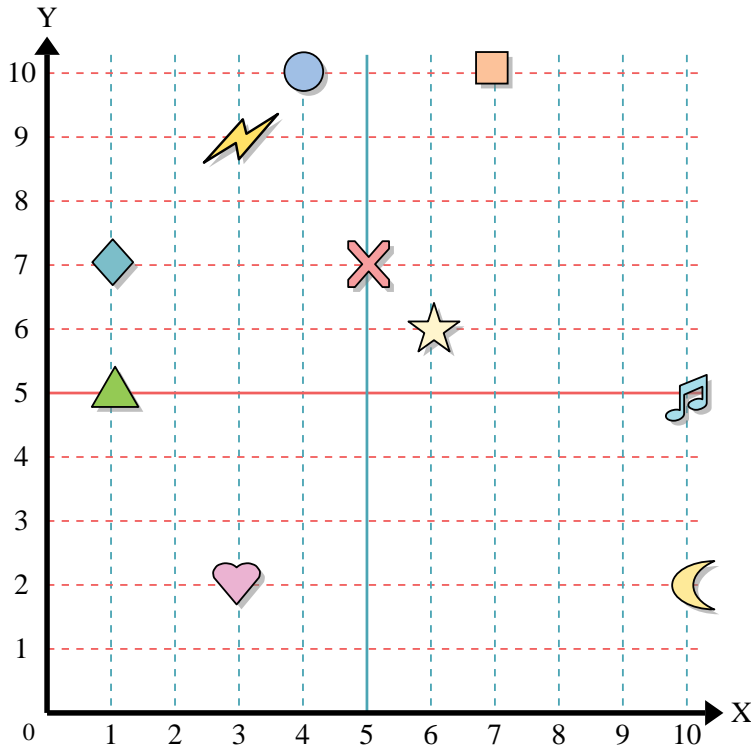
indica quale lettera corrisponde ad ogni coordinata secondo il grafico seguente.

- 11) (2 ; 5) _____
- 12) (3 ; 6) _____
- 13) (4 ; 2) _____
- 14) (5 ; 5) _____
- 15) (6 ; 3) _____
- 16) (10 ; 8) _____
- 17) (3 ; 5) _____
- 18) (4 ; 0) _____
- 19) (7 ; 3) _____
- 20) (8 ; 9) _____





Usa la griglia sottostante per determinare le coordinate del punto dove è posizionata ogni figura.



- 1) Stella (6;6)
- 2) Fulmine (3;9)
- 3) Cerchio (4;10)
- 4) Cuore (3;2)
- 5) Croce (5;7)
- 6) Triangolo (1;5)
- 7) Luna (10;2)
- 8) Quadrato (7;10)
- 9) Diamante (1;7)
- 10) Nota Musicale (10;5)

Risposte

- 1. (6;6)
- 2. (3;9)
- 3. (4;10)
- 4. (3;2)
- 5. (5;7)
- 6. (1;5)
- 7. (10;2)
- 8. (7;10)
- 9. (1;7)
- 10. (10;5)
- 11. K
- 12. H
- 13. D
- 14. E
- 15. F
- 16. B
- 17. C
- 18. J
- 19. G
- 20. A

indica quale lettera corrisponde ad ogni coordinata secondo il grafico seguente.

- 11) (2;5) K
- 12) (3;6) H
- 13) (4;2) D
- 14) (5;5) E
- 15) (6;3) F
- 16) (10;8) B
- 17) (3;5) C
- 18) (4;0) J
- 19) (7;3) G
- 20) (8;9) A

