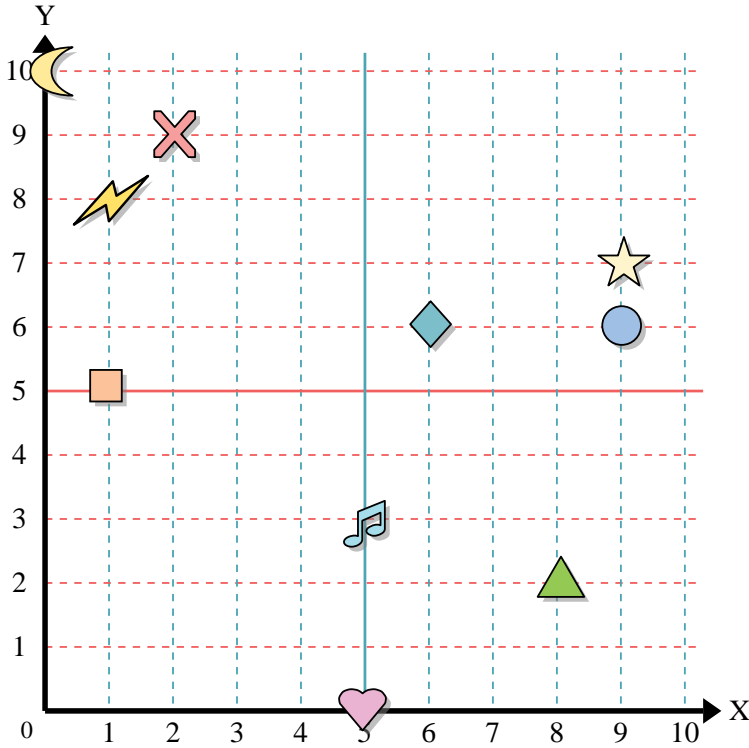




Usa la griglia sottostante per determinare le coordinate del punto dove è posizionata ogni figura.



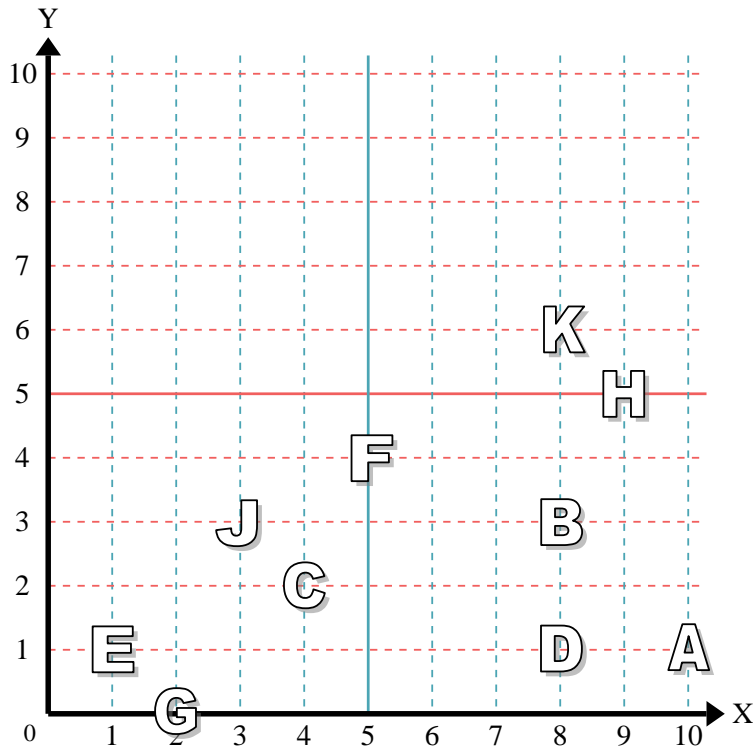
- 1) Stella \_\_\_\_\_
- 2) Fulmine \_\_\_\_\_
- 3) Cerchio \_\_\_\_\_
- 4) Cuore \_\_\_\_\_
- 5) Croce \_\_\_\_\_
- 6) Triangolo \_\_\_\_\_
- 7) Luna \_\_\_\_\_
- 8) Quadrato \_\_\_\_\_
- 9) Diamante \_\_\_\_\_
- 10) Nota Musicale \_\_\_\_\_

**Risposte**

- 1. \_\_\_\_\_
- 2. \_\_\_\_\_
- 3. \_\_\_\_\_
- 4. \_\_\_\_\_
- 5. \_\_\_\_\_
- 6. \_\_\_\_\_
- 7. \_\_\_\_\_
- 8. \_\_\_\_\_
- 9. \_\_\_\_\_
- 10. \_\_\_\_\_
- 11. \_\_\_\_\_
- 12. \_\_\_\_\_
- 13. \_\_\_\_\_
- 14. \_\_\_\_\_
- 15. \_\_\_\_\_
- 16. \_\_\_\_\_
- 17. \_\_\_\_\_
- 18. \_\_\_\_\_
- 19. \_\_\_\_\_
- 20. \_\_\_\_\_

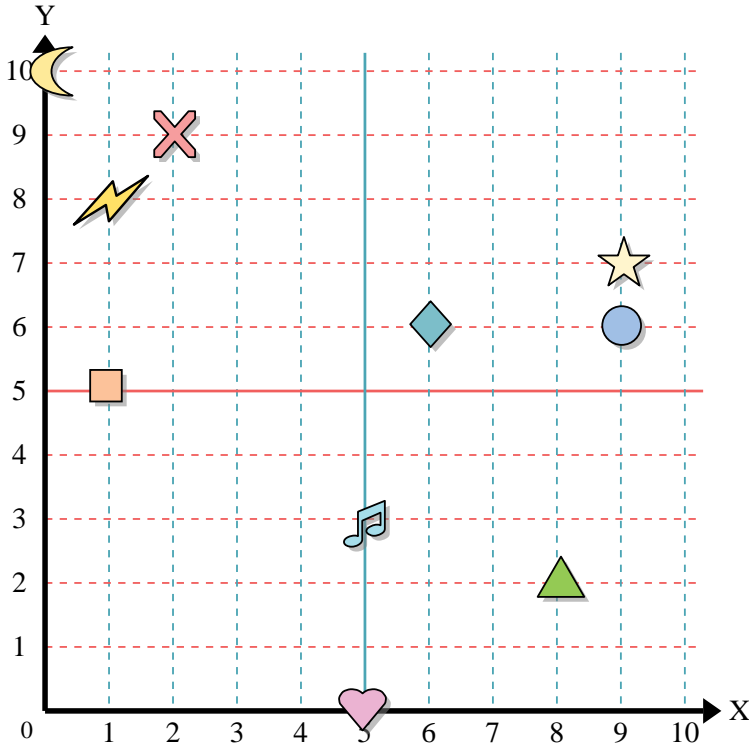
indica quale lettera corrisponde ad ogni coordinata secondo il grafico seguente.

- 11) (3 ; 3) \_\_\_\_\_
- 12) (10 ; 1) \_\_\_\_\_
- 13) (8 ; 3) \_\_\_\_\_
- 14) (2 ; 0) \_\_\_\_\_
- 15) (9 ; 5) \_\_\_\_\_
- 16) (1 ; 1) \_\_\_\_\_
- 17) (5 ; 4) \_\_\_\_\_
- 18) (8 ; 6) \_\_\_\_\_
- 19) (4 ; 2) \_\_\_\_\_
- 20) (8 ; 1) \_\_\_\_\_





Usa la griglia sottostante per determinare le coordinate del punto dove è posizionata ogni figura.



- 1) Stella (9; 7)
- 2) Fulmine (1; 8)
- 3) Cerchio (9; 6)
- 4) Cuore (5; 0)
- 5) Croce (2; 9)
- 6) Triangolo (8; 2)
- 7) Luna (0; 10)
- 8) Quadrato (1; 5)
- 9) Diamante (6; 6)
- 10) Nota Musicale (5; 3)

**Risposte**

- 1. (9; 7)
- 2. (1; 8)
- 3. (9; 6)
- 4. (5; 0)
- 5. (2; 9)
- 6. (8; 2)
- 7. (0; 10)
- 8. (1; 5)
- 9. (6; 6)
- 10. (5; 3)
- 11. J
- 12. A
- 13. B
- 14. G
- 15. H
- 16. E
- 17. F
- 18. K
- 19. C
- 20. D

indica quale lettera corrisponde ad ogni coordinata secondo il grafico seguente.

- 11) (3; 3) J
- 12) (10; 1) A
- 13) (8; 3) B
- 14) (2; 0) G
- 15) (9; 5) H
- 16) (1; 1) E
- 17) (5; 4) F
- 18) (8; 6) K
- 19) (4; 2) C
- 20) (8; 1) D

