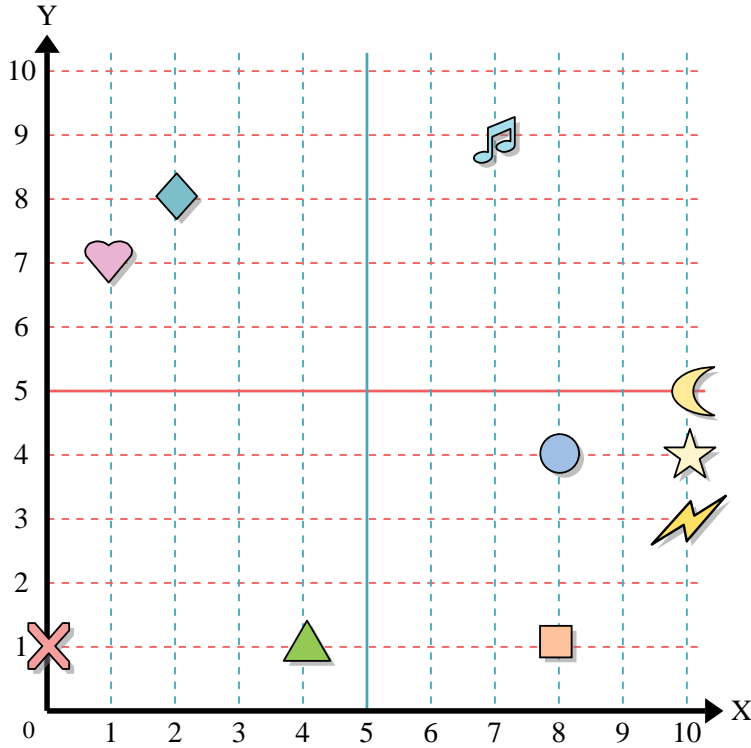




Usa la griglia sottostante per determinare le coordinate del punto dove è posizionata ogni figura.



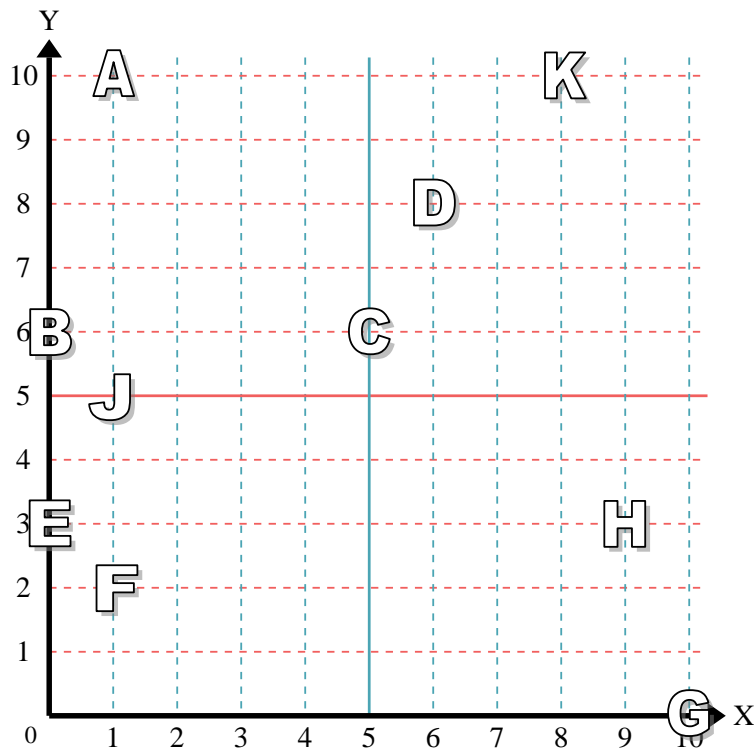
- 1) Stella \_\_\_\_\_
- 2) Fulmine \_\_\_\_\_
- 3) Cerchio \_\_\_\_\_
- 4) Cuore \_\_\_\_\_
- 5) Croce \_\_\_\_\_
- 6) Triangolo \_\_\_\_\_
- 7) Luna \_\_\_\_\_
- 8) Quadrato \_\_\_\_\_
- 9) Diamante \_\_\_\_\_
- 10) Nota Musicale \_\_\_\_\_

**Risposte**

- 1. \_\_\_\_\_
- 2. \_\_\_\_\_
- 3. \_\_\_\_\_
- 4. \_\_\_\_\_
- 5. \_\_\_\_\_
- 6. \_\_\_\_\_
- 7. \_\_\_\_\_
- 8. \_\_\_\_\_
- 9. \_\_\_\_\_
- 10. \_\_\_\_\_
- 11. \_\_\_\_\_
- 12. \_\_\_\_\_
- 13. \_\_\_\_\_
- 14. \_\_\_\_\_
- 15. \_\_\_\_\_
- 16. \_\_\_\_\_
- 17. \_\_\_\_\_
- 18. \_\_\_\_\_
- 19. \_\_\_\_\_
- 20. \_\_\_\_\_

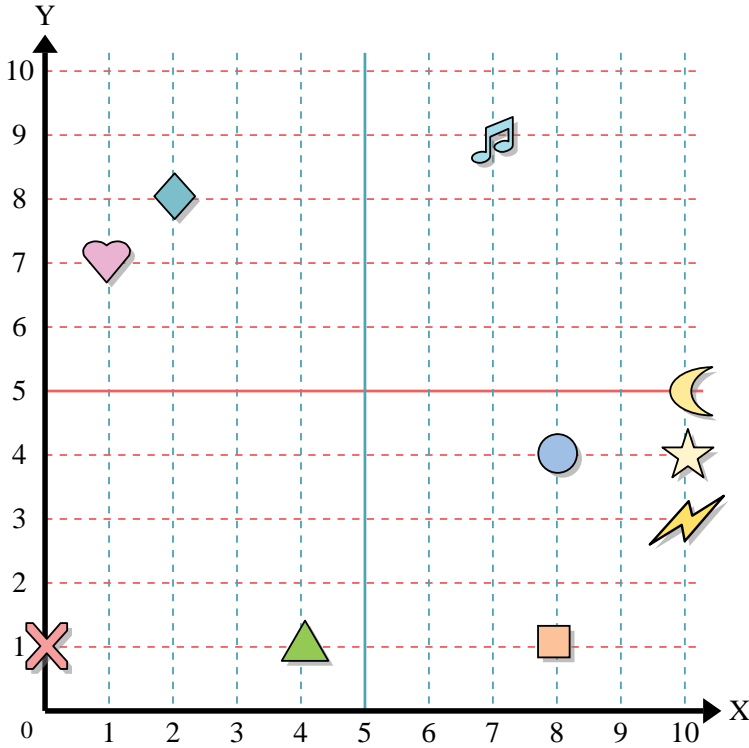
indica quale lettera corrisponde ad ogni coordinata secondo il grafico seguente.

- 11) (5 ; 6) \_\_\_\_\_
- 12) (6 ; 8) \_\_\_\_\_
- 13) (0 ; 3) \_\_\_\_\_
- 14) (10 ; 0) \_\_\_\_\_
- 15) (9 ; 3) \_\_\_\_\_
- 16) (0 ; 6) \_\_\_\_\_
- 17) (1 ; 2) \_\_\_\_\_
- 18) (8 ; 10) \_\_\_\_\_
- 19) (1 ; 5) \_\_\_\_\_
- 20) (1 ; 10) \_\_\_\_\_





Usa la griglia sottostante per determinare le coordinate del punto dove è posizionata ogni figura.



- 1) Stella (10;4)
- 2) Fulmine (10;3)
- 3) Cerchio (8;4)
- 4) Cuore (1;7)
- 5) Croce (0;1)
- 6) Triangolo (4;1)
- 7) Luna (10;5)
- 8) Quadrato (8;1)
- 9) Diamante (2;8)
- 10) Nota Musicale (7;9)

**Risposte**

- 1. (10;4)
- 2. (10;3)
- 3. (8;4)
- 4. (1;7)
- 5. (0;1)
- 6. (4;1)
- 7. (10;5)
- 8. (8;1)
- 9. (2;8)
- 10. (7;9)
- 11. C
- 12. D
- 13. E
- 14. G
- 15. H
- 16. B
- 17. F
- 18. K
- 19. J
- 20. A

indica quale lettera corrisponde ad ogni coordinata secondo il grafico seguente.

- 11) (5;6) C
- 12) (6;8) D
- 13) (0;3) E
- 14) (10;0) G
- 15) (9;3) H
- 16) (0;6) B
- 17) (1;2) F
- 18) (8;10) K
- 19) (1;5) J
- 20) (1;10) A

