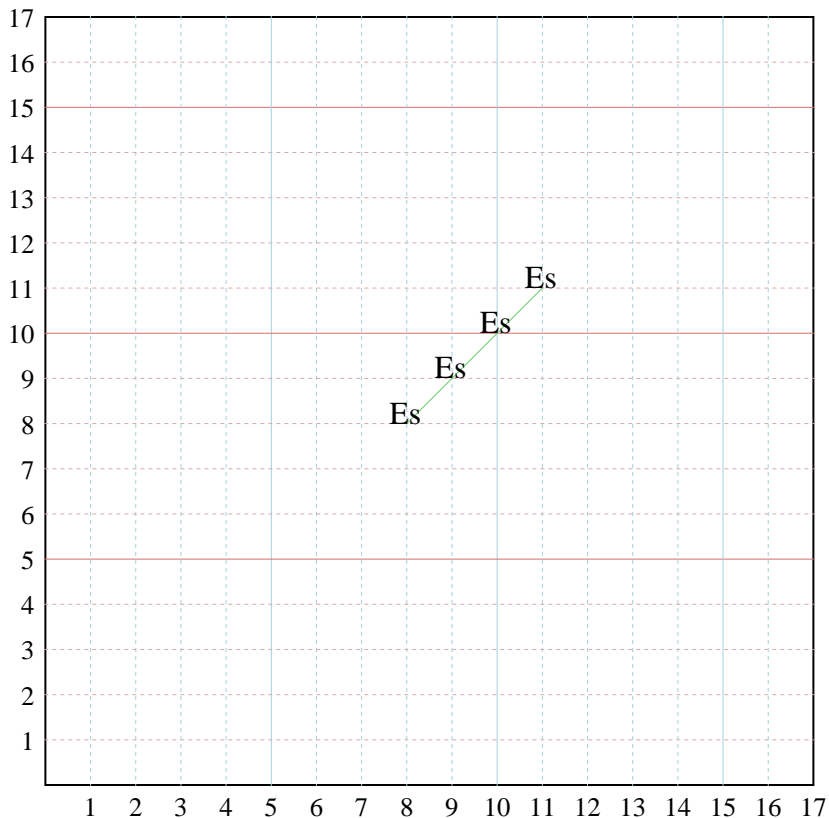




Inserisci nel modello e poi nel grafico le coppie di coordinate.



Risposte

Es. (8;8)

Es. Grafico

1. _____

1. Grafico

2. _____

2. Grafico

3. _____

3. Grafico

4. _____

4. Grafico

5. _____

5. Grafico

Es) X: Inizia da 11 e sottrai 1.

Y: Inizia da 11 e sottrai 1.

x: 11 10 9 8

y: 11 10 9 8

1) X: Inizia da 15 e sottrai 3.

Y: Inizia da 6 ed aggiungi 1.

x: _____

y: _____

2) X: Inizia da 7 ed aggiungi 2.

Y: Inizia da 17 e sottrai 3.

x: _____

y: _____

3) X: Inizia da 10 e sottrai 2.

Y: Inizia da 15 e sottrai 3.

x: _____

y: _____

4) X: Inizia da 15 e sottrai 2.

Y: Inizia da 11 e sottrai 1.

x: _____

y: _____

5) X: Inizia da 7 ed aggiungi 3.

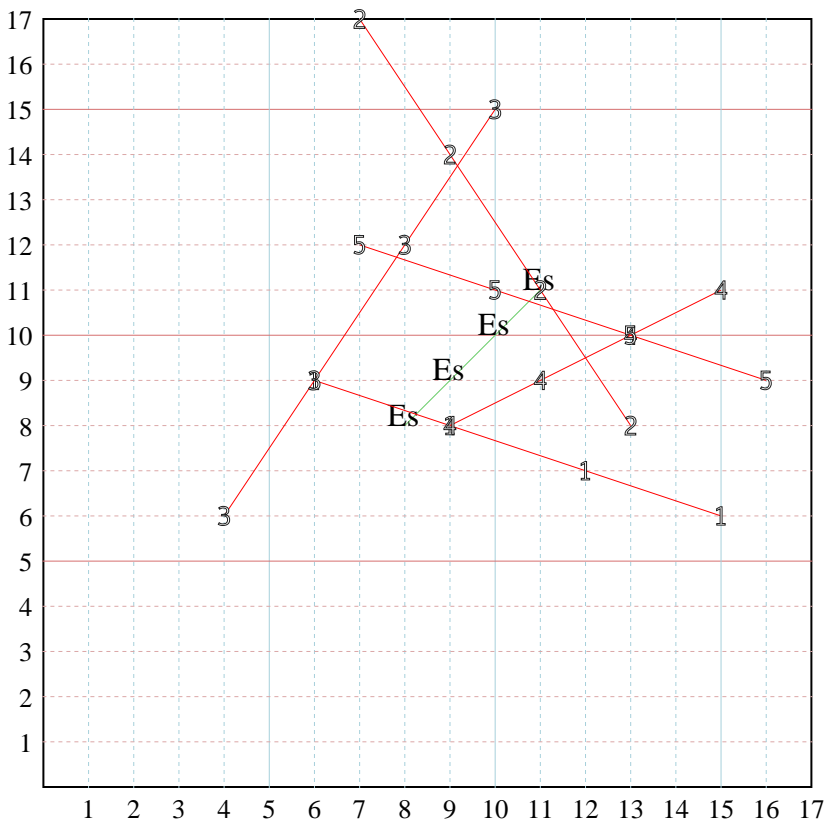
Y: Inizia da 12 e sottrai 1.

x: _____

y: _____



Inserisci nel modello e poi nel grafico le coppie di coordinate.



Risposte

Es. (8;8)

Es. Grafico

1. (6;9)

1. Grafico

2. (13;8)

2. Grafico

3. (4;6)

3. Grafico

4. (9;8)

4. Grafico

5. (16;9)

5. Grafico

Es) X: Inizia da 11 e sottrai 1.

Y: Inizia da 11 e sottrai 1.

x: 11 10 9 8
y: 11 10 9 8

1) X: Inizia da 15 e sottrai 3.

Y: Inizia da 6 ed aggiungi 1.

x: _____
y: _____

2) X: Inizia da 7 ed aggiungi 2.

Y: Inizia da 17 e sottrai 3.

x: _____
y: _____

3) X: Inizia da 10 e sottrai 2.

Y: Inizia da 15 e sottrai 3.

x: _____
y: _____

4) X: Inizia da 15 e sottrai 2.

Y: Inizia da 11 e sottrai 1.

x: _____
y: _____

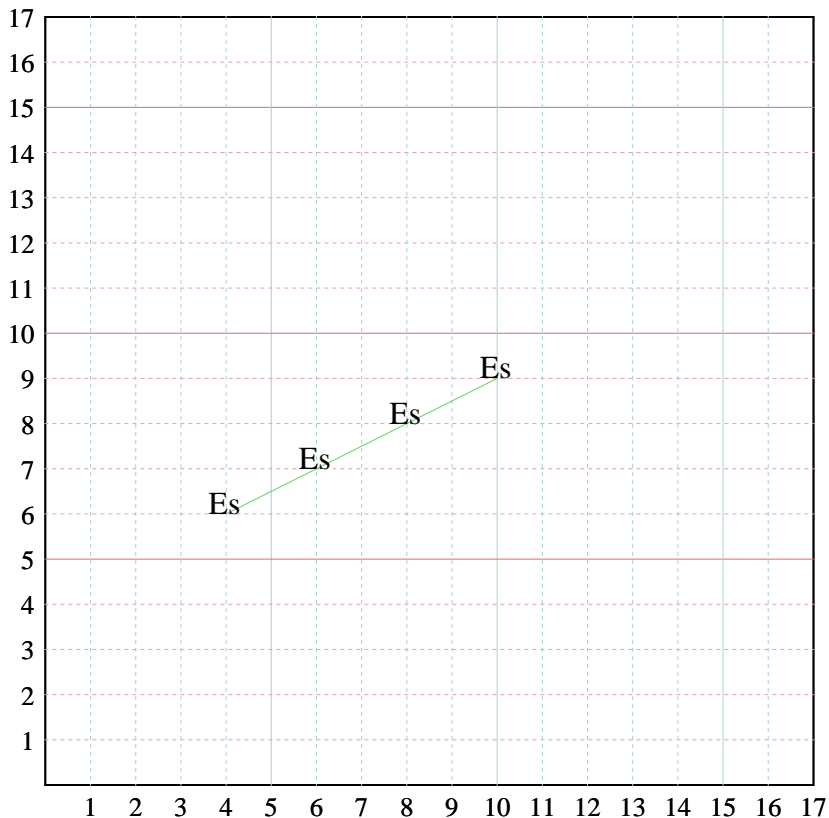
5) X: Inizia da 7 ed aggiungi 3.

Y: Inizia da 12 e sottrai 1.

x: _____
y: _____



Inserisci nel modello e poi nel grafico le coppie di coordinate.



Risposte

Es. (10;9)

Es. Grafico

1. _____

1. Grafico

2. _____

2. Grafico

3. _____

3. Grafico

4. _____

4. Grafico

5. _____

5. Grafico

Es) X: Inizia da 4 ed aggiungi 2.

Y: Inizia da 6 ed aggiungi 1.

x: 4 6 8 10

y: 6 7 8 9

1) X: Inizia da 2 ed aggiungi 3.

Y: Inizia da 6 ed aggiungi 1.

x: _____

y: _____

2) X: Inizia da 5 ed aggiungi 2.

Y: Inizia da 17 e sottrai 3.

x: _____

y: _____

3) X: Inizia da 60 e sottrai 2.

Y: Inizia da 65 ed aggiungi 2.

x: _____

y: _____

4) X: Inizia da 16 e sottrai 2.

Y: Inizia da 5 e sottrai 1.

x: _____

y: _____

5) X: Inizia da 7 ed aggiungi 3.

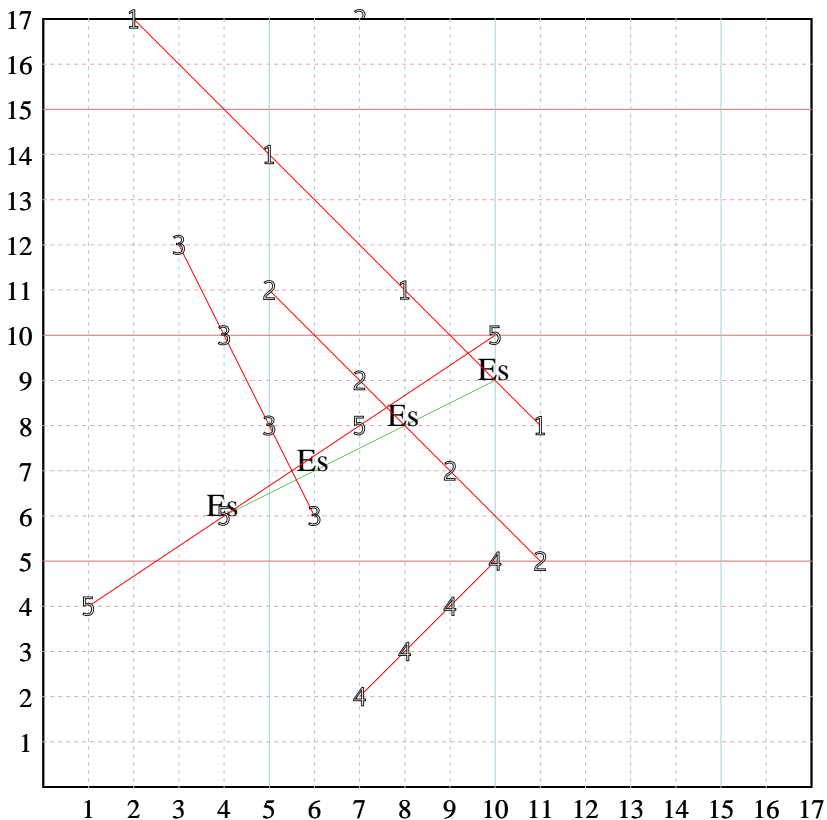
Y: Inizia da 10 e sottrai 2.

x: _____

y: _____



Inserisci nel modello e poi nel grafico le coppie di coordinate.



Risposte

Es. (10;9)

Es. Grafico

1. (11;8)

1. Grafico

2. (11;5)

2. Grafico

3. (3;12)

3. Grafico

4. (7;2)

4. Grafico

5. (1;4)

5. Grafico

Es) X: Inizia da 4 ed aggiungi 2.

Y: Inizia da 6 ed aggiungi 1.

x: 4 6 8 10

y: 6 7 8 9

1) X: Inizia da 2 ed aggiungi 3.

Y: Inizia da 6 ed aggiungi 1.

x: _____

y: _____

2) X: Inizia da 3 ed aggiungi 2.

Y: Inizia da 17 e sottrai 3.

x: _____

y: _____

3) X: Inizia da 6 e sottrai 2.

Y: Inizia da 6 ed aggiungi 2.

x: _____

y: _____

4) X: Inizia da 16 e sottrai 2.

Y: Inizia da 5 e sottrai 1.

x: _____

y: _____

5) X: Inizia da 7 ed aggiungi 3.

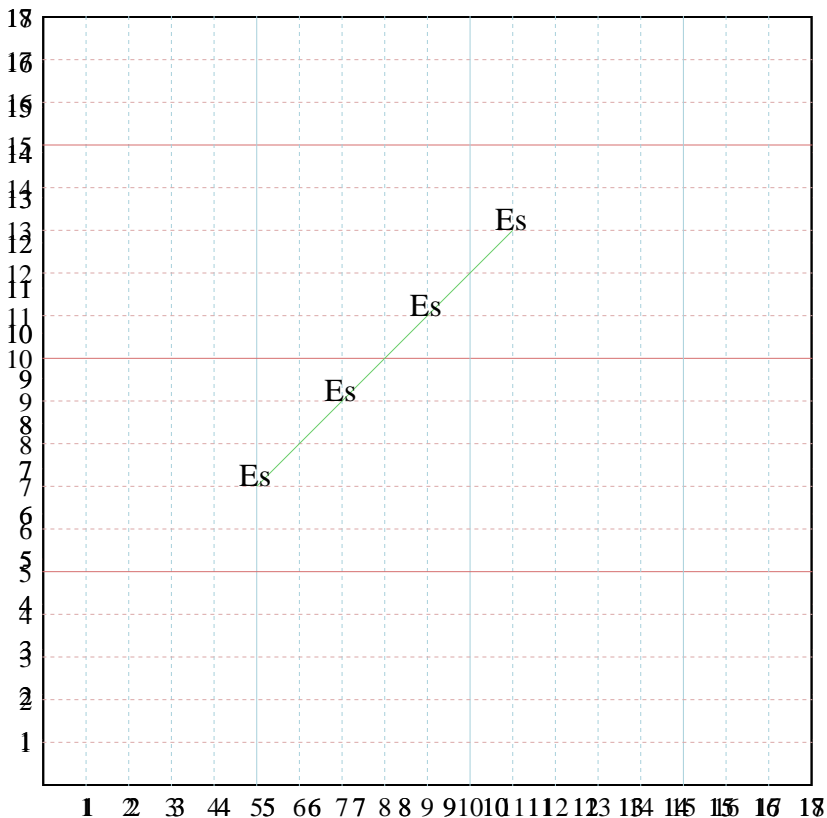
Y: Inizia da 10 e sottrai 2.

x: _____

y: _____



Inserisci nel modello e poi nel grafico le coppie di coordinate.



Risposte

Es. (11;13)

Es. Grafico

1. _____

1. Grafico

2. _____

2. Grafico

3. _____

3. Grafico

4. _____

4. Grafico

5. _____

5. Grafico

Es) X: Inizia da 4 ed aggiungi 2.

Y: Inizia da 7 ed aggiungi 2.

x: 4 6 8 10

y: 7 9 11 13

1) X: Inizia da 1 ed aggiungi 3.

Y: Inizia da 7 ed aggiungi 1.

x: _____

y: _____

2) X: Inizia da 8 ed aggiungi 2.

Y: Inizia da 6 ed aggiungi 1.

x: _____

y: _____

3) X: Inizia da 6 e sottra 3.

Y: Inizia da 6 ed aggiungi 2.

x: _____

y: _____

4) X: Inizia da 10 e sottra 2.

Y: Inizia da 3 ed aggiungi 1.

x: _____

y: _____

5) X: Inizia da 7 ed aggiungi 3.

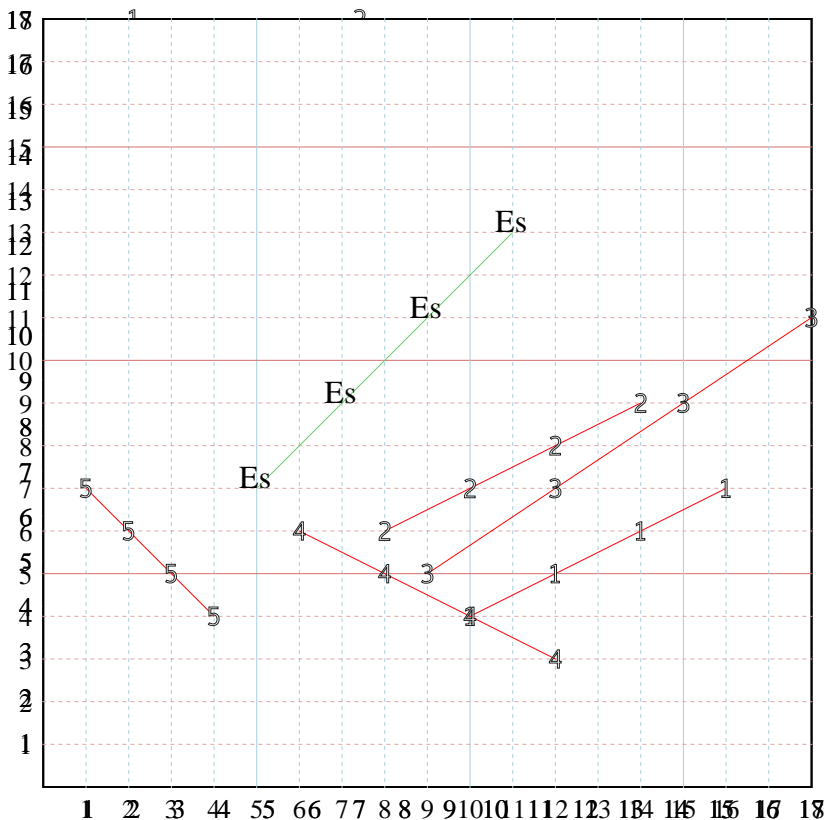
Y: Inizia da 4 ed aggiungi 1.

x: _____

y: _____



Inserisci nel modello e poi nel grafico le coppie di coordinate.



Risposte

Es. (11;13)

Es. Grafico

1. (10;4)

1. Grafico

2. (14;9)

2. Grafico

3. (9;5)

3. Grafico

4. (6;6)

4. Grafico

5. (1;7)

5. Grafico

Es) X: Inizia da ~~4~~ ed aggiungi 2.
 Y: Inizia da ~~7~~ ed aggiungi 2.
 x: 6 8 9 10
 y: 7 9 11 13

1) X: Inizia da ~~16~~ ed aggiungi 3.
 Y: Inizia da ~~7~~ ed aggiungi 1.
 x: _____
 y: _____

2) X: Inizia da ~~8~~ ed aggiungi 2.
 Y: Inizia da ~~6~~ ed aggiungi 1.
 x: _____
 y: _____

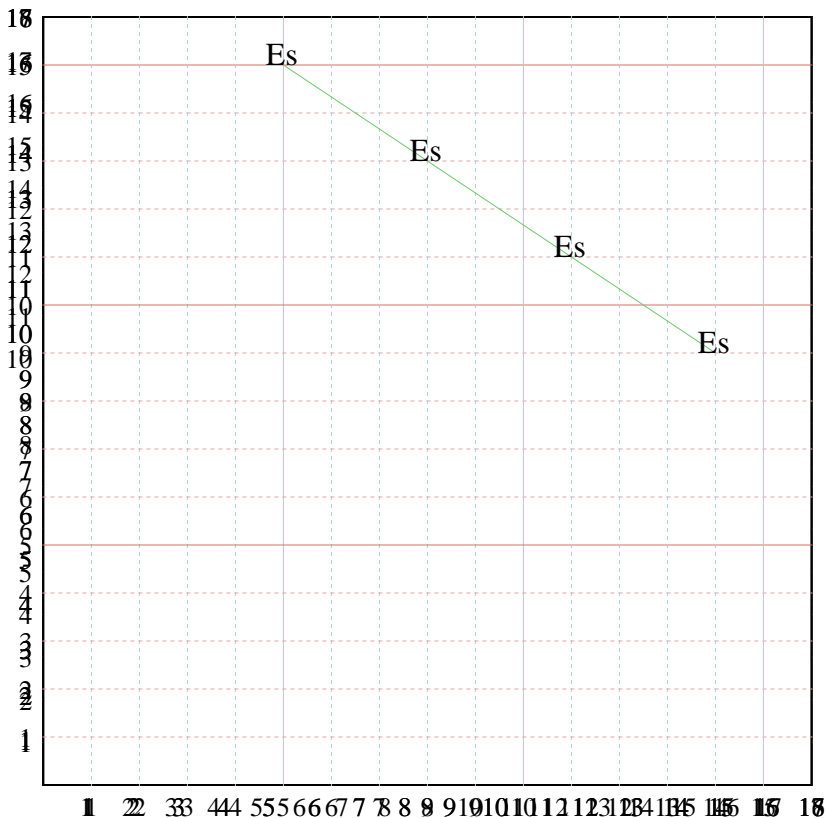
3) X: Inizia da ~~6~~ e sottrai 3.
 Y: Inizia da ~~6~~ ed aggiungi 2.
 x: _____
 y: _____

4) X: Inizia da ~~10~~ e sottrai 2.
 Y: Inizia da ~~3~~ ed aggiungi 1.
 x: _____
 y: _____

5) X: Inizia da ~~7~~ ed aggiungi 3.
 Y: Inizia da ~~4~~ ed aggiungi 1.
 x: _____
 y: _____



Inserisci nel modello e poi nel grafico le coppie di coordinate.



Risposte

Es. (5;15)

Es. Grafico

1. _____

1. Grafico

2. _____

2. Grafico

3. _____

3. Grafico

4. _____

4. Grafico

5. _____

5. Grafico

Es) X: Inizia da ~~4~~ ed aggiungi 2.

Y: Inizia da ~~0~~ ed aggiungi 2.

x: 4 6 8 10

y: 4 6 8 10

1) X: Inizia da ~~2~~ ed aggiungi 3.

Y: Inizia da ~~7~~ ed aggiungi 1.

x: _____

y: _____

2) X: Inizia da ~~8~~ ed aggiungi 2.

Y: Inizia da ~~6~~ ed aggiungi 1.

x: _____

y: _____

3) X: Inizia da ~~4~~ ed aggiungi 3.

Y: Inizia da ~~5~~ ed aggiungi 2.

x: _____

y: _____

4) X: Inizia da ~~7~~ ed aggiungi 2.

Y: Inizia da ~~3~~ ed aggiungi 1.

x: _____

y: _____

5) X: Inizia da ~~5~~ ed aggiungi 3.

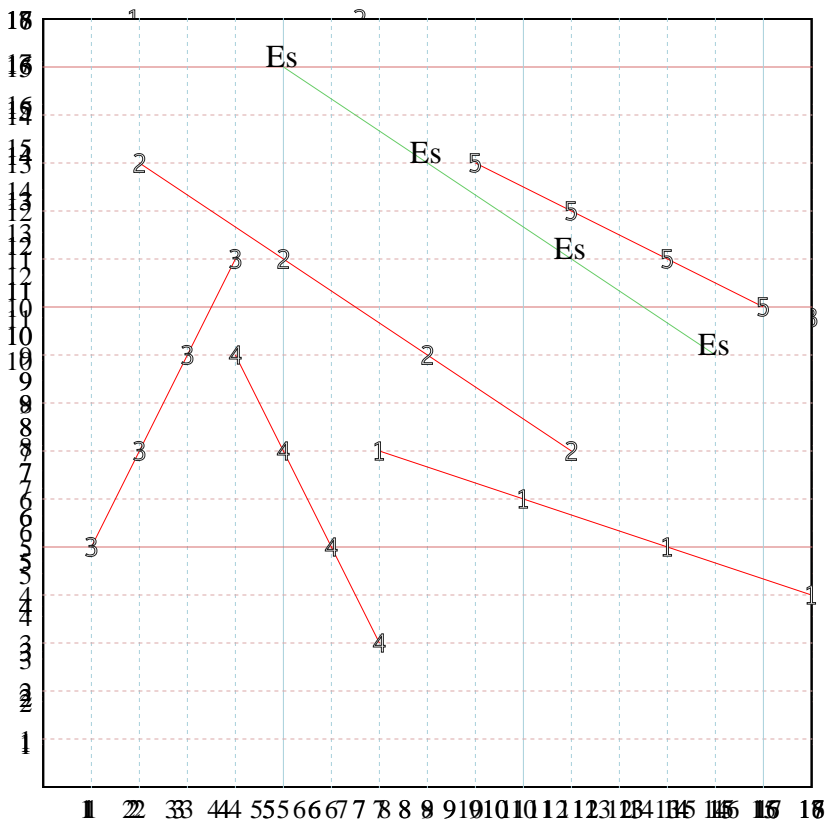
Y: Inizia da ~~10~~ ed aggiungi 1.

x: _____

y: _____



Inserisci nel modello e poi nel grafico le coppie di coordinate.



Risposte

Es. (5;15)

Es. Grafico

1. (16;4)

1. Grafico

2. (11;7)

2. Grafico

3. (1;5)

3. Grafico

4. (4;9)

4. Grafico

5. (9;13)

5. Grafico

Es) X: Inizia da ~~1~~ ed aggiungi 2.
 Y: Inizia da ~~0~~ ed aggiungi 2.
 x: 1 3 5 7
 y: 2 4 6 8

1) X: Inizia da ~~2~~ ed aggiungi 3.
 Y: Inizia da ~~7~~ ed aggiungi 1.
 x: _____
 y: _____

2) X: Inizia da ~~8~~ ed aggiungi 2.
 Y: Inizia da ~~6~~ ed aggiungi 1.
 x: _____
 y: _____

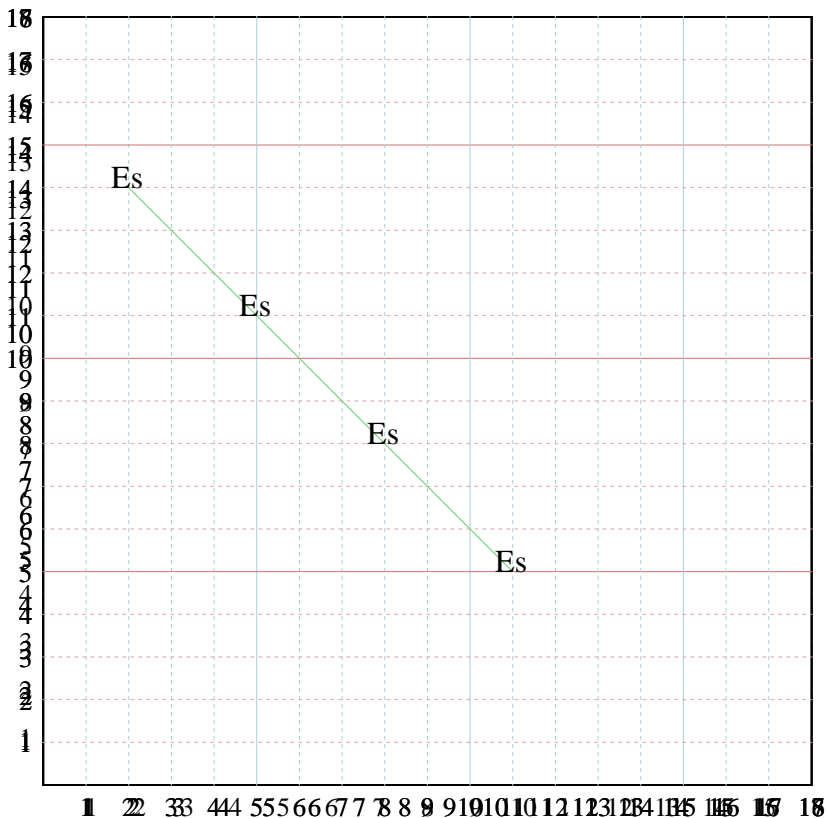
3) X: Inizia da ~~4~~ ed aggiungi 3.
 Y: Inizia da ~~15~~ ed aggiungi 2.
 x: _____
 y: _____

4) X: Inizia da ~~7~~ ed aggiungi 2.
 Y: Inizia da ~~3~~ ed aggiungi 1.
 x: _____
 y: _____

5) X: Inizia da ~~15~~ ed aggiungi 3.
 Y: Inizia da ~~10~~ ed aggiungi 1.
 x: _____
 y: _____



Inserisci nel modello e poi nel grafico le coppie di coordinate.



Risposte

Es. (11;5)

Es. Grafico

1. _____

1. Grafico

2. _____

2. Grafico

3. _____

3. Grafico

4. _____

4. Grafico

5. _____

5. Grafico

Es) X: Inizia da ~~14~~ e aggiungi 2.

Y: Inizia da ~~0~~ e aggiungi 2.

x: 2 4 6 8

y: 4 6 8 10

1) X: Inizia da ~~2~~ e aggiungi 3.

Y: Inizia da ~~0~~ e aggiungi 2.

x: _____

y: _____

2) X: Inizia da ~~3~~ e aggiungi 2.

Y: Inizia da ~~6~~ e sottrai 1.

x: _____

y: _____

3) X: Inizia da ~~4~~ e aggiungi 2.

Y: Inizia da ~~5~~ e sottrai 2.

x: _____

y: _____

4) X: Inizia da ~~7~~ e sottrai 2.

Y: Inizia da ~~3~~ e aggiungi 2.

x: _____

y: _____

5) X: Inizia da ~~5~~ e sottrai 2.

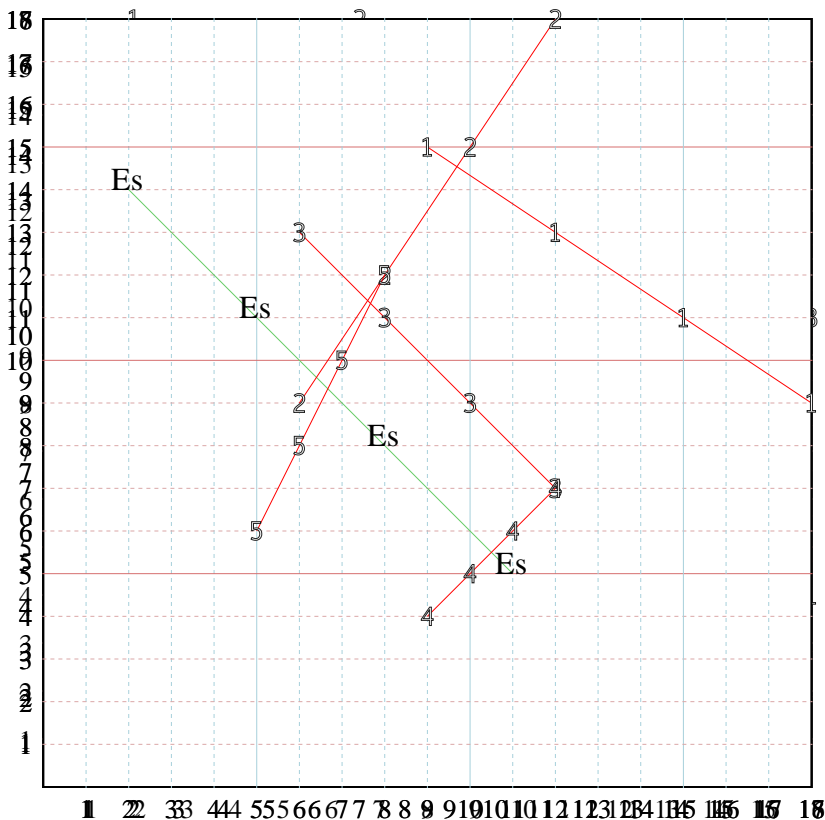
Y: Inizia da ~~10~~ e sottrai 1.

x: _____

y: _____



Inserisci nel modello e poi nel grafico le coppie di coordinate.



Risposte

Es. (11;5)

Es. Grafico

1. (9;15)

1. Grafico

2. (6;9)

2. Grafico

3. (12;7)

3. Grafico

4. (9;4)

4. Grafico

5. (5;6)

5. Grafico

Es) X: Inizia da ~~14~~ e aggiungi ~~2~~.
 Y: Inizia da ~~04~~ e aggiungi ~~2~~.
 x: 14 10 9 10
 y: 14 10 18 15

1) X: Inizia da ~~26~~ e aggiungi ~~3~~.
 Y: Inizia da ~~07~~ e aggiungi ~~2~~.
 x: _____
 y: _____

2) X: Inizia da ~~32~~ e aggiungi ~~2~~.
 Y: Inizia da ~~63~~ e sottrai ~~1~~.
 x: _____
 y: _____

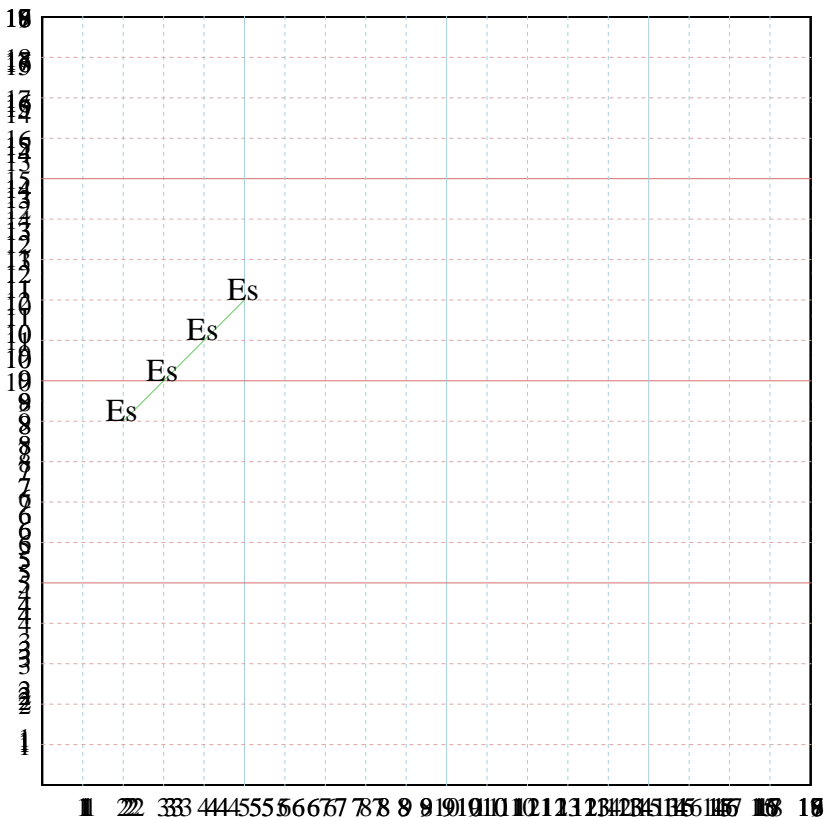
3) X: Inizia da ~~46~~ e aggiungi ~~2~~.
 Y: Inizia da ~~65~~ e sottrai ~~2~~.
 x: _____
 y: _____

4) X: Inizia da ~~76~~ e sottrai ~~2~~.
 Y: Inizia da ~~37~~ e aggiungi ~~2~~.
 x: _____
 y: _____

5) X: Inizia da ~~86~~ e sottrai ~~3~~.
 Y: Inizia da ~~10~~ e sottrai ~~11~~.
 x: _____
 y: _____



Inserisci nel modello e poi nel grafico le coppie di coordinate.



Risposte

Es. (2;9)

Es. Grafico

1. _____

1. Grafico

2. _____

2. Grafico

3. _____

3. Grafico

4. _____

4. Grafico

5. _____

5. Grafico

Es) X: Inizia da ~~14~~ e aggiungi ~~3~~.
 Y: Inizia da ~~02~~ e aggiungi ~~2~~.
 x: 14 17 20 23
 y: 02 04 06 08

1) X: Inizia da ~~26~~ e aggiungi ~~3~~.
 Y: Inizia da ~~06~~ e aggiungi ~~2~~.
 x: _____
 y: _____

2) X: Inizia da ~~32~~ e aggiungi ~~2~~.
 Y: Inizia da ~~69~~ e sottrai ~~1~~.
 x: _____
 y: _____

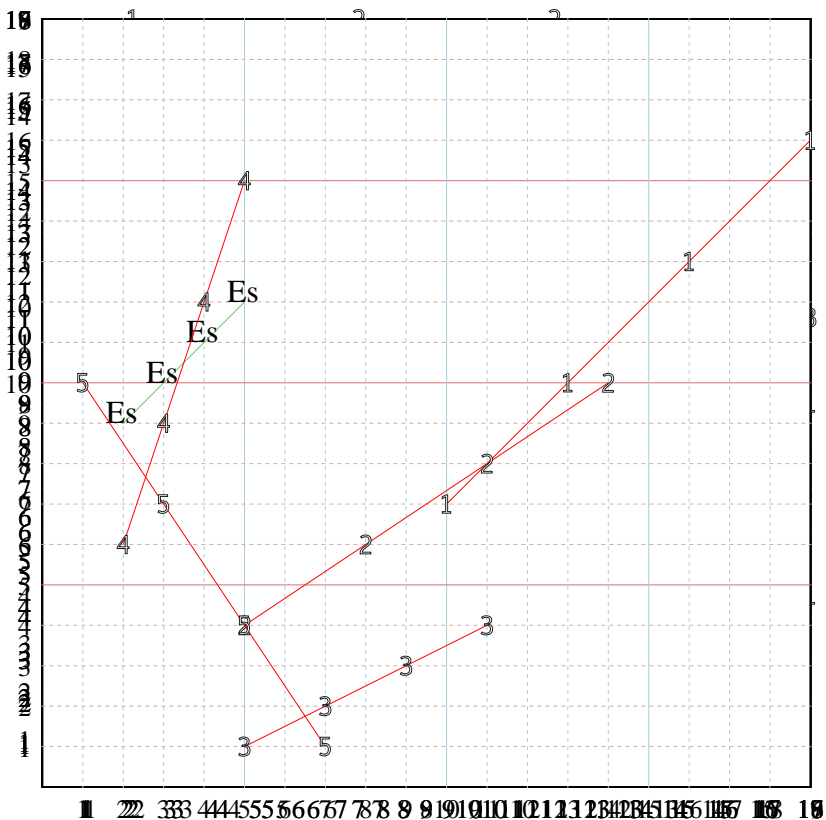
3) X: Inizia da ~~49~~ e aggiungi ~~2~~.
 Y: Inizia da ~~55~~ e sottrai ~~2~~.
 x: _____
 y: _____

4) X: Inizia da ~~76~~ e sottrai ~~2~~.
 Y: Inizia da ~~5~~ e aggiungi ~~3~~.
 x: _____
 y: _____

5) X: Inizia da ~~85~~ e sottrai ~~3~~.
 Y: Inizia da ~~10~~ e sottrai ~~11~~.
 x: _____
 y: _____



Inserisci nel modello e poi nel grafico le coppie di coordinate.



Risposte

Es. (2;9)

Es. Grafico

1. (10;7)

1. Grafico

2. (5;4)

2. Grafico

3. (5;1)

3. Grafico

4. (5;15)

4. Grafico

5. (7;1)

5. Grafico

Es) X: Inizia da ~~14~~ e sottrai ~~3~~ 2.
 Y: Inizia da ~~02~~ e sottrai ~~3~~ 2.
 x: 14 10 9 10
 y: 14 10 10 15

1) X: Inizia da ~~26~~ e sottrai ~~3~~ 3.
 Y: Inizia da ~~06~~ e sottrai ~~3~~ 2.
 x: _____
 y: _____

2) X: Inizia da ~~32~~ e sottrai ~~3~~ 2.
 Y: Inizia da ~~60~~ e sottrai ~~3~~ 1.
 x: _____
 y: _____

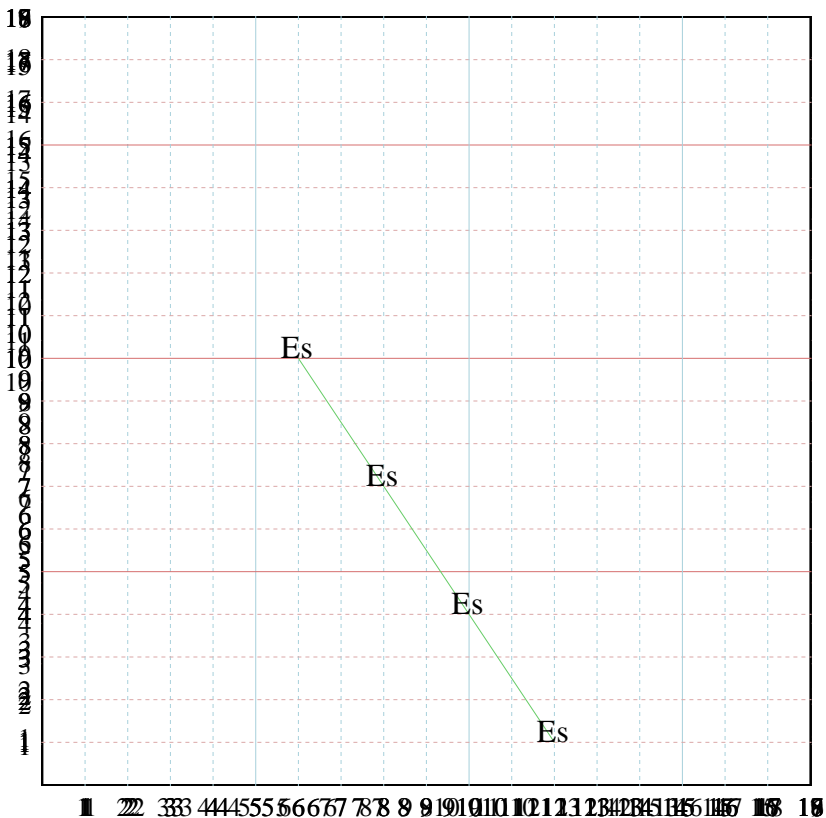
3) X: Inizia da ~~40~~ e sottrai ~~3~~ 2.
 Y: Inizia da ~~15~~ e sottrai ~~3~~ 2.
 x: _____
 y: _____

4) X: Inizia da ~~10~~ e sottrai ~~2~~ 1.
 Y: Inizia da ~~5~~ e sottrai ~~3~~ 3.
 x: _____
 y: _____

5) X: Inizia da ~~15~~ e sottrai ~~3~~ 3.
 Y: Inizia da ~~10~~ e sottrai ~~3~~ 1.
 x: _____
 y: _____



Inserisci nel modello e poi nel grafico le coppie di coordinate.



Risposte

Es. (12;1)

Es. Grafico

1. _____

1. Grafico

2. _____

2. Grafico

3. _____

3. Grafico

4. _____

4. Grafico

5. _____

5. Grafico

Es) X: Inizia da ~~1~~ e aggiungi 2.
 Y: Inizia da ~~0~~ e sottrai 2.
 x: 1 3 5 7
 y: 0 2 4 6

1) X: Inizia da ~~7~~ e aggiungi 3.
 Y: Inizia da ~~0~~ e aggiungi 2.
 x: _____
 y: _____

2) X: Inizia da ~~2~~ e aggiungi 2.
 Y: Inizia da ~~6~~ e sottrai 1.
 x: _____
 y: _____

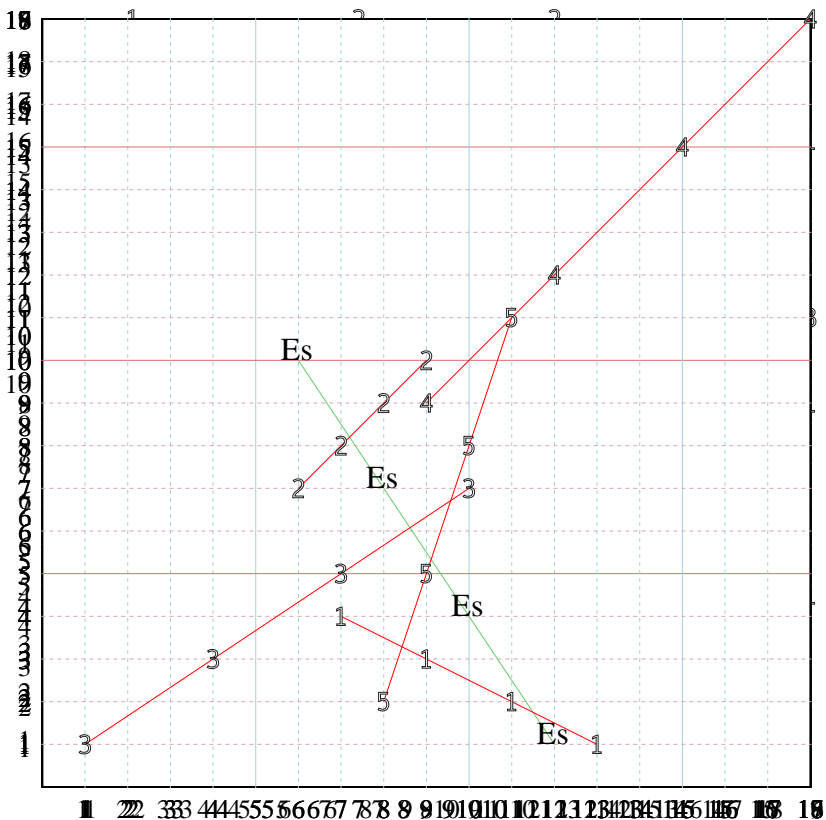
3) X: Inizia da ~~4~~ e aggiungi 3.
 Y: Inizia da ~~5~~ e sottrai 2.
 x: _____
 y: _____

4) X: Inizia da ~~2~~ e aggiungi 3.
 Y: Inizia da ~~5~~ e sottrai 3.
 x: _____
 y: _____

5) X: Inizia da ~~5~~ e sottrai 2.
 Y: Inizia da ~~10~~ e sottrai 3.
 x: _____
 y: _____



Inserisci nel modello e poi nel grafico le coppie di coordinate.



Risposte

Es. (12;1)

Es. Grafico

1. (13;1)

1. Grafico

2. (6;7)

2. Grafico

3. (10;7)

3. Grafico

4. (18;18)

4. Grafico

5. (11;11)

5. Grafico

Es) X: Inizia da ~~1~~ e aggiungi ~~2~~.
 Y: Inizia da ~~10~~ e sottrai ~~2~~.
 x: 1 3 5 7
 y: 10 8 6 4

1) X: Inizia da ~~7~~ e aggiungi ~~3~~.
 Y: Inizia da ~~16~~ e sottrai ~~2~~.
 x: _____
 y: _____

2) X: Inizia da ~~12~~ e aggiungi ~~2~~.
 Y: Inizia da ~~10~~ e sottrai ~~1~~.
 x: _____
 y: _____

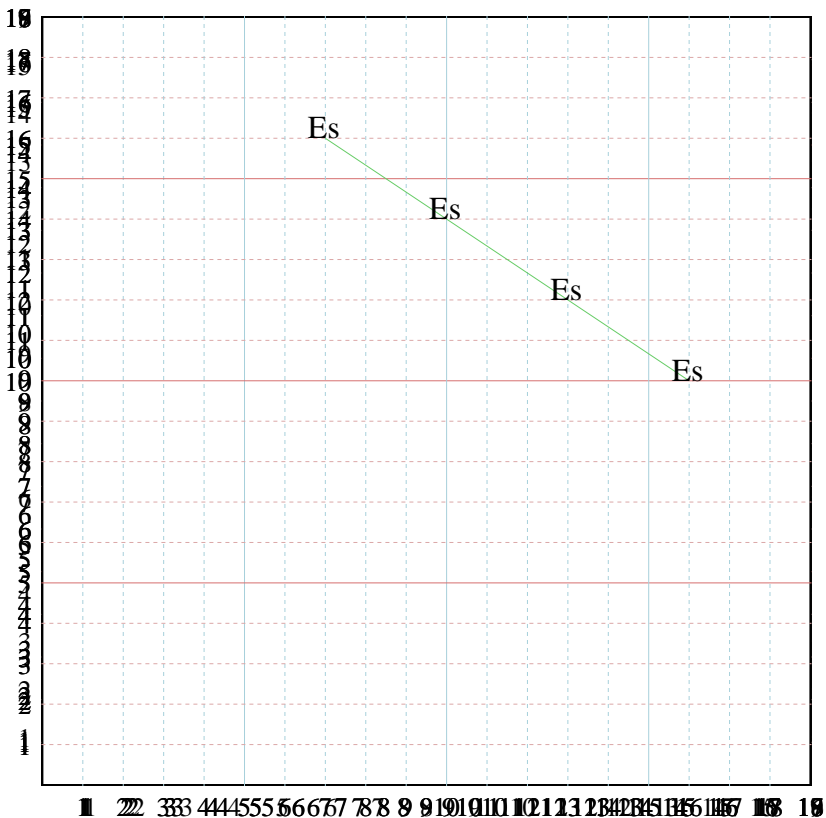
3) X: Inizia da ~~4~~ e aggiungi ~~3~~.
 Y: Inizia da ~~15~~ e sottrai ~~2~~.
 x: _____
 y: _____

4) X: Inizia da ~~9~~ e aggiungi ~~3~~.
 Y: Inizia da ~~5~~ e sottrai ~~3~~.
 x: _____
 y: _____

5) X: Inizia da ~~5~~ e aggiungi ~~3~~.
 Y: Inizia da ~~10~~ e sottrai ~~3~~.
 x: _____
 y: _____



Inserisci nel modello e poi nel grafico le coppie di coordinate.



Risposte

Es. (16;10)

Es. Grafico

1. _____

1. Grafico

2. _____

2. Grafico

3. _____

3. Grafico

4. _____

4. Grafico

5. _____

5. Grafico

Es) X: Inizia da 4 e aggiunge 3.

Y: Inizia da 10 e sottrae 2.

x: 4 7 10 13

y: 10 8 6 4

1) X: Inizia da 7 e aggiunge 3.

Y: Inizia da 10 e sottrae 2.

x: _____

y: _____

2) X: Inizia da 12 e aggiunge 2.

Y: Inizia da 6 e sottrae 1.

x: _____

y: _____

3) X: Inizia da 4 e aggiunge 1.

Y: Inizia da 10 e sottrae 2.

x: _____

y: _____

4) X: Inizia da 9 e aggiunge 1.

Y: Inizia da 5 e aggiunge 1.

x: _____

y: _____

5) X: Inizia da 5 e aggiunge 1.

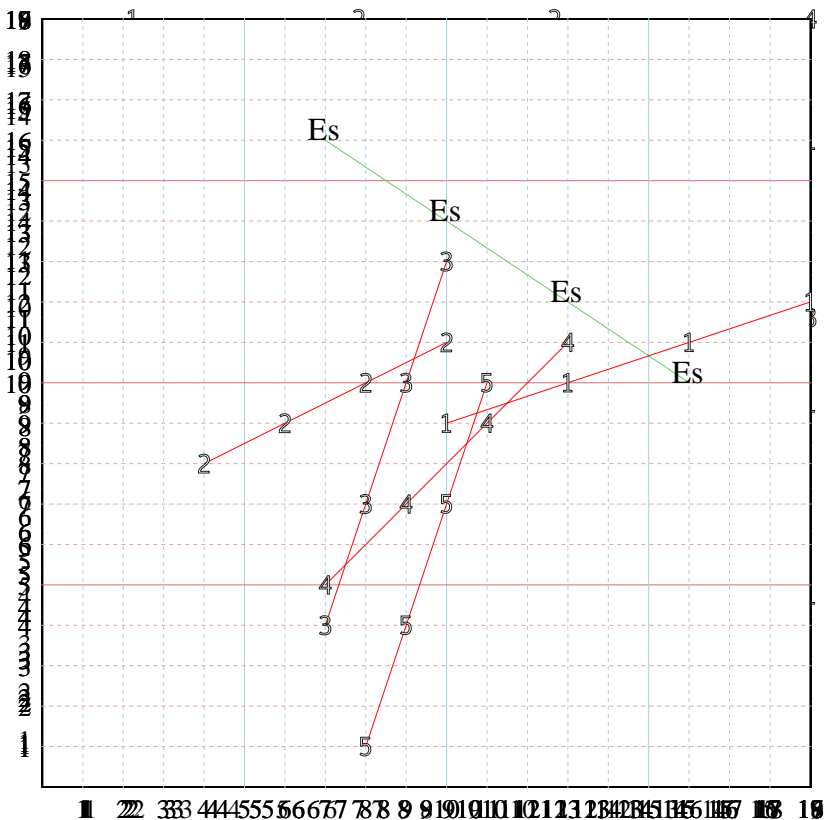
Y: Inizia da 10 e sottrae 1.

x: _____

y: _____



Inserisci nel modello e poi nel grafico le coppie di coordinate.



Risposte

Es. (16;10)

Es. Grafico

1. (10;9)

1. Grafico

2. (10;11)

2. Grafico

3. (10;13)

3. Grafico

4. (13;11)

4. Grafico

5. (8;1)

5. Grafico

Es) X: Inizia da ~~1~~ ed aggiungi ~~2~~.
 Y: Inizia da ~~10~~ ed sottrai ~~2~~.
 x: 1 10 11 10
 y: 10 9 8 7

1) X: Inizia da ~~7~~ ed aggiungi ~~3~~.
 Y: Inizia da ~~10~~ ed sottrai ~~2~~.
 x: _____
 y: _____

2) X: Inizia da ~~1~~ ed aggiungi ~~2~~.
 Y: Inizia da ~~10~~ ed sottrai ~~1~~.
 x: _____
 y: _____

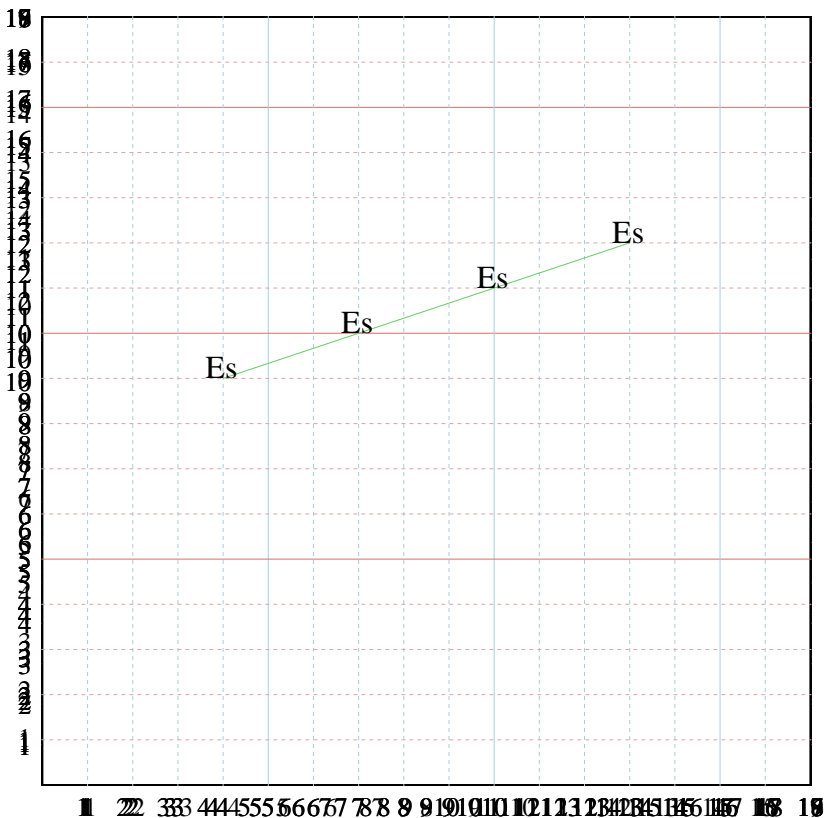
3) X: Inizia da ~~4~~ ed aggiungi ~~1~~.
 Y: Inizia da ~~10~~ ed sottrai ~~2~~.
 x: _____
 y: _____

4) X: Inizia da ~~1~~ ed aggiungi ~~1~~.
 Y: Inizia da ~~1~~ ed aggiungi ~~1~~.
 x: _____
 y: _____

5) X: Inizia da ~~10~~ ed sottrai ~~2~~.
 Y: Inizia da ~~10~~ ed sottrai ~~3~~.
 x: _____
 y: _____



Inserisci nel modello e poi nel grafico le coppie di coordinate.



Risposte

Es. (4;9)

Es. Grafico

1. _____

1. Grafico

2. _____

2. Grafico

3. _____

3. Grafico

4. _____

4. Grafico

5. _____

5. Grafico

Es) X: Inizia da 3 e aggiungi 2.

Y: Inizia da 4 e aggiungi 1.

x: 3 5 7 9

y: 4 5 6 7

1) X: Inizia da 7 e aggiungi 3.

Y: Inizia da 3 e aggiungi 1.

x: _____

y: _____

2) X: Inizia da 1 e aggiungi 2.

Y: Inizia da 0 e aggiungi 1.

x: _____

y: _____

3) X: Inizia da 5 e aggiungi 3.

Y: Inizia da 1 e aggiungi 2.

x: _____

y: _____

4) X: Inizia da 1 e aggiungi 1.

Y: Inizia da 5 e aggiungi 1.

x: _____

y: _____

5) X: Inizia da 5 e aggiungi 2.

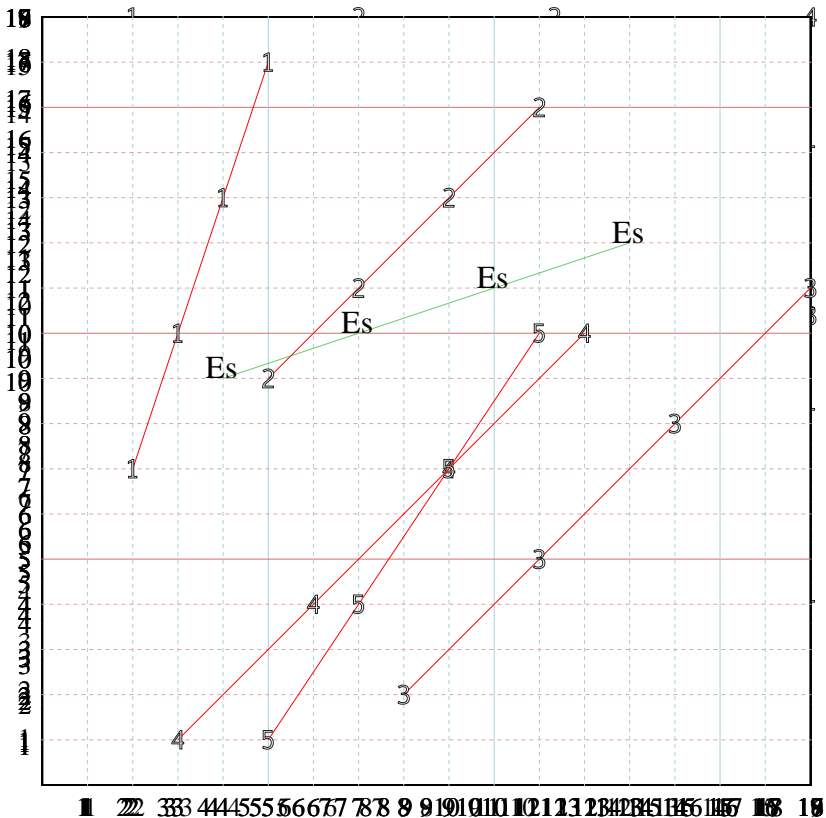
Y: Inizia da 10 e aggiungi 1.

x: _____

y: _____



Inserisci nel modello e poi nel grafico le coppie di coordinate.



Risposte

Es. (4;9)

Es. Grafico

1. (5;16)

1. Grafico

2. (11;15)

2. Grafico

3. (17;11)

3. Grafico

4. (12;10)

4. Grafico

5. (5;1)

5. Grafico

Es) X: Inizia da ~~1~~ e aggiungi ~~2~~.
 Y: Inizia da ~~1~~ e aggiungi ~~2~~.
 x: 1 3 5 7
 y: 1 3 5 7

1) X: Inizia da ~~7~~ e aggiungi ~~3~~.
 Y: Inizia da ~~1~~ e aggiungi ~~3~~.
 x: _____
 y: _____

2) X: Inizia da ~~1~~ e aggiungi ~~2~~.
 Y: Inizia da ~~1~~ e aggiungi ~~1~~.
 x: _____
 y: _____

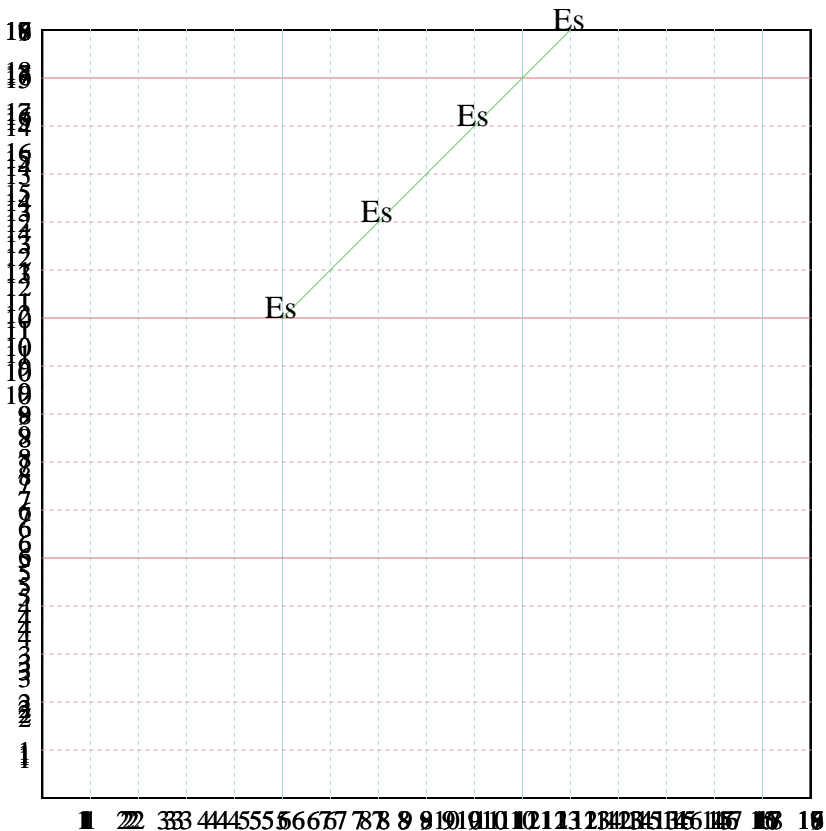
3) X: Inizia da ~~4~~ e aggiungi ~~3~~.
 Y: Inizia da ~~1~~ e aggiungi ~~2~~.
 x: _____
 y: _____

4) X: Inizia da ~~1~~ e aggiungi ~~3~~.
 Y: Inizia da ~~1~~ e aggiungi ~~3~~.
 x: _____
 y: _____

5) X: Inizia da ~~1~~ e aggiungi ~~2~~.
 Y: Inizia da ~~10~~ e aggiungi ~~3~~.
 x: _____
 y: _____



Inserisci nel modello e poi nel grafico le coppie di coordinate.



Risposte

Es. (5;10)

Es. Grafico

1. _____

1. Grafico

2. _____

2. Grafico

3. _____

3. Grafico

4. _____

4. Grafico

5. _____

5. Grafico

Es) X: Inizia da 5 e aggiungi 2.
 Y: Inizia da 3 e aggiungi 2.
 x: 5 7 9 11
 y: 3 5 7 9

1) X: Inizia da 7 e aggiungi 2.
 Y: Inizia da 5 e aggiungi 2.
 x: _____
 y: _____

2) X: Inizia da 9 e aggiungi 2.
 Y: Inizia da 7 e aggiungi 2.
 x: _____
 y: _____

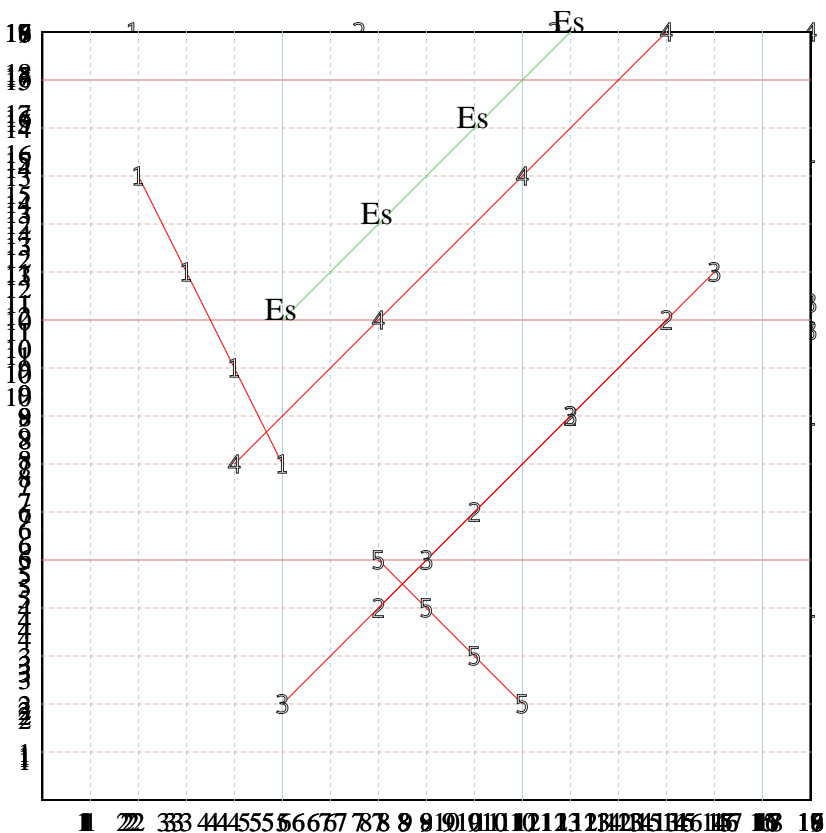
3) X: Inizia da 11 e aggiungi 2.
 Y: Inizia da 9 e aggiungi 2.
 x: _____
 y: _____

4) X: Inizia da 13 e aggiungi 2.
 Y: Inizia da 11 e aggiungi 2.
 x: _____
 y: _____

5) X: Inizia da 15 e aggiungi 2.
 Y: Inizia da 13 e aggiungi 2.
 x: _____
 y: _____



Inserisci nel modello e poi nel grafico le coppie di coordinate.



Risposte

Es. (5;10)

Es. Grafico

1. (2;13)

1. Grafico

2. (13;10)

2. Grafico

3. (5;2)

3. Grafico

4. (13;16)

4. Grafico

5. (10;2)

5. Grafico

Es) X: Inizia da ~~1~~ 5 e aggiungi ~~3~~ 2.
 Y: Inizia da ~~10~~ 5 e sottrai ~~2~~ 1.
 x: 5 7 9 11
 y: 5 7 9 11

1) X: Inizia da ~~1~~ 5 e aggiungi ~~3~~ 2.
 Y: Inizia da ~~10~~ 5 e sottrai ~~2~~ 1.
 x: _____
 y: _____

2) X: Inizia da ~~1~~ 5 e aggiungi ~~3~~ 2.
 Y: Inizia da ~~10~~ 5 e sottrai ~~2~~ 1.
 x: _____
 y: _____

3) X: Inizia da ~~1~~ 5 e aggiungi ~~3~~ 2.
 Y: Inizia da ~~10~~ 5 e sottrai ~~2~~ 1.
 x: _____
 y: _____

4) X: Inizia da ~~1~~ 5 e aggiungi ~~3~~ 2.
 Y: Inizia da ~~10~~ 5 e sottrai ~~2~~ 1.
 x: _____
 y: _____

5) X: Inizia da ~~1~~ 5 e aggiungi ~~3~~ 2.
 Y: Inizia da ~~10~~ 5 e sottrai ~~2~~ 1.
 x: _____
 y: _____