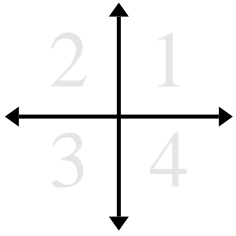




Determina le coordinate e il quadrante per ogni problema.



- Es)** Iniziando da $(0;0)$ se ti sposti di 8 unità giù e 10 unità sinistra quali coordinate otterrai? In quale quadrante ti trovi?
- 1) Iniziando da $(0;0)$ se ti sposti di 3 unità su e 3 unità destra quali coordinate otterrai? In quale quadrante ti trovi?
 - 2) Iniziando da $(0;0)$ se ti sposti di 4 unità su e 5 unità sinistra quali coordinate otterrai? In quale quadrante ti trovi?
 - 3) Iniziando da $(0;0)$ se ti sposti di 9 unità giù e 7 unità sinistra quali coordinate otterrai? In quale quadrante ti trovi?
 - 4) Iniziando da $(0;0)$ se ti sposti di 2 unità destra e 10 unità giù quali coordinate otterrai? In quale quadrante ti trovi?
 - 5) Iniziando da $(0;0)$ se ti sposti di 9 unità giù e 10 unità destra quali coordinate otterrai? In quale quadrante ti trovi?
 - 6) Iniziando da $(0;0)$ se ti sposti di 9 unità giù e 8 unità sinistra quali coordinate otterrai? In quale quadrante ti trovi?
 - 7) Iniziando da $(0;0)$ se ti sposti di 7 unità destra e 10 unità giù quali coordinate otterrai? In quale quadrante ti trovi?
 - 8) Iniziando da $(0;0)$ se ti sposti di 6 unità giù e 5 unità sinistra quali coordinate otterrai? In quale quadrante ti trovi?
 - 9) Iniziando da $(0;0)$ se ti sposti di 9 unità destra e 7 unità giù quali coordinate otterrai? In quale quadrante ti trovi?
 - 10) Iniziando da $(0;0)$ se ti sposti di 2 unità su e 9 unità sinistra quali coordinate otterrai? In quale quadrante ti trovi?
 - 11) Iniziando da $(0;0)$ se ti sposti di 5 unità destra e 8 unità su quali coordinate otterrai? In quale quadrante ti trovi?
 - 12) Iniziando da $(0;0)$ se ti sposti di 4 unità giù e 3 unità sinistra quali coordinate otterrai? In quale quadrante ti trovi?
 - 13) Iniziando da $(0;0)$ se ti sposti di 7 unità destra e 5 unità giù quali coordinate otterrai? In quale quadrante ti trovi?

Risposte

Es. **$(-10;-8)$** **3**

1. _____

2. _____

3. _____

4. _____

5. _____

6. _____

7. _____

8. _____

9. _____

10. _____

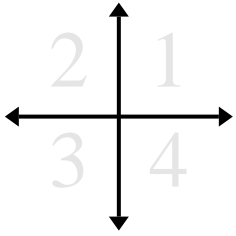
11. _____

12. _____

13. _____



Determina le coordinate e il quadrante per ogni problema.



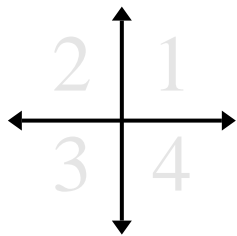
- Es) Iniziando da (0;0) se ti sposti di 8 unità giù e 10 unità sinistra quali coordinate otterrai? In quale quadrante ti trovi?
- Iniziando da (0;0) se ti sposti di 3 unità su e 3 unità destra quali coordinate otterrai? In quale quadrante ti trovi?
 - Iniziando da (0;0) se ti sposti di 4 unità su e 5 unità sinistra quali coordinate otterrai? In quale quadrante ti trovi?
 - Iniziando da (0;0) se ti sposti di 9 unità giù e 7 unità sinistra quali coordinate otterrai? In quale quadrante ti trovi?
 - Iniziando da (0;0) se ti sposti di 2 unità destra e 10 unità giù quali coordinate otterrai? In quale quadrante ti trovi?
 - Iniziando da (0;0) se ti sposti di 9 unità giù e 10 unità destra quali coordinate otterrai? In quale quadrante ti trovi?
 - Iniziando da (0;0) se ti sposti di 9 unità giù e 8 unità sinistra quali coordinate otterrai? In quale quadrante ti trovi?
 - Iniziando da (0;0) se ti sposti di 7 unità destra e 10 unità giù quali coordinate otterrai? In quale quadrante ti trovi?
 - Iniziando da (0;0) se ti sposti di 6 unità giù e 5 unità sinistra quali coordinate otterrai? In quale quadrante ti trovi?
 - Iniziando da (0;0) se ti sposti di 9 unità destra e 7 unità giù quali coordinate otterrai? In quale quadrante ti trovi?
 - Iniziando da (0;0) se ti sposti di 2 unità su e 9 unità sinistra quali coordinate otterrai? In quale quadrante ti trovi?
 - Iniziando da (0;0) se ti sposti di 5 unità destra e 8 unità su quali coordinate otterrai? In quale quadrante ti trovi?
 - Iniziando da (0;0) se ti sposti di 4 unità giù e 3 unità sinistra quali coordinate otterrai? In quale quadrante ti trovi?
 - Iniziando da (0;0) se ti sposti di 7 unità destra e 5 unità giù quali coordinate otterrai? In quale quadrante ti trovi?

Risposte

- Es. (-10;-8) 3
- (3;3) 1
 - (-5;4) 2
 - (-7;-9) 3
 - (2;-10) 4
 - (10;-9) 4
 - (-8;-9) 3
 - (7;-10) 4
 - (-5;-6) 3
 - (9;-7) 4
 - (-9;2) 2
 - (5;8) 1
 - (-3;-4) 3
 - (7;-5) 4



Determina le coordinate e il quadrante per ogni problema.



Es) Iniziando da $(0;0)$ se ti sposti di 1 unità giù e 3 unità destra quali coordinate otterrai? In quale quadrante ti trovi?

1) Iniziando da $(0;0)$ se ti sposti di 8 unità destra e 7 unità giù quali coordinate otterrai? In quale quadrante ti trovi?

2) Iniziando da $(0;0)$ se ti sposti di 7 unità sinistra e 1 unità su quali coordinate otterrai? In quale quadrante ti trovi?

3) Iniziando da $(0;0)$ se ti sposti di 6 unità su e 9 unità sinistra quali coordinate otterrai? In quale quadrante ti trovi?

4) Iniziando da $(0;0)$ se ti sposti di 3 unità su e 8 unità destra quali coordinate otterrai? In quale quadrante ti trovi?

5) Iniziando da $(0;0)$ se ti sposti di 6 unità destra e 10 unità su quali coordinate otterrai? In quale quadrante ti trovi?

6) Iniziando da $(0;0)$ se ti sposti di 3 unità giù e 10 unità sinistra quali coordinate otterrai? In quale quadrante ti trovi?

7) Iniziando da $(0;0)$ se ti sposti di 8 unità sinistra e 4 unità su quali coordinate otterrai? In quale quadrante ti trovi?

8) Iniziando da $(0;0)$ se ti sposti di 10 unità sinistra e 3 unità su quali coordinate otterrai? In quale quadrante ti trovi?

9) Iniziando da $(0;0)$ se ti sposti di 8 unità su e 2 unità sinistra quali coordinate otterrai? In quale quadrante ti trovi?

10) Iniziando da $(0;0)$ se ti sposti di 10 unità su e 9 unità destra quali coordinate otterrai? In quale quadrante ti trovi?

11) Iniziando da $(0;0)$ se ti sposti di 5 unità giù e 8 unità destra quali coordinate otterrai? In quale quadrante ti trovi?

12) Iniziando da $(0;0)$ se ti sposti di 1 unità sinistra e 10 unità giù quali coordinate otterrai? In quale quadrante ti trovi?

13) Iniziando da $(0;0)$ se ti sposti di 3 unità giù e 8 unità destra quali coordinate otterrai? In quale quadrante ti trovi?

Risposte

Es. (3;-1) 4

1. _____

2. _____

3. _____

4. _____

5. _____

6. _____

7. _____

8. _____

9. _____

10. _____

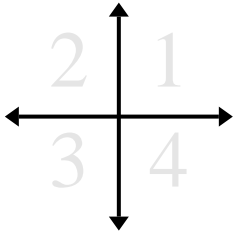
11. _____

12. _____

13. _____



Determina le coordinate e il quadrante per ogni problema.



Es) Iniziando da (0;0) se ti sposti di 1 unità giù e 3 unità destra quali coordinate otterrai? In quale quadrante ti trovi?

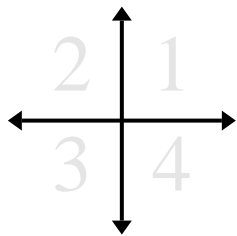
- 1) Iniziando da (0;0) se ti sposti di 8 unità destra e 7 unità giù quali coordinate otterrai? In quale quadrante ti trovi?
- 2) Iniziando da (0;0) se ti sposti di 7 unità sinistra e 1 unità su quali coordinate otterrai? In quale quadrante ti trovi?
- 3) Iniziando da (0;0) se ti sposti di 6 unità su e 9 unità sinistra quali coordinate otterrai? In quale quadrante ti trovi?
- 4) Iniziando da (0;0) se ti sposti di 3 unità su e 8 unità destra quali coordinate otterrai? In quale quadrante ti trovi?
- 5) Iniziando da (0;0) se ti sposti di 6 unità destra e 10 unità su quali coordinate otterrai? In quale quadrante ti trovi?
- 6) Iniziando da (0;0) se ti sposti di 3 unità giù e 10 unità sinistra quali coordinate otterrai? In quale quadrante ti trovi?
- 7) Iniziando da (0;0) se ti sposti di 8 unità sinistra e 4 unità su quali coordinate otterrai? In quale quadrante ti trovi?
- 8) Iniziando da (0;0) se ti sposti di 10 unità sinistra e 3 unità su quali coordinate otterrai? In quale quadrante ti trovi?
- 9) Iniziando da (0;0) se ti sposti di 8 unità su e 2 unità sinistra quali coordinate otterrai? In quale quadrante ti trovi?
- 10) Iniziando da (0;0) se ti sposti di 10 unità su e 9 unità destra quali coordinate otterrai? In quale quadrante ti trovi?
- 11) Iniziando da (0;0) se ti sposti di 5 unità giù e 8 unità destra quali coordinate otterrai? In quale quadrante ti trovi?
- 12) Iniziando da (0;0) se ti sposti di 1 unità sinistra e 10 unità giù quali coordinate otterrai? In quale quadrante ti trovi?
- 13) Iniziando da (0;0) se ti sposti di 3 unità giù e 8 unità destra quali coordinate otterrai? In quale quadrante ti trovi?

Risposte

- | | | |
|-----|-----------------|----------|
| Es. | <u>(3;-1)</u> | <u>4</u> |
| 1. | <u>(8;-7)</u> | <u>4</u> |
| 2. | <u>(-7;1)</u> | <u>2</u> |
| 3. | <u>(-9;6)</u> | <u>2</u> |
| 4. | <u>(8;3)</u> | <u>1</u> |
| 5. | <u>(6;10)</u> | <u>1</u> |
| 6. | <u>(-10;-3)</u> | <u>3</u> |
| 7. | <u>(-8;4)</u> | <u>2</u> |
| 8. | <u>(-10;3)</u> | <u>2</u> |
| 9. | <u>(-2;8)</u> | <u>2</u> |
| 10. | <u>(9;10)</u> | <u>1</u> |
| 11. | <u>(8;-5)</u> | <u>4</u> |
| 12. | <u>(-1;-10)</u> | <u>3</u> |
| 13. | <u>(8;-3)</u> | <u>4</u> |



Determina le coordinate e il quadrante per ogni problema.



Es) Iniziando da $(0;0)$ se ti sposti di 7 unità giù e 10 unità sinistra quali coordinate otterrai? In quale quadrante ti trovi?

- 1) Iniziando da $(0;0)$ se ti sposti di 4 unità destra e 1 unità su quali coordinate otterrai? In quale quadrante ti trovi?
- 2) Iniziando da $(0;0)$ se ti sposti di 10 unità sinistra e 10 unità giù quali coordinate otterrai? In quale quadrante ti trovi?
- 3) Iniziando da $(0;0)$ se ti sposti di 5 unità sinistra e 4 unità su quali coordinate otterrai? In quale quadrante ti trovi?
- 4) Iniziando da $(0;0)$ se ti sposti di 4 unità giù e 10 unità destra quali coordinate otterrai? In quale quadrante ti trovi?
- 5) Iniziando da $(0;0)$ se ti sposti di 4 unità destra e 1 unità su quali coordinate otterrai? In quale quadrante ti trovi?
- 6) Iniziando da $(0;0)$ se ti sposti di 5 unità sinistra e 10 unità giù quali coordinate otterrai? In quale quadrante ti trovi?
- 7) Iniziando da $(0;0)$ se ti sposti di 5 unità su e 2 unità sinistra quali coordinate otterrai? In quale quadrante ti trovi?
- 8) Iniziando da $(0;0)$ se ti sposti di 4 unità giù e 3 unità destra quali coordinate otterrai? In quale quadrante ti trovi?
- 9) Iniziando da $(0;0)$ se ti sposti di 9 unità su e 6 unità sinistra quali coordinate otterrai? In quale quadrante ti trovi?
- 10) Iniziando da $(0;0)$ se ti sposti di 1 unità giù e 7 unità sinistra quali coordinate otterrai? In quale quadrante ti trovi?
- 11) Iniziando da $(0;0)$ se ti sposti di 8 unità giù e 5 unità sinistra quali coordinate otterrai? In quale quadrante ti trovi?
- 12) Iniziando da $(0;0)$ se ti sposti di 9 unità su e 9 unità sinistra quali coordinate otterrai? In quale quadrante ti trovi?
- 13) Iniziando da $(0;0)$ se ti sposti di 5 unità sinistra e 6 unità su quali coordinate otterrai? In quale quadrante ti trovi?

Risposte

Es. **$(-10;-7)$** **3**

1. _____

2. _____

3. _____

4. _____

5. _____

6. _____

7. _____

8. _____

9. _____

10. _____

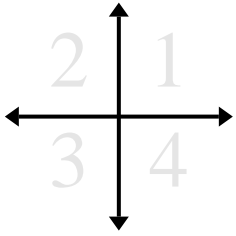
11. _____

12. _____

13. _____



Determina le coordinate e il quadrante per ogni problema.



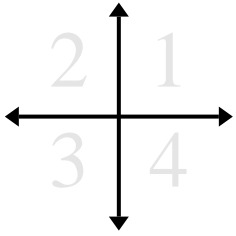
- Es) Iniziando da (0;0) se ti sposti di 7 unità giù e 10 unità sinistra quali coordinate otterrai? In quale quadrante ti trovi?
- Iniziando da (0;0) se ti sposti di 4 unità destra e 1 unità su quali coordinate otterrai? In quale quadrante ti trovi?
 - Iniziando da (0;0) se ti sposti di 10 unità sinistra e 10 unità giù quali coordinate otterrai? In quale quadrante ti trovi?
 - Iniziando da (0;0) se ti sposti di 5 unità sinistra e 4 unità su quali coordinate otterrai? In quale quadrante ti trovi?
 - Iniziando da (0;0) se ti sposti di 4 unità giù e 10 unità destra quali coordinate otterrai? In quale quadrante ti trovi?
 - Iniziando da (0;0) se ti sposti di 4 unità destra e 1 unità su quali coordinate otterrai? In quale quadrante ti trovi?
 - Iniziando da (0;0) se ti sposti di 5 unità sinistra e 10 unità giù quali coordinate otterrai? In quale quadrante ti trovi?
 - Iniziando da (0;0) se ti sposti di 5 unità su e 2 unità sinistra quali coordinate otterrai? In quale quadrante ti trovi?
 - Iniziando da (0;0) se ti sposti di 4 unità giù e 3 unità destra quali coordinate otterrai? In quale quadrante ti trovi?
 - Iniziando da (0;0) se ti sposti di 9 unità su e 6 unità sinistra quali coordinate otterrai? In quale quadrante ti trovi?
 - Iniziando da (0;0) se ti sposti di 1 unità giù e 7 unità sinistra quali coordinate otterrai? In quale quadrante ti trovi?
 - Iniziando da (0;0) se ti sposti di 8 unità giù e 5 unità sinistra quali coordinate otterrai? In quale quadrante ti trovi?
 - Iniziando da (0;0) se ti sposti di 9 unità su e 9 unità sinistra quali coordinate otterrai? In quale quadrante ti trovi?
 - Iniziando da (0;0) se ti sposti di 5 unità sinistra e 6 unità su quali coordinate otterrai? In quale quadrante ti trovi?

Risposte

- Es. (-10;-7) 3
- (4;1) 1
 - (-10;-10) 3
 - (-5;4) 2
 - (10;-4) 4
 - (4;1) 1
 - (-5;-10) 3
 - (-2;5) 2
 - (3;-4) 4
 - (-6;9) 2
 - (-7;-1) 3
 - (-5;-8) 3
 - (-9;9) 2
 - (-5;6) 2



Determina le coordinate e il quadrante per ogni problema.



Es) Iniziando da $(0;0)$ se ti sposti di 4 unità su e 10 unità sinistra quali coordinate otterrai? In quale quadrante ti trovi?

- 1) Iniziando da $(0;0)$ se ti sposti di 5 unità destra e 10 unità giù quali coordinate otterrai? In quale quadrante ti trovi?
- 2) Iniziando da $(0;0)$ se ti sposti di 4 unità giù e 5 unità sinistra quali coordinate otterrai? In quale quadrante ti trovi?
- 3) Iniziando da $(0;0)$ se ti sposti di 6 unità sinistra e 7 unità su quali coordinate otterrai? In quale quadrante ti trovi?
- 4) Iniziando da $(0;0)$ se ti sposti di 1 unità su e 2 unità destra quali coordinate otterrai? In quale quadrante ti trovi?
- 5) Iniziando da $(0;0)$ se ti sposti di 2 unità sinistra e 8 unità su quali coordinate otterrai? In quale quadrante ti trovi?
- 6) Iniziando da $(0;0)$ se ti sposti di 5 unità sinistra e 3 unità giù quali coordinate otterrai? In quale quadrante ti trovi?
- 7) Iniziando da $(0;0)$ se ti sposti di 5 unità giù e 1 unità sinistra quali coordinate otterrai? In quale quadrante ti trovi?
- 8) Iniziando da $(0;0)$ se ti sposti di 1 unità destra e 10 unità su quali coordinate otterrai? In quale quadrante ti trovi?
- 9) Iniziando da $(0;0)$ se ti sposti di 2 unità su e 1 unità sinistra quali coordinate otterrai? In quale quadrante ti trovi?
- 10) Iniziando da $(0;0)$ se ti sposti di 6 unità sinistra e 10 unità giù quali coordinate otterrai? In quale quadrante ti trovi?
- 11) Iniziando da $(0;0)$ se ti sposti di 5 unità destra e 4 unità giù quali coordinate otterrai? In quale quadrante ti trovi?
- 12) Iniziando da $(0;0)$ se ti sposti di 9 unità destra e 8 unità giù quali coordinate otterrai? In quale quadrante ti trovi?
- 13) Iniziando da $(0;0)$ se ti sposti di 9 unità sinistra e 1 unità giù quali coordinate otterrai? In quale quadrante ti trovi?

Risposte

Es. $(-10;4)$ 2

1. _____

2. _____

3. _____

4. _____

5. _____

6. _____

7. _____

8. _____

9. _____

10. _____

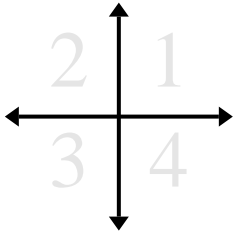
11. _____

12. _____

13. _____



Determina le coordinate e il quadrante per ogni problema.



Es) Iniziando da (0;0) se ti sposti di 4 unità su e 10 unità sinistra quali coordinate otterrai? In quale quadrante ti trovi?

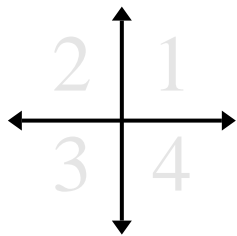
- 1) Iniziando da (0;0) se ti sposti di 5 unità destra e 10 unità giù quali coordinate otterrai? In quale quadrante ti trovi?
- 2) Iniziando da (0;0) se ti sposti di 4 unità giù e 5 unità sinistra quali coordinate otterrai? In quale quadrante ti trovi?
- 3) Iniziando da (0;0) se ti sposti di 6 unità sinistra e 7 unità su quali coordinate otterrai? In quale quadrante ti trovi?
- 4) Iniziando da (0;0) se ti sposti di 1 unità su e 2 unità destra quali coordinate otterrai? In quale quadrante ti trovi?
- 5) Iniziando da (0;0) se ti sposti di 2 unità sinistra e 8 unità su quali coordinate otterrai? In quale quadrante ti trovi?
- 6) Iniziando da (0;0) se ti sposti di 5 unità sinistra e 3 unità giù quali coordinate otterrai? In quale quadrante ti trovi?
- 7) Iniziando da (0;0) se ti sposti di 5 unità giù e 1 unità sinistra quali coordinate otterrai? In quale quadrante ti trovi?
- 8) Iniziando da (0;0) se ti sposti di 1 unità destra e 10 unità su quali coordinate otterrai? In quale quadrante ti trovi?
- 9) Iniziando da (0;0) se ti sposti di 2 unità su e 1 unità sinistra quali coordinate otterrai? In quale quadrante ti trovi?
- 10) Iniziando da (0;0) se ti sposti di 6 unità sinistra e 10 unità giù quali coordinate otterrai? In quale quadrante ti trovi?
- 11) Iniziando da (0;0) se ti sposti di 5 unità destra e 4 unità giù quali coordinate otterrai? In quale quadrante ti trovi?
- 12) Iniziando da (0;0) se ti sposti di 9 unità destra e 8 unità giù quali coordinate otterrai? In quale quadrante ti trovi?
- 13) Iniziando da (0;0) se ti sposti di 9 unità sinistra e 1 unità giù quali coordinate otterrai? In quale quadrante ti trovi?

Risposte

- Es. (-10;4) 2
1. (5;-10) 4
2. (-5;-4) 3
3. (-6;7) 2
4. (2;1) 1
5. (-2;8) 2
6. (-5;-3) 3
7. (-1;-5) 3
8. (1;10) 1
9. (-1;2) 2
10. (-6;-10) 3
11. (5;-4) 4
12. (9;-8) 4
13. (-9;-1) 3



Determina le coordinate e il quadrante per ogni problema.



Es) Iniziando da $(0;0)$ se ti sposti di 3 unità giù e 10 unità destra quali coordinate otterrai? In quale quadrante ti trovi?

- 1) Iniziando da $(0;0)$ se ti sposti di 5 unità su e 3 unità sinistra quali coordinate otterrai? In quale quadrante ti trovi?
- 2) Iniziando da $(0;0)$ se ti sposti di 2 unità destra e 1 unità su quali coordinate otterrai? In quale quadrante ti trovi?
- 3) Iniziando da $(0;0)$ se ti sposti di 4 unità giù e 3 unità sinistra quali coordinate otterrai? In quale quadrante ti trovi?
- 4) Iniziando da $(0;0)$ se ti sposti di 7 unità giù e 5 unità sinistra quali coordinate otterrai? In quale quadrante ti trovi?
- 5) Iniziando da $(0;0)$ se ti sposti di 8 unità su e 1 unità sinistra quali coordinate otterrai? In quale quadrante ti trovi?
- 6) Iniziando da $(0;0)$ se ti sposti di 4 unità destra e 10 unità giù quali coordinate otterrai? In quale quadrante ti trovi?
- 7) Iniziando da $(0;0)$ se ti sposti di 6 unità sinistra e 1 unità giù quali coordinate otterrai? In quale quadrante ti trovi?
- 8) Iniziando da $(0;0)$ se ti sposti di 3 unità sinistra e 4 unità giù quali coordinate otterrai? In quale quadrante ti trovi?
- 9) Iniziando da $(0;0)$ se ti sposti di 2 unità sinistra e 10 unità giù quali coordinate otterrai? In quale quadrante ti trovi?
- 10) Iniziando da $(0;0)$ se ti sposti di 9 unità giù e 1 unità destra quali coordinate otterrai? In quale quadrante ti trovi?
- 11) Iniziando da $(0;0)$ se ti sposti di 10 unità su e 4 unità sinistra quali coordinate otterrai? In quale quadrante ti trovi?
- 12) Iniziando da $(0;0)$ se ti sposti di 9 unità su e 8 unità destra quali coordinate otterrai? In quale quadrante ti trovi?
- 13) Iniziando da $(0;0)$ se ti sposti di 6 unità giù e 2 unità destra quali coordinate otterrai? In quale quadrante ti trovi?

Risposte

Es. (10;-3) 4

1. _____

2. _____

3. _____

4. _____

5. _____

6. _____

7. _____

8. _____

9. _____

10. _____

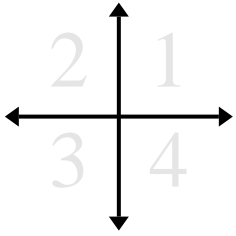
11. _____

12. _____

13. _____



Determina le coordinate e il quadrante per ogni problema.



Es) Iniziando da $(0;0)$ se ti sposti di 3 unità giù e 10 unità destra quali coordinate otterrai? In quale quadrante ti trovi?

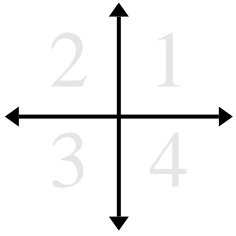
- 1) Iniziando da $(0;0)$ se ti sposti di 5 unità su e 3 unità sinistra quali coordinate otterrai? In quale quadrante ti trovi?
- 2) Iniziando da $(0;0)$ se ti sposti di 2 unità destra e 1 unità su quali coordinate otterrai? In quale quadrante ti trovi?
- 3) Iniziando da $(0;0)$ se ti sposti di 4 unità giù e 3 unità sinistra quali coordinate otterrai? In quale quadrante ti trovi?
- 4) Iniziando da $(0;0)$ se ti sposti di 7 unità giù e 5 unità sinistra quali coordinate otterrai? In quale quadrante ti trovi?
- 5) Iniziando da $(0;0)$ se ti sposti di 8 unità su e 1 unità sinistra quali coordinate otterrai? In quale quadrante ti trovi?
- 6) Iniziando da $(0;0)$ se ti sposti di 4 unità destra e 10 unità giù quali coordinate otterrai? In quale quadrante ti trovi?
- 7) Iniziando da $(0;0)$ se ti sposti di 6 unità sinistra e 1 unità giù quali coordinate otterrai? In quale quadrante ti trovi?
- 8) Iniziando da $(0;0)$ se ti sposti di 3 unità sinistra e 4 unità giù quali coordinate otterrai? In quale quadrante ti trovi?
- 9) Iniziando da $(0;0)$ se ti sposti di 2 unità sinistra e 10 unità giù quali coordinate otterrai? In quale quadrante ti trovi?
- 10) Iniziando da $(0;0)$ se ti sposti di 9 unità giù e 1 unità destra quali coordinate otterrai? In quale quadrante ti trovi?
- 11) Iniziando da $(0;0)$ se ti sposti di 10 unità su e 4 unità sinistra quali coordinate otterrai? In quale quadrante ti trovi?
- 12) Iniziando da $(0;0)$ se ti sposti di 9 unità su e 8 unità destra quali coordinate otterrai? In quale quadrante ti trovi?
- 13) Iniziando da $(0;0)$ se ti sposti di 6 unità giù e 2 unità destra quali coordinate otterrai? In quale quadrante ti trovi?

Risposte

- | | | |
|-----|-----------------|----------|
| Es. | (10;-3) | 4 |
| 1. | (-3;5) | 2 |
| 2. | (2;1) | 1 |
| 3. | (-3;-4) | 3 |
| 4. | (-5;-7) | 3 |
| 5. | (-1;8) | 2 |
| 6. | (4;-10) | 4 |
| 7. | (-6;-1) | 3 |
| 8. | (-3;-4) | 3 |
| 9. | (-2;-10) | 3 |
| 10. | (1;-9) | 4 |
| 11. | (-4;10) | 2 |
| 12. | (8;9) | 1 |
| 13. | (2;-6) | 4 |



Determina le coordinate e il quadrante per ogni problema.



Es) Iniziando da $(0;0)$ se ti sposti di 1 unità sinistra e 3 unità su quali coordinate otterrai? In quale quadrante ti trovi?

1) Iniziando da $(0;0)$ se ti sposti di 4 unità su e 8 unità sinistra quali coordinate otterrai? In quale quadrante ti trovi?

2) Iniziando da $(0;0)$ se ti sposti di 3 unità destra e 8 unità giù quali coordinate otterrai? In quale quadrante ti trovi?

3) Iniziando da $(0;0)$ se ti sposti di 1 unità sinistra e 9 unità giù quali coordinate otterrai? In quale quadrante ti trovi?

4) Iniziando da $(0;0)$ se ti sposti di 3 unità destra e 8 unità su quali coordinate otterrai? In quale quadrante ti trovi?

5) Iniziando da $(0;0)$ se ti sposti di 10 unità destra e 9 unità giù quali coordinate otterrai? In quale quadrante ti trovi?

6) Iniziando da $(0;0)$ se ti sposti di 2 unità su e 8 unità destra quali coordinate otterrai? In quale quadrante ti trovi?

7) Iniziando da $(0;0)$ se ti sposti di 3 unità giù e 9 unità sinistra quali coordinate otterrai? In quale quadrante ti trovi?

8) Iniziando da $(0;0)$ se ti sposti di 5 unità sinistra e 8 unità su quali coordinate otterrai? In quale quadrante ti trovi?

9) Iniziando da $(0;0)$ se ti sposti di 5 unità giù e 5 unità destra quali coordinate otterrai? In quale quadrante ti trovi?

10) Iniziando da $(0;0)$ se ti sposti di 6 unità giù e 2 unità sinistra quali coordinate otterrai? In quale quadrante ti trovi?

11) Iniziando da $(0;0)$ se ti sposti di 4 unità su e 3 unità sinistra quali coordinate otterrai? In quale quadrante ti trovi?

12) Iniziando da $(0;0)$ se ti sposti di 5 unità sinistra e 2 unità giù quali coordinate otterrai? In quale quadrante ti trovi?

13) Iniziando da $(0;0)$ se ti sposti di 1 unità sinistra e 2 unità giù quali coordinate otterrai? In quale quadrante ti trovi?

Risposte

Es. (-1;3) 2

1. _____

2. _____

3. _____

4. _____

5. _____

6. _____

7. _____

8. _____

9. _____

10. _____

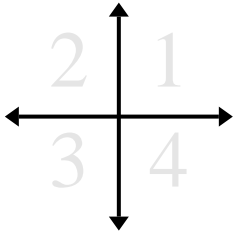
11. _____

12. _____

13. _____



Determina le coordinate e il quadrante per ogni problema.



Es) Iniziando da (0;0) se ti sposti di 1 unità sinistra e 3 unità su quali coordinate otterrai? In quale quadrante ti trovi?

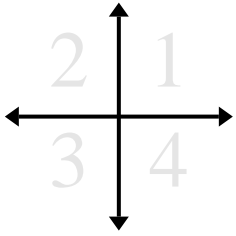
- 1) Iniziando da (0;0) se ti sposti di 4 unità su e 8 unità sinistra quali coordinate otterrai? In quale quadrante ti trovi?
- 2) Iniziando da (0;0) se ti sposti di 3 unità destra e 8 unità giù quali coordinate otterrai? In quale quadrante ti trovi?
- 3) Iniziando da (0;0) se ti sposti di 1 unità sinistra e 9 unità giù quali coordinate otterrai? In quale quadrante ti trovi?
- 4) Iniziando da (0;0) se ti sposti di 3 unità destra e 8 unità su quali coordinate otterrai? In quale quadrante ti trovi?
- 5) Iniziando da (0;0) se ti sposti di 10 unità destra e 9 unità giù quali coordinate otterrai? In quale quadrante ti trovi?
- 6) Iniziando da (0;0) se ti sposti di 2 unità su e 8 unità destra quali coordinate otterrai? In quale quadrante ti trovi?
- 7) Iniziando da (0;0) se ti sposti di 3 unità giù e 9 unità sinistra quali coordinate otterrai? In quale quadrante ti trovi?
- 8) Iniziando da (0;0) se ti sposti di 5 unità sinistra e 8 unità su quali coordinate otterrai? In quale quadrante ti trovi?
- 9) Iniziando da (0;0) se ti sposti di 5 unità giù e 5 unità destra quali coordinate otterrai? In quale quadrante ti trovi?
- 10) Iniziando da (0;0) se ti sposti di 6 unità giù e 2 unità sinistra quali coordinate otterrai? In quale quadrante ti trovi?
- 11) Iniziando da (0;0) se ti sposti di 4 unità su e 3 unità sinistra quali coordinate otterrai? In quale quadrante ti trovi?
- 12) Iniziando da (0;0) se ti sposti di 5 unità sinistra e 2 unità giù quali coordinate otterrai? In quale quadrante ti trovi?
- 13) Iniziando da (0;0) se ti sposti di 1 unità sinistra e 2 unità giù quali coordinate otterrai? In quale quadrante ti trovi?

Risposte

- Es. (-1;3) 2
1. (-8;4) 2
2. (3;-8) 4
3. (-1;-9) 3
4. (3;8) 1
5. (10;-9) 4
6. (8;2) 1
7. (-9;-3) 3
8. (-5;8) 2
9. (5;-5) 4
10. (-2;-6) 3
11. (-3;4) 2
12. (-5;-2) 3
13. (-1;-2) 3



Determina le coordinate e il quadrante per ogni problema.



Es) Iniziando da $(0;0)$ se ti sposti di 3 unità destra e 1 unità su quali coordinate otterrai? In quale quadrante ti trovi?

- 1) Iniziando da $(0;0)$ se ti sposti di 4 unità giù e 9 unità sinistra quali coordinate otterrai? In quale quadrante ti trovi?
- 2) Iniziando da $(0;0)$ se ti sposti di 7 unità su e 7 unità sinistra quali coordinate otterrai? In quale quadrante ti trovi?
- 3) Iniziando da $(0;0)$ se ti sposti di 6 unità giù e 8 unità sinistra quali coordinate otterrai? In quale quadrante ti trovi?
- 4) Iniziando da $(0;0)$ se ti sposti di 6 unità sinistra e 9 unità giù quali coordinate otterrai? In quale quadrante ti trovi?
- 5) Iniziando da $(0;0)$ se ti sposti di 6 unità destra e 4 unità giù quali coordinate otterrai? In quale quadrante ti trovi?
- 6) Iniziando da $(0;0)$ se ti sposti di 4 unità sinistra e 9 unità giù quali coordinate otterrai? In quale quadrante ti trovi?
- 7) Iniziando da $(0;0)$ se ti sposti di 10 unità destra e 8 unità su quali coordinate otterrai? In quale quadrante ti trovi?
- 8) Iniziando da $(0;0)$ se ti sposti di 8 unità destra e 9 unità giù quali coordinate otterrai? In quale quadrante ti trovi?
- 9) Iniziando da $(0;0)$ se ti sposti di 3 unità sinistra e 4 unità giù quali coordinate otterrai? In quale quadrante ti trovi?
- 10) Iniziando da $(0;0)$ se ti sposti di 5 unità sinistra e 10 unità su quali coordinate otterrai? In quale quadrante ti trovi?
- 11) Iniziando da $(0;0)$ se ti sposti di 5 unità destra e 1 unità su quali coordinate otterrai? In quale quadrante ti trovi?
- 12) Iniziando da $(0;0)$ se ti sposti di 10 unità sinistra e 1 unità su quali coordinate otterrai? In quale quadrante ti trovi?
- 13) Iniziando da $(0;0)$ se ti sposti di 6 unità giù e 5 unità destra quali coordinate otterrai? In quale quadrante ti trovi?

Risposte

Es. (3;1) 1

1. _____

2. _____

3. _____

4. _____

5. _____

6. _____

7. _____

8. _____

9. _____

10. _____

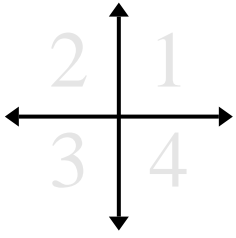
11. _____

12. _____

13. _____



Determina le coordinate e il quadrante per ogni problema.



Es) Iniziando da $(0;0)$ se ti sposti di 3 unità destra e 1 unità su quali coordinate otterrai? In quale quadrante ti trovi?

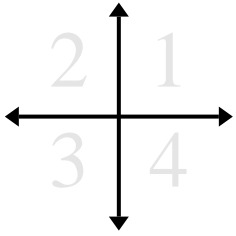
- 1) Iniziando da $(0;0)$ se ti sposti di 4 unità giù e 9 unità sinistra quali coordinate otterrai? In quale quadrante ti trovi?
- 2) Iniziando da $(0;0)$ se ti sposti di 7 unità su e 7 unità sinistra quali coordinate otterrai? In quale quadrante ti trovi?
- 3) Iniziando da $(0;0)$ se ti sposti di 6 unità giù e 8 unità sinistra quali coordinate otterrai? In quale quadrante ti trovi?
- 4) Iniziando da $(0;0)$ se ti sposti di 6 unità sinistra e 9 unità giù quali coordinate otterrai? In quale quadrante ti trovi?
- 5) Iniziando da $(0;0)$ se ti sposti di 6 unità destra e 4 unità giù quali coordinate otterrai? In quale quadrante ti trovi?
- 6) Iniziando da $(0;0)$ se ti sposti di 4 unità sinistra e 9 unità giù quali coordinate otterrai? In quale quadrante ti trovi?
- 7) Iniziando da $(0;0)$ se ti sposti di 10 unità destra e 8 unità su quali coordinate otterrai? In quale quadrante ti trovi?
- 8) Iniziando da $(0;0)$ se ti sposti di 8 unità destra e 9 unità giù quali coordinate otterrai? In quale quadrante ti trovi?
- 9) Iniziando da $(0;0)$ se ti sposti di 3 unità sinistra e 4 unità giù quali coordinate otterrai? In quale quadrante ti trovi?
- 10) Iniziando da $(0;0)$ se ti sposti di 5 unità sinistra e 10 unità su quali coordinate otterrai? In quale quadrante ti trovi?
- 11) Iniziando da $(0;0)$ se ti sposti di 5 unità destra e 1 unità su quali coordinate otterrai? In quale quadrante ti trovi?
- 12) Iniziando da $(0;0)$ se ti sposti di 10 unità sinistra e 1 unità su quali coordinate otterrai? In quale quadrante ti trovi?
- 13) Iniziando da $(0;0)$ se ti sposti di 6 unità giù e 5 unità destra quali coordinate otterrai? In quale quadrante ti trovi?

Risposte

- | | | |
|-----|----------------|----------|
| Es. | (3;1) | 1 |
| 1. | (-9;-4) | 3 |
| 2. | (-7;7) | 2 |
| 3. | (-8;-6) | 3 |
| 4. | (-6;-9) | 3 |
| 5. | (6;-4) | 4 |
| 6. | (-4;-9) | 3 |
| 7. | (10;8) | 1 |
| 8. | (8;-9) | 4 |
| 9. | (-3;-4) | 3 |
| 10. | (-5;10) | 2 |
| 11. | (5;1) | 1 |
| 12. | (-10;1) | 2 |
| 13. | (5;-6) | 4 |



Determina le coordinate e il quadrante per ogni problema.



Es) Iniziando da $(0;0)$ se ti sposti di 3 unità giù e 9 unità destra quali coordinate otterrai? In quale quadrante ti trovi?

- 1) Iniziando da $(0;0)$ se ti sposti di 3 unità destra e 6 unità su quali coordinate otterrai? In quale quadrante ti trovi?
- 2) Iniziando da $(0;0)$ se ti sposti di 1 unità destra e 10 unità giù quali coordinate otterrai? In quale quadrante ti trovi?
- 3) Iniziando da $(0;0)$ se ti sposti di 10 unità su e 6 unità destra quali coordinate otterrai? In quale quadrante ti trovi?
- 4) Iniziando da $(0;0)$ se ti sposti di 7 unità giù e 3 unità destra quali coordinate otterrai? In quale quadrante ti trovi?
- 5) Iniziando da $(0;0)$ se ti sposti di 5 unità destra e 9 unità giù quali coordinate otterrai? In quale quadrante ti trovi?
- 6) Iniziando da $(0;0)$ se ti sposti di 3 unità giù e 6 unità sinistra quali coordinate otterrai? In quale quadrante ti trovi?
- 7) Iniziando da $(0;0)$ se ti sposti di 2 unità giù e 1 unità destra quali coordinate otterrai? In quale quadrante ti trovi?
- 8) Iniziando da $(0;0)$ se ti sposti di 6 unità destra e 9 unità su quali coordinate otterrai? In quale quadrante ti trovi?
- 9) Iniziando da $(0;0)$ se ti sposti di 4 unità destra e 5 unità su quali coordinate otterrai? In quale quadrante ti trovi?
- 10) Iniziando da $(0;0)$ se ti sposti di 6 unità giù e 5 unità destra quali coordinate otterrai? In quale quadrante ti trovi?
- 11) Iniziando da $(0;0)$ se ti sposti di 9 unità sinistra e 8 unità giù quali coordinate otterrai? In quale quadrante ti trovi?
- 12) Iniziando da $(0;0)$ se ti sposti di 5 unità su e 4 unità destra quali coordinate otterrai? In quale quadrante ti trovi?
- 13) Iniziando da $(0;0)$ se ti sposti di 3 unità giù e 5 unità destra quali coordinate otterrai? In quale quadrante ti trovi?

Risposte

Es. (9;-3) 4

1. _____

2. _____

3. _____

4. _____

5. _____

6. _____

7. _____

8. _____

9. _____

10. _____

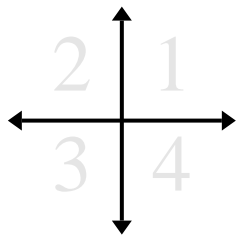
11. _____

12. _____

13. _____



Determina le coordinate e il quadrante per ogni problema.



Es) Iniziando da (0;0) se ti sposti di 3 unità giù e 9 unità destra quali coordinate otterrai? In quale quadrante ti trovi?

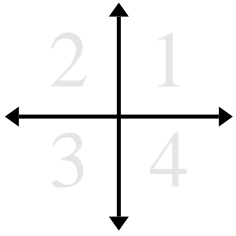
- 1) Iniziando da (0;0) se ti sposti di 3 unità destra e 6 unità su quali coordinate otterrai? In quale quadrante ti trovi?
- 2) Iniziando da (0;0) se ti sposti di 1 unità destra e 10 unità giù quali coordinate otterrai? In quale quadrante ti trovi?
- 3) Iniziando da (0;0) se ti sposti di 10 unità su e 6 unità destra quali coordinate otterrai? In quale quadrante ti trovi?
- 4) Iniziando da (0;0) se ti sposti di 7 unità giù e 3 unità destra quali coordinate otterrai? In quale quadrante ti trovi?
- 5) Iniziando da (0;0) se ti sposti di 5 unità destra e 9 unità giù quali coordinate otterrai? In quale quadrante ti trovi?
- 6) Iniziando da (0;0) se ti sposti di 3 unità giù e 6 unità sinistra quali coordinate otterrai? In quale quadrante ti trovi?
- 7) Iniziando da (0;0) se ti sposti di 2 unità giù e 1 unità destra quali coordinate otterrai? In quale quadrante ti trovi?
- 8) Iniziando da (0;0) se ti sposti di 6 unità destra e 9 unità su quali coordinate otterrai? In quale quadrante ti trovi?
- 9) Iniziando da (0;0) se ti sposti di 4 unità destra e 5 unità su quali coordinate otterrai? In quale quadrante ti trovi?
- 10) Iniziando da (0;0) se ti sposti di 6 unità giù e 5 unità destra quali coordinate otterrai? In quale quadrante ti trovi?
- 11) Iniziando da (0;0) se ti sposti di 9 unità sinistra e 8 unità giù quali coordinate otterrai? In quale quadrante ti trovi?
- 12) Iniziando da (0;0) se ti sposti di 5 unità su e 4 unità destra quali coordinate otterrai? In quale quadrante ti trovi?
- 13) Iniziando da (0;0) se ti sposti di 3 unità giù e 5 unità destra quali coordinate otterrai? In quale quadrante ti trovi?

Risposte

- | | | |
|-----|----------------|----------|
| Es. | (9;-3) | 4 |
| 1. | (3;6) | 1 |
| 2. | (1;-10) | 4 |
| 3. | (6;10) | 1 |
| 4. | (3;-7) | 4 |
| 5. | (5;-9) | 4 |
| 6. | (-6;-3) | 3 |
| 7. | (1;-2) | 4 |
| 8. | (6;9) | 1 |
| 9. | (4;5) | 1 |
| 10. | (5;-6) | 4 |
| 11. | (-9;-8) | 3 |
| 12. | (4;5) | 1 |
| 13. | (5;-3) | 4 |



Determina le coordinate e il quadrante per ogni problema.



Es) Iniziando da $(0;0)$ se ti sposti di 8 unità su e 10 unità destra quali coordinate otterrai? In quale quadrante ti trovi?

- 1) Iniziando da $(0;0)$ se ti sposti di 7 unità destra e 3 unità giù quali coordinate otterrai? In quale quadrante ti trovi?
- 2) Iniziando da $(0;0)$ se ti sposti di 4 unità su e 6 unità sinistra quali coordinate otterrai? In quale quadrante ti trovi?
- 3) Iniziando da $(0;0)$ se ti sposti di 5 unità giù e 9 unità sinistra quali coordinate otterrai? In quale quadrante ti trovi?
- 4) Iniziando da $(0;0)$ se ti sposti di 3 unità sinistra e 9 unità giù quali coordinate otterrai? In quale quadrante ti trovi?
- 5) Iniziando da $(0;0)$ se ti sposti di 3 unità giù e 9 unità destra quali coordinate otterrai? In quale quadrante ti trovi?
- 6) Iniziando da $(0;0)$ se ti sposti di 4 unità destra e 6 unità giù quali coordinate otterrai? In quale quadrante ti trovi?
- 7) Iniziando da $(0;0)$ se ti sposti di 9 unità giù e 4 unità destra quali coordinate otterrai? In quale quadrante ti trovi?
- 8) Iniziando da $(0;0)$ se ti sposti di 10 unità giù e 2 unità destra quali coordinate otterrai? In quale quadrante ti trovi?
- 9) Iniziando da $(0;0)$ se ti sposti di 3 unità giù e 5 unità sinistra quali coordinate otterrai? In quale quadrante ti trovi?
- 10) Iniziando da $(0;0)$ se ti sposti di 3 unità destra e 6 unità giù quali coordinate otterrai? In quale quadrante ti trovi?
- 11) Iniziando da $(0;0)$ se ti sposti di 6 unità su e 7 unità sinistra quali coordinate otterrai? In quale quadrante ti trovi?
- 12) Iniziando da $(0;0)$ se ti sposti di 3 unità su e 7 unità destra quali coordinate otterrai? In quale quadrante ti trovi?
- 13) Iniziando da $(0;0)$ se ti sposti di 5 unità destra e 10 unità giù quali coordinate otterrai? In quale quadrante ti trovi?

Risposte

Es. (10;8) 1

1. _____

2. _____

3. _____

4. _____

5. _____

6. _____

7. _____

8. _____

9. _____

10. _____

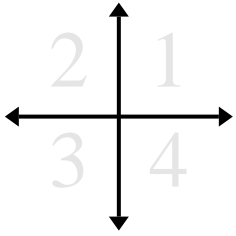
11. _____

12. _____

13. _____



Determina le coordinate e il quadrante per ogni problema.



Es) Iniziando da (0;0) se ti sposti di 8 unità su e 10 unità destra quali coordinate otterrai? In quale quadrante ti trovi?

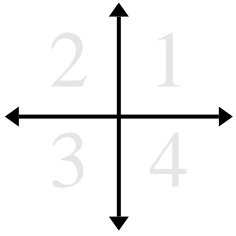
- 1) Iniziando da (0;0) se ti sposti di 7 unità destra e 3 unità giù quali coordinate otterrai? In quale quadrante ti trovi?
- 2) Iniziando da (0;0) se ti sposti di 4 unità su e 6 unità sinistra quali coordinate otterrai? In quale quadrante ti trovi?
- 3) Iniziando da (0;0) se ti sposti di 5 unità giù e 9 unità sinistra quali coordinate otterrai? In quale quadrante ti trovi?
- 4) Iniziando da (0;0) se ti sposti di 3 unità sinistra e 9 unità giù quali coordinate otterrai? In quale quadrante ti trovi?
- 5) Iniziando da (0;0) se ti sposti di 3 unità giù e 9 unità destra quali coordinate otterrai? In quale quadrante ti trovi?
- 6) Iniziando da (0;0) se ti sposti di 4 unità destra e 6 unità giù quali coordinate otterrai? In quale quadrante ti trovi?
- 7) Iniziando da (0;0) se ti sposti di 9 unità giù e 4 unità destra quali coordinate otterrai? In quale quadrante ti trovi?
- 8) Iniziando da (0;0) se ti sposti di 10 unità giù e 2 unità destra quali coordinate otterrai? In quale quadrante ti trovi?
- 9) Iniziando da (0;0) se ti sposti di 3 unità giù e 5 unità sinistra quali coordinate otterrai? In quale quadrante ti trovi?
- 10) Iniziando da (0;0) se ti sposti di 3 unità destra e 6 unità giù quali coordinate otterrai? In quale quadrante ti trovi?
- 11) Iniziando da (0;0) se ti sposti di 6 unità su e 7 unità sinistra quali coordinate otterrai? In quale quadrante ti trovi?
- 12) Iniziando da (0;0) se ti sposti di 3 unità su e 7 unità destra quali coordinate otterrai? In quale quadrante ti trovi?
- 13) Iniziando da (0;0) se ti sposti di 5 unità destra e 10 unità giù quali coordinate otterrai? In quale quadrante ti trovi?

Risposte

- | | | |
|-----|----------------|----------|
| Es. | (10;8) | 1 |
| 1. | (7;-3) | 4 |
| 2. | (-6;4) | 2 |
| 3. | (-9;-5) | 3 |
| 4. | (-3;-9) | 3 |
| 5. | (9;-3) | 4 |
| 6. | (4;-6) | 4 |
| 7. | (4;-9) | 4 |
| 8. | (2;-10) | 4 |
| 9. | (-5;-3) | 3 |
| 10. | (3;-6) | 4 |
| 11. | (-7;6) | 2 |
| 12. | (7;3) | 1 |
| 13. | (5;-10) | 4 |



Determina le coordinate e il quadrante per ogni problema.



Es) Iniziando da $(0;0)$ se ti sposti di 2 unità destra e 1 unità giù quali coordinate otterrai? In quale quadrante ti trovi?

- 1) Iniziando da $(0;0)$ se ti sposti di 3 unità sinistra e 10 unità su quali coordinate otterrai? In quale quadrante ti trovi?
- 2) Iniziando da $(0;0)$ se ti sposti di 6 unità sinistra e 1 unità giù quali coordinate otterrai? In quale quadrante ti trovi?
- 3) Iniziando da $(0;0)$ se ti sposti di 8 unità sinistra e 4 unità giù quali coordinate otterrai? In quale quadrante ti trovi?
- 4) Iniziando da $(0;0)$ se ti sposti di 7 unità sinistra e 7 unità su quali coordinate otterrai? In quale quadrante ti trovi?
- 5) Iniziando da $(0;0)$ se ti sposti di 1 unità su e 3 unità sinistra quali coordinate otterrai? In quale quadrante ti trovi?
- 6) Iniziando da $(0;0)$ se ti sposti di 8 unità sinistra e 4 unità su quali coordinate otterrai? In quale quadrante ti trovi?
- 7) Iniziando da $(0;0)$ se ti sposti di 10 unità sinistra e 6 unità su quali coordinate otterrai? In quale quadrante ti trovi?
- 8) Iniziando da $(0;0)$ se ti sposti di 10 unità su e 5 unità sinistra quali coordinate otterrai? In quale quadrante ti trovi?
- 9) Iniziando da $(0;0)$ se ti sposti di 7 unità su e 4 unità destra quali coordinate otterrai? In quale quadrante ti trovi?
- 10) Iniziando da $(0;0)$ se ti sposti di 8 unità sinistra e 4 unità giù quali coordinate otterrai? In quale quadrante ti trovi?
- 11) Iniziando da $(0;0)$ se ti sposti di 2 unità sinistra e 1 unità giù quali coordinate otterrai? In quale quadrante ti trovi?
- 12) Iniziando da $(0;0)$ se ti sposti di 10 unità sinistra e 4 unità giù quali coordinate otterrai? In quale quadrante ti trovi?
- 13) Iniziando da $(0;0)$ se ti sposti di 8 unità su e 8 unità destra quali coordinate otterrai? In quale quadrante ti trovi?

Risposte

Es. (2;-1) 4

1. _____

2. _____

3. _____

4. _____

5. _____

6. _____

7. _____

8. _____

9. _____

10. _____

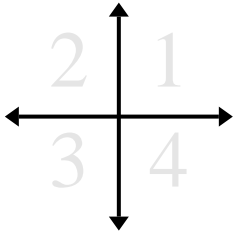
11. _____

12. _____

13. _____



Determina le coordinate e il quadrante per ogni problema.



Es) Iniziando da $(0;0)$ se ti sposti di 2 unità destra e 1 unità giù quali coordinate otterrai? In quale quadrante ti trovi?

- 1) Iniziando da $(0;0)$ se ti sposti di 3 unità sinistra e 10 unità su quali coordinate otterrai? In quale quadrante ti trovi?
- 2) Iniziando da $(0;0)$ se ti sposti di 6 unità sinistra e 1 unità giù quali coordinate otterrai? In quale quadrante ti trovi?
- 3) Iniziando da $(0;0)$ se ti sposti di 8 unità sinistra e 4 unità giù quali coordinate otterrai? In quale quadrante ti trovi?
- 4) Iniziando da $(0;0)$ se ti sposti di 7 unità sinistra e 7 unità su quali coordinate otterrai? In quale quadrante ti trovi?
- 5) Iniziando da $(0;0)$ se ti sposti di 1 unità su e 3 unità sinistra quali coordinate otterrai? In quale quadrante ti trovi?
- 6) Iniziando da $(0;0)$ se ti sposti di 8 unità sinistra e 4 unità su quali coordinate otterrai? In quale quadrante ti trovi?
- 7) Iniziando da $(0;0)$ se ti sposti di 10 unità sinistra e 6 unità su quali coordinate otterrai? In quale quadrante ti trovi?
- 8) Iniziando da $(0;0)$ se ti sposti di 10 unità su e 5 unità sinistra quali coordinate otterrai? In quale quadrante ti trovi?
- 9) Iniziando da $(0;0)$ se ti sposti di 7 unità su e 4 unità destra quali coordinate otterrai? In quale quadrante ti trovi?
- 10) Iniziando da $(0;0)$ se ti sposti di 8 unità sinistra e 4 unità giù quali coordinate otterrai? In quale quadrante ti trovi?
- 11) Iniziando da $(0;0)$ se ti sposti di 2 unità sinistra e 1 unità giù quali coordinate otterrai? In quale quadrante ti trovi?
- 12) Iniziando da $(0;0)$ se ti sposti di 10 unità sinistra e 4 unità giù quali coordinate otterrai? In quale quadrante ti trovi?
- 13) Iniziando da $(0;0)$ se ti sposti di 8 unità su e 8 unità destra quali coordinate otterrai? In quale quadrante ti trovi?

Risposte

- Es. (2;-1) 4
1. (-3;10) 2
2. (-6;-1) 3
3. (-8;-4) 3
4. (-7;7) 2
5. (-3;1) 2
6. (-8;4) 2
7. (-10;6) 2
8. (-5;10) 2
9. (4;7) 1
10. (-8;-4) 3
11. (-2;-1) 3
12. (-10;-4) 3
13. (8;8) 1