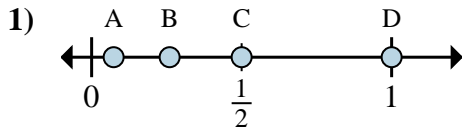
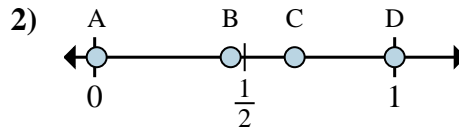




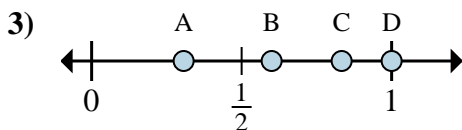
Determina quale lettera rappresenta correttamente la posizione della frazione sulla linea numerata.



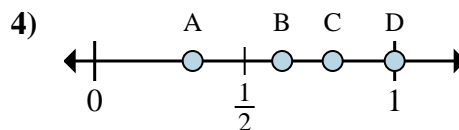
- 1a) Quale lettera rappresenta correttamente $\frac{1}{2}$?
- 1b) Quale lettera rappresenta correttamente $\frac{2}{2}$?



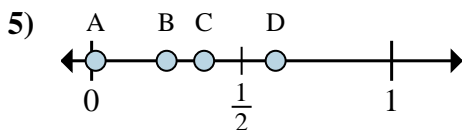
- 2a) Quale lettera rappresenta correttamente $\frac{2}{3}$?
- 2b) Quale lettera rappresenta correttamente $\frac{3}{3}$?



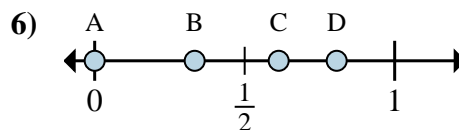
- 3a) Quale lettera rappresenta correttamente $\frac{5}{6}$?
- 3b) Quale lettera rappresenta correttamente $\frac{6}{6}$?



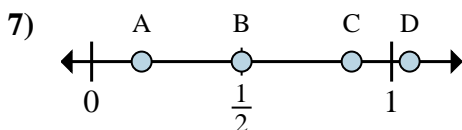
- 4a) Quale lettera rappresenta correttamente $\frac{5}{8}$?
- 4b) Quale lettera rappresenta correttamente $\frac{8}{8}$?



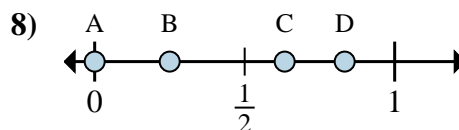
- 5a) Quale lettera rappresenta correttamente $\frac{2}{8}$?
- 5b) Quale lettera rappresenta correttamente $\frac{3}{8}$?



- 6a) Quale lettera rappresenta correttamente $\frac{0}{6}$?
- 6b) Quale lettera rappresenta correttamente $\frac{2}{6}$?



- 7a) Quale lettera rappresenta correttamente $\frac{3}{6}$?
- 7b) Quale lettera rappresenta correttamente $\frac{1}{6}$?



- 8a) Quale lettera rappresenta correttamente $\frac{0}{4}$?
- 8b) Quale lettera rappresenta correttamente $\frac{1}{4}$?

Risposte

1a. _____

1b. _____

2a. _____

2b. _____

3a. _____

3b. _____

4a. _____

4b. _____

5a. _____

5b. _____

6a. _____

6b. _____

7a. _____

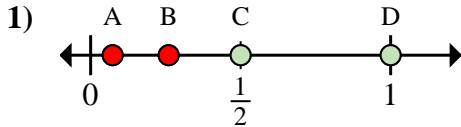
7b. _____

8a. _____

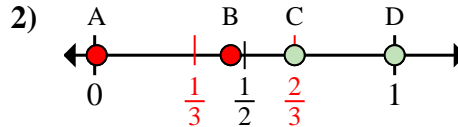
8b. _____



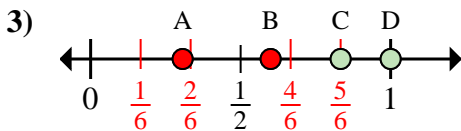
Determina quale lettera rappresenta correttamente la posizione della frazione sulla linea numerata.



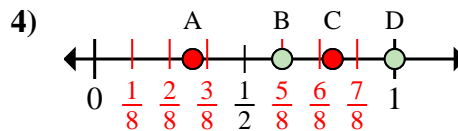
- 1a) Quale lettera rappresenta correttamente $\frac{1}{2}$?
 1b) Quale lettera rappresenta correttamente $\frac{2}{2}$?



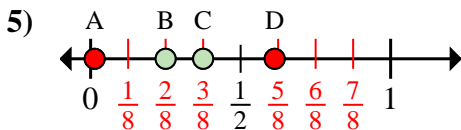
- 2a) Quale lettera rappresenta correttamente $\frac{2}{3}$?
 2b) Quale lettera rappresenta correttamente $\frac{3}{3}$?



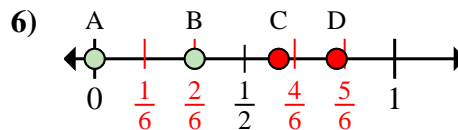
- 3a) Quale lettera rappresenta correttamente $\frac{5}{6}$?
 3b) Quale lettera rappresenta correttamente $\frac{6}{6}$?



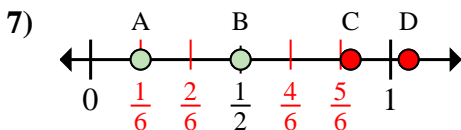
- 4a) Quale lettera rappresenta correttamente $\frac{5}{8}$?
 4b) Quale lettera rappresenta correttamente $\frac{8}{8}$?



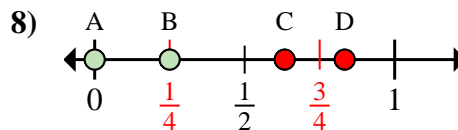
- 5a) Quale lettera rappresenta correttamente $\frac{2}{8}$?
 5b) Quale lettera rappresenta correttamente $\frac{3}{8}$?



- 6a) Quale lettera rappresenta correttamente $\frac{0}{6}$?
 6b) Quale lettera rappresenta correttamente $\frac{2}{6}$?



- 7a) Quale lettera rappresenta correttamente $\frac{3}{6}$?
 7b) Quale lettera rappresenta correttamente $\frac{1}{6}$?



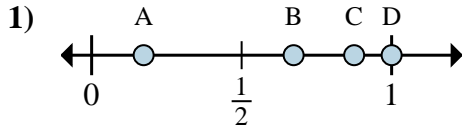
- 8a) Quale lettera rappresenta correttamente $\frac{0}{4}$?
 8b) Quale lettera rappresenta correttamente $\frac{1}{4}$?

Risposte

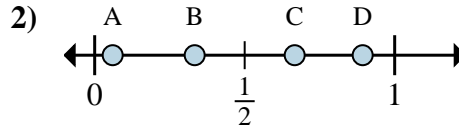
- 1a. **C**
 1b. **D**
 2a. **C**
 2b. **D**
 3a. **C**
 3b. **D**
 4a. **B**
 4b. **D**
 5a. **B**
 5b. **C**
 6a. **A**
 6b. **B**
 7a. **B**
 7b. **A**
 8a. **A**
 8b. **B**



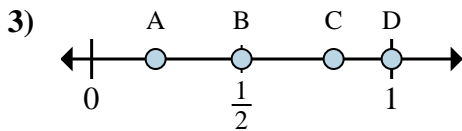
Determina quale lettera rappresenta correttamente la posizione della frazione sulla linea numerata.



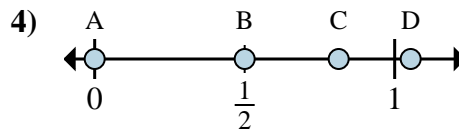
- 1a) Quale lettera rappresenta correttamente $\frac{7}{8}$?
 1b) Quale lettera rappresenta correttamente $\frac{8}{8}$?



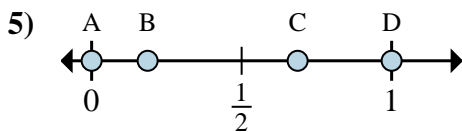
- 2a) Quale lettera rappresenta correttamente $\frac{2}{3}$?
 2b) Quale lettera rappresenta correttamente $\frac{1}{3}$?



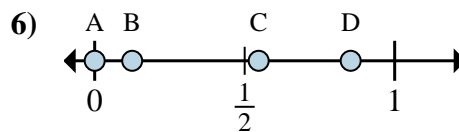
- 3a) Quale lettera rappresenta correttamente $\frac{1}{2}$?
 3b) Quale lettera rappresenta correttamente $\frac{2}{2}$?



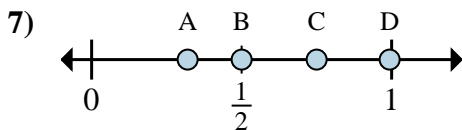
- 4a) Quale lettera rappresenta correttamente $\frac{0}{4}$?
 4b) Quale lettera rappresenta correttamente $\frac{2}{4}$?



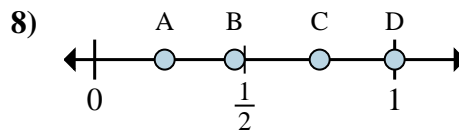
- 5a) Quale lettera rappresenta correttamente $\frac{0}{6}$?
 5b) Quale lettera rappresenta correttamente $\frac{6}{6}$?



- 6a) Quale lettera rappresenta correttamente $\frac{0}{8}$?
 6b) Quale lettera rappresenta correttamente $\frac{1}{8}$?



- 7a) Quale lettera rappresenta correttamente $\frac{6}{8}$?
 7b) Quale lettera rappresenta correttamente $\frac{4}{8}$?



- 8a) Quale lettera rappresenta correttamente $\frac{3}{4}$?
 8b) Quale lettera rappresenta correttamente $\frac{4}{4}$?

Risposte

1a. _____

1b. _____

2a. _____

2b. _____

3a. _____

3b. _____

4a. _____

4b. _____

5a. _____

5b. _____

6a. _____

6b. _____

7a. _____

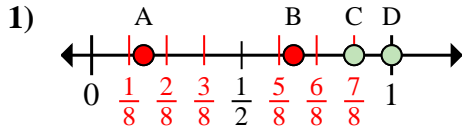
7b. _____

8a. _____

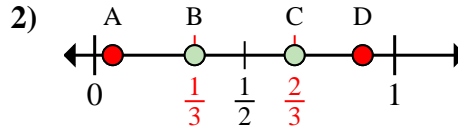
8b. _____



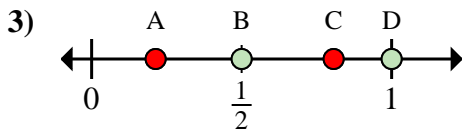
Determina quale lettera rappresenta correttamente la posizione della frazione sulla linea numerata.



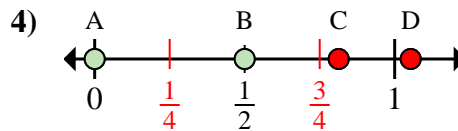
- 1a) Quale lettera rappresenta correttamente $\frac{7}{8}$?
 1b) Quale lettera rappresenta correttamente $\frac{8}{8}$?



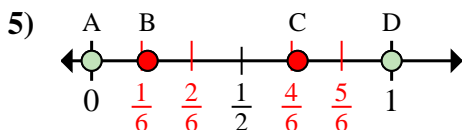
- 2a) Quale lettera rappresenta correttamente $\frac{2}{3}$?
 2b) Quale lettera rappresenta correttamente $\frac{1}{3}$?



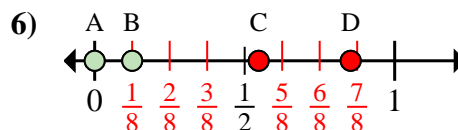
- 3a) Quale lettera rappresenta correttamente $\frac{1}{2}$?
 3b) Quale lettera rappresenta correttamente $\frac{2}{2}$?



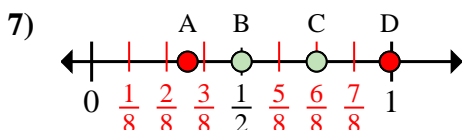
- 4a) Quale lettera rappresenta correttamente $\frac{0}{4}$?
 4b) Quale lettera rappresenta correttamente $\frac{2}{4}$?



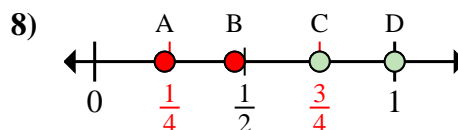
- 5a) Quale lettera rappresenta correttamente $\frac{0}{6}$?
 5b) Quale lettera rappresenta correttamente $\frac{6}{6}$?



- 6a) Quale lettera rappresenta correttamente $\frac{0}{8}$?
 6b) Quale lettera rappresenta correttamente $\frac{1}{8}$?



- 7a) Quale lettera rappresenta correttamente $\frac{6}{8}$?
 7b) Quale lettera rappresenta correttamente $\frac{4}{8}$?



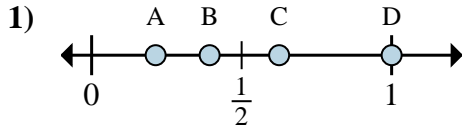
- 8a) Quale lettera rappresenta correttamente $\frac{3}{4}$?
 8b) Quale lettera rappresenta correttamente $\frac{4}{4}$?

Risposte

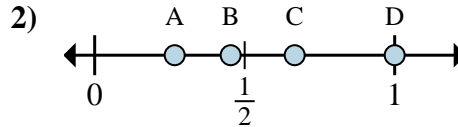
- 1a. C
 1b. D
 2a. C
 2b. B
 3a. B
 3b. D
 4a. A
 4b. B
 5a. A
 5b. D
 6a. A
 6b. B
 7a. C
 7b. B
 8a. C
 8b. D



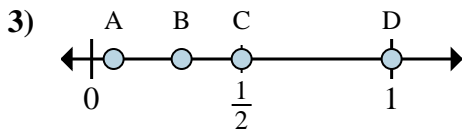
Determina quale lettera rappresenta correttamente la posizione della frazione sulla linea numerata.



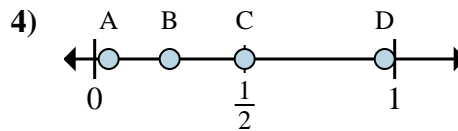
- 1a) Quale lettera rappresenta correttamente $\frac{5}{8}$?
 1b) Quale lettera rappresenta correttamente $\frac{8}{8}$?



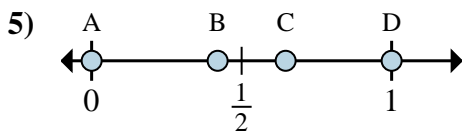
- 2a) Quale lettera rappresenta correttamente $\frac{2}{3}$?
 2b) Quale lettera rappresenta correttamente $\frac{3}{3}$?



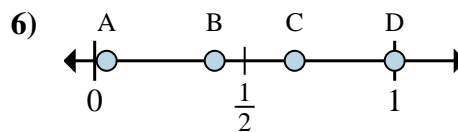
- 3a) Quale lettera rappresenta correttamente $\frac{2}{2}$?
 3b) Quale lettera rappresenta correttamente $\frac{1}{2}$?



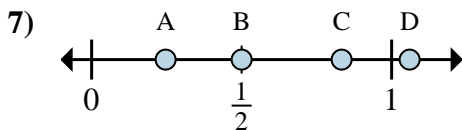
- 4a) Quale lettera rappresenta correttamente $\frac{1}{4}$?
 4b) Quale lettera rappresenta correttamente $\frac{2}{4}$?



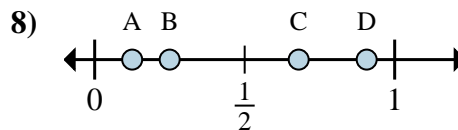
- 5a) Quale lettera rappresenta correttamente $\frac{0}{4}$?
 5b) Quale lettera rappresenta correttamente $\frac{4}{4}$?



- 6a) Quale lettera rappresenta correttamente $\frac{4}{6}$?
 6b) Quale lettera rappresenta correttamente $\frac{6}{6}$?



- 7a) Quale lettera rappresenta correttamente $\frac{5}{6}$?
 7b) Quale lettera rappresenta correttamente $\frac{3}{6}$?



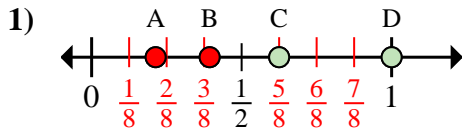
- 8a) Quale lettera rappresenta correttamente $\frac{1}{8}$?
 8b) Quale lettera rappresenta correttamente $\frac{2}{8}$?

Risposte

- 1a. _____
 1b. _____
 2a. _____
 2b. _____
 3a. _____
 3b. _____
 4a. _____
 4b. _____
 5a. _____
 5b. _____
 6a. _____
 6b. _____
 7a. _____
 7b. _____
 8a. _____
 8b. _____

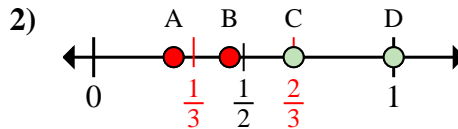


Determina quale lettera rappresenta correttamente la posizione della frazione sulla linea numerata.



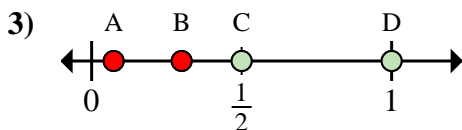
1a) Quale lettera rappresenta correttamente $\frac{5}{8}$?

1b) Quale lettera rappresenta correttamente $\frac{8}{8}$?



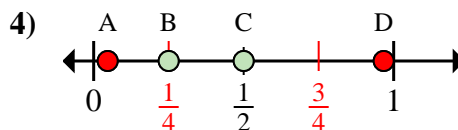
2a) Quale lettera rappresenta correttamente $\frac{2}{3}$?

2b) Quale lettera rappresenta correttamente $\frac{3}{3}$?



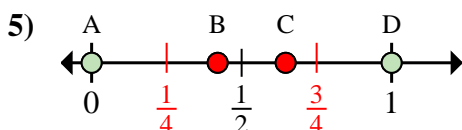
3a) Quale lettera rappresenta correttamente $\frac{2}{2}$?

3b) Quale lettera rappresenta correttamente $\frac{1}{2}$?



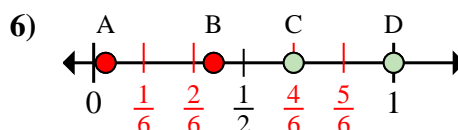
4a) Quale lettera rappresenta correttamente $\frac{1}{4}$?

4b) Quale lettera rappresenta correttamente $\frac{2}{4}$?



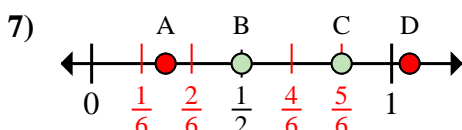
5a) Quale lettera rappresenta correttamente $\frac{0}{4}$?

5b) Quale lettera rappresenta correttamente $\frac{4}{4}$?



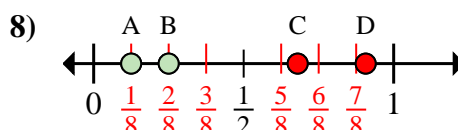
6a) Quale lettera rappresenta correttamente $\frac{4}{6}$?

6b) Quale lettera rappresenta correttamente $\frac{6}{6}$?



7a) Quale lettera rappresenta correttamente $\frac{5}{6}$?

7b) Quale lettera rappresenta correttamente $\frac{3}{6}$?



8a) Quale lettera rappresenta correttamente $\frac{1}{8}$?

8b) Quale lettera rappresenta correttamente $\frac{2}{8}$?

Risposte

1a. **C**

1b. **D**

2a. **C**

2b. **D**

3a. **D**

3b. **C**

4a. **B**

4b. **C**

5a. **A**

5b. **D**

6a. **C**

6b. **D**

7a. **C**

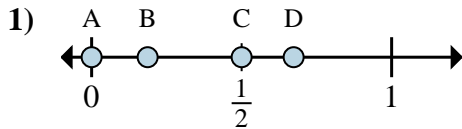
7b. **B**

8a. **A**

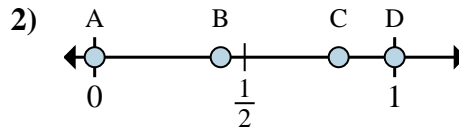
8b. **B**



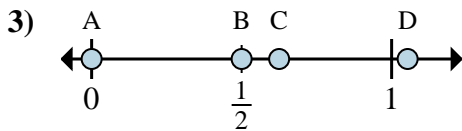
Determina quale lettera rappresenta correttamente la posizione della frazione sulla linea numerata.



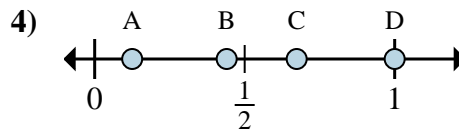
- 1a) Quale lettera rappresenta correttamente $\frac{0}{2}$?
 1b) Quale lettera rappresenta correttamente $\frac{1}{2}$?



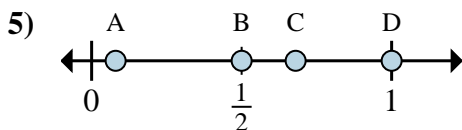
- 2a) Quale lettera rappresenta correttamente $\frac{0}{4}$?
 2b) Quale lettera rappresenta correttamente $\frac{4}{4}$?



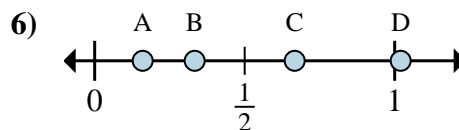
- 3a) Quale lettera rappresenta correttamente $\frac{5}{8}$?
 3b) Quale lettera rappresenta correttamente $\frac{4}{8}$?



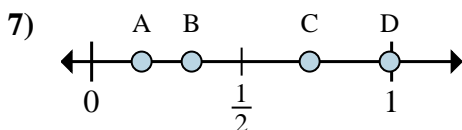
- 4a) Quale lettera rappresenta correttamente $\frac{8}{8}$?
 4b) Quale lettera rappresenta correttamente $\frac{1}{8}$?



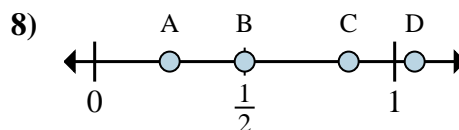
- 5a) Quale lettera rappresenta correttamente $\frac{6}{6}$?
 5b) Quale lettera rappresenta correttamente $\frac{3}{6}$?



- 6a) Quale lettera rappresenta correttamente $\frac{2}{3}$?
 6b) Quale lettera rappresenta correttamente $\frac{1}{3}$?



- 7a) Quale lettera rappresenta correttamente $\frac{2}{6}$?
 7b) Quale lettera rappresenta correttamente $\frac{1}{6}$?



- 8a) Quale lettera rappresenta correttamente $\frac{2}{4}$?
 8b) Quale lettera rappresenta correttamente $\frac{1}{4}$?

Risposte

1a. _____

1b. _____

2a. _____

2b. _____

3a. _____

3b. _____

4a. _____

4b. _____

5a. _____

5b. _____

6a. _____

6b. _____

7a. _____

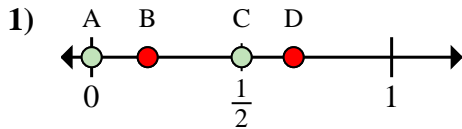
7b. _____

8a. _____

8b. _____

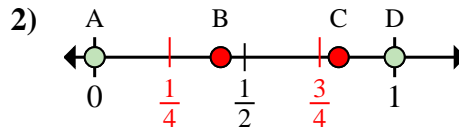


Determina quale lettera rappresenta correttamente la posizione della frazione sulla linea numerata.



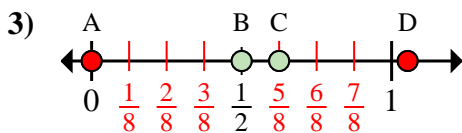
1a) Quale lettera rappresenta correttamente $\frac{0}{2}$?

1b) Quale lettera rappresenta correttamente $\frac{1}{2}$?



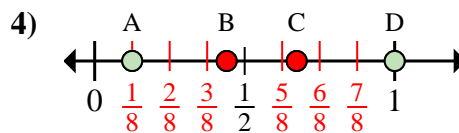
2a) Quale lettera rappresenta correttamente $\frac{0}{4}$?

2b) Quale lettera rappresenta correttamente $\frac{4}{4}$?



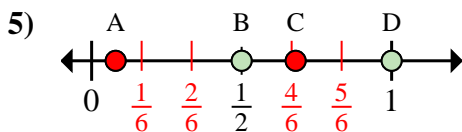
3a) Quale lettera rappresenta correttamente $\frac{5}{8}$?

3b) Quale lettera rappresenta correttamente $\frac{4}{8}$?



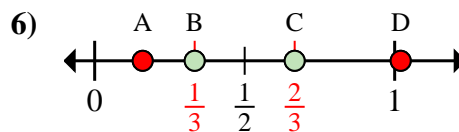
4a) Quale lettera rappresenta correttamente $\frac{8}{8}$?

4b) Quale lettera rappresenta correttamente $\frac{1}{8}$?



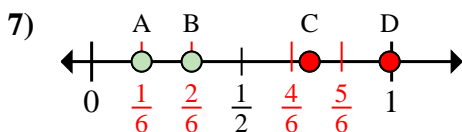
5a) Quale lettera rappresenta correttamente $\frac{6}{6}$?

5b) Quale lettera rappresenta correttamente $\frac{3}{6}$?



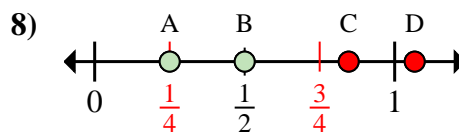
6a) Quale lettera rappresenta correttamente $\frac{2}{3}$?

6b) Quale lettera rappresenta correttamente $\frac{1}{3}$?



7a) Quale lettera rappresenta correttamente $\frac{2}{6}$?

7b) Quale lettera rappresenta correttamente $\frac{1}{6}$?



8a) Quale lettera rappresenta correttamente $\frac{2}{4}$?

8b) Quale lettera rappresenta correttamente $\frac{1}{4}$?

Risposte

1a. **A**

1b. **C**

2a. **A**

2b. **D**

3a. **C**

3b. **B**

4a. **D**

4b. **A**

5a. **D**

5b. **B**

6a. **C**

6b. **B**

7a. **B**

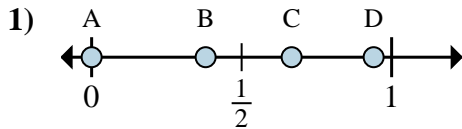
7b. **A**

8a. **B**

8b. **A**

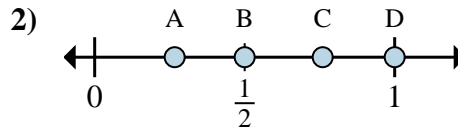


Determina quale lettera rappresenta correttamente la posizione della frazione sulla linea numerata.



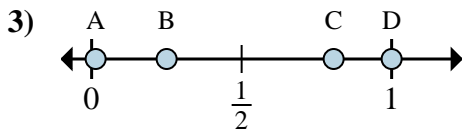
1a) Quale lettera rappresenta correttamente $\frac{0}{3}$?

1b) Quale lettera rappresenta correttamente $\frac{2}{3}$?



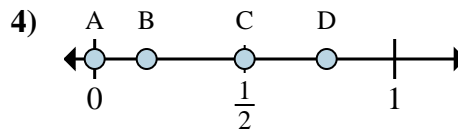
2a) Quale lettera rappresenta correttamente $\frac{4}{4}$?

2b) Quale lettera rappresenta correttamente $\frac{2}{4}$?



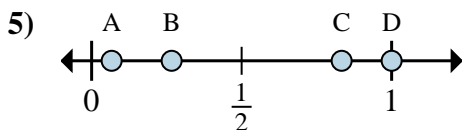
3a) Quale lettera rappresenta correttamente $\frac{2}{8}$?

3b) Quale lettera rappresenta correttamente $\frac{8}{8}$?



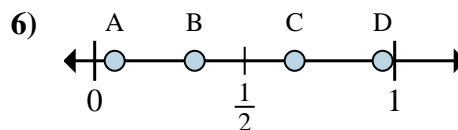
4a) Quale lettera rappresenta correttamente $\frac{0}{2}$?

4b) Quale lettera rappresenta correttamente $\frac{1}{2}$?



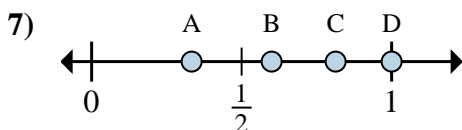
5a) Quale lettera rappresenta correttamente $\frac{5}{6}$?

5b) Quale lettera rappresenta correttamente $\frac{6}{6}$?



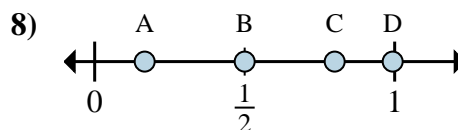
6a) Quale lettera rappresenta correttamente $\frac{4}{6}$?

6b) Quale lettera rappresenta correttamente $\frac{2}{6}$?



7a) Quale lettera rappresenta correttamente $\frac{1}{3}$?

7b) Quale lettera rappresenta correttamente $\frac{3}{3}$?



8a) Quale lettera rappresenta correttamente $\frac{1}{6}$?

8b) Quale lettera rappresenta correttamente $\frac{3}{6}$?

Risposte

1a. _____

1b. _____

2a. _____

2b. _____

3a. _____

3b. _____

4a. _____

4b. _____

5a. _____

5b. _____

6a. _____

6b. _____

7a. _____

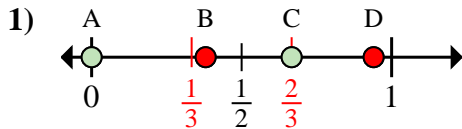
7b. _____

8a. _____

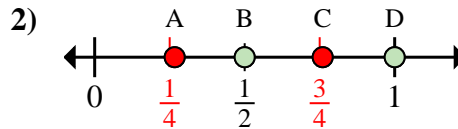
8b. _____



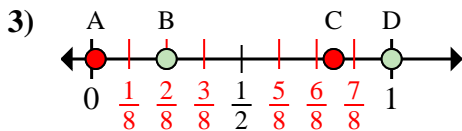
Determina quale lettera rappresenta correttamente la posizione della frazione sulla linea numerata.



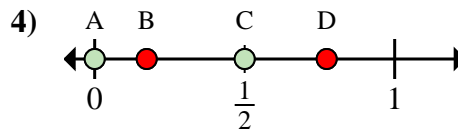
- 1a) Quale lettera rappresenta correttamente $\frac{0}{3}$?
 1b) Quale lettera rappresenta correttamente $\frac{2}{3}$?



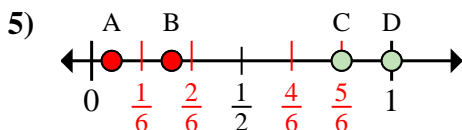
- 2a) Quale lettera rappresenta correttamente $\frac{4}{4}$?
 2b) Quale lettera rappresenta correttamente $\frac{2}{4}$?



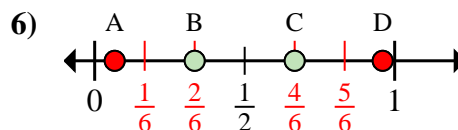
- 3a) Quale lettera rappresenta correttamente $\frac{2}{8}$?
 3b) Quale lettera rappresenta correttamente $\frac{8}{8}$?



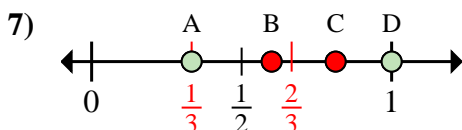
- 4a) Quale lettera rappresenta correttamente $\frac{0}{2}$?
 4b) Quale lettera rappresenta correttamente $\frac{1}{2}$?



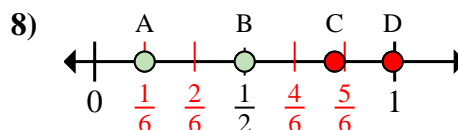
- 5a) Quale lettera rappresenta correttamente $\frac{5}{6}$?
 5b) Quale lettera rappresenta correttamente $\frac{6}{6}$?



- 6a) Quale lettera rappresenta correttamente $\frac{4}{6}$?
 6b) Quale lettera rappresenta correttamente $\frac{2}{6}$?



- 7a) Quale lettera rappresenta correttamente $\frac{1}{3}$?
 7b) Quale lettera rappresenta correttamente $\frac{3}{3}$?



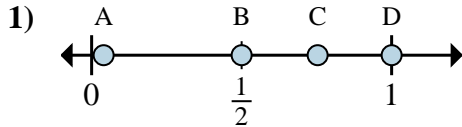
- 8a) Quale lettera rappresenta correttamente $\frac{1}{6}$?
 8b) Quale lettera rappresenta correttamente $\frac{3}{6}$?

Risposte

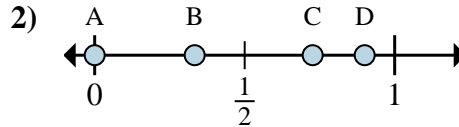
- 1a. **A**
 1b. **C**
 2a. **D**
 2b. **B**
 3a. **B**
 3b. **D**
 4a. **A**
 4b. **C**
 5a. **C**
 5b. **D**
 6a. **C**
 6b. **B**
 7a. **A**
 7b. **D**
 8a. **A**
 8b. **B**



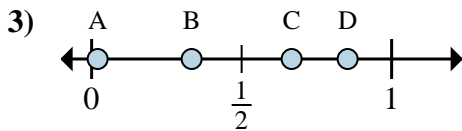
Determina quale lettera rappresenta correttamente la posizione della frazione sulla linea numerata.



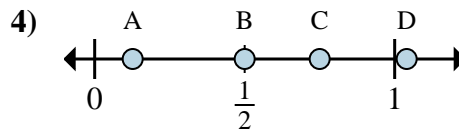
- 1a) Quale lettera rappresenta correttamente $\frac{2}{2}$?
 1b) Quale lettera rappresenta correttamente $\frac{1}{2}$?



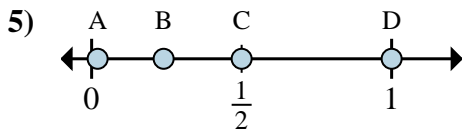
- 2a) Quale lettera rappresenta correttamente $\frac{0}{3}$?
 2b) Quale lettera rappresenta correttamente $\frac{1}{3}$?



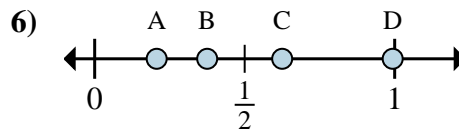
- 3a) Quale lettera rappresenta correttamente $\frac{4}{6}$?
 3b) Quale lettera rappresenta correttamente $\frac{2}{6}$?



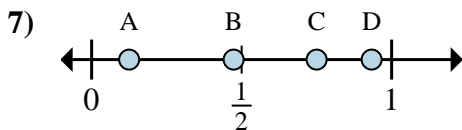
- 4a) Quale lettera rappresenta correttamente $\frac{2}{4}$?
 4b) Quale lettera rappresenta correttamente $\frac{3}{4}$?



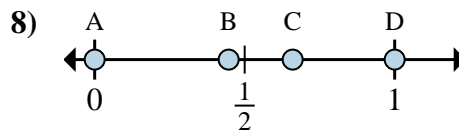
- 5a) Quale lettera rappresenta correttamente $\frac{3}{6}$?
 5b) Quale lettera rappresenta correttamente $\frac{6}{6}$?



- 6a) Quale lettera rappresenta correttamente $\frac{3}{8}$?
 6b) Quale lettera rappresenta correttamente $\frac{5}{8}$?



- 7a) Quale lettera rappresenta correttamente $\frac{6}{8}$?
 7b) Quale lettera rappresenta correttamente $\frac{1}{8}$?



- 8a) Quale lettera rappresenta correttamente $\frac{0}{8}$?
 8b) Quale lettera rappresenta correttamente $\frac{8}{8}$?

Risposte

1a. _____

1b. _____

2a. _____

2b. _____

3a. _____

3b. _____

4a. _____

4b. _____

5a. _____

5b. _____

6a. _____

6b. _____

7a. _____

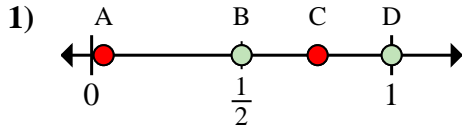
7b. _____

8a. _____

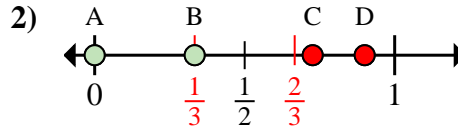
8b. _____



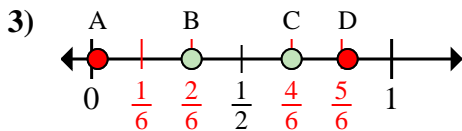
Determina quale lettera rappresenta correttamente la posizione della frazione sulla linea numerata.



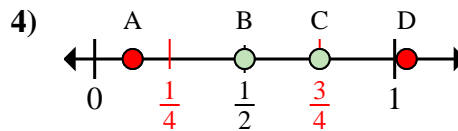
- 1a) Quale lettera rappresenta correttamente $\frac{2}{2}$?
- 1b) Quale lettera rappresenta correttamente $\frac{1}{2}$?



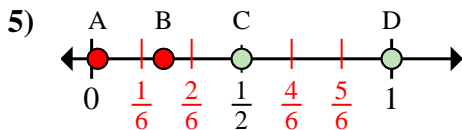
- 2a) Quale lettera rappresenta correttamente $\frac{0}{3}$?
- 2b) Quale lettera rappresenta correttamente $\frac{1}{3}$?



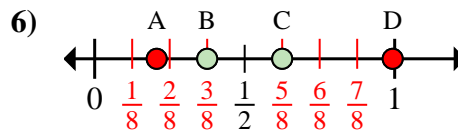
- 3a) Quale lettera rappresenta correttamente $\frac{4}{6}$?
- 3b) Quale lettera rappresenta correttamente $\frac{2}{6}$?



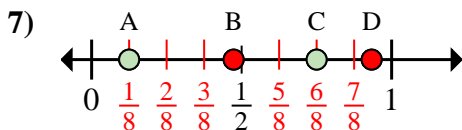
- 4a) Quale lettera rappresenta correttamente $\frac{2}{4}$?
- 4b) Quale lettera rappresenta correttamente $\frac{3}{4}$?



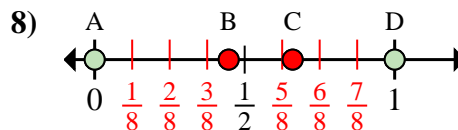
- 5a) Quale lettera rappresenta correttamente $\frac{3}{6}$?
- 5b) Quale lettera rappresenta correttamente $\frac{6}{6}$?



- 6a) Quale lettera rappresenta correttamente $\frac{3}{8}$?
- 6b) Quale lettera rappresenta correttamente $\frac{5}{8}$?



- 7a) Quale lettera rappresenta correttamente $\frac{6}{8}$?
- 7b) Quale lettera rappresenta correttamente $\frac{1}{8}$?



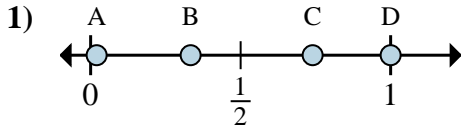
- 8a) Quale lettera rappresenta correttamente $\frac{0}{8}$?
- 8b) Quale lettera rappresenta correttamente $\frac{8}{8}$?

Risposte

- 1a. **D**
- 1b. **B**
- 2a. **A**
- 2b. **B**
- 3a. **C**
- 3b. **B**
- 4a. **B**
- 4b. **C**
- 5a. **C**
- 5b. **D**
- 6a. **B**
- 6b. **C**
- 7a. **C**
- 7b. **A**
- 8a. **A**
- 8b. **D**

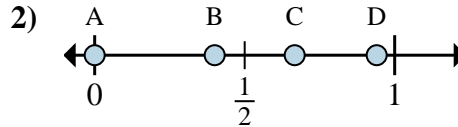


Determina quale lettera rappresenta correttamente la posizione della frazione sulla linea numerata.



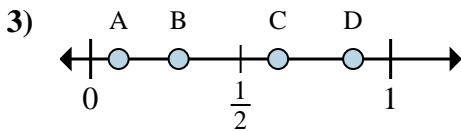
1a) Quale lettera rappresenta correttamente $\frac{3}{3}$?

1b) Quale lettera rappresenta correttamente $\frac{1}{3}$?



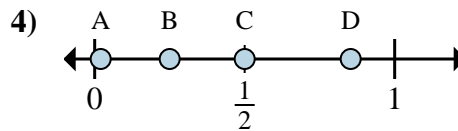
2a) Quale lettera rappresenta correttamente $\frac{0}{3}$?

2b) Quale lettera rappresenta correttamente $\frac{2}{3}$?



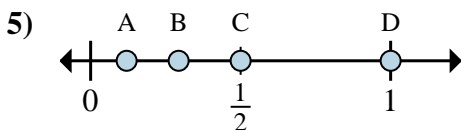
3a) Quale lettera rappresenta correttamente $\frac{5}{8}$?

3b) Quale lettera rappresenta correttamente $\frac{7}{8}$?



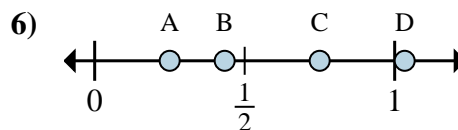
4a) Quale lettera rappresenta correttamente $\frac{2}{4}$?

4b) Quale lettera rappresenta correttamente $\frac{1}{4}$?



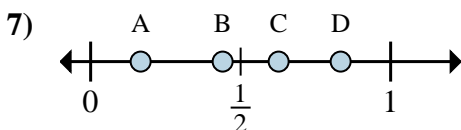
5a) Quale lettera rappresenta correttamente $\frac{1}{2}$?

5b) Quale lettera rappresenta correttamente $\frac{2}{2}$?



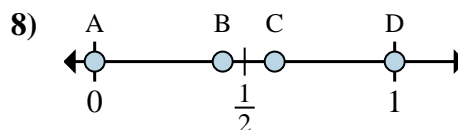
6a) Quale lettera rappresenta correttamente $\frac{6}{8}$?

6b) Quale lettera rappresenta correttamente $\frac{2}{8}$?



7a) Quale lettera rappresenta correttamente $\frac{5}{6}$?

7b) Quale lettera rappresenta correttamente $\frac{1}{6}$?



8a) Quale lettera rappresenta correttamente $\frac{0}{4}$?

8b) Quale lettera rappresenta correttamente $\frac{4}{4}$?

Risposte

1a. _____

1b. _____

2a. _____

2b. _____

3a. _____

3b. _____

4a. _____

4b. _____

5a. _____

5b. _____

6a. _____

6b. _____

7a. _____

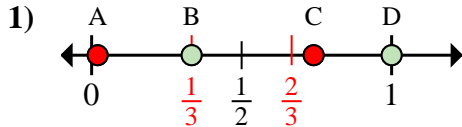
7b. _____

8a. _____

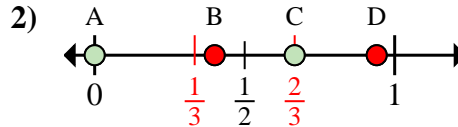
8b. _____



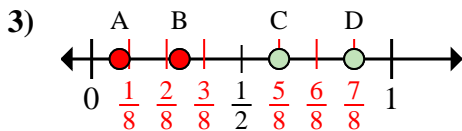
Determina quale lettera rappresenta correttamente la posizione della frazione sulla linea numerata.



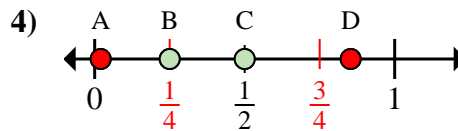
- 1a) Quale lettera rappresenta correttamente $\frac{3}{3}$?
- 1b) Quale lettera rappresenta correttamente $\frac{1}{3}$?



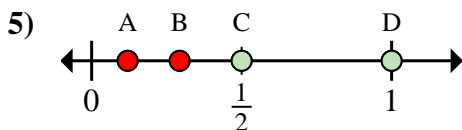
- 2a) Quale lettera rappresenta correttamente $\frac{0}{3}$?
- 2b) Quale lettera rappresenta correttamente $\frac{2}{3}$?



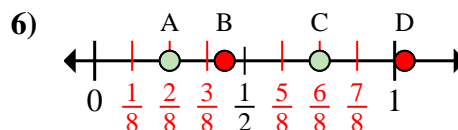
- 3a) Quale lettera rappresenta correttamente $\frac{5}{8}$?
- 3b) Quale lettera rappresenta correttamente $\frac{7}{8}$?



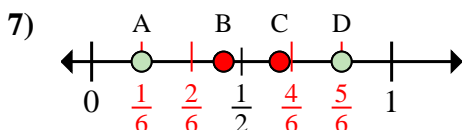
- 4a) Quale lettera rappresenta correttamente $\frac{2}{4}$?
- 4b) Quale lettera rappresenta correttamente $\frac{1}{4}$?



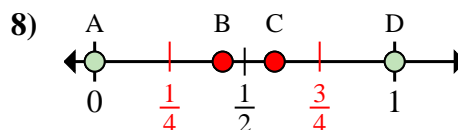
- 5a) Quale lettera rappresenta correttamente $\frac{1}{2}$?
- 5b) Quale lettera rappresenta correttamente $\frac{2}{2}$?



- 6a) Quale lettera rappresenta correttamente $\frac{6}{8}$?
- 6b) Quale lettera rappresenta correttamente $\frac{2}{8}$?



- 7a) Quale lettera rappresenta correttamente $\frac{5}{6}$?
- 7b) Quale lettera rappresenta correttamente $\frac{1}{6}$?



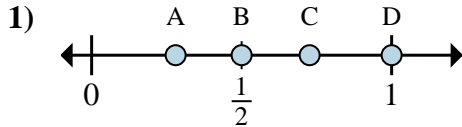
- 8a) Quale lettera rappresenta correttamente $\frac{0}{4}$?
- 8b) Quale lettera rappresenta correttamente $\frac{4}{4}$?

Risposte

- 1a. D
- 1b. B
- 2a. A
- 2b. C
- 3a. C
- 3b. D
- 4a. C
- 4b. B
- 5a. C
- 5b. D
- 6a. C
- 6b. A
- 7a. D
- 7b. A
- 8a. A
- 8b. D

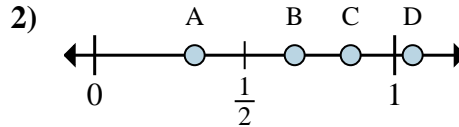


Determina quale lettera rappresenta correttamente la posizione della frazione sulla linea numerata.



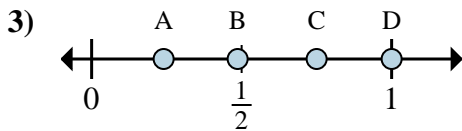
1a) Quale lettera rappresenta correttamente $\frac{2}{2}$?

1b) Quale lettera rappresenta correttamente $\frac{1}{2}$?



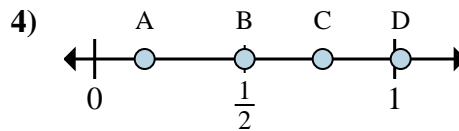
2a) Quale lettera rappresenta correttamente $\frac{2}{3}$?

2b) Quale lettera rappresenta correttamente $\frac{1}{3}$?



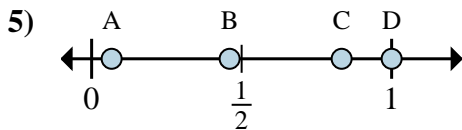
3a) Quale lettera rappresenta correttamente $\frac{4}{4}$?

3b) Quale lettera rappresenta correttamente $\frac{3}{4}$?



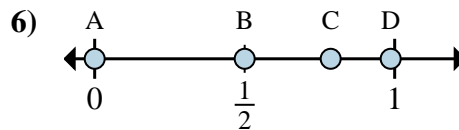
4a) Quale lettera rappresenta correttamente $\frac{3}{6}$?

4b) Quale lettera rappresenta correttamente $\frac{1}{6}$?



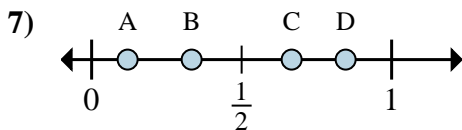
5a) Quale lettera rappresenta correttamente $\frac{5}{6}$?

5b) Quale lettera rappresenta correttamente $\frac{6}{6}$?



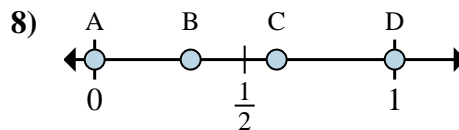
6a) Quale lettera rappresenta correttamente $\frac{0}{4}$?

6b) Quale lettera rappresenta correttamente $\frac{2}{4}$?



7a) Quale lettera rappresenta correttamente $\frac{2}{6}$?

7b) Quale lettera rappresenta correttamente $\frac{4}{6}$?



8a) Quale lettera rappresenta correttamente $\frac{0}{3}$?

8b) Quale lettera rappresenta correttamente $\frac{3}{3}$?

Risposte

1a. _____

1b. _____

2a. _____

2b. _____

3a. _____

3b. _____

4a. _____

4b. _____

5a. _____

5b. _____

6a. _____

6b. _____

7a. _____

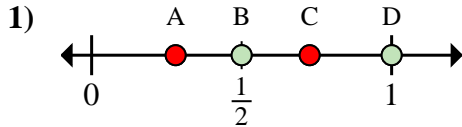
7b. _____

8a. _____

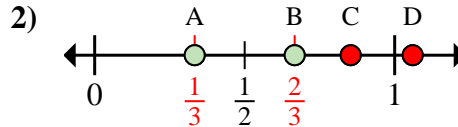
8b. _____



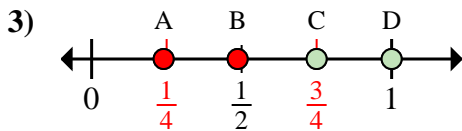
Determina quale lettera rappresenta correttamente la posizione della frazione sulla linea numerata.



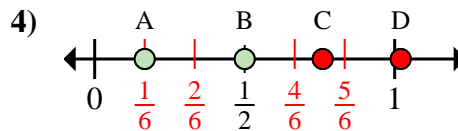
- 1a) Quale lettera rappresenta correttamente $\frac{2}{2}$?
 1b) Quale lettera rappresenta correttamente $\frac{1}{2}$?



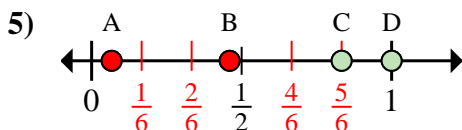
- 2a) Quale lettera rappresenta correttamente $\frac{2}{3}$?
 2b) Quale lettera rappresenta correttamente $\frac{1}{3}$?



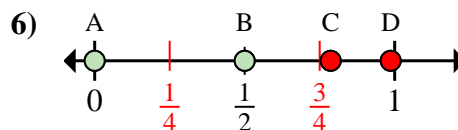
- 3a) Quale lettera rappresenta correttamente $\frac{4}{4}$?
 3b) Quale lettera rappresenta correttamente $\frac{3}{4}$?



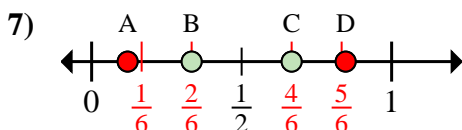
- 4a) Quale lettera rappresenta correttamente $\frac{3}{6}$?
 4b) Quale lettera rappresenta correttamente $\frac{1}{6}$?



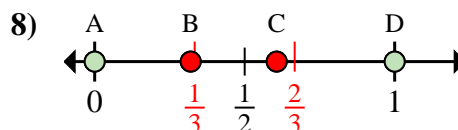
- 5a) Quale lettera rappresenta correttamente $\frac{5}{6}$?
 5b) Quale lettera rappresenta correttamente $\frac{6}{6}$?



- 6a) Quale lettera rappresenta correttamente $\frac{0}{4}$?
 6b) Quale lettera rappresenta correttamente $\frac{2}{4}$?



- 7a) Quale lettera rappresenta correttamente $\frac{2}{6}$?
 7b) Quale lettera rappresenta correttamente $\frac{4}{6}$?



- 8a) Quale lettera rappresenta correttamente $\frac{0}{3}$?
 8b) Quale lettera rappresenta correttamente $\frac{3}{3}$?

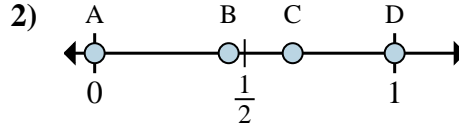
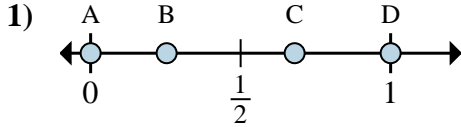
Risposte

- 1a. **D**
 1b. **B**
 2a. **B**
 2b. **A**
 3a. **D**
 3b. **C**
 4a. **B**
 4b. **A**
 5a. **C**
 5b. **D**
 6a. **A**
 6b. **B**
 7a. **B**
 7b. **C**
 8a. **A**
 8b. **D**



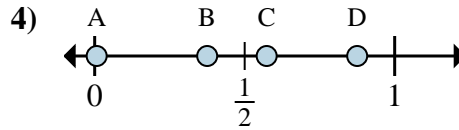
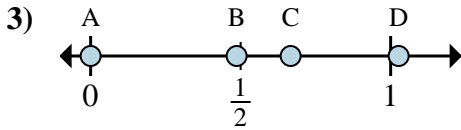
Determina quale lettera rappresenta correttamente la posizione della frazione sulla linea numerata.

Risposte



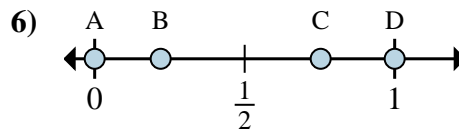
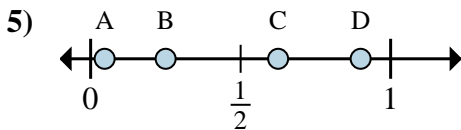
- 1a) Quale lettera rappresenta correttamente $\frac{0}{2}$?
- 1b) Quale lettera rappresenta correttamente $\frac{2}{2}$?

- 2a) Quale lettera rappresenta correttamente $\frac{0}{6}$?
- 2b) Quale lettera rappresenta correttamente $\frac{6}{6}$?



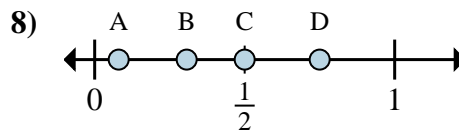
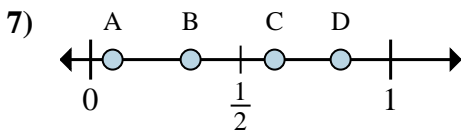
- 3a) Quale lettera rappresenta correttamente $\frac{0}{3}$?
- 3b) Quale lettera rappresenta correttamente $\frac{2}{3}$?

- 4a) Quale lettera rappresenta correttamente $\frac{3}{8}$?
- 4b) Quale lettera rappresenta correttamente $\frac{7}{8}$?



- 5a) Quale lettera rappresenta correttamente $\frac{5}{8}$?
- 5b) Quale lettera rappresenta correttamente $\frac{2}{8}$?

- 6a) Quale lettera rappresenta correttamente $\frac{0}{4}$?
- 6b) Quale lettera rappresenta correttamente $\frac{4}{4}$?



- 7a) Quale lettera rappresenta correttamente $\frac{5}{6}$?
- 7b) Quale lettera rappresenta correttamente $\frac{2}{6}$?

- 8a) Quale lettera rappresenta correttamente $\frac{4}{8}$?
- 8b) Quale lettera rappresenta correttamente $\frac{6}{8}$?

1a. _____

1b. _____

2a. _____

2b. _____

3a. _____

3b. _____

4a. _____

4b. _____

5a. _____

5b. _____

6a. _____

6b. _____

7a. _____

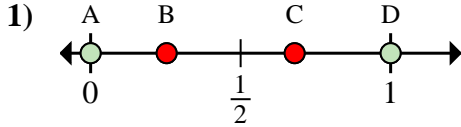
7b. _____

8a. _____

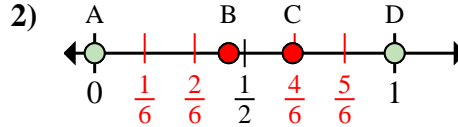
8b. _____



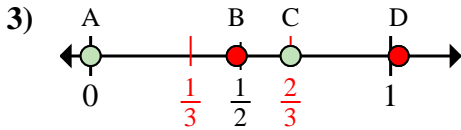
Determina quale lettera rappresenta correttamente la posizione della frazione sulla linea numerata.



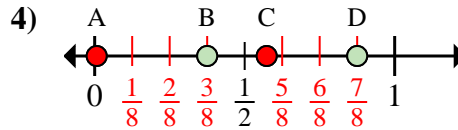
- 1a) Quale lettera rappresenta correttamente $\frac{0}{2}$?
 1b) Quale lettera rappresenta correttamente $\frac{2}{2}$?



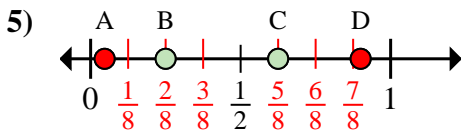
- 2a) Quale lettera rappresenta correttamente $\frac{0}{6}$?
 2b) Quale lettera rappresenta correttamente $\frac{6}{6}$?



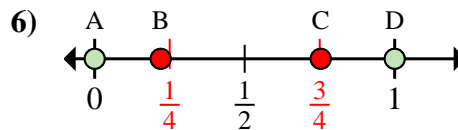
- 3a) Quale lettera rappresenta correttamente $\frac{0}{3}$?
 3b) Quale lettera rappresenta correttamente $\frac{2}{3}$?



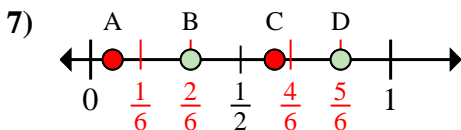
- 4a) Quale lettera rappresenta correttamente $\frac{3}{8}$?
 4b) Quale lettera rappresenta correttamente $\frac{7}{8}$?



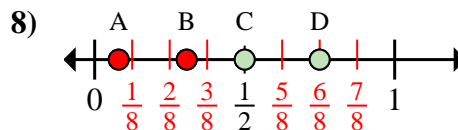
- 5a) Quale lettera rappresenta correttamente $\frac{5}{8}$?
 5b) Quale lettera rappresenta correttamente $\frac{2}{8}$?



- 6a) Quale lettera rappresenta correttamente $\frac{0}{4}$?
 6b) Quale lettera rappresenta correttamente $\frac{4}{4}$?



- 7a) Quale lettera rappresenta correttamente $\frac{5}{6}$?
 7b) Quale lettera rappresenta correttamente $\frac{2}{6}$?



- 8a) Quale lettera rappresenta correttamente $\frac{4}{8}$?
 8b) Quale lettera rappresenta correttamente $\frac{6}{8}$?

Risposte

1a. **A**

1b. **D**

2a. **A**

2b. **D**

3a. **A**

3b. **C**

4a. **B**

4b. **D**

5a. **C**

5b. **B**

6a. **A**

6b. **D**

7a. **D**

7b. **B**

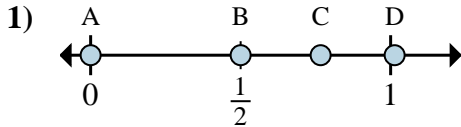
8a. **C**

8b. **D**

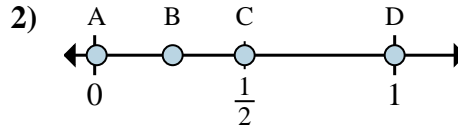


Determina quale lettera rappresenta correttamente la posizione della frazione sulla linea numerata.

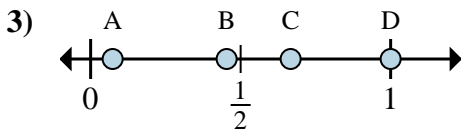
Risposte



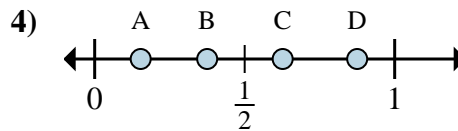
- 1a) Quale lettera rappresenta correttamente $\frac{0}{6}$?
 1b) Quale lettera rappresenta correttamente $\frac{3}{6}$?



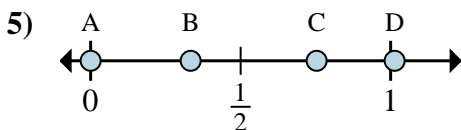
- 2a) Quale lettera rappresenta correttamente $\frac{1}{2}$?
 2b) Quale lettera rappresenta correttamente $\frac{2}{2}$?



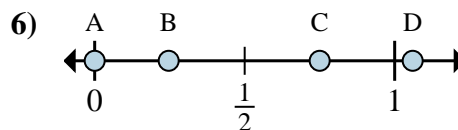
- 3a) Quale lettera rappresenta correttamente $\frac{2}{3}$?
 3b) Quale lettera rappresenta correttamente $\frac{3}{3}$?



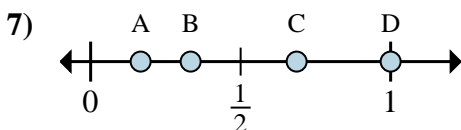
- 4a) Quale lettera rappresenta correttamente $\frac{3}{8}$?
 4b) Quale lettera rappresenta correttamente $\frac{7}{8}$?



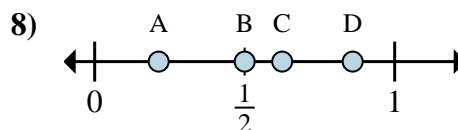
- 5a) Quale lettera rappresenta correttamente $\frac{0}{3}$?
 5b) Quale lettera rappresenta correttamente $\frac{1}{3}$?



- 6a) Quale lettera rappresenta correttamente $\frac{0}{4}$?
 6b) Quale lettera rappresenta correttamente $\frac{3}{4}$?



- 7a) Quale lettera rappresenta correttamente $\frac{1}{6}$?
 7b) Quale lettera rappresenta correttamente $\frac{2}{6}$?

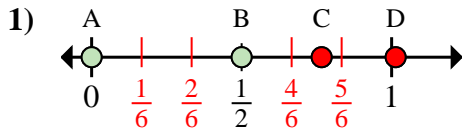


- 8a) Quale lettera rappresenta correttamente $\frac{5}{8}$?
 8b) Quale lettera rappresenta correttamente $\frac{4}{8}$?

- 1a. _____
 1b. _____
 2a. _____
 2b. _____
 3a. _____
 3b. _____
 4a. _____
 4b. _____
 5a. _____
 5b. _____
 6a. _____
 6b. _____
 7a. _____
 7b. _____
 8a. _____
 8b. _____

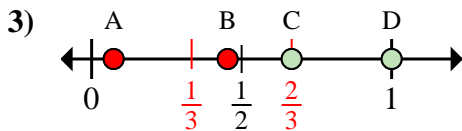


Determina quale lettera rappresenta correttamente la posizione della frazione sulla linea numerata.



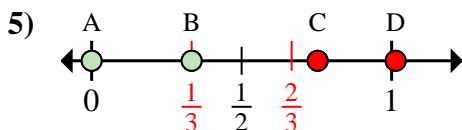
1a) Quale lettera rappresenta correttamente $\frac{0}{6}$?

1b) Quale lettera rappresenta correttamente $\frac{3}{6}$?



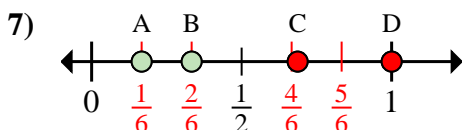
3a) Quale lettera rappresenta correttamente $\frac{2}{3}$?

3b) Quale lettera rappresenta correttamente $\frac{3}{3}$?



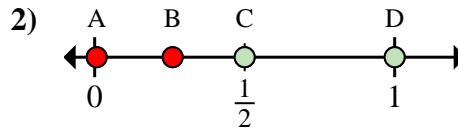
5a) Quale lettera rappresenta correttamente $\frac{0}{3}$?

5b) Quale lettera rappresenta correttamente $\frac{1}{3}$?



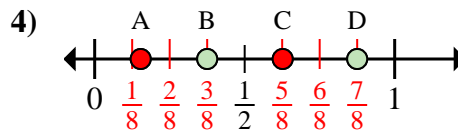
7a) Quale lettera rappresenta correttamente $\frac{1}{6}$?

7b) Quale lettera rappresenta correttamente $\frac{2}{6}$?



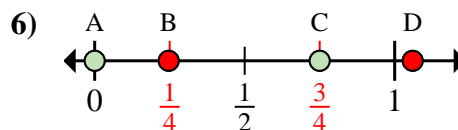
2a) Quale lettera rappresenta correttamente $\frac{1}{2}$?

2b) Quale lettera rappresenta correttamente $\frac{2}{2}$?



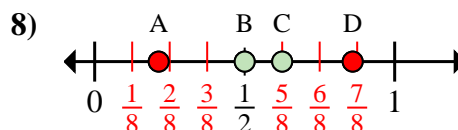
4a) Quale lettera rappresenta correttamente $\frac{3}{8}$?

4b) Quale lettera rappresenta correttamente $\frac{7}{8}$?



6a) Quale lettera rappresenta correttamente $\frac{0}{4}$?

6b) Quale lettera rappresenta correttamente $\frac{3}{4}$?



8a) Quale lettera rappresenta correttamente $\frac{5}{8}$?

8b) Quale lettera rappresenta correttamente $\frac{4}{8}$?

Risposte

1a. **A**

1b. **B**

2a. **C**

2b. **D**

3a. **C**

3b. **D**

4a. **B**

4b. **D**

5a. **A**

5b. **B**

6a. **A**

6b. **C**

7a. **A**

7b. **B**

8a. **C**

8b. **B**