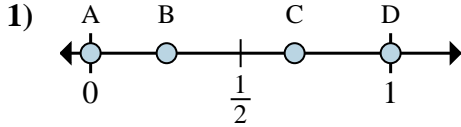
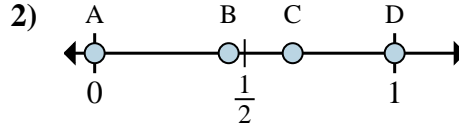




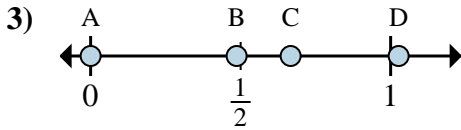
Determina quale lettera rappresenta correttamente la posizione della frazione sulla linea numerata.



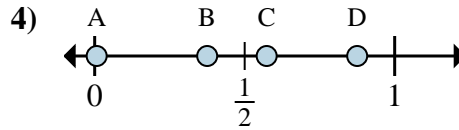
- 1a) Quale lettera rappresenta correttamente $\frac{0}{2}$?
 1b) Quale lettera rappresenta correttamente $\frac{2}{2}$?



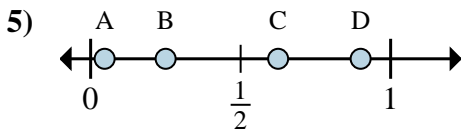
- 2a) Quale lettera rappresenta correttamente $\frac{0}{6}$?
 2b) Quale lettera rappresenta correttamente $\frac{6}{6}$?



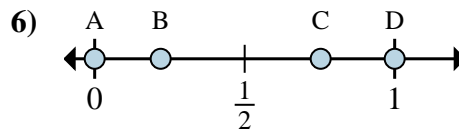
- 3a) Quale lettera rappresenta correttamente $\frac{0}{3}$?
 3b) Quale lettera rappresenta correttamente $\frac{2}{3}$?



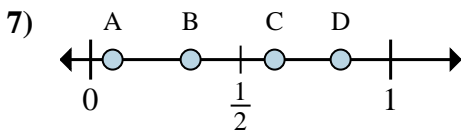
- 4a) Quale lettera rappresenta correttamente $\frac{3}{8}$?
 4b) Quale lettera rappresenta correttamente $\frac{7}{8}$?



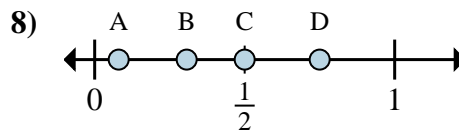
- 5a) Quale lettera rappresenta correttamente $\frac{5}{8}$?
 5b) Quale lettera rappresenta correttamente $\frac{2}{8}$?



- 6a) Quale lettera rappresenta correttamente $\frac{0}{4}$?
 6b) Quale lettera rappresenta correttamente $\frac{4}{4}$?



- 7a) Quale lettera rappresenta correttamente $\frac{5}{6}$?
 7b) Quale lettera rappresenta correttamente $\frac{2}{6}$?



- 8a) Quale lettera rappresenta correttamente $\frac{4}{8}$?
 8b) Quale lettera rappresenta correttamente $\frac{6}{8}$?

Risposte

1a. _____

1b. _____

2a. _____

2b. _____

3a. _____

3b. _____

4a. _____

4b. _____

5a. _____

5b. _____

6a. _____

6b. _____

7a. _____

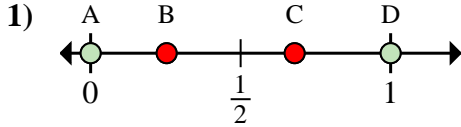
7b. _____

8a. _____

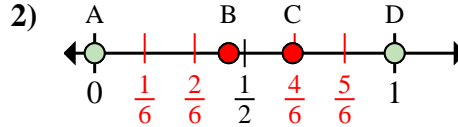
8b. _____



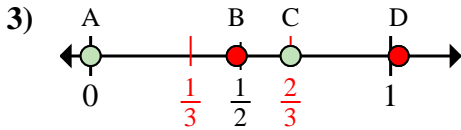
Determina quale lettera rappresenta correttamente la posizione della frazione sulla linea numerata.



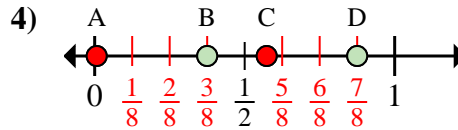
- 1a) Quale lettera rappresenta correttamente $\frac{0}{2}$?
 1b) Quale lettera rappresenta correttamente $\frac{2}{2}$?



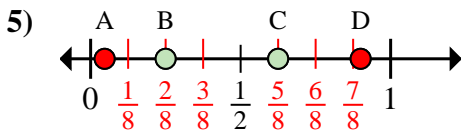
- 2a) Quale lettera rappresenta correttamente $\frac{0}{6}$?
 2b) Quale lettera rappresenta correttamente $\frac{6}{6}$?



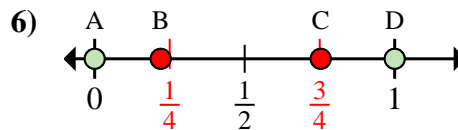
- 3a) Quale lettera rappresenta correttamente $\frac{0}{3}$?
 3b) Quale lettera rappresenta correttamente $\frac{2}{3}$?



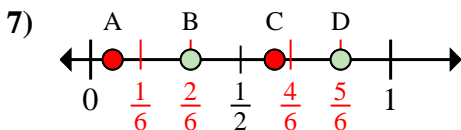
- 4a) Quale lettera rappresenta correttamente $\frac{3}{8}$?
 4b) Quale lettera rappresenta correttamente $\frac{7}{8}$?



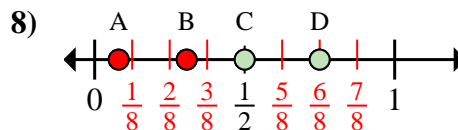
- 5a) Quale lettera rappresenta correttamente $\frac{5}{8}$?
 5b) Quale lettera rappresenta correttamente $\frac{2}{8}$?



- 6a) Quale lettera rappresenta correttamente $\frac{0}{4}$?
 6b) Quale lettera rappresenta correttamente $\frac{4}{4}$?



- 7a) Quale lettera rappresenta correttamente $\frac{5}{6}$?
 7b) Quale lettera rappresenta correttamente $\frac{2}{6}$?



- 8a) Quale lettera rappresenta correttamente $\frac{4}{8}$?
 8b) Quale lettera rappresenta correttamente $\frac{6}{8}$?

Risposte

1a. **A**

1b. **D**

2a. **A**

2b. **D**

3a. **A**

3b. **C**

4a. **B**

4b. **D**

5a. **C**

5b. **B**

6a. **A**

6b. **D**

7a. **D**

7b. **B**

8a. **C**

8b. **D**