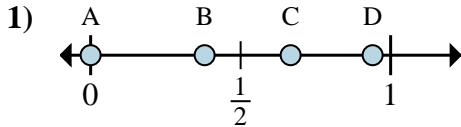
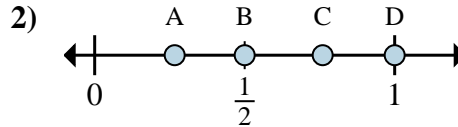




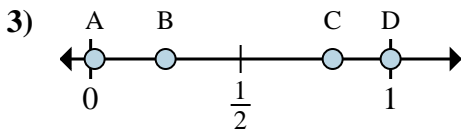
**Determina quale lettera rappresenta correttamente la posizione della frazione sulla linea numerata.**



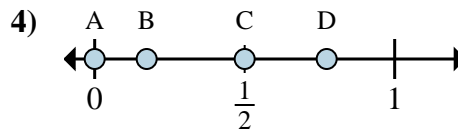
- 1a) Quale lettera rappresenta correttamente  $\frac{0}{3}$ ?  
 1b) Quale lettera rappresenta correttamente  $\frac{2}{3}$ ?



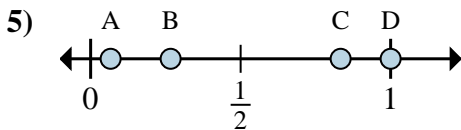
- 2a) Quale lettera rappresenta correttamente  $\frac{4}{4}$ ?  
 2b) Quale lettera rappresenta correttamente  $\frac{2}{4}$ ?



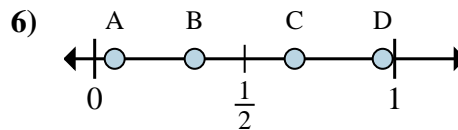
- 3a) Quale lettera rappresenta correttamente  $\frac{2}{8}$ ?  
 3b) Quale lettera rappresenta correttamente  $\frac{8}{8}$ ?



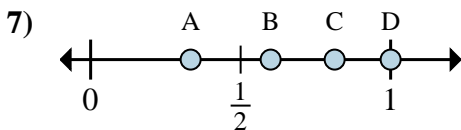
- 4a) Quale lettera rappresenta correttamente  $\frac{0}{2}$ ?  
 4b) Quale lettera rappresenta correttamente  $\frac{1}{2}$ ?



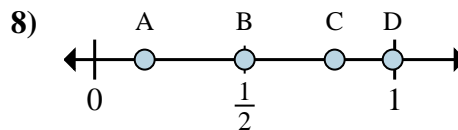
- 5a) Quale lettera rappresenta correttamente  $\frac{5}{6}$ ?  
 5b) Quale lettera rappresenta correttamente  $\frac{6}{6}$ ?



- 6a) Quale lettera rappresenta correttamente  $\frac{4}{6}$ ?  
 6b) Quale lettera rappresenta correttamente  $\frac{2}{6}$ ?



- 7a) Quale lettera rappresenta correttamente  $\frac{1}{3}$ ?  
 7b) Quale lettera rappresenta correttamente  $\frac{3}{3}$ ?



- 8a) Quale lettera rappresenta correttamente  $\frac{1}{6}$ ?  
 8b) Quale lettera rappresenta correttamente  $\frac{3}{6}$ ?

**Risposte**

1a. \_\_\_\_\_

1b. \_\_\_\_\_

2a. \_\_\_\_\_

2b. \_\_\_\_\_

3a. \_\_\_\_\_

3b. \_\_\_\_\_

4a. \_\_\_\_\_

4b. \_\_\_\_\_

5a. \_\_\_\_\_

5b. \_\_\_\_\_

6a. \_\_\_\_\_

6b. \_\_\_\_\_

7a. \_\_\_\_\_

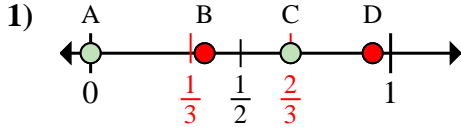
7b. \_\_\_\_\_

8a. \_\_\_\_\_

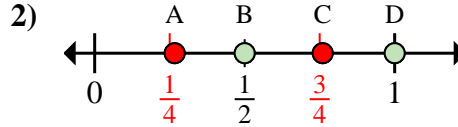
8b. \_\_\_\_\_



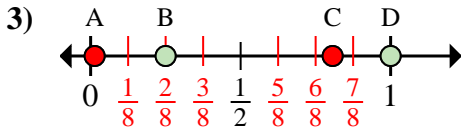
**Determina quale lettera rappresenta correttamente la posizione della frazione sulla linea numerata.**



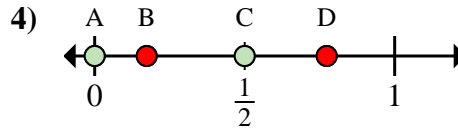
- 1a) Quale lettera rappresenta correttamente  $\frac{0}{3}$ ?  
 1b) Quale lettera rappresenta correttamente  $\frac{2}{3}$ ?



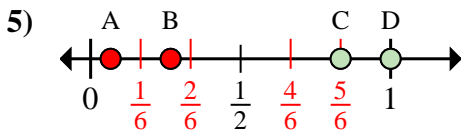
- 2a) Quale lettera rappresenta correttamente  $\frac{4}{4}$ ?  
 2b) Quale lettera rappresenta correttamente  $\frac{2}{4}$ ?



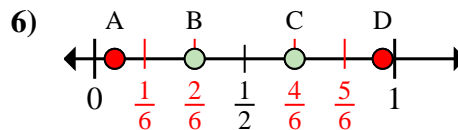
- 3a) Quale lettera rappresenta correttamente  $\frac{2}{8}$ ?  
 3b) Quale lettera rappresenta correttamente  $\frac{8}{8}$ ?



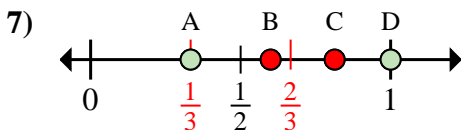
- 4a) Quale lettera rappresenta correttamente  $\frac{0}{2}$ ?  
 4b) Quale lettera rappresenta correttamente  $\frac{1}{2}$ ?



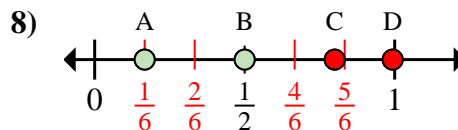
- 5a) Quale lettera rappresenta correttamente  $\frac{5}{6}$ ?  
 5b) Quale lettera rappresenta correttamente  $\frac{6}{6}$ ?



- 6a) Quale lettera rappresenta correttamente  $\frac{4}{6}$ ?  
 6b) Quale lettera rappresenta correttamente  $\frac{2}{6}$ ?



- 7a) Quale lettera rappresenta correttamente  $\frac{1}{3}$ ?  
 7b) Quale lettera rappresenta correttamente  $\frac{3}{3}$ ?



- 8a) Quale lettera rappresenta correttamente  $\frac{1}{6}$ ?  
 8b) Quale lettera rappresenta correttamente  $\frac{3}{6}$ ?

**Risposte**

1a. **A**

1b. **C**

2a. **D**

2b. **B**

3a. **B**

3b. **D**

4a. **A**

4b. **C**

5a. **C**

5b. **D**

6a. **C**

6b. **B**

7a. **A**

7b. **D**

8a. **A**

8b. **B**